

1 日本の歴史の中で建てられた図1から図7までの寺院・神社・城の図を見て、後の各問に答えなさい。ただし、図は時代順に並んではいないので注意すること。

図1



図2



図3




図4




図5




図6



図7



問1 図1を建てた天皇は、仏教の力で社会の不安をしずめ、国を治めようと願い、ばく大な費用をかけて国ごとに寺を建てることを命じました。この天皇がつくるよう命じたこのような寺を何といいますか。漢字で書きなさい。

問2 図2が建てられた時代の文化の説明として最もふさわしいものを、次のアからエの中から一つ選び、その記号を書きなさい。

- ア おもに京都や大阪などで、民衆中心の新しい文化が発達し、歌舞伎は何人も名優が出て演劇として確立しました。町人の生活を題材にした浮世絵も生まれました。
- イ 民衆の地位の向上は、民衆が楽しむ文化を生みました。日本の伝統的芸能の能は、このころ大成されました。お茶を飲む風習が広まっていき、茶室が作られるようになりました。
- ウ 武士や民衆の力がのび、武士の活やくをえがいた軍記物や絵巻物などもつくり、彫刻は力強い作品が作られました。素朴で力強い感じをあたえる文化が生まれました。
- エ かな文字を用いた小説や和歌が作られました。貴族の生活ぶりなどをえがいた大和絵など、美しくはなやかな日本風の文化が生まれました。

問3 図3が建てられた時代、堺などの港町は、南蛮貿易で栄えました。この貿易の相手国として正しいものを次のアからエの中から一つ選び、その記号を書きなさい。

- ア フランスとイタリア
- イ オランダとイギリス
- ウ スペインとポルトガル
- エ ロシアとアメリカ

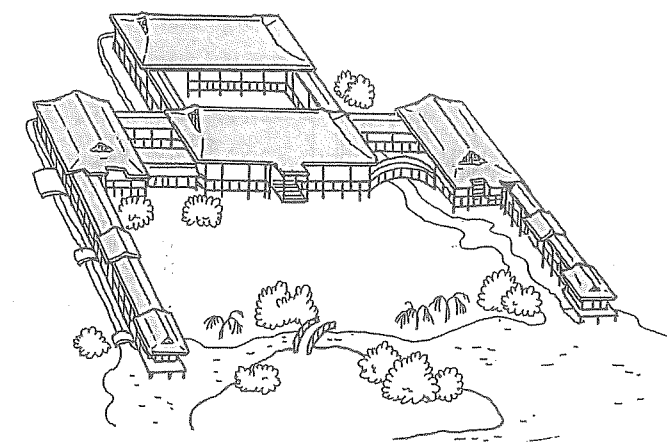
問4 図4を建てた人物と協力して天皇中心の新しい国づくりに取り組んだ豪族は何氏ですか。答案用紙の解答らんには合う形で書きなさい。

問5 図5が建てられた時代の説明として最もふさわしいものを、次のアからエの中から一つ選び、その記号を書きなさい。

- ア 武士の平氏が政治を行うようになり、やがて平氏一族はいずれも朝廷で高い位につき、強い力を持つようになりました。
- イ 豪族が支配していた土地や人々は国のものとなり、有力な豪族が貴族として政治に参加するしくみが作られました。
- ウ 戦国大名とよばれる各地の武將が、自分の支配する土地に戦いに備えた城をつくり、おたがいに勢力を争う戦国の世となりました。
- エ 武士と百姓・町人という身分が区別され、武士と町人は城下町に住むようになり、武士が世の中を支配するしくみが整えられました。

問6 図6が建てられた時代、貴族は大きなやしきでくらししていました。図8のようなつくりの貴族のやしきのことを何といいますか。書きなさい。

図8



問7 図7が建てられた時代、幕府は生活の心得を出して百姓を支配していました。この百姓の生活の心得の内容にあてはまらないものを、次のアからエの中から一つ選び、その記号を書きなさい。

- ア 麻と木綿のほかを着てはいけない。
- イ 麦や粟、ひえ、大根などをつくり、米は多く食べないようにしなさい。
- ウ 刀、やり、鉄砲などの武器をもつてはいけない。
- エ 酒や茶を買って飲んではいけない。

問8 図1から図7を、建てられた時期の古い順に並べました。2番目と5番目にくる図の番号を書きなさい。

2 昨年(こぞ)の7月27日から8月12日までの間、第30回「ロンドン」オリンピック競技大会が開さいされました。下の年表は「近代オリンピック(夏季のみ)と明治以降の日本の歴史」をテーマにした年表です。これについて、後の各問に答えなさい。

年号	回数	開さい都市(開さい国)	おもなできごと
1904年	第3回	セントルイス(アメリカ)	中国東北部(満州)に勢力をのぼそうとしていた(①)は、満州に軍隊を送り、朝鮮(韓国)にも勢力をのぼし、日本との対立が深まり、戦争となった。
1940年	第12回	東京(日本) ↓ ヘルシンキ(フィンランド)	日中戦争の影響により、東京からヘルシンキへ開さい都市をまこうしたが、オリンピック競技大会は開さいできなかった。日本は、ヨーロッパの(②)、イタリアと軍事同盟を結んだ。
1944年	第13回	ロンドン(イギリス)	オリンピック競技大会の開さいが中止された。
1952年	第15回	ヘルシンキ(フィンランド)	日本が16年ぶりにオリンピック競技大会に復帰した。
1964年	第18回	東京(日本)	日本がアジア初のオリンピック競技大会の開さい国となった。東海道新幹線が開通した。
1972年	第20回	ミュンヘン(西ドイツ)	アメリカに占領されていた(③)が日本に返還された。

問1 年表中の①から③にあてはまる国名や地域名をそれぞれ書きなさい。

問2 第15回オリンピック競技大会が開さいされた年と最も近い年に起きたできごとを、次のアからエの中から一つ選び、その記号を書きなさい。

- ア 日本国憲法が公布される
イ 日本とソ連の国交が回復する
ウ 日本が国際連合に加盟する
エ サンフランシスコ平和条約が結ばれる

3 次の各問に答えなさい。

問1 A市は、東京都に属する市町村の一つです。このA市に関する次の各問に答えなさい。

(1) A市が住民のための仕事を行うため、市として設置できないものを、次のアからエの中から一つ選び、その記号を書きなさい。

- ア 小学校 イ 裁判所 ウ 保健所 エ 消防署

(2) A市が行う仕事を決めるためには、市議会で話し合って決める必要があります。市議会について述べたこととしてふさわしくないものを、次のアからエの中から一つ選び、その記号を書きなさい。

- ア 市議会議員は、その市の住民の中からその市の住民による選挙で選出される。
イ 市議会では、仕事の内容を決めるだけでなく、必要なお金を予算として決める。
ウ 市で行う仕事は法律に違反するとき、市議会はその仕事を行うための条例を新しく制定できる。
エ 市議会では、市の仕事が正しく行われているかを確認するために、その仕事の状況を聞く。

(3) 図1は、昨年A市で行われたある選挙の投票用紙です。図2は、日本の第1回衆議院議員選挙で使用された投票用紙です(表記を現代のものに直し、ふりがなをつけた)。図3は、その第1回衆議院議員選挙での投票の様子をかいたものです。現在の選挙の投票では、図2や図3のころの選挙とちがって、どのようなことが保障されているといえますか。図1と図2を比かくして読み取れることや、図3でかかれているようすを参考にしながら説明しなさい。

図1

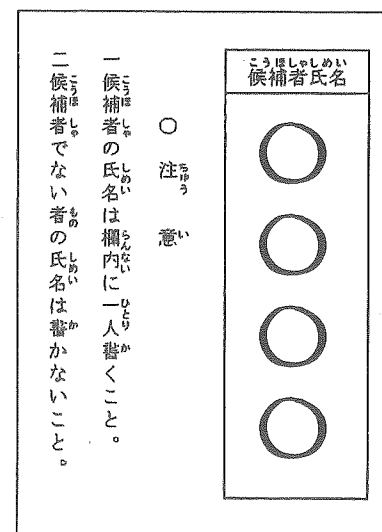


図2

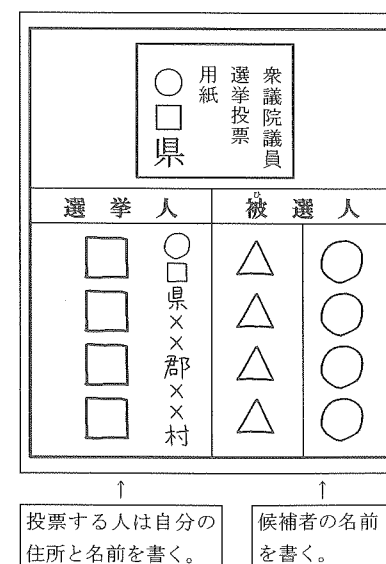


図3



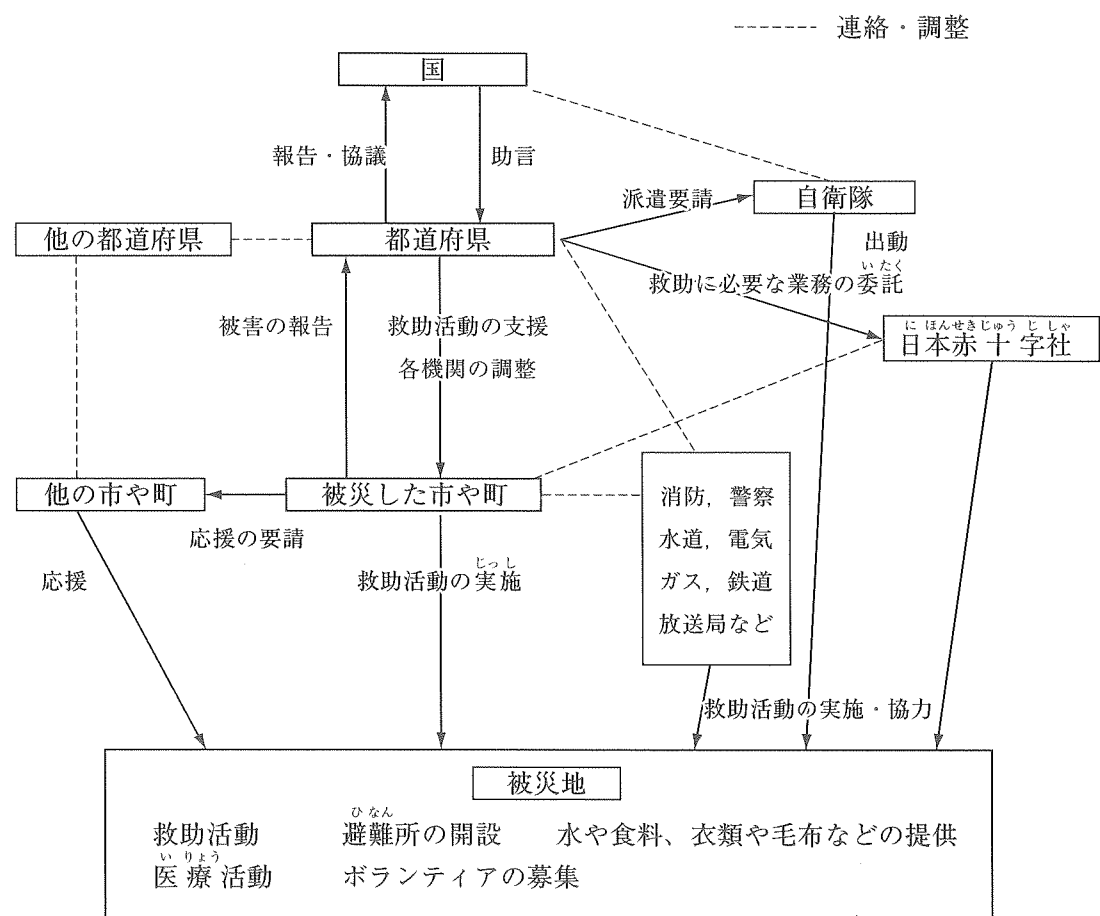
↑
投票する人は自分の住所と名前を書く。

↑
候補者の名前を書く。

(4) 図4を見ながら、A市の中で災害が起きた場合の取り組みとして正しくないものを、次のアからエの中から一つ選び、その記号を書きなさい。

- ア 災害で被害が出たA市は、その被害状況を東京都に報告する。
- イ 被災したA市だけでは対応しきれないとき、東京都や国も協力する。
- ウ 東京都は、国の助言も受けながら、A市への救助活動の支援に関する指示を各機関に出す。
- エ 国は、A市の被害状況を確認後、必要なら自衛隊への派遣要請を出す。

図4 災害が起きたときの政治の働き



(「災害救助法」「災害対策基本法」などより作成)

問2 国連(国際連合)は、世界の平和と安全を守り、人々の暮らしをよりよいものにするために、1945年につくられた国際組織です。国連に関する次の各問に答えなさい。

(1) 現在、国連に加盟している国の数に最も近いものを、次のアからエの中から一つ選び、その記号を書きなさい。

- ア 150 イ 200 ウ 250 エ 300

(2) 昨年の6月、ブラジルのリオデジャネイロで「国連持続可能な開発会議(リオ+20)」が開かれた。この国際会議では、「各国の政府や国連から独立して活動している民間団体」も数多く参加した。このような民間団体をアルファベットで何というか。次のアからエの中から一つ選び、その記号を書きなさい。

- ア ODA イ NPO ウ TPP エ NGO

(3) 太平洋にあるマーシャル諸島共和国に属するビキニ環礁は、2010年に国連教育科学文化機関(ユネスコ)によって「世界遺産」に登録された。ビキニ環礁は、一般的に「負の世界遺産」ともいわれる。「負の遺産」とは、人類が起こした悲惨なできごとを象徴する世界遺産に対して使われることが多い。日本にある世界遺産の中で、同じように「負の世界遺産」といわれる建造物の名前を書きなさい。

問3 下に示した表1から表6の各資料から読み取れることとして正しくないものを、次のアからエの中から一つ選び、その記号を書きなさい。

- ア 日本は、60歳以上の人口が世界で一番多い。
- イ 日本からの国際電話の発信時間の総合計が一番多い国は、日本における外国人登録者数が一番多い国である。
- ウ 日本からの輸出額の約2割を占めている相手国は中国である。
- エ 日本は、原油輸入全体の約30%をサウジアラビアから輸入している。

表1 日本における国籍別外国人登録人員の割合(2008年末現在)

国名	(%)
中国	29.6
韓国・朝鮮	26.6
ブラジル	14.1
フィリピン	9.5
ペルー	2.7
アメリカ合衆国	2.4
その他	15.1

表2 おもな国の人口、および全人口における60歳以上の人口の割合(2010年)

国名	人口(万人)	全人口における60歳以上の人口の割合(%)
日本	12,806	30
ドイツ	8,206	26
オーストラリア	2,151	19
アメリカ合衆国	31,764	18
韓国	4,850	16
中国	135,414	12
ブラジル	19,542	10

表3 日本の貿易(2010年)

貿易相手国	輸出額(億円)	輸入額(億円)
中国	130,856	134,130
アメリカ合衆国	103,740	59,114
韓国	54,602	25,040
オーストラリア	13,919	39,482
タイ	29,937	18,400
総額	673,996	607,650

表4 日本の主要輸入品(2010年)

品目	(億円)
機械類	129,268
原油	94,059
液化ガス	42,515
衣類	23,283
石炭	21,107
医薬品	15,226
魚かい類	12,602
総額	607,650

表5 サウジアラビアから日本への輸入品(2010年)

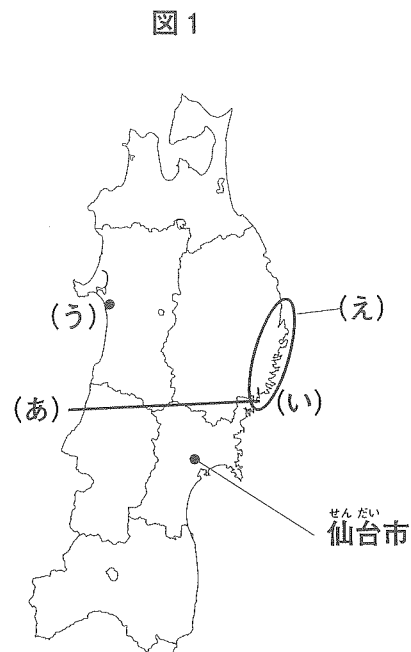
品目	(億円)
原油	28,510
液化石油ガス	1,324
石油製品	1,202
有機化合物	282
金属くず	74
プラスチック	69
総額	31,494

表6 日本からの国際電話の発信時間の総合計の国別割合(2008年度)

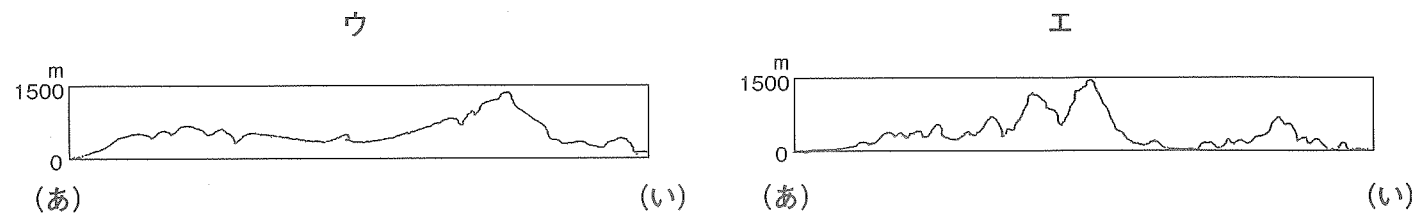
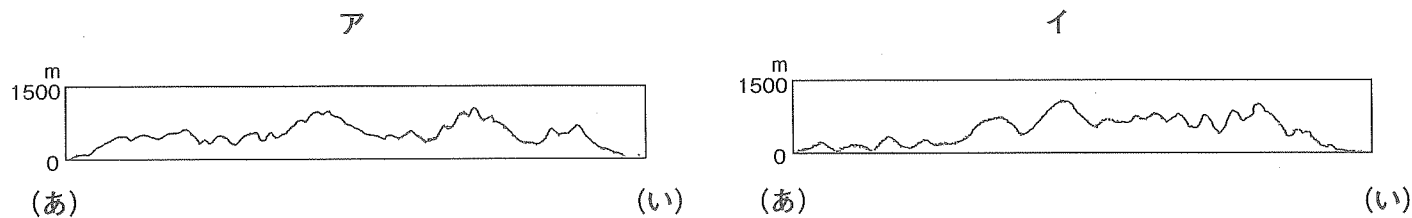
国名	(%)
中国	22.2
フィリピン	18.0
アメリカ合衆国	13.7
韓国	6.2
ブラジル	4.1
タイ	3.3
その他	32.5

(『日本国勢図会』、『朝日ジュニア学習年鑑』などより作成)

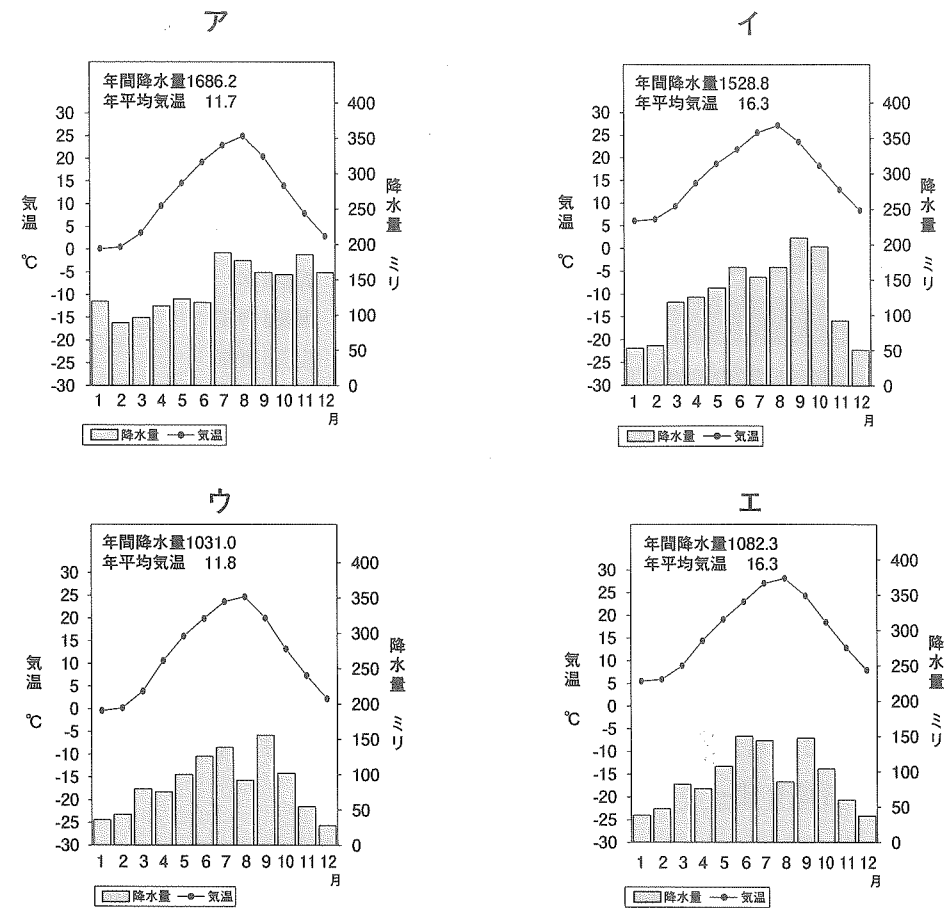
4 図1は東北地方を示しています。これについて後の各問に答えなさい。



問1 図1の線(あ)——(い)で示す断面図として最もふさわしいものを、次のアからエの中から一つ選び、その記号を書きなさい。



問2 次の雨温図のうち、図1の(う)の都市にあてはまるものを次のアからエの中から一つ選び、その記号を書きなさい。

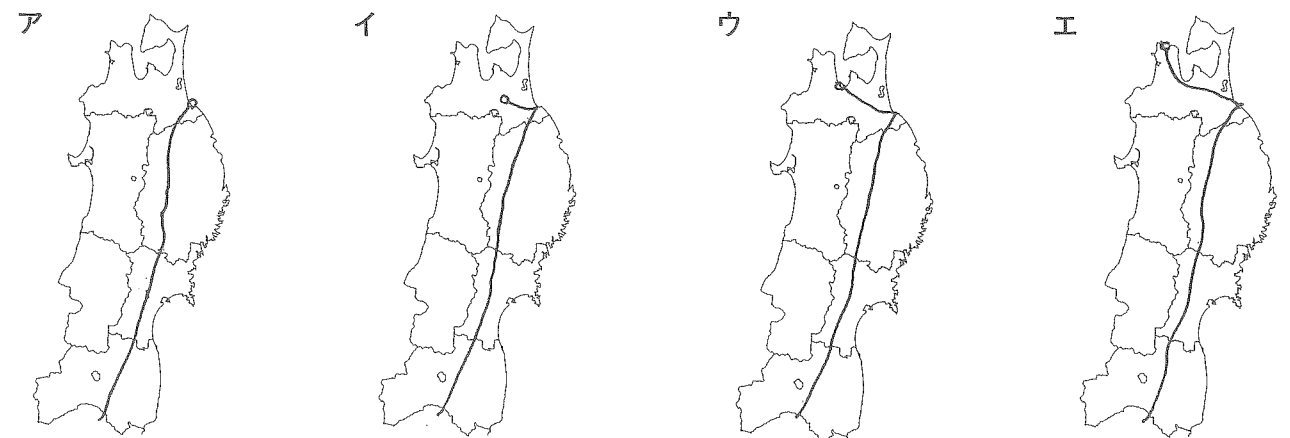


(『日本国勢図会 2012/13』より作成)

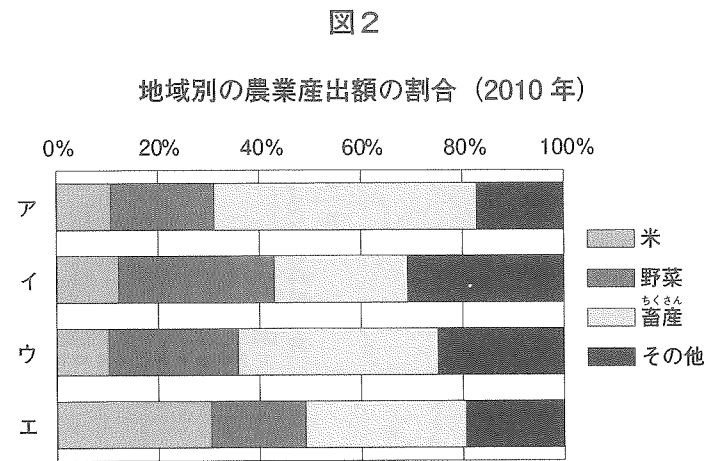
問3 図1の(え)の線で囲まれた地域は、過去に何度も津波の被害を受けてきました。この地域で行われてきた津波対策としてふさわしいものを、次のアからエの中から一つ選び、その記号を書きなさい。

- ア 沿岸部に人が住まないように、沿岸部からの一定区間内は居住禁止区域とされてきた。
- イ 沖合で漁業中の船は、地しんが発生したら津波が来る前に港に戻って退避するようにしてきた。
- ウ 防潮堤を建設したり、災害時用緊急メールのシステムを整備したりしてきた。
- エ 学校・地域一体となった防災訓練を行い、避難施設は高台につくるよう義務づけられてきた。

問4 現在の東北新幹線のルートとして最もふさわしいものを、次のアからエの中から一つ選び、その記号を書きなさい。



問5 図2は北海道地方、東北地方、東海地方、九州地方のいずれかの農業産出額の割合を示しています。東北地方の農業産出額の割合を示しているグラフを、次のアからエの中から一つ選び、その記号を書きなさい。



(『日本国勢図会 2012/13』より作成)

問6 図3には多くの地方都市の中心部で起きている問題が表れています。仙台市ではこのような問題を起こさないために、図4のように仙台市郊外に市街化調整区域を置いています。市街化調整区域とは、新たな建物をつくることをおさえ、市街地が大きく広がらないよう法律で決められた場所です。市街化調整区域を置くと、なぜ図3に見られる問題を防ぐことができるのでしょうか。図3と図4を参考に、「人口」という言葉を使って説明しなさい。

図3 平日の昼ごろのある市の中心部でとった商店街の写真


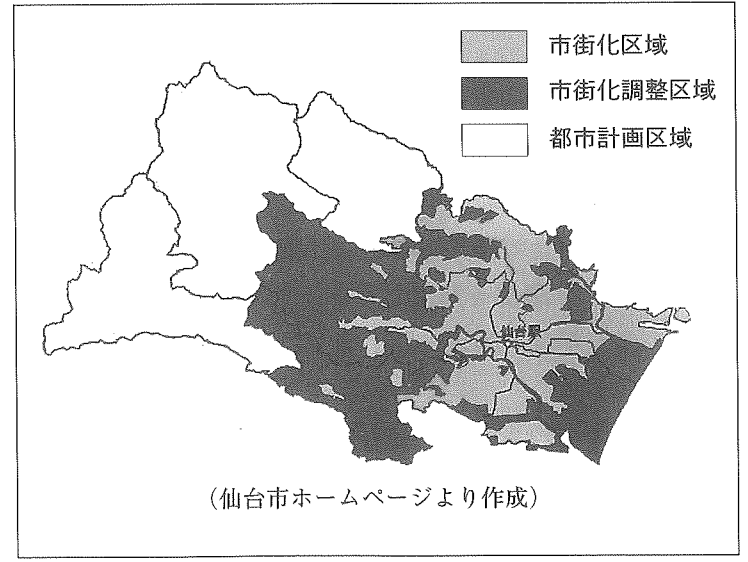
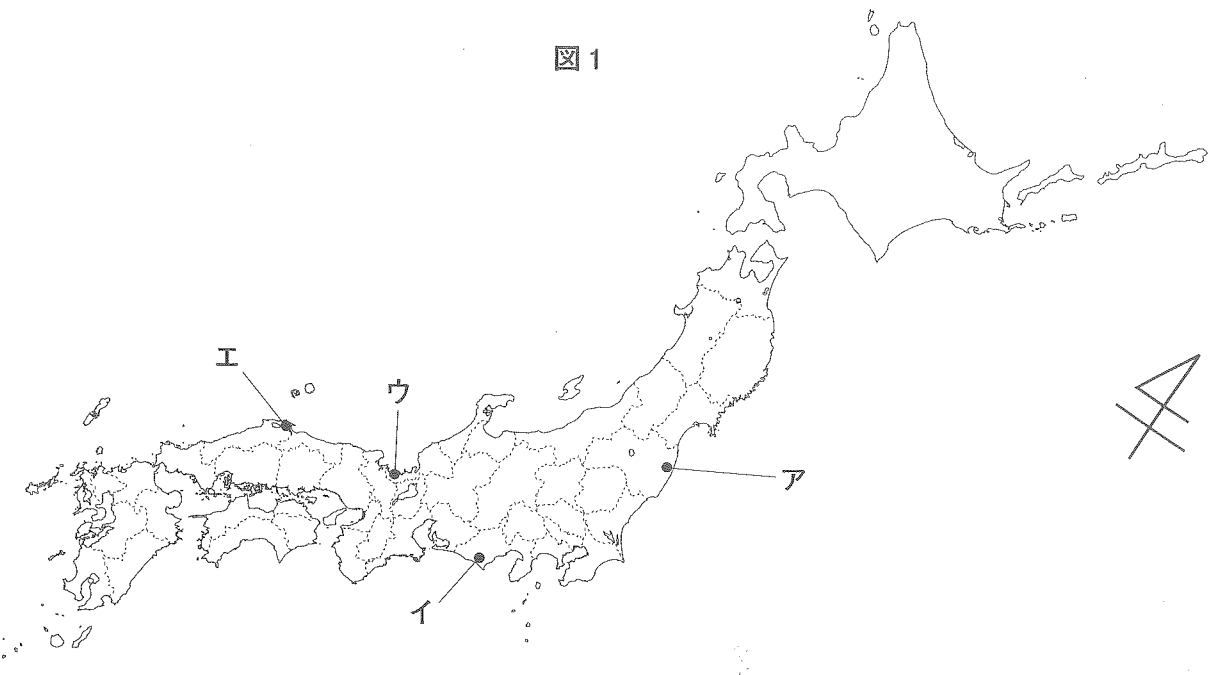


図4 仙台市の都市計画図

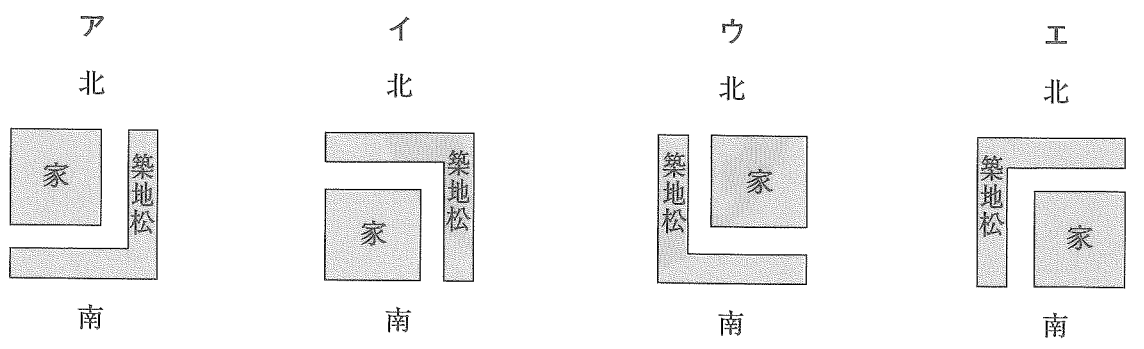
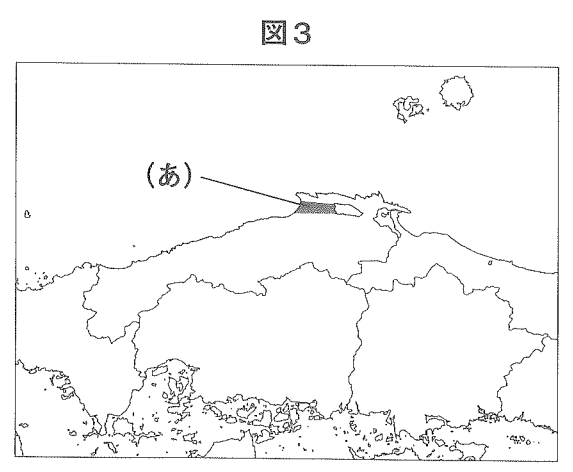



5 次の地図や資料を見て、後の各問に答えなさい。

問1 ある原子力発電所では、今年の7月に原子炉が再稼働しました。この原子力発電所の位置を図1のアからエの中から一つ選び、その記号を書きなさい。

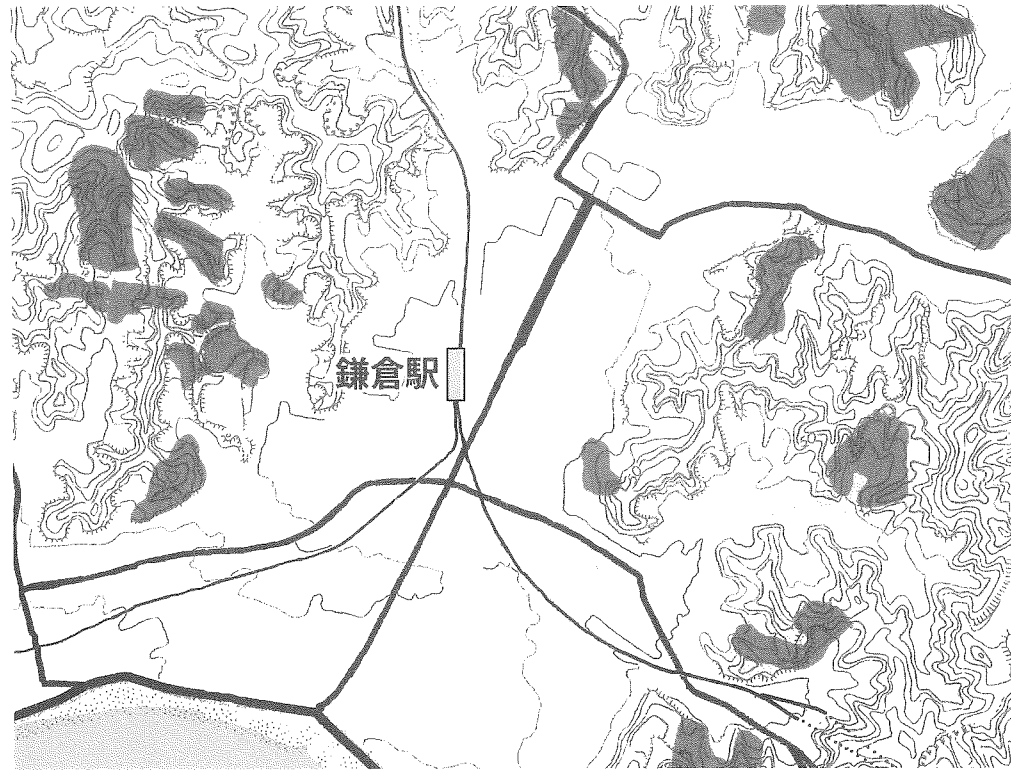


問2 図2は築地松といい、図3の(あ)の地域(出雲市の一部)によく見られるものです。築地松と家の位置関係を示した図として正しいものを、後のアからエの中から一つ選び、その記号を書きなさい。



問3 図4は鎌倉市の防災地図です。この地図のような地形の土地について、図4の■の部分の地点において起こる可能性の高い災害は何か書きなさい。

図4



(『鎌倉市防災マップ』より作成)

問4 あるお店では図5のような「地産地消」のシールがはられています。「地産地消」にはその地域の農業などの活性化の効果が期待されていますが、環境問題の改善にも効果があると言われています。なぜ環境問題の改善にも効果があるのでしょうか。その理由を「二酸化炭素」という言葉を使って書きなさい。

図5



社会

答案用纸

1

問1				問2			問3		
問4	氏			問5					
問6				問7					
問8	2番目			5番目					

2

問1	①			②			③		
問2									

3

問1	(1)			(2)					
	(3)								
	(4)								
問2	(1)			(2)			(3)		
問3									

4

問1			問2			問3			問4			問5		
問6														

5

問1			問2			問3							
問4													

受検番号

--

--