

平成 27 年 度

第 1 回 入 学 試 験 問 題

社 会

(30分, 60点)

受験についての注意

1. 試験開始のベルが鳴るまで、問題用紙を開かないでください。
2. 問題は ①～③ まであります。
3. 各問題とも、解答は解答用紙（別紙）の所定の欄らんに記入してください。
4. 解答用紙には受験番号、名前を必ず記入し、最後にもう一度確認してください。
5. 解答用紙だけ回収します。問題用紙は持ち帰ってください。

1

1. 日本の地理について以下の設問に答えなさい。

問1. 下の表の①～④は、鉱産資源のおもな産出国と日本の輸入先を示しています。下の

【ヒント】を参考にして、次の選択肢の中からあてはまるものを選び、記号を答えなさい。なお、選択肢の中にはあてはまらないものも含まれています。

①		②	
主な産出国	日本の輸入先	主な産出国	日本の輸入先
中国	オーストラリア	ロシア	サウジアラビア
オーストラリア	ブラジル	サウジアラビア	アラブ首長国連邦
ブラジル	南アフリカ	アメリカ	カタール
インド	インド	中国	クウェート
ロシア	チリ	イラン	イラン
③		④	
主な産出国	日本の輸入先	主な産出国	日本の輸入先
中国	オーストラリア	チリ	チリ
インド	インドネシア	中国	ペルー
アメリカ	ロシア	ペルー	オーストラリア
インドネシア	カナダ	アメリカ	カナダ
オーストラリア	アメリカ	オーストラリア	インドネシア

二宮書店『データブック オブ・ザ・ワールド2014年版』より作成

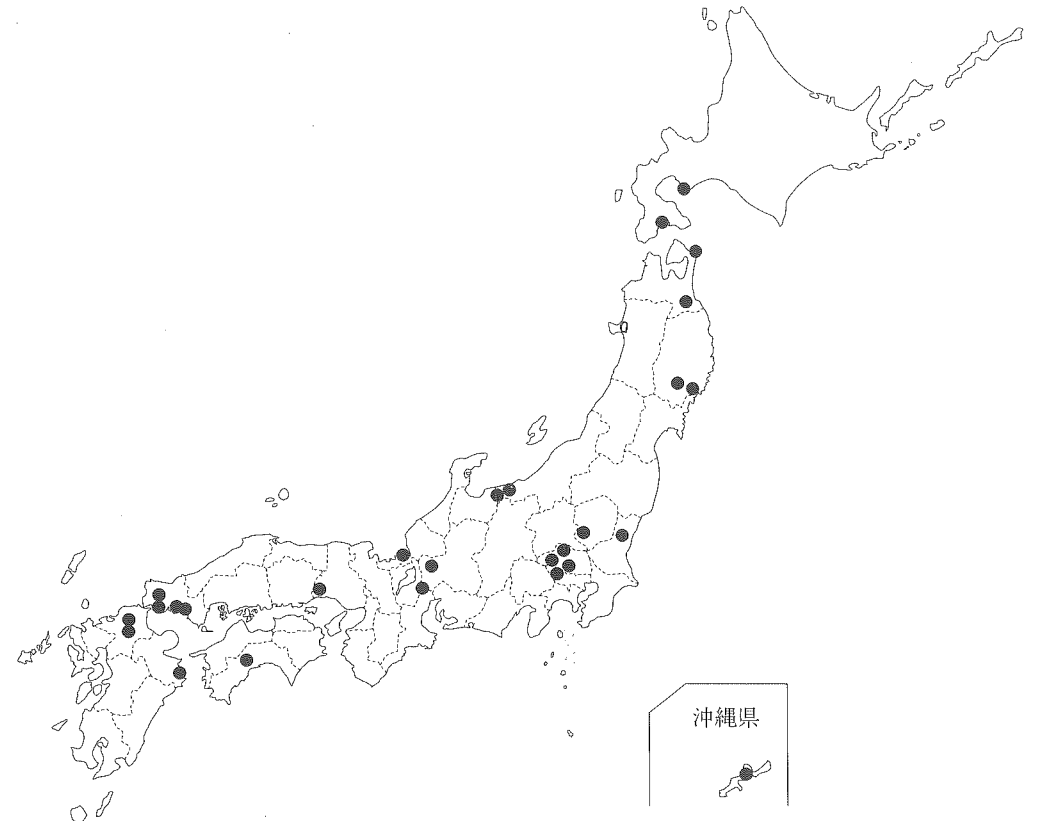
【ヒント】

- ・①の資源はかつて岩手県や北海道でも産出していましたが、現在は100%輸入に頼っています。岩手県の伝統工業にこの資源が使われています。
- ・②の資源は、秋田県や新潟県で産出しますが、現在はほぼ100%輸入に頼っています。
- ・③の資源は、かつて福岡県や長崎県、福島県などで産出していましたが、現在は100%輸入に頼っています。
- ・④の資源は、かつて栃木県や茨城県、愛媛県などで産出していましたが、栃木県では公害を発生させ、社会問題となりました。

ア. 銅 イ. 鉄鉱石 ウ. ボーキサイト エ. 原油 オ. 石炭

問2. 下の図は、ある工業の分布を示しています。次の中からあてはまる工業を1つ選び、記号を答えなさい。

ア. 製鉄 イ. IC ウ. 石油化学 エ. セメント



矢野恒太記念会『日本国勢図会2014/15』より作成

問3. その町の経済や生活に影響を与えるような特定の大工場の周辺に、中小工場が集まって形成される都市や町を企業城下町といいます。次の中から企業城下町としてあてはまらないものを1つ選び、記号を答えなさい。

ア. 豊田市 イ. 日立市 ウ. 延岡市 エ. 静岡市

問4. 下の表の①～④は、日本の4つの県の農産物の総産出額に占める米、野菜、果実、畜産の割合を示しています。①～④にあてはまる県を下の選択肢から選び、記号を答えなさい。ただし、選択肢には1つだけ関係のない県が含まれています。

	農業総産出額 (億円)	品目別に見た割合 (%)
①	4,069	米… 6.1 野菜…12.4 果実… 2.2 畜産…58.4
②	2,268	米…21.6 野菜…34.0 果実…21.3 畜産…12.2
③	1,967	米…21.5 野菜…48.8 果実… 3.6 畜産…14.6
④	1,732	米…61.3 野菜…14.3 果実… 3.2 畜産…17.1

二宮書店『データブック オブ・ザ・ワールド2014年版』より作成

ア. 秋田県 イ. 長野県 ウ. 埼玉県 エ. 鹿児島県 オ. 沖縄県

2. 次の文は、太郎君が夏休みに家族で旅行した時の記録です。記録を参考にして以下の問に答えなさい。

時間	記録
午前8時	天気快晴。中央本線のスーパーあずさに乗車して新宿駅を出発。
午前8時54分	八王子駅に到着。
午前9時10分	八王子から先は、列車はしばらく山の中を走る。左手に相模湖が見える。
午前9時25分	塩山を過ぎるといよいよ甲府盆地に入る。勝沼駅付近では、①扇状地の斜面が、ぶどう畑に利用されているのが見える。
午前9時28分	甲府駅到着。
午前9時50分	甲府盆地を過ぎ、長坂あたりになると列車の車窓から高い山々が見えるようになる。おとうさんが左手に見えるのは〔 ② 〕の一部の甲斐駒ヶ岳と鳳凰三山だと説明してくれた。
午前10時	富士見を過ぎ、茅野に近づくと右手には③八ヶ岳連峰が見える。カラマツの植林が美しい。
午前10時8分	列車は、開けた盆地に出た。左手には諏訪湖が見える。
午前10時11分	列車は上諏訪に到着。となりの岡谷と合わせてこのあたりは、現在は、精密機械工業や電子工業がさかんであるが、かつては群馬県と同じように〔 ④ 〕がさかんだった。
午前10時38分	松本駅到着。ここから大糸線に乗り換える。⑤駅の気温の表示はまだ午前中だというのにすでに30℃をこえている。
午前10時41分	松本駅出発。左右には山々が連なり、列車は南北に延びる開けた谷の中を進む。⑥この谷は、静岡県から諏訪湖を経て新潟県まで続いているという。
午前11時47分	信濃大町駅到着。駅に着く少し前に大きな工場が見えた。この工場は、車窓の左側に見える高い山々から流れ出る高瀬川につくられた高瀬ダムや七倉ダムなどの電力を利用していると聞く。そういえば大町市は日本の〔 ⑦ 〕工業発祥の地だ。
午前12時23分	目的地の白馬駅に到着。今夜は美しい星空が見られそうだ。

問5. 下線部①について、山梨県は日本一のぶどうの産地ですが、山梨県以外でぶどうの生産が多い都道府県の組み合わせを下のア～エの表から1つ選び、記号を答えなさい。

ア	イ	ウ	エ
和歌山県	青森県	長野県	千葉県
愛媛県	長野県	山形県	茨城県
静岡県	岩手県	岡山県	栃木県
熊本県	山形県	福岡県	鳥取県
長崎県	福島県	北海道	長野県

矢野恒太記念会『日本国勢図会2014/15』より作成

問6. 空欄〔 ② 〕にあてはまる語句を次の中から1つ選び、記号を答えなさい。

ア. 赤石山脈 イ. 木曾山脈 ウ. 飛騨山脈 エ. 関東山地

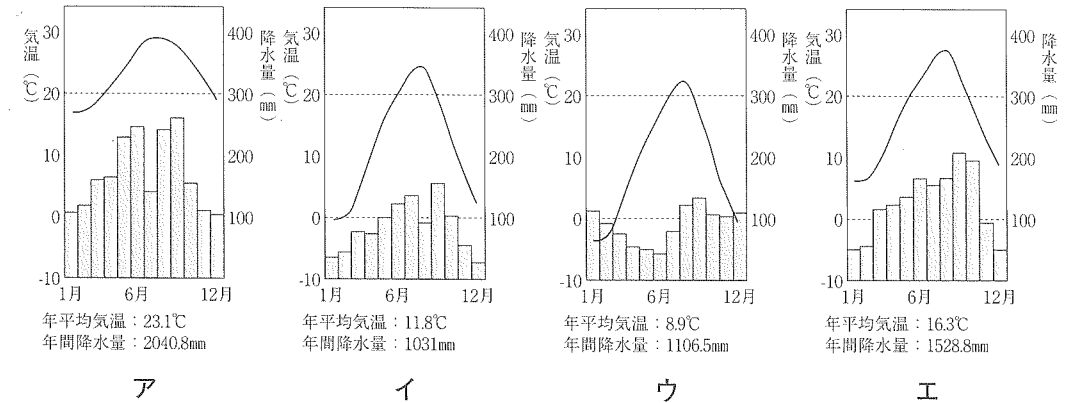
問7. 下線部③について、八ヶ岳山麓^{さんろく}で行われている農業として正しいものを次の中から1つ選び、記号を答えなさい。

- ア. 水はけのよい火山灰を利用して、さつまいもの栽培がさかんである。
- イ. 山麓に広がる原野を利用して、肉牛の飼育がさかんである。
- ウ. 夏の涼しい気候を利用して、キャベツやはくさいなどの高原野菜の栽培がさかんである。
- エ. 南向きの日当たりの良い斜面を利用して、ビニルハウスを用いたいちごの栽培がさかんである。

問8. 空欄〔 ④ 〕にあてはまる工業を次の中から1つ選び、記号を答えなさい。

ア. 酒造業 イ. 染色業 ウ. 木工業 エ. 製糸業

問9. 下線部⑤について、松本の気候のグラフとして正しいものを次の中から1つ選び、記号を答えなさい。



問10. 下線部⑥について、この谷は日本の地質構造を東北日本と西南日本に分ける重要な地形です。この地形を何といいますか。カタカナで答えなさい。

問11. 空欄〔 ⑦ 〕にあてはまる語句を答えなさい。

問12. この太郎君の旅行で、通過した県の組み合わせとして正しいものを次の中から1つ選び、記号を答えなさい。

- ア. 東京都 ⇒ 埼玉県 ⇒ 山梨県 ⇒ 長野県
- イ. 東京都 ⇒ 神奈川県 ⇒ 山梨県 ⇒ 長野県
- ウ. 東京都 ⇒ 山梨県 ⇒ 群馬県 ⇒ 長野県
- エ. 東京都 ⇒ 山梨県 ⇒ 岐阜県 ⇒ 長野県

2 次の「江戸・東京の地域史」に関する年表を見て、各問に答えなさい。

時代の区分	できごと
旧石器	【Ⅰ】
縄文	「日本考古学の父」といわれるアメリカ人の学者〔 A 〕が発見した大森貝塚が形成される。 石器の原材料として①黒曜石が交易品としてあつかわれる。
弥生	②弥生土器がつくられるようになる。
古墳	ヤマト政権が武蔵国造の乱に関与する。
飛鳥	【Ⅱ】
奈良	現在の府中市に武蔵国の国府が、国分寺市に国分寺がつくられる。
平安	12世紀頃、豊島郡に江戸氏がおこる。
鎌倉	鎌倉幕府が成立する。 〔 B 〕が分倍河原の戦いで鎌倉幕府軍を打ち破る。
室町	戦国期に太田道灌が江戸城を築く。
安土桃山	豊臣秀吉の小田原攻めによって北条氏が滅亡する。
③江戸	徳川家康による江戸開幕。 〔 C 〕を起点（スタートライン）として、五街道が定められる。 1702年、赤穂浪士による吉良邸討ち入り。 18世紀後半から19世紀初めにかけて、上方に代わる江戸独自の〔 D 〕文化が発達する。 1860年、桜田門外の変。 江戸城が無血開城される。
明治	1868年、「江戸」を「東京」と改称する。 1880年、〔 E 〕諸島が内務省から東京府へ移管される。 日比谷焼打ち事件。
大正	1923年、関東大震災。
昭和	1932年、東京府の人口が497万人となり、世界第二の都市となる。 1943年、東京府が廃止され「東京都」が設置される。 1945年、太平洋戦争が終わる。 ④第18回夏季オリンピック東京大会が開催される。 1968年、〔 E 〕諸島がアメリカから返還される。
平成	2017年春、芝浦工業大学中学校が⑤新豊洲キャンパスへ移転する。

問1. 空欄〔 A 〕にあてはまる人物名を、カタカナで答えなさい。

問2. 空欄〔 B 〕にあてはまる人物名を、漢字4文字で答えなさい。

問3. 空欄〔 C 〕にあてはまる地名を、漢字で答えなさい。

問4. 空欄〔 D 〕にあてはまる語句を、漢字で答えなさい。

問5. 空欄〔 E 〕にあてはまる地名を、漢字で答えなさい。

問6. 【Ⅰ】の旧石器時代に使用されたものとして、正しいものはどれですか。次の中から1つ選び、記号を答えなさい。

ア. 土偶 イ. 鉄器 ウ. 弓矢 エ. 打製石器

問7. 【Ⅱ】の飛鳥時代のできごととして、誤っているものはどれですか。次の中から1つ選び、記号を答えなさい。

ア. 白村江の戦い イ. 大化の改新 ウ. 壬申の乱 エ. 正長の土一揆

問8. 下線部①について、現在の東京都に属する主な産地はどこですか。次の中から1つ選び、記号を答えなさい。

ア. 箱根 イ. 神津島（伊豆諸島） ウ. 白滝 エ. 和田峠

問9. 下線部②について、「弥生土器」は前の時代の縄文土器とくらべて、どのような点で優れていましたか。その説明として正しいものを、次の中から1つ選び、記号を答えなさい。

ア. より高温で焼き上げているため、堅くて丈夫である。
イ. より低温で時間をかけて焼き上げているため、分厚くて壊れにくい。
ウ. より複雑なかたちにデザインされているため、使いやすい。
エ. より大型の土器が好まれてつくられたため、使い勝手が良い。

問10. 下線部③の時代に、A. 享保の改革、B. 寛政の改革、C. 天保の改革 を行った中心人物は誰ですか。次の中からそれぞれ1つずつ選び、記号を答えなさい。

- | | | |
|---------|---------|---------|
| ア. 徳川吉宗 | イ. 新井白石 | ウ. 水野忠邦 |
| エ. 松平定信 | オ. 田沼意次 | |

問11. 下線部④について、次回の夏季オリンピック東京大会は「第18回夏季オリンピック東京大会」の何年後に開催される予定ですか。数字のみ書きなさい。

問12. 下線部⑤について、「新豊洲」周辺の歴史を説明した文章として正しいものはどれですか。次の中から1つを選び、記号を答えなさい。

- | |
|---|
| ア. 大正後期から埋立事業が進められたことで形成された地区で、昭和までは工業地区であったが、近年は大規模な再開発事業で居住地区としても注目されている。 |
| イ. 昭和三十年代後半に大規模リゾート施設や住宅団地の造成を目的に進められた埋立事業により形成された地区である。 |
| ウ. 江戸時代から埋立事業が行われており海苔の養殖や漁業が盛んであった。太平洋戦争の終戦後まもなく米国から空港が返還された。 |
| エ. 江戸時代末の日米修好通商条約により開港された地区で、外国人居留地が存在していた。明治時代には圧倒的な輸出入額を誇る港があった。 |

問13. 東京都内の遺跡として、誤っているものはどれですか。次の中から1つを選び、記号を答えなさい。

- | | | | |
|---------|--------|---------|----------|
| ア. 品川台場 | イ. 増上寺 | ウ. 上野公園 | エ. 日光東照宮 |
|---------|--------|---------|----------|

③ 次の「昼食を買いにコンビニへ行ったひろし君とお父さんの会話」を読み、各問に答えなさい。

お父さん：やっぱりお弁当高くなっちゃたなあ…。

ひろし君：お父さん、なんでお弁当の値段が上がっちゃったの？

お父さん：昨年の4月から①消費税が上がったからだよ。

ひろし君：税金って買い物したときにだけ払えばいいの？

お父さん：いや、他にもお父さんたちが②直接支払わなくちゃいけない税金もあるよ。

ひろし君：そうやって集めた税金は何に使われるの？

お父さん：③社会保障や教育事業といった国に必要なことや、困っている人や④地域を支援するために使われるんだよ。

ひろし君：そういう国のお金の使い道って、⑤国会で決めるんだよね。

お父さん：そうだよ。だから、お父さんたち国民が⑥選挙で国会議員を決めるっていうのは大事なことなんだ。

ひろし君：そういえばさ、⑦内閣総理大臣は国会議員の中から決めるんだよね。

お父さん：そうそう。だから、お父さんたちが政治参加することは大切なんだよ。自分たちの暮らしをよりよくしてくれる人をみんなで選ぶことでもあるし、⑧行政における国の代表を決めることでもあるからね。

ひろし君：そっかあ。僕も大きくなったら投票に行かなきゃ。

問1. 下線部①について、2015年2月現在の消費税率は何パーセントか答えなさい。

問2. 下線部②について、直接税であるものを1つ選び、記号を答えなさい。

- | | | | |
|---------|--------|--------|-------|
| ア. たばこ税 | イ. 石油税 | ウ. 所得税 | エ. 酒税 |
|---------|--------|--------|-------|

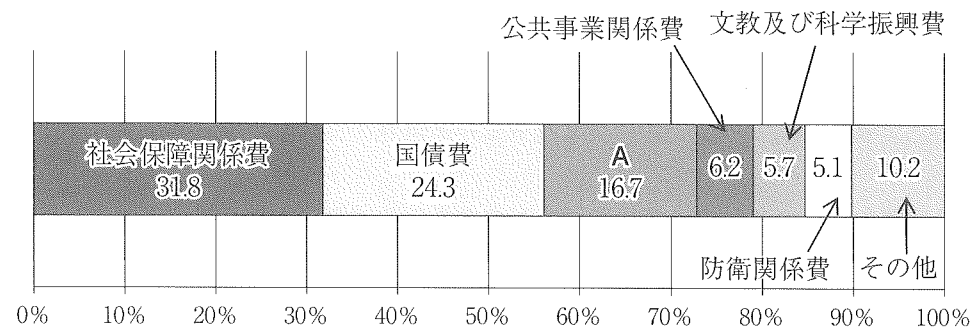
問3. 下線部③について、次の社会保障制度を説明している文を読み、その制度名をそれぞれ1つ選び、記号を答えなさい。

- (1) 働くことが困難な身体障害者や高齢者、社会的にめぐまれない児童などの生活を支援したり、自立を促したりするための制度。
- (2) さまざまな理由で生活に困っている人に、生活費などを支給する制度。
- (3) 伝染病の予防や、環境の整備をはかる制度。
- (4) 国民から原資を集め、病気やけが、失業などのときに国が補助する制度。

- | | | | |
|---------|---------|---------|---------|
| ア. 公的扶助 | イ. 公衆衛生 | ウ. 個人年金 | エ. 社会福祉 |
| オ. 社会保険 | カ. 信用創造 | キ. 福利厚生 | ク. 累進課税 |

問4. 下線部④について、図1のAは、収入の少ない地方公共団体の財政を補うために国が交付するお金である。その名称を漢字で答えなさい。

【図1 2014年度 一般会計歳出の主要経費別割合の概算】



矢野恒太記念会『日本国勢図会 2014/15』より作成

問5. 下線部⑤について、国の予算案の提出・審議・成立について誤っているものはどれですか。次の中から1つ選び、記号を答えなさい。

- | |
|---|
| ア. 予算案は国会が作成する。 |
| イ. 予算の審議は衆議院で先に行われる。 |
| ウ. 学識経験者などに意見を求めるために公聴会を開く。 |
| エ. 衆議院と参議院が異なった議決をした場合、衆議院の議決を国会の議決とする。 |

問6. 下線部⑥について、衆議院選挙で行われる2つの選挙方式を、解答欄にしたがってそれぞれ漢字4文字で答えなさい。

問7. 下線部⑦について、以下の質問に答えなさい。

- (1) 内閣総理大臣（首相）を任命する主体を1つ選び、記号を答えなさい。

- | | | | |
|------------|-------|----------|-----------|
| ア. 最高裁判所長官 | イ. 天皇 | ウ. 野党の代表 | エ. 内閣官房長官 |
|------------|-------|----------|-----------|

- (2) 議院内閣制を説明した次の文の空欄に当てはまる語句をそれぞれ漢字で答え、文を完成させなさい。

衆議院で内閣の不信任決議がされると、内閣は（ 1 ）するか、衆議院を10日以内に（ 2 ）しなければならない。

問8. 下線部⑧について、日本と同じ議院内閣制の国を1つ選び、記号を答えなさい。

- | | | | | |
|-------|-------|--------|---------|---------|
| ア. 中国 | イ. 韓国 | ウ. ロシア | エ. アメリカ | オ. イギリス |
|-------|-------|--------|---------|---------|

平成 27 年 度 第 1 回 入 学 試 験

社 会 解 答 用 紙

注意：※印の欄には何も記入しないこと。

1

問 1	①	②	③	④	問 2		
問 3			問 4	①	②	③	④
問 5			問 6			問 7	
問 8			問 9			問 10	
問 11			問 12				

※

2

問 1		問 2		問 3	
問 4			問 5		
問 6			問 7		
問 8	問 9	問 10	A	B	C
問 11			問 12	問 13	

※

3

問 1	%	問 2	問 3	(1)	(2)	(3)	(4)
問 4					問 5		
問 6				制			制
問 7 (1)	問 7 (2)	1	2			問 8	

※

受験 番号		氏名		得点	※
----------	--	----	--	----	---