

平成 26 年 度

第1回 入学試験問題

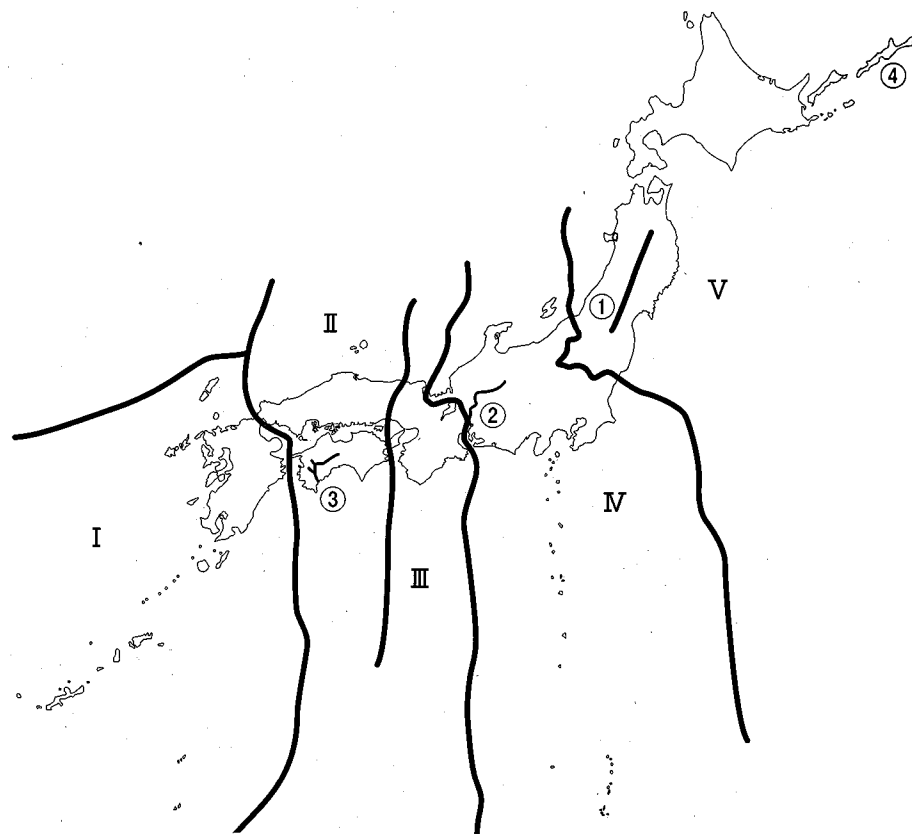
社 会

(30分, 60点)

受験についての注意

1. 試験開始のベルが鳴るまで、問題用紙を開かないでください。
2. 問題は ①～③ まであります。
3. 各問題とも、解答は解答用紙（別紙）の所定の欄らんに記入してください。
4. 解答用紙には受験番号、名前を必ず記入し、最後にもう一度確認してください。
5. 解答用紙だけ回収しますから、問題用紙は持ち帰ってください。

1 次の地図を見て、各問に答えなさい。



問1. 地図中の①～③の自然物の名称を答えなさい。

問2. 地域Ⅰについて、次の各問に答えなさい。

(1) この地域で世界自然遺産に登録されている地域はいくつありますか。次の中から1つ選び、記号を答えなさい。

- ア. 1か所 イ. 2か所 ウ. 3か所 エ. 4か所

(2) 次のア～エは、この地域の自然環境について説明した文です。その説明として正しいものを1つ選び、記号を答えなさい。

- ア. 福岡県北東部に位置する秋吉台では、カルスト地形が発達しています。
 イ. カルスト地形が発達する阿蘇山は、熊本県の北東部に位置しています。
 ウ. 宮崎県の西部に位置する宮崎平野には、海岸平野が発達しています。
 エ. 大分県には活火山が複数位置しており、そのため温泉地が多くみられます。

問3. 地域Ⅱについて、次の各問に答えなさい。

(1) 次のア～エは、この地域の産業について説明した文です。その説明として誤っているものを1つ選び、記号を答えなさい。

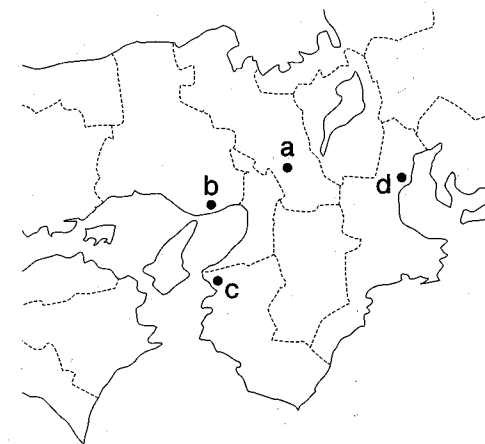
- ア. 瀬戸内工業地域は化学工業の比重が大きく、水島工業地区には大規模なコンビナートがあります。
 イ. 本州四国連絡橋が建設されたことにより、3つのルートで相互の行き来が可能です。
 ウ. 広島県ではかきの養殖がおこなわれ、日本のかき生産量の半数以上をしめています。
 エ. 温暖な亜熱帯気候をいかして、野菜の促成栽培がおこなわれています。

(2) この地域の山間部では過疎化が深刻化しています。人口の半数以上を65歳以上の高齢者がしめ、社会的共同生活の維持が困難になっている地域を何といいますか、漢字4文字で答えなさい。

問4. 地域Ⅲについて、次の各問に答えなさい。

(1) この地域には2つの府と5つの県が属しています。府県名と府県庁所在地の名称が異なる県は3つありますが、兵庫県と三重県と、もうひとつはどこでしょうか。その府県庁所在地を答えなさい。

(2) 高度経済成長期に、四大公害の1つである「ぜんそく」が発生した都市はどこですか。地図中a～dから1つ選び、記号を答えなさい。



問5. 地域Ⅳについて、次の各問に答えなさい。

- (1) 次の表は、2011年における日本のおもな貿易港の輸出額・主要輸出品目を示したものです。名古屋港と成田空港にあたるものをア～オから1つ選び、記号を答えなさい。

輸出港	金額(億円)	総額における割合(%)	金額による輸出金額の割合(%)
ア	92,288	14.1	集積回路7.5 科学光学機器7.3 金(非貨幣用)6.2 電気回路用品3.9
イ	90,630	13.8	自動車25.3 自動車部品14.3 金属加工機械5.0 内燃機関5.0
ウ	53,668	8.2	プラスチック5.5 建設・鉱山用機械4.8 科学光学機器3.4 織物類3.3
エ	47,096	7.2	コンピュータ部品8.4 自動車部品6.3 プラスチック5.4 内燃機関4.6
オ	14,836	2.3	自動車18.1 タイヤ・チューブ13.2 集積回路8.8 プラスチック4.3

(『地理 統計要覧 2013年版』より)

- (2) 昨年6月22日に富士山とともに世界文化遺産に登録された場所はどこですか。ア～エから1つ選び、記号を答えなさい。

ア. 富士五湖 イ. 三保松原 ウ. 伊豆諸島 エ. 登呂遺跡

問6. 地域Ⅴについて、次の各問に答えなさい。

- (1) 次のア～エは、この地域に位置する海域・湖について説明した文です。その説明として誤っているものを1つ選び、記号を答えなさい。

ア. 十和田湖は、秋田県と青森県の県境としての役割があります。
イ. 宮城県の沖合は、親潮と黒潮が合流するため、良好な漁場となっています。
ウ. 北海道北部に位置するサロマ湖は、海が閉じ込められて成立した湖です。
エ. 北海道南部に位置する支笏湖周辺では、サミットが開催されました。

- (2) 地図中④は、日本の最北端に位置する島です。この島の名称を漢字3文字で答えなさい。

問題は次のページに続く。

2 次の人物カードを見て、各問に答えなさい。



A 聖徳太子



B 板垣退助



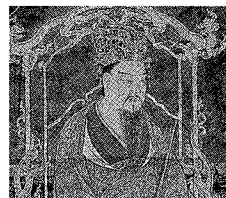
C 聖武天皇



D 勝海舟



E 北条時宗



F 桓武天皇



G 伊藤博文



H 藤原道長




I 徳川吉宗



J 足利義満



K ザビエル



L 陸奥宗光




M 大隈重信



N 源頼朝




O 平清盛



P 後鳥羽上皇




Q 阿倍仲麻呂



R 後醍醐天皇



S ペリー



T 空海



U 原敬



V 鑑真

問1. 内閣総理大臣になったことがある人物を3人選び、A~Vの記号を答えなさい。

問2. 征夷大将軍になったことがある人物を3人選びなさいと質問されたとき、その組み合わせとして正しいものを次の中から1つ選び、記号を答えなさい。

ア. DEI イ. INO ウ. IJN エ. ELN

問3. 次にあげる記号の人物のなかで、太政大臣になったことがある人物の記号を1つ選びなさい。

ア. A イ. B ウ. G エ. O

問4. 中国と関わりをもった人物の説明として誤っているものを次の中から1つ選び、記号を答えなさい。

ア. Aの人物は隋に使者を送り対等な関係をつくろうとした。
 イ. Eの人物は元からの攻撃を2度にわたり防いだ。
 ウ. Jの人物は明の皇帝に対し「日本国王」を名乗った。
 エ. Oの人物は宋との貿易を盛んにするため長崎の港を整備した。

問5. QとTの人物が留学をした中国の王朝名を漢字1文字で答えなさい。

問6. 次に上げる人物が来日した時代としてふさわしいものを下の語群からそれぞれ選び、記号を答えなさい。

K S V

【語群】

ア. 飛鳥時代 イ. 奈良時代 ウ. 平安時代 エ. 室町時代
 オ. 江戸時代 カ. 明治時代

問7. 次にあげる人物についてそれぞれの間に漢字で答えなさい。

- (1) Aの人物が作った役人の心得などを定めたものを何とといいますか。
- (2) Iの人物が作らせた裁判のとりきめを何とといいますか。
- (3) Lの人物が日清戦争後、全権の1人として結んだ条約を何とといいますか。

問8. PとRの人物に共通するできごととして正しいものを次の中から1つ選び、記号を答えなさい。

- ア. 新しい都をつくり、政治のたてなおしをはかった。
 イ. 武士の政権を倒そうとして兵をあつめた。
 ウ. 奈良や鎌倉に大きな大仏を造り、仏教を広めようとした。
 エ. 有力な貴族に権力をうばわれ、思うように政治ができなかった。

問9. 次のできごとにかかわりの深い人物をそれぞれ選び、A～Vの記号を答えなさい。

- (1) 坂上田村麻呂を征夷大將軍に任じ、東北地方まで支配を広げた。
 (2) 第1次世界大戦の講和会議に大使を派遣し、ベルサイユ条約に調印した。

③ 日本国憲法は、三つの基本原理から成り立っています。第一は「基本的人権の尊重」、第二は、「国民主権」、第三は、「平和主義」です。これらの基本原理を考えながら各問に答えなさい。

問1. 次の文は日本国憲法の中で「基本的人権の尊重」に関する条文です。(A)
 ～ (C) に適する語句を、それぞれ漢字2文字で答えなさい。

第11条 国民は、すべての基本的人権の享有を妨げられない。この憲法が国民に保障する基本的人権は、^{おか}侵すことのできない (A) の権利として、現在及び将来の国民に^{あた}与えられる。

※享有…生まれながらにして持っていること

第13条 すべての国民は、個人として尊重される。生命、自由及び幸福追求に対する国民の権利については、公共の (B) に反しない限り、立法その他の国政の上で、最大の尊重を必要とする。

第25条 ①すべて国民は、健康で (C) 的な最低限度の生活を営む権利を有する。

問2. 社会の変化にともない、新しい人権が主張されるようになりました。新しい人権として誤っているものを、次の中から1つ選び、記号を答えなさい。

- ア. 国や公務員からうけた損害に賠償や補償を求める権利
 イ. 人間らしい生活ができる環境を求める権利
 ウ. 国や地方公共団体に情報の公開を求める権利
 エ. 自分の生き方について自由に決定する権利

問3. 次の文は日本国憲法の中で「国民主権」に関する条文です。(A)・(B)
 に適する語句を、それぞれ漢字2文字で答えなさい。

第1条 天皇は、日本国の (A) であり、日本国民統合の (A) であって、この地位は、主権の^{そん}存する日本国民の (B) に基づく。

問4. 日本国憲法は連合国軍総司令部の指導と原案にもとづき、これまでの「大日本帝国憲法」を全面的に改めた憲法です。「大日本帝国憲法」の内容として正しいものを、次の中から1つ選び、記号を答えなさい。

- ア. 内閣は、行政について国会に対して連帯して責任を負った。
- イ. 国会は、二院制で国権の最高機関であった。
- ウ. 国民は納税・勤労・教育の三大義務があった。
- エ. 天皇は国の元首で主権を持った。

問5. 連合国軍総司令部は、なぜ「大日本帝国憲法」の全面的な改正を日本政府に要求したのでしょうか。その理由を20字以内で説明しなさい。

問6. 次の文は日本国憲法の中で「平和主義」に関する条文です。(A)・(B)に適する語句を、それぞれ漢字2文字で答えなさい。

第9条 ①日本国民は、正義と秩序を基調とする国際平和を誠実に希求し、(A)の発動たる戦争と、武力による威嚇又は武力の行使は、国際紛争を解決する手段としては、永久にこれを放棄する。

※希求…願い求めること

②前項の目的を達するため、陸海空軍その他の(B)は、これを保持しない。国の交戦権は、これを認めない。

問7. 1950年、朝鮮戦争がおきると、連合国軍総司令部は日本政府に警察予備隊をつくるように指示しました。これはのちに保安隊となり、1954年に自衛隊に改編されました。自衛隊について述べた文で誤っているものを、次の中から1つ選び、記号を答えなさい。

- ア. 自衛隊の最高指揮権は、内閣総理大臣が持っている。
- イ. 政府は自衛隊が「自衛のための必要最低限度」の実力組織であり、憲法第9条に違反していないと主張している。
- ウ. 米国が他国から攻撃されたとき、日米安保条約により自衛隊は米軍と共同して軍事行動をとる義務がある。
- エ. 国連平和維持活動協力法が成立した後、自衛隊は海外の各地に派遣されている。

問8. 日本は核兵器について「非核三原則」を国の方針としていますが、「非核三原則」について述べた文で正しいものを、次の中から1つ選び、記号を答えなさい。

- ア. 日本国内への核兵器持ち込みは禁止されているが、在日アメリカ軍は許可されている。
- イ. 日本国内での核兵器製造は禁止されているが、核実験は許可されている。
- ウ. 日本政府は「非核三原則」にしたがい、今まで一度も核兵器を保有したことがない。
- エ. 日本政府は「非核三原則」を世界に広げるため、国連で特別会議を開催した。

平成 26 年 度 第 1 回 入 学 試 験
社 会 解 答 用 紙

注意：※印の欄には何も記入しないこと。

1

問 1	①	②	③
問 2	(1)	(2)	
問 3	(1)	(2)	
問 4	(1)	(2)	
問 5	(1)名古屋港	成田空港	(2)
問 6	(1)	(2)	

※

2

問 1		問 2		問 3	
問 4		問 5		問 6	K : S : V :
問 7	(1)			(2)	
	(3)				
問 8		問 9	(1)	(2)	

※

3

問 1	A		B		C		問 2
問 3	A		B		問 4		
問 5							
問 6	A		B				
問 7			問 8				

※

受験 番号		氏名		得点	※
----------	--	----	--	----	---