

1 下のⅠからⅣは達也君が「地球温暖化と海面上昇」についてまとめたレポートです。これを読んで各問に答えなさい。

Ⅰ. 海面上昇が起きる理由

(A) などの温室効果ガス排出の影響で地球の平均気温が上昇する。



(B)



海水面が上昇する。

Ⅱ. 陸地が小さくなる国々

標高の低い国々では国土の面積が減少したり、国の存在そのものが危ぶまれるところもある。

オランダ……ライン川の河口に広がる国。①干拓により多くの耕地を広げてきた。海面上昇すると国の産業に大きな影響を与えてしまう。

Bangladesh ……ガンジス川の河口付近にある②三角州が有名な国。国土の18パーセントが沈むといわれている。

ツバル……海抜が最高でも5mと低いため、海面上昇したりすることで国の存在そのものがおびやかされることになる。

マーシャル諸島……国土の80パーセントが沈むといわれている。③1954年に行われたアメリカの核実験では日本の漁船に被害が出た。

Ⅲ. 日本にも与える影響

○ 海抜ゼロメートル地帯への影響

④東京都では地盤沈下などによって海水面よりも低い地域が多く存在しており、海面上昇することによって大きな影響がでてしまう。

○ 気候の変化による被害（大雨や台風など）

最近では、集中豪雨などが多く発生して被害も増えてきているが、海面上昇することによってその被害がさらに大きくなることも考えられる。

Ⅳ. 対策

○ ゴミを減らすために、⑤不用になったものを再利用する。

○ ⑥石油を使う量を減らす。

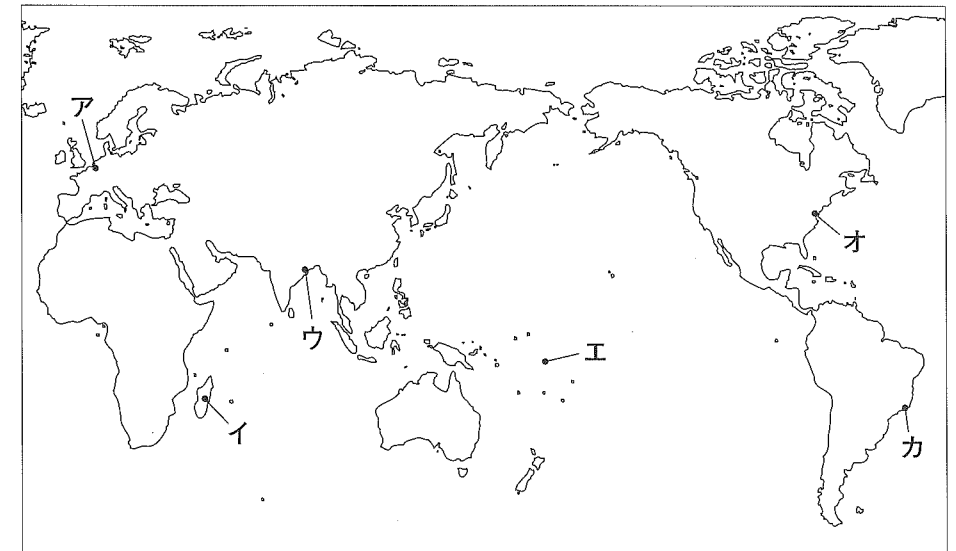
問1. 空欄 (A) にあてはまる温室効果ガスとして代表的なものは何ですか。

問2. 空欄 (B) にあてはまる海面上昇を説明した理由として誤っているものを次の中から1つ選び、記号を答えなさい。

- ア. 北極の水が溶けて海に流れる。
- イ. 南極の水が溶けて海に流れる。
- ウ. 気温上昇により海水が膨張する。
- エ. 氷河地帯などの氷が溶けて海に流れる。

問3. Ⅱの中にある国（オランダ・ Bangladesh ・ツバル）の場所を地図1から探し、記号を答えなさい。

地図1



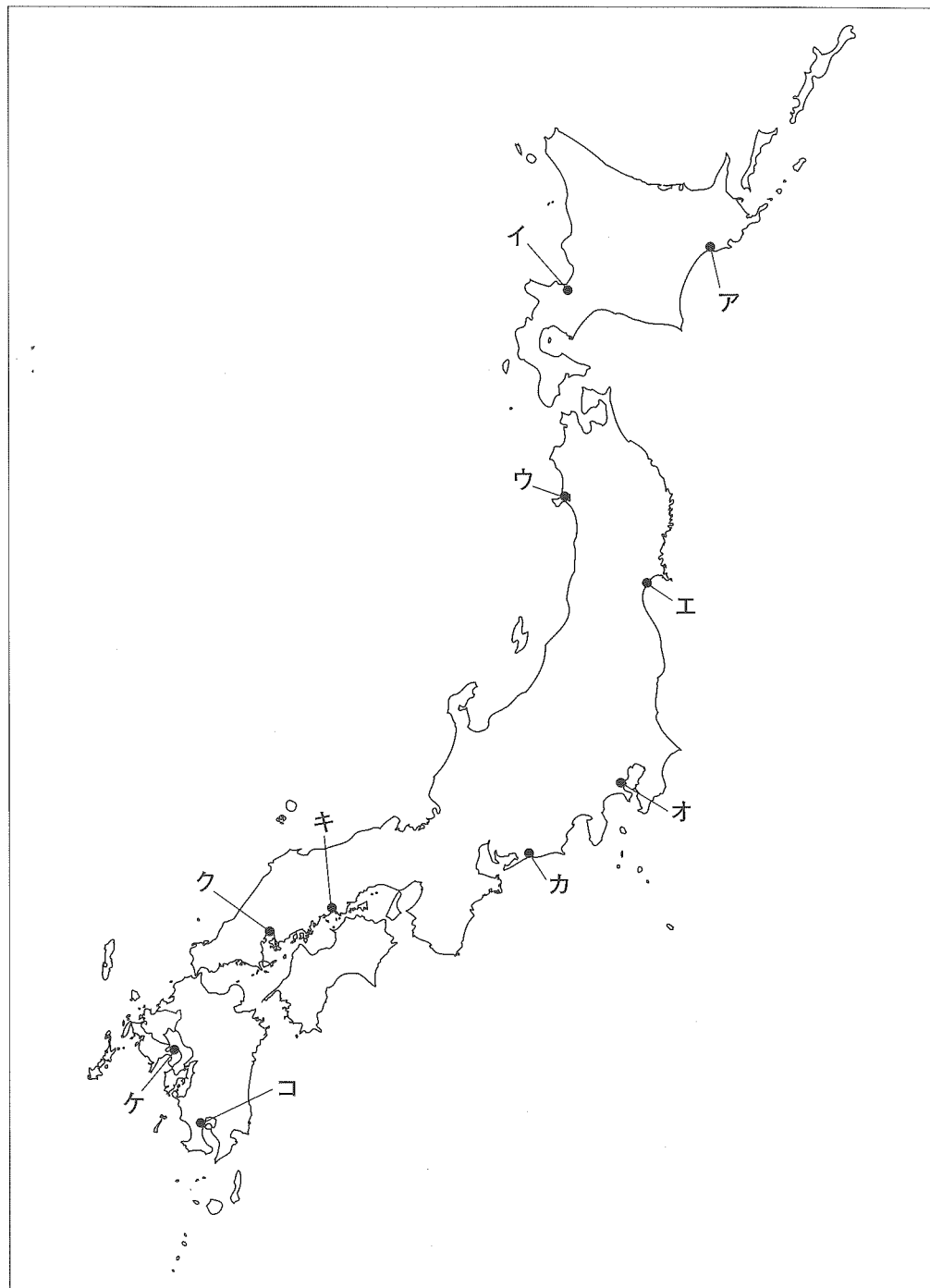
問4. オランダについて説明した次の文章のうち、誤っているものを1つ選び、記号を答えなさい。

- ア. 偏西風を利用した風車で排水を行って、干拓を進めてきた。
- イ. 酪農が盛んで、乳製品が主要な輸出品である。
- ウ. ルール炭田など良質な石炭を産出し、工業も発達している。
- エ. 河口付近にあるユーロポートは「EUの玄関」として発達している。

問5. 下線部①について、日本の干拓地としてあげた下の場所について、地図2からその場所を探し、解答欄にしたがってそれぞれ記号を答えなさい。

A. 八郎潟 B. 児島湾 C. 諫早湾

地図2



問6. 下線部②について日本で三角州地帯にできた都市として正しいものを次の中から1つ選び、記号を答えなさい。また、問5の地図上からその都市を探し、記号を答えなさい。

ア. 仙台市 イ. 横浜市 ウ. 広島市 エ. 鹿児島市

問7. 下線部③について、このとき被ばくした漁船の名称を書きなさい。

問8. 下線部④について、東京で地盤沈下がおきている理由を15字以内で説明しなさい。

問9. 下線部⑤について、このことを何と言いますか。カタカナ5文字で答えなさい。

問10. 下線部⑥について、石油に代わるエネルギーとして注目されているものを一つ答えなさい。

2 下の年表は、日本の文化についてまとめたものです。年表を見て、各問に答えなさい。

年 代	文 化	関 連 す る 事 柄
1 万年以上前	旧石器文化	1946年に群馬県の (①) 遺跡から打製石器が発見され、日本にも旧石器文化が存在していたことが確認された。
1 万年前頃 ～ 紀元前 5 世紀頃	縄文文化	<u>②紀元前3500年頃から紀元前2000年頃まで続いたと考えられる青森県の三内丸山遺跡で、縄文時代の生活についての新たな発見があった。</u>
紀元前 4 世紀頃 ～ 4 世紀頃	弥生文化	稲作が開始され、各地に村が形成された。 (③)
3 世紀半ば ～ 6 世紀末	古墳文化	3 世紀後半以降、瀬戸内地方から畿内にかけて、 <u>④図のような巨大な古墳がつくられた。</u>
6 世紀末 ～ 7 世紀前半	(⑤) 文化	聖徳太子や蘇我氏が仏教を厚く信仰したことで、この文化が成立した。世界最古の木造建造物である法隆寺もこの頃つくられた。
8 世紀半ば	天平文化	病気や天災があいついだため、仏教を厚く信仰する (⑥) 天皇が東大寺に大仏をつくり、各地には国分寺を築いた。
9 世紀末 ～ 10 世紀半ば	<u>⑦国風文化</u>	894年の遣唐使の廃止によって、わが国独自の文化が生まれた。
12 世紀末 ～ 14 世紀前半	鎌倉文化	鎌倉幕府が新しい仏教を保護したことにより、この文化が発達した。また、この頃、 <u>⑧2度にわたって元が日本に攻め込んだ。</u>
14 世紀末 ～ 15 世紀末	室町文化	(⑨) が京都北山に鹿苑寺金閣を建立した。また、明との間で勘合貿易を始めた。
16 世紀	安土桃山文化	(⑩) な文化

年 代	文 化	関 連 す る 事 柄
17 世紀半ば ～ 18 世紀前半	(⑪) 文化	上方とよばれる大阪や京都が文化の中心地であった。井原西鶴や近松門左衛門が小説や脚本の作家として活躍した。
18 世紀末 ～ 19 世紀初め	化政文化	江戸を中心に発達した町人の文化。この頃、質素・ <u>⑫寛政の改革</u> が行われた。
19 世紀後半 ～ 20 世紀初め	文明開化	<u>⑬明治維新以降、欧米の文化が取り入れられ、日本人の生活様式や考え方が大きく変化した。</u>
20 世紀前半	大正 デモクラシー	<u>⑭政党政治がおこなわれ、社会運動がさかんになった。</u>

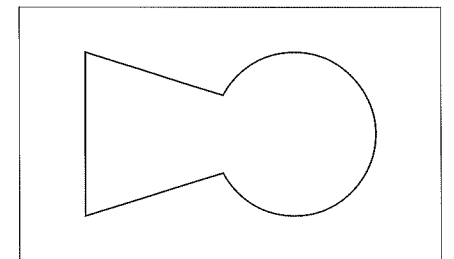
問 1. 年表の (①) にあてはまる遺跡の名称を漢字 2 文字で答えなさい。

問 2. 年表の下線部②について、この遺跡で発見された縄文時代の生活のイメージを大きく変える事柄とはどのようなことですか。簡単に説明しなさい。

問 3. 年表の (③) にあてはまるこの時代のできごととして正しいものを次の中から選び、記号を答えなさい。

- ア. 日本は百済を救うために朝鮮半島に出兵したが、白村江の戦いで唐・新羅連合軍に敗れた。
- イ. 漢字や仏教が大陸から日本に伝わった。
- ウ. 青銅器や鉄器が使われるようになり、銅でつくられた貨幣が交易に用いられた。
- エ. 日本の奴国が中国の漢に使いを送り、金印を漢の皇帝から授かった。

問 4. 年表の下線部④について、右の図のような形の古墳を何といいますか。漢字 5 文字で答えなさい。



問5. 年表の (⑤) にあてはまる文化の名前を漢字2文字で答えなさい。

問6. 年表の (⑥) にあてはまる天皇の名前を漢字2文字で答えなさい。

問7. 年表の下線部⑦について、国風文化と関係のない人物を次の中から選び、記号を答えなさい。

ア. 松尾芭蕉 イ. 清少納言 ウ. 紫式部 エ. 紀貫之

問8. 年表の下線部⑧について、このできごとの結果について述べた文のうち正しいものを選び記号を答えなさい。

ア. 九州に大宰府が置かれ、外敵の侵入を防ぐために水城がつくられた。
イ. 自費で戦いに参加して、生活が困窮した御家人を救うために徳政令が出された。
ウ. 北条政子が権力を握り、御家人を統制した。
エ. 大陸の動きを監視するために、六波羅探題がもうけられた。

問9. 年表の (⑨) にあてはまる人物を次の中から選び、記号を答えなさい。

ア. 足利尊氏 イ. 足利義満 ウ. 足利義政 エ. 足利義昭

問10. 年表の (⑩) にあてはまる文を次の中から選び、記号を答えなさい。

ア. 質素で地味 イ. 人間中心で現実的
ウ. 豪華で壮大 エ. 繊細で優美

問11. 年表の (⑪) にあてはまる文化の名称を漢字2文字で答えなさい。

問12. 年表の下線部⑫について、この改革を行った人物を次の中から選び、記号を答えなさい。

ア. 徳川吉宗 イ. 松平定信 ウ. 水野忠邦 エ. 井伊直弼

問13. 年表の下線部⑬について、『学問ノススメ』を著し、日本に欧米の「自由」や「権利」を紹介した人物を次の中から選び、記号を答えなさい。

ア. 福沢諭吉 イ. 中江兆民 ウ. 板垣退助 エ. 大久保利通

問14. 年表の下線部⑭について、立憲政友会による最初の本格的な政党内閣を組織した人物を次の中から選び、記号を答えなさい。

ア. 伊藤博文 イ. 大隈重信 ウ. 犬養毅 エ. 原敬

③ 次の文章を読み、各問に答えなさい。

日本国憲法第30条には「国民は、法律の定めるところにより、納税の義務を負ふ」と定められています。これを「納税の義務」といい、①国民の三大義務の一つとされています。

②私たちはつねに豊かで安全な暮らしをしたいという願望を持っています。その願いを実現するために、国や地方公共団体は、税金を使っていろいろな施設を作っています。

税金の中で最も身近なものの一つが③消費税です。お店で買い物をすると、レシートの下の方に (④) %の消費税が記入されています。⑤私たちがお店の人に払った消費税は、お店の人を通して国に納められます。

国は、集めた税金を使っていろいろなことをおこなっていますが、⑥近頃では、社会保障費の負担が急激に上がってきています。そのために足りない税金を、国は(⑦)を発行して補います。また、税金は世界中の人々のためにも使われています。⑧国は、税金を使って発展途上国にダムや道路・病院などをつくって援助をおこなっています。

地方公共団体も、集めた税金を使っていろいろな仕事をおこなっています。しかし、地方税では足りない分を国から援助を受けています。身近なものとしては、公立の小・中学校の授業料や義務教育で使う (⑨) が無料であることです。これは国の文教・科学振興費が⑩国庫支出金として地方公共団体にまわされているからです。

このように国や地方公共団体は私たちの税金によって成り立っています。そのため、私たちは税金の使い方を知り、またよくみていかなければなりません。この役目を負っているのが国会です。⑪国民から税金を集めるためには、内閣が1年間にどれくらいの税金が必要なのかという予算案を作り、国会に提出します。⑫そして国会では、選挙によって選ばれた国会議員が話し合っ、税金の使いみちを決めていきます。そして、内閣は、使われた税金について、国会と国民に対して知らせなければなりません。このような方法で、国の財政が国民の代表である国会によって監督されています。

問1. 下線部①について、「納税の義務」以外の義務を1つ答えなさい。

問2. 下線部②について、憲法第25条では「すべて国民は、健康で文化的な最低限度の生活を営む権利を有する。」とありますが、そのことを述べた文として誤っているものを1つ選び、記号を答えなさい。

- ア. 失業にそなえる雇用保険。
- イ. 老後のための年金保険。
- ウ. 伝染病の予防や治療のための対策。
- エ. 人びとの生命や財産の保護。

問3. 下線部③について、消費税について述べた文として正しいものを1つ選び、記号を答えなさい。

- ア. 収入が多いほど税は高率となる。
- イ. すべての店は消費税をとる。
- ウ. 70歳以上の高齢者は免除されている。
- エ. 収入が少ない人ほど負担が重くなる。

問4. 文中の空欄 (④) にあてはまる数字を答えなさい。

問5. 下線部⑤について、このように税金を払う人と納める人が違う税金を何といいますか。

問6. 下線部⑥について、この原因として考えられることを答えなさい。

問7. 文中の空欄 (⑦) にあてまる国の借り入れ金のことを漢字2文字で答えなさい。

問8. 下線部⑧について、政府開発援助をアルファベット3文字で答えなさい。

問9. 空欄 (⑨) にあてはまる語句を漢字3文字で答えなさい。

問10. 下線部⑩について、国庫支出金について述べた文の中で、誤っているものを1つ選び、記号を答えなさい。

- ア. 国が地方公共団体に使いみちを指定している。
- イ. 教育費、土木費、生活保護費などがふくまれる。
- ウ. 災害にかかわる費用にも使われる。
- エ. 地方公共団体の間の格差をなくすために使われる。

問11. 下線部⑪について、予算の原案をつくり、国民から税金を集める中央省庁を何といますか。漢字で答えなさい。

問12. 下線部⑫について、予算の審議が行われる国会を何といいますか。次の中から1つ選び、記号を答えなさい。

- ア. 通常国会
- イ. 臨時国会
- ウ. 特別国会
- エ. 参議院の緊急集会