

2023 年度
入 学 試 験

社 会

富 士 見 中 学 校

1 回 (2 月 1 日)

注 意 事 項

- (1) 問題は 1 ページから 20 ページまでです。
- (2) 解答はすべて解答用紙の定められた場所に、指示通りに記入しなさい。
- (3) 問題にページ不足や印刷の良くないところがあれば、すぐに手をあげて、監督^{かんとく}の先生に申し出なさい。

1 次の文章を読んで、あとの問いに答えなさい。

みなさんは、山崎種二（以下、種二とする。）という人物を知っていますか。種二は、今みなさんが入学試験を受けている富士見中学校を経営している山崎学園の⁽¹⁾初代理事長です。

種二は、1893年に⁽²⁾群馬県の⁽³⁾農家であった山崎家の長男として誕生しました。種二は自身の⁽⁴⁾著書で、生まれた当時の山崎家の状況を「⁽⁵⁾水呑百姓同然の所まで落ちぶれており、収入の大半は⁽⁶⁾養蚕から得ていた」とのべています。借金を抱えた貧しい農家出身の種二が、⁽⁷⁾企業や学校を経営するまでにどのような人生を送ってきたのでしょうか。

1908年に当時の義務教育であった高等小学校（一般的に⁽⁸⁾14歳で卒業）を卒業した種二は、すぐに⁽⁹⁾東京へ出て、父のいとこが営む米問屋で働きはじめました。種二は仕事のひとつであった倉庫番をしているとき、米俵からこぼれ落ちる米の利用法を考え、主人に許可を取り、この米を餌に使って⁽¹⁰⁾にわとりを飼い、⁽¹¹⁾たまごを産ませて、そのたまごを売ることになりました。また、当時、⁽¹²⁾伝染病を広げると恐れられていたねずみは、捕まえて交番に持っていきと買い取ってくれたことから、倉庫に出るねずみを捕獲し、交番へ持っていきました。たまごの販売とねずみの捕獲で得た収入は貯金しました。のちに商売で成功する種二は、このころから商売の才能にあふれていたといえるでしょう。

1910年の秋には、米問屋の主人と米の主産地である⁽¹³⁾東北地方をまわりました。この時、種二は主人から「田を見て米の出来の良しあしを見極められるように」といわれ、実際に現地に行き、自分の目で確かめることの大切さを知ることになります。のちに米問屋の社長として成功する基礎を教わったといえるでしょう。

米問屋で働くなかで、種二は米に関する豊富な知識をつけていきました。この米の豊富な知識が評価され、⁽¹⁴⁾県議会で米についての講義をすることもありました。高等小学校卒業後すぐに働きに出た若者が県議会で講義することはとてもめずらしく、新聞記事になるほどでした。

種二は、地元の有力者の引越しの手伝いに行った際、その家の女性に一目惚れをし、のちに結婚しました。結婚当時、種二の実家の近くの川には⁽¹⁵⁾橋がなく、⁽¹⁶⁾馬に乗って川を渡っていました。種二の妻は結婚する際に種二を奮起させるため、「私は馬に乗るのは嫌いです。馬で川を渡らないでも済むように橋をかけてください」とお願いしました。のちに妻の支えもあって企業の経営者として成功した種二は私財をなげうって、橋を2本かけて妻との約束を守りました。

⁽¹⁷⁾関東大震災をきっかけに、これまで勤めていた米問屋を退職した種二は、自ら社長になり新たに米問屋を設立しました。その後、倉庫業や株の取引をおこなう証券業などさまざまな分野で成功し、企業の経営者として活躍しました。

種二は、商売だけでなく、教育や文化を担うことにも力を発揮しました。⁽¹⁸⁾1940年に富士見高等女学校（現在の富士見中学校）の経営を引き継ぎ、山崎学園を設立しました。種二が女子校の経営をおこなう背景には、妻のような自立した女性を育成したいとの思いがあったようです。また、日本画家と交流のあった種二は、絵の収集を熱心におこない、のちに山種美術館を設立しました。富士見の校内にもたくさんの絵画があるのはこのような背景があります。さらに、種二の故郷である群馬県吉井町（現高崎市）にも、設立にあたり資金の一部を提供した高崎市立山種記念吉井図書館があり、今も多くの市民に利用されています。

問1 下線部（1）について、日本の初代内閣総理大臣である伊藤博文は現在の山口県の出身です。次の文は山口県についてのべたものです。下線部の内容がまちがっているものはどれですか。次から1つ選び、記号で答えなさい。

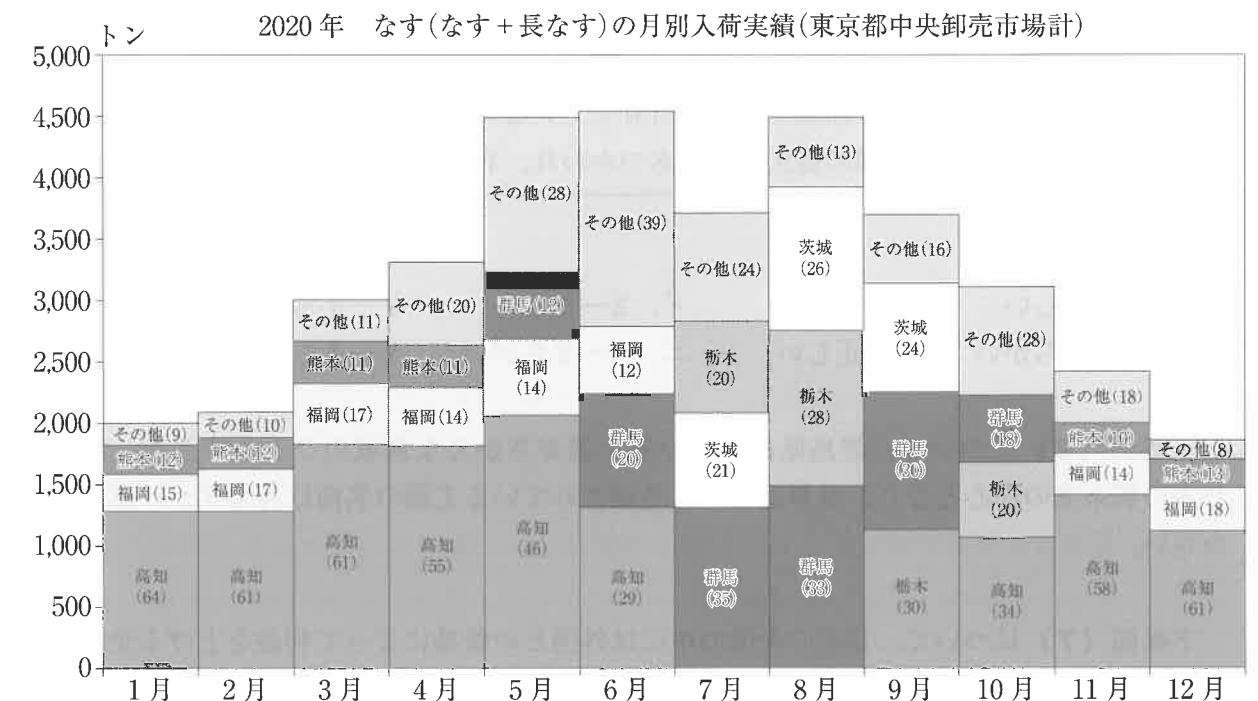
- ア. 県南西部には、カルスト地形の秋吉台が広がっている。
- イ. 県南部にある工業都市は、瀬戸内工業地域の一部を形成している。
- ウ. 県北部の萩市にあった松下村塾では、明治にかけて活躍した人物が多数学んだ。
- エ. 県西部の下関市にある桶狭間では、源氏と平氏が戦いをくり広げた。

問2 下線部（2）について、あとの問いに答えなさい。

(1) 群馬県庁の庁舎は全国の43県の県庁舎の中で最も背の高い庁舎です。庁舎から直線で150m離れたところから建物の最も高い場所を45度の角度で見上げることができました。この県庁のおよその高さとして正しいものはどれですか。次から1つ選び、記号で答えなさい。

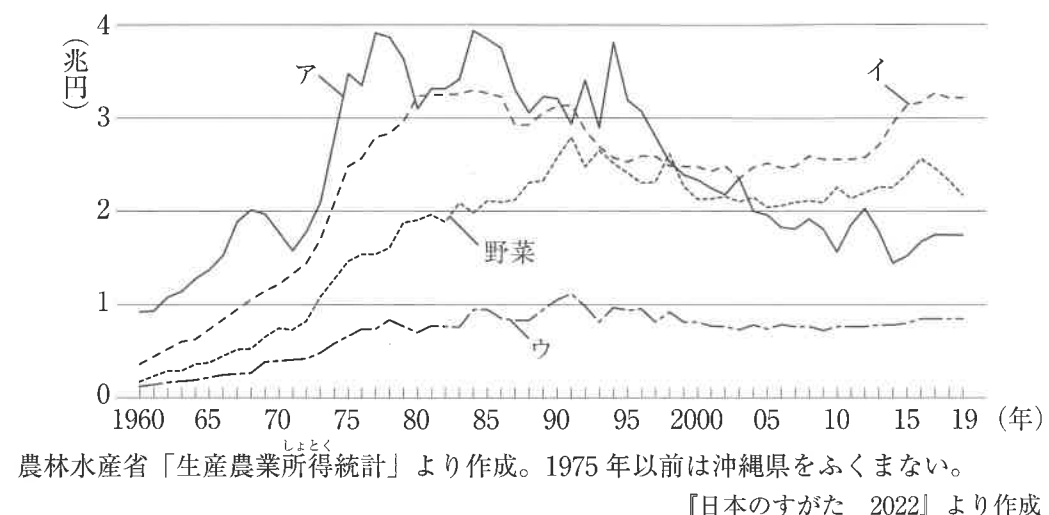
- ア. 10m イ. 15m ウ. 20m エ. 100m オ. 150m カ. 200m

(2) 群馬県は関東近県へむけての野菜の生産がさかんな地域のひとつです。東京中央卸売市場に入荷されるなすは、7～10月には群馬県など関東近県からの入荷が多くなります。一方、それ以外の月は高知県からの入荷が半数以上を占めている月が多くなっています。遠く離れた高知県からの入荷が多くなるのはなぜですか。栽培方法に着目して説明しなさい。



() 内の数値は、月別入荷量全体に占める割合(%)である。
なすの需給動向—農畜産業振興機構 より作成

問3 下線部(3)について、次のグラフは日本の野菜、畜産、コメ、果物の農業総産出額の変化をしめしたものです。このグラフの項目のうちコメにあたるのはどれですか。記号で答えなさい。



問4 下線部(4)について、自分の考えや気持ちを他人のまねでなく自分で工夫して、言葉や文字、形や色、音楽というかたちで表現した作品やその作者を守るために与えられる権利を何とといいますか。漢字で答えなさい。

問5 下線部(5)について、次の文は水呑百姓についてのべたものです。2つの文の正しい・まちがいの組み合わせとして正しいものはどれですか。下から1つ選び、記号で答えなさい。

X：農村や漁村に住み、田畑を自分で所有していない庶民のことをあらわしている。
Y：名主ともいい、下級の農民としてあつかわれ、有力な農民と区別された。

〈組み合わせ〉

ア. X—正しい Y—正しい イ. X—正しい Y—まちがい
ウ. X—まちがい Y—正しい エ. X—まちがい Y—まちがい

問6 下線部(6)について、群馬県は養蚕や製糸業がさかんな地域のひとつでした。群馬県で日本の製糸業の中心となり、世界遺産にも登録されている工場の名前は何ですか。漢字で答えなさい。

問7 下線部(7)について、日本の企業の中には外国との貿易によって利益を上げる企業が多く存在しています。日本の企業は、円の価値に対してドルの価値が下がると、基本的に少ない金額で外国から物を買うことができます。この場合、利益を上げやすいのは、輸出または輸入のどちらを主におこなっている企業ですか。次から1つ選び、記号で答えなさい。

ア. 輸出を主におこなっている企業 イ. 輸入を主におこなっている企業

問8 下線部(8)について、中学2年生(14歳)の松子さんは群馬県について調べることにしました。調べようと考えていることがらに対して、その内容を知るための方法としてまちがっているものはどれですか。次から1つ選び、記号で答えなさい。

- ア. 県の人口が減っていることを確かめるために、人口の統計を使って、前年の数値と比較することを過去10年分おこなった。
- イ. 観光客がどの都道府県からきているかを大まかに知るために、観光名所の駐車場で、車のナンバープレートに書かれた地域を調べた。
- ウ. 農業就業者の高齢化について調べるために、県の産業別人口を調べて、農業就業者の割合を出した。
- エ. 商店街にどの地域から買い物客が集まっているかを知るために、商店をまわって、客の来る範囲を聞き取り調査した。

問9 下線部(9)について、東京都には伊豆諸島の島々もふくまれています。次の25000分の1の地形図は、東京都の新島村の一部をしめたものです。この地形図から読み取れることとしてまちがっているものはどれですか。下から1つ選び、記号で答えなさい。なお、文中の本村は太線で囲ってある範囲とします。



地理院地図より作成

- ア. 新島空港は、おおむね東西方向にのびている。
- イ. 本村の南端では、高校と小・中学校が隣り合っている。
- ウ. 新島温泉付近の老人ホームと本村の郵便局では、郵便局のほうが標高は高い。
- エ. XとYの間は、地図上で14cmであるとする、実際には3.5kmとなる。

問10 下線部(10)について、次の表は各都道府県の乳用牛、ぶた、にわとり(ブロイラー)の頭数(羽数)の多い上位5位とその割合をしめたものです。それぞれの表がしめているのはどの項目ですか。下から1つ選び、記号で答えなさい。

A		B		C	
県名	割合 (%)	県名	割合 (%)	県名	割合 (%)
宮崎県	20.1	鹿児島県	13.3	北海道	61.2
鹿児島県	19.4	宮崎県	8.6	栃木県	3.9
岩手県	16.2	北海道	7.8	熊本県	3.2
青森県	5.1	群馬県	6.9	岩手県	3.0
北海道	3.6	千葉県	6.6	群馬県	2.5

『日本のすがた 2022』より作成

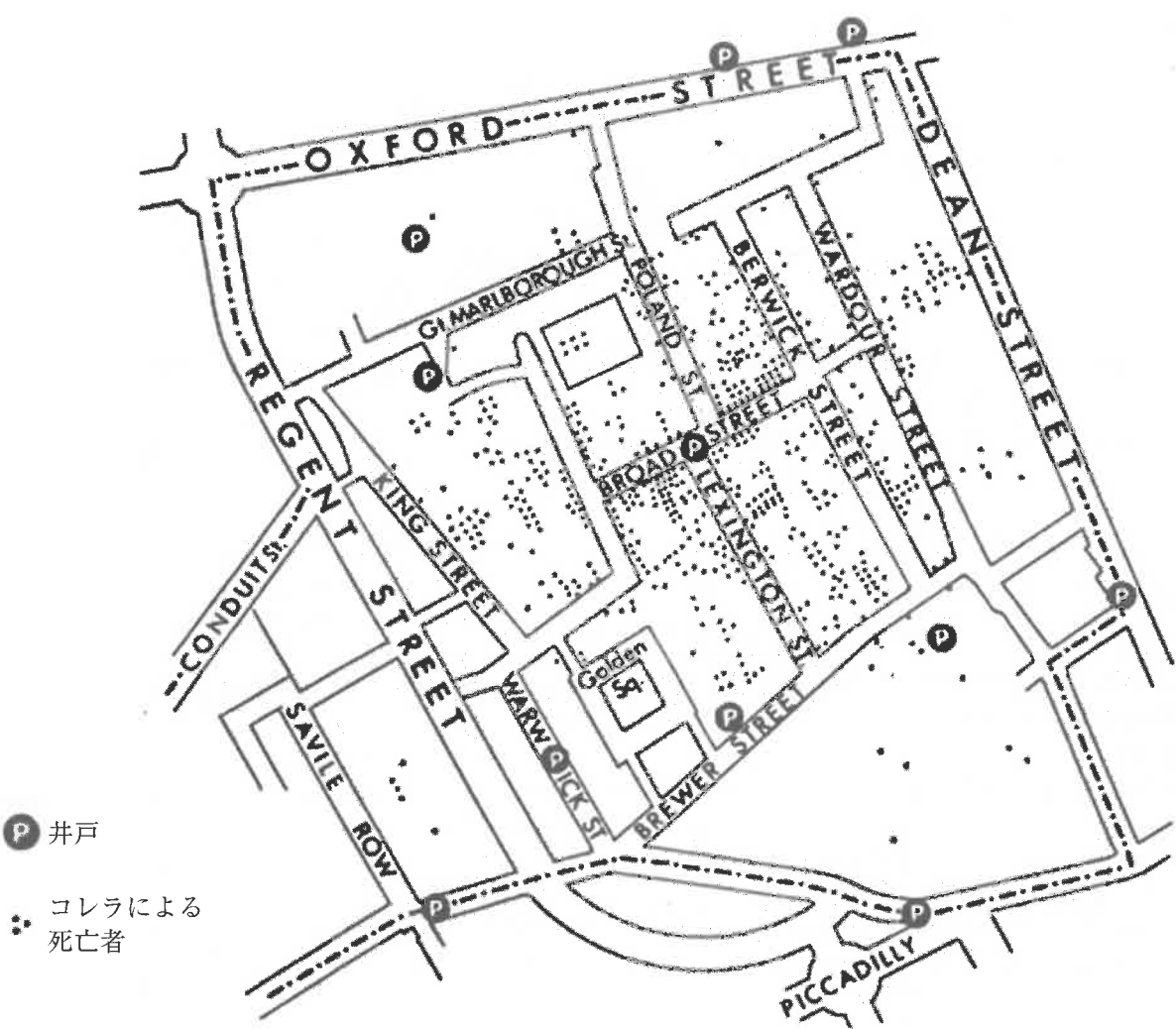
	A	B	C
ア	乳用牛	ぶた	にわとり
イ	乳用牛	にわとり	ぶた
ウ	ぶた	乳用牛	にわとり
エ	ぶた	にわとり	乳用牛
オ	にわとり	乳用牛	ぶた
カ	にわとり	ぶた	乳用牛

問 11 下線部 (11) について、2020 年の鶏卵の生産量は茨城県が最も多く、鹿児島県、千葉県、岡山県、島根県と続きます。次の文章は、鶏卵の生産量上位 5 位までのいずれかの県についてのべたものです。文章でのべた県として正しいものはどれですか。下から 1 つ選び、それぞれ記号で答えなさい。

- X：県の東部にある宍道湖を中心に、シジミの漁獲量は全国有数である。また、出雲市の荒神谷遺跡から発掘された銅剣は、1 つの遺跡から発掘された本数として日本で最も多い本数となっている。
Y：児島湾の干拓地は塩分が多い土壌のため、綿花栽培がさかんとなり、国産デニム（ジーンズ）の一大産地となった。また、降水量 1 mm 以下の日が日本で最も多いとされ、気候をいかして、果物の生産がさかんにおこなわれている。

ア. 茨城県 イ. 鹿児島県 ウ. 千葉県 エ. 岡山県 オ. 島根県

問 12 下線部 (12) について、伝染病が流行すると、その病気がどのような形で伝染していくかを解明することが求められます。次の地図は、1854 年にイギリスのロンドンでコレラが流行したときの感染の状況をあらわした地図のひとつです。コレラの感染は、空気感染によって拡大すると考えられていましたが、この地図によって、その考えを改めていくことになりました。この地図から、コレラはどのように感染していくと考えることができますか。また、今後の感染拡大を防ぐためにどのような方策をすればよいと考えられますか。次から 1 つ選び、記号で答えなさい。



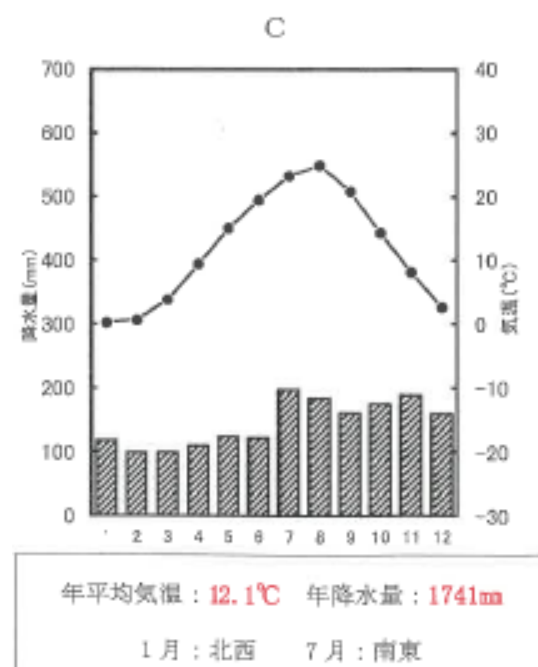
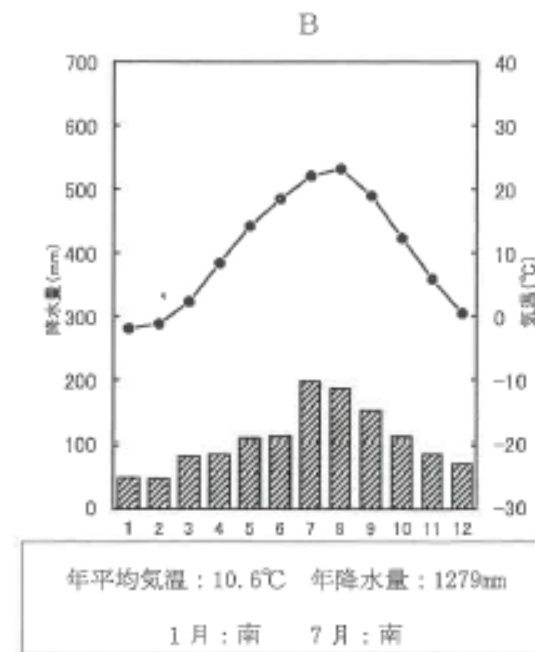
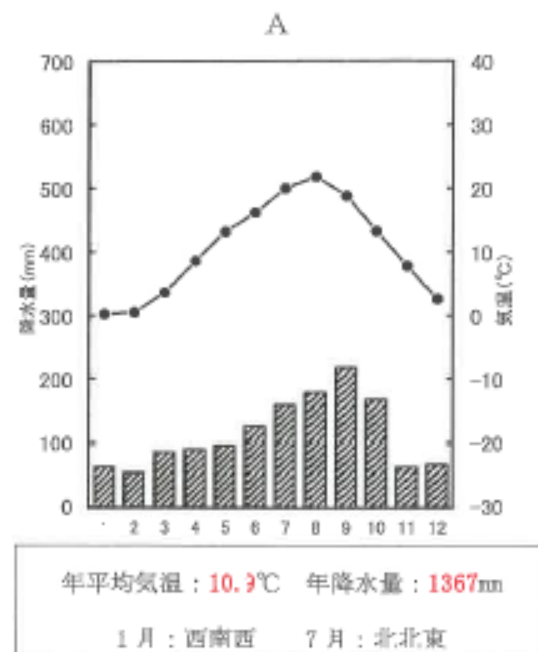
MapLab : Cartography Is Contagious ホームページより作成

- ア. 大雨が降ったあと、排水溝からあふれた泥が乾いて舞い上がり、その中にふくまれていたコレラ菌を吸ってしまうことで感染が広がった。そのため、道路の舗装をおこなった。
- イ. コレラ菌に汚染された下水が、生活用水に使う井戸へ流れ込んでしまっていることに気が付かず、井戸の水を飲んでしまったことで感染が広がった。そのため、汚染された井戸を使用できないようにした。
- ウ. 下水道に生息しているネズミが各家に侵入したときにコレラ菌が運ばれ、汚染された食べ物を食べてしまうことで感染が広がった。そのため、下水道の使用を禁止して、汚水をすべて川に流した。
- エ. コレラ患者を刺した蚊が、別の人を刺すことで感染が広がった。そのため、蚊の発生防止のため水たまりができないようにした。

問13 下線部 (13) について、あとの問いに答えなさい。

(1) 東北地方の太平洋側には夏の時期に、海側から冷たく湿った風が吹くことがあります。この風を何といいますか。答えなさい。

(2) 次の3つの雨温図は、秋田県秋田市、岩手県盛岡市、岩手県宮古市のいずれかのものです。また、雨温図の下には、1月と7月の最も多い風向をしめしています。雨温図の地点として正しい組み合わせはどれですか。次のページから1つ選び、記号で答えなさい。



気象庁ホームページより作成

	A	B	C
ア	宮古市	盛岡市	秋田市
イ	宮古市	秋田市	盛岡市
ウ	盛岡市	秋田市	宮古市
エ	盛岡市	宮古市	秋田市
オ	秋田市	盛岡市	宮古市
カ	秋田市	宮古市	盛岡市

問14 下線部 (14) について、あとの問いに答えなさい。

(1) 地方議会が制定し、その地方公共団体だけで使われる決まりのことを何といいますか。漢字で答えなさい。

(2) 地方議会の議員や首長が、住民投票によりその職を解かれることがあります。これを何といいますか。答えなさい。

問15 下線部 (15) について、本州と橋でつながっていない場所の組み合わせとして正しいものはどれですか。次から1つ選び、記号で答えなさい。

- ア. 青森県と北海道 イ. 兵庫県と徳島県
ウ. 広島県と愛媛県 エ. 山口県と福岡県

問16 下線部 (16) について、宮崎県南部の都井岬には野生の馬が生息しています。宮崎県に接している県のうち最も南に位置する県を説明した文として正しいものはどれですか。次から1つ選び、記号で答えなさい。

- ア. 県南部を中心に日向夏という品種のみかんの生産がさかんにおこなわれている。
イ. 県南部を中心に、火山灰土が広く分布し、農業生産に大きな影響をもたらしている。
ウ. 県北部には、全国有数の温泉地である別府温泉があり、多くの観光客を集めている。
エ. 県中央部にある阿蘇山は、現在も活発な火山活動がある山で、過去の火山活動でカルデラ地形が大規模に形成されている。

問17 下線部 (17) について、関東大震災をはじめとして日本は大きな地震に見舞われることが多くあります。地震には地球の大きな岩盤であるプレートの境界で発生するものも多く存在しています。プレートの境界が海底にあるとき、その一帯が深くなっている場所の海底地形を何といいますか。漢字で答えなさい。

問 18 下線部 **(18)** について、1940 年前後は日本は戦争中でした。戦争に関するできごとを古いものから並べて記号で答えなさい。

- ア. 国家総動員法が施行された。
- イ. 柳条湖事件がおこった。
- ウ. 日本がハワイの真珠湾へ奇襲攻撃をおこなった。
- エ. 沖縄戦がはじまった。

(試験問題は次ページに続きます。)

2 次の文章を読んで、あとの問いに答えなさい。

人間が集団生活を営む上で土木技術は欠かせません。(1) 日本の国土を築き上げた土木技術はどのように発展してきたのでしょうか。

(2) 古墳時代、支配者は権力の象徴をつくるため大規模な土木事業をおこないました。仁徳天皇のお墓とされる大山（大仙陵）古墳などがその典型です。古墳をつくるための土木事業をおこなうには、(3) 労働力以外にも巨大な石や大量の土を運ぶ技術、工具の発達、工事技術の高度化が必要でした。こうした技術の多くは(4) 中国や朝鮮半島からの渡来人から学びました。

飛鳥時代から(5) 奈良時代にかけて律令国家が成立すると、平城京や平安京の都市計画、奈良の大仏建立など、土木事業の中心は首都の建設と(6) 寺院建設になりました。この時、土木事業の中心にいたのは僧侶です。行基は民間の人に対して布教活動をおこなうことに加えて、近畿地方に多くの道路・橋・池をつくり、人々の生活を助けました。

(7) 平安時代、空海は留学僧として中国に渡り、仏教以外に工学や医学も学びました。帰国した後は学んだことを活用し、たくさんの土木事業をおこないました。香川県の満濃池が決壊した時には、多くの農民の協力を得て、修理を成功させました。

(8) 戦国時代、土木技術は治水や城を築くことを中心に発展しました。戦国大名は戦いに勝つだけでなく、領地を開発し、人々の生活を安定させることが必要だったからです。日本は(9) 河川が多く、洪水被害をうけることが多いため、戦国大名の多くは治水対策に力をそそぎました。

(10) 江戸時代、徳川家康は江戸城下町を安定させるため、運輸・防衛・水道などの基本方針を定めました。3代将軍家光による鎖国以降は、内陸水運・港の修築・新田開発など多くの種類の土木事業を大規模に実施しました。結果、江戸時代に国土の(11) 農地利用が拡大し、産業や生活の土台も充実しました。

(12) 明治時代になると、政府は鎖国時代の科学技術の遅れを取り戻すために、ヨーロッパの科学技術を積極的に導入しました。世界各地から(13) 外国人技術者を雇い、日本からも留学生を積極的に送りだしました。先進国の土木技術を熱心に学んだ技術者が中心となって国土開発を進め、(14) 鉄道・トンネルをはじめ日本の土木事業は国内技術者のみでおこなうことができるようになりました。

日本の土木技術は、古代においては大陸からの先進技術、明治維新以後はヨーロッパやアメリカの技術を熱心に取り入れることで発達してきました。日本の風土に適応させ、民衆の生活に役立つよう努力を重ねたことで私たちが暮らしやすい社会の土台ができています。

問1 下線部（1）について、日本の国会や裁判所に関するあとの問いに答えなさい。

(1) 国会の仕事についてのべた文としてまちがっているものはどれですか。次から1つ選び、記号で答えなさい。

- ア. 法律を制定する。
- イ. 内閣総理大臣を指名する。
- ウ. 予算を議決する。
- エ. 外国との条約を結ぶ。

(2) 国民が直接投票することによって、最高裁判所の裁判官を辞めさせることができる制度を何とといいますか。答えなさい。

問2 下線部（2）について、古墳時代になってはじめて朝鮮半島からもたらされたものとしてまちがっているものはどれですか。次から1つ選び、記号で答えなさい。

- ア. 銅鐸
- イ. 仏教
- ウ. 儒教
- エ. 須恵器

問3 下線部（3）について、日本には労働者を守るさまざまな法律があります。これらの法律のなかで、労働時間や賃金の支払いなど、労働条件の最低基準を定めた法律を何とといいますか。次から1つ選び、記号で答えなさい。

- ア. 労働組合法
- イ. 最低賃金法
- ウ. 労働関係調整法
- エ. 労働基準法

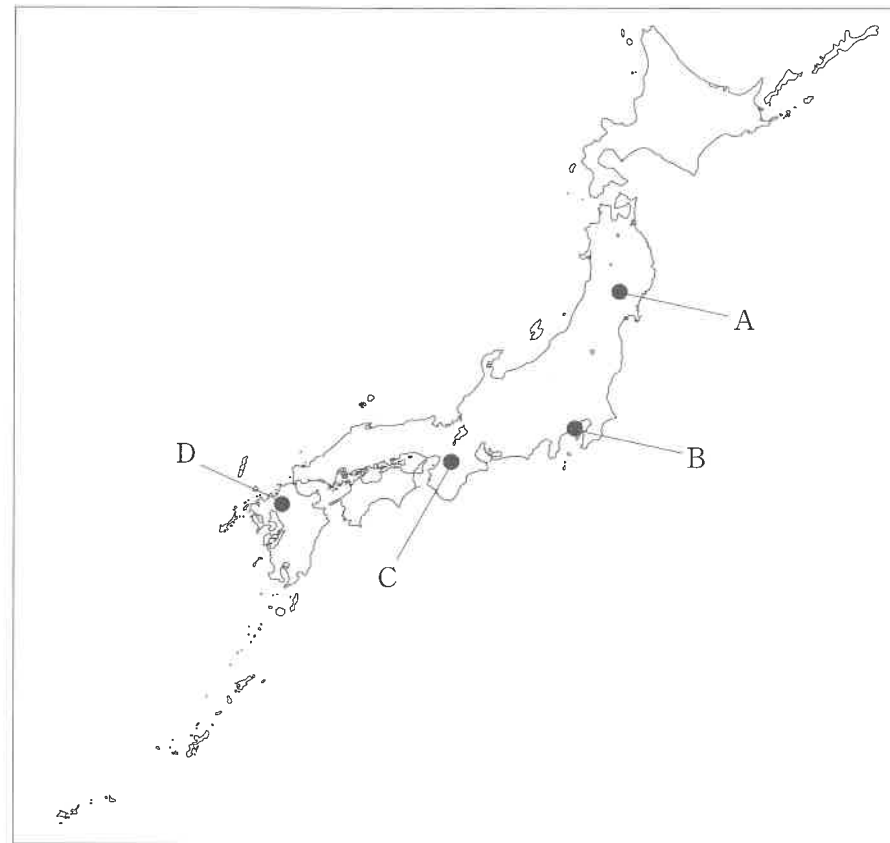
問4 下線部（4）について、中国と深い関係をもつ古代の歴史や文化について、年代の古いものから並べたものとして正しいものはどれですか。下から1つ選び、記号で答えなさい。

- X：平城京を中心に、中国文化の影響を受けた国際色豊かな文化が形成された。
Y：摂関政治の時期を中心に、日本の風土にあうように工夫した文化が形成された。
Z：天武天皇、持統天皇の時期に王族や貴族を中心とした仏教文化が形成された。

- ア. X→Y→Z
- イ. Z→X→Y
- ウ. Y→X→Z
- エ. X→Z→Y

問5 下線部（5）について、奈良時代、仏教の力で国家を守るため東大寺の大仏をつくることを命じた天皇は誰ですか。漢字で答えなさい。

問6 下線部(6)について、地図の場所とその場所にある寺院の説明としてまちがっているものはどれですか。下から1つ選び、記号で答えなさい。



- ア. Aの地には、奥州藤原氏によって中尊寺金色堂が建てられた。
- イ. Bの地には、北条時宗によって円覚寺が建てられた。
- ウ. Cの地には、鑑真によって唐招提寺が建てられた。
- エ. Dの地には、藤原頼通によって平等院鳳凰堂が建てられた。

問7 下線部(7)について、平安時代に関する次の文章を読み、あとの問いに答えなさい。

上皇の住まいが院とよばれていたことから、上皇による政治を院政といいます。院政は(X)が位をゆずって上皇となった後も政治をおこなったことにはじまります。(X)の孫である鳥羽天皇や鳥羽天皇の子である後白河天皇も、それぞれ上皇として院政をおこないました。

(1) 空らんにあてはまる天皇の名前として正しいものはどれですか。次から1つ選び、記号で答えなさい。

- ア. 醍醐天皇 イ. 天武天皇 ウ. 白河天皇 エ. 桓武天皇

(2) 下線部に関して、後白河天皇が平清盛などを従えて、上皇らの軍をやぶった戦いを何といいますか。答えなさい。

問8 下線部(8)について、戦国時代、種子島に鉄砲が伝来しました。この時のようすを記録した『鉄砲記』を読むと、種子島に漂着した「ひとつの大船」は、「中国船」とも「ポルトガル船」とも読み取ることができ、今なお結論が出ていません。あなたはどちらだと考えますか。どこの船かに○をつけ、判断した根拠をしめして説明しなさい。なお、史料文は読みやすいように現代語訳しています。

天文十二(1543)年秋八月二十五日、我が種子島の島内の小浦にひとつの大船があらわれた。船客は百人余りいて、その姿は日本人と容貌・風貌が似ておらず、言葉は通じない。その中に、中国の者が一人、名は五峯(※倭寇のリーダー)といい、正式な名はわからない者もいた。

※倭寇：13世紀から16世紀にかけて東アジアの色々な地域で活動した海賊のこと

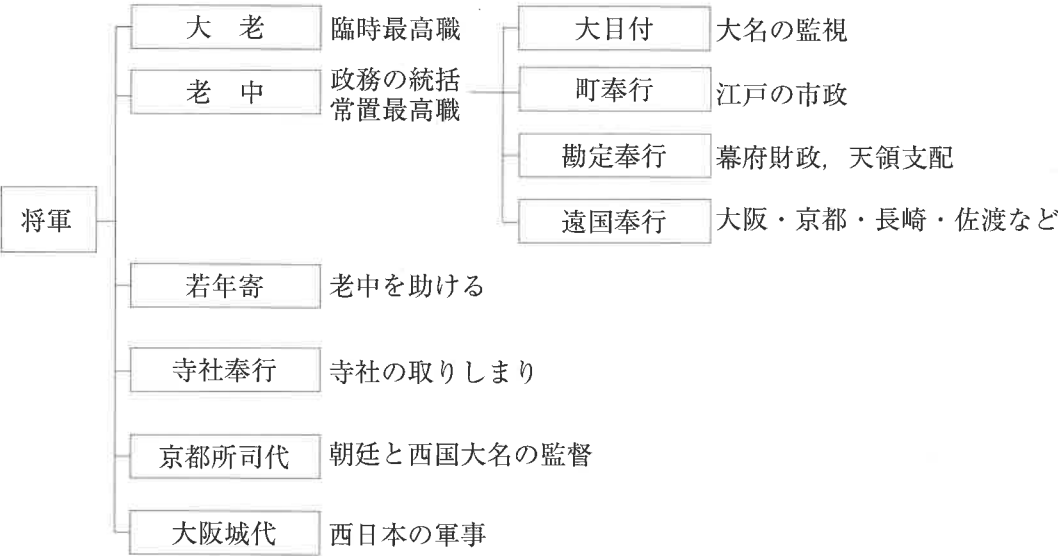
問9 下線部(9)について、河川が形成する三角州についてのべた文として正しいものはどれですか。次から1つ選び、記号で答えなさい。

- ア. 水はけがよく、果樹園などとして利用されるところが多い。
- イ. 水はけがよく、畑作などがさかんにおこなわれている。
- ウ. 川が山間部から平野や盆地にでたところに、土砂がたまりつくられる。
- エ. 河口部に、川が運んだ細かい土砂がたまってつくられる。

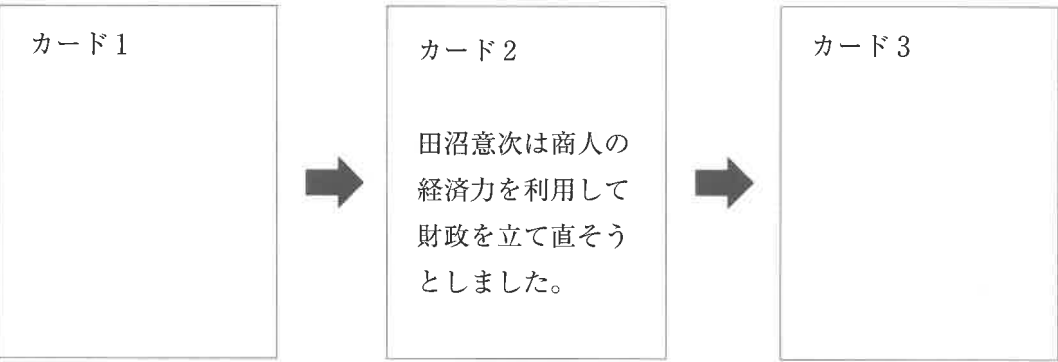
問 10 下線部 (10) について、あとの問いに答えなさい。

(1) 江戸幕府の政治は、老中を中心にさまざまな役職がおかれて、おこなわれていました。そして多くの役職の定員が複数で、1 か月交代で仕事をおこなうことになっていました。幕府が役職の定員を複数にし、1 か月交代にした目的を説明しなさい。

〈参考〉



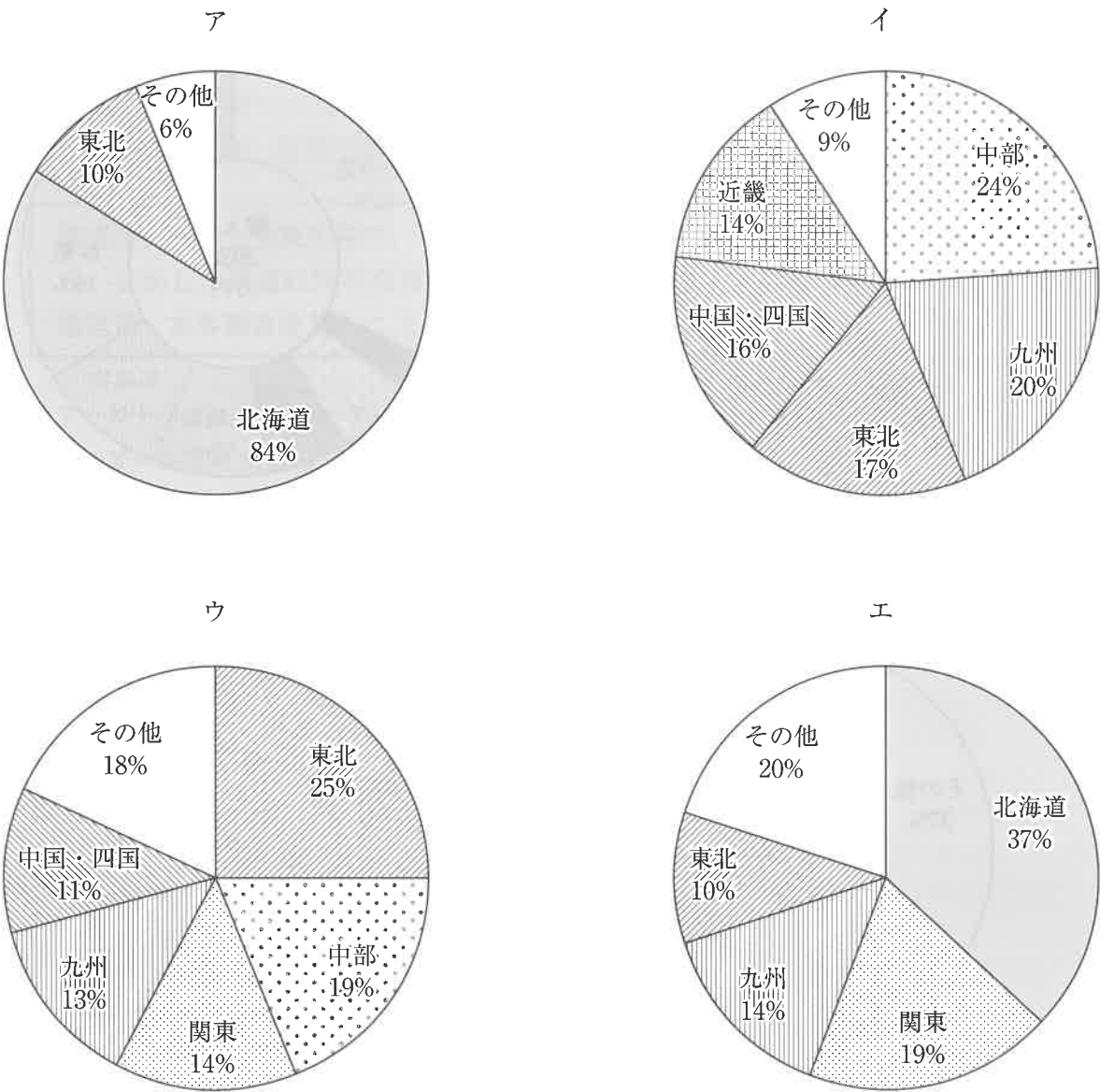
(2) 次の 3 枚のカードは江戸幕府の政治について、ある生徒が時代順にまとめたものです。カード 1 とカード 3 にあてはまる文の組み合わせとして正しいものはどれですか。下から 1 つ選び、記号で答えなさい。



- a. 徳川吉宗は、米を納めさせるかわりに参勤交代をゆるめる上米の制をおこないました。
- b. 新井白石は、オランダと中国（清）に限定して貿易を拡大し、財政を安定させようとした。
- c. 松平定信は、幕府の学校で朱子学以外の講義もおこなうよう指示をしました。
- d. 水野忠邦は、年貢を確保するため江戸に出ていた百姓を強制的に村に返しました。

ア. カード 1—a カード 3—c イ. カード 1—a カード 3—d
ウ. カード 1—b カード 3—c エ. カード 1—b カード 3—d

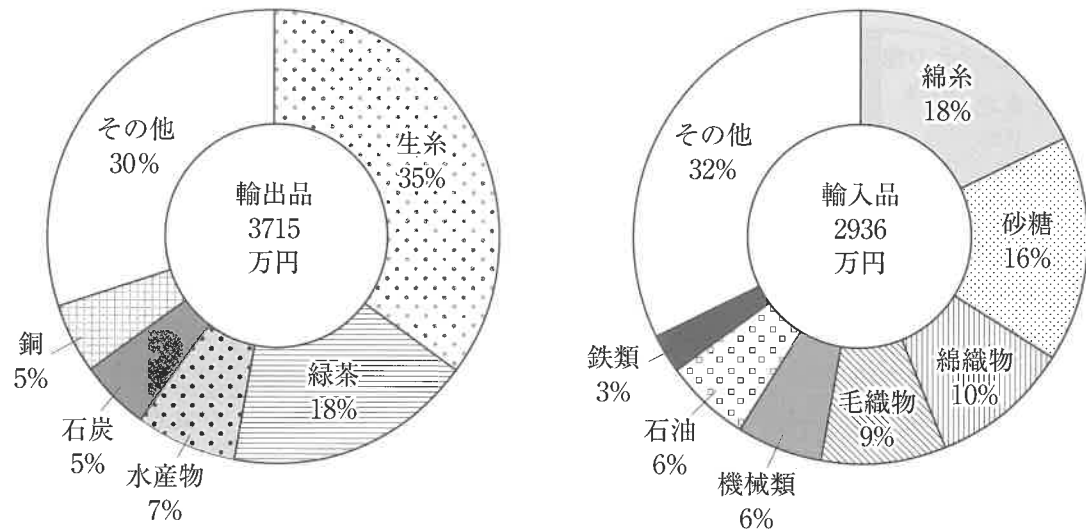
問 11 下線部 (11) について、次のグラフは、田、畑、樹園地（畑のうち果樹を栽培している農地）、牧草地のいずれかについて、それぞれの農地全体の面積に占める各地方の割合をまとめたものです。田にあたるものはどれですか。次から 1 つ選び、記号で答えなさい。



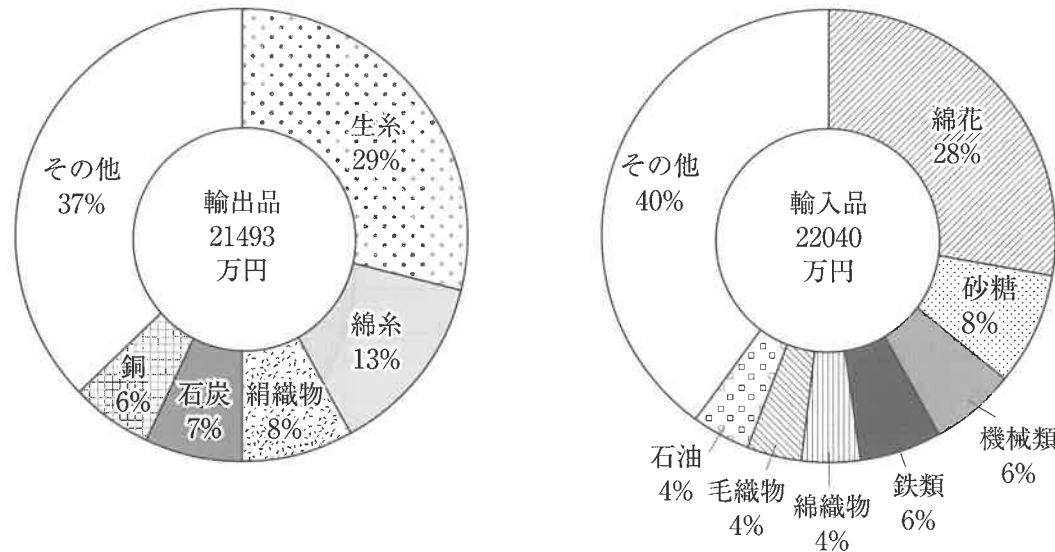
「データでみる県勢 2021 年版」より作成

問 12 下線部 (12) について、次の資料は 1885 年と 1899 年の輸出入品割合を品目別にしめたものです。これらの資料についてのべた文の組み合わせとして正しいものはどれですか。下から 1 つ選び、記号で答えなさい。

資料 I 1885 年の輸出入品のグラフ



資料 II 1899 年の輸出入品のグラフ



『日本貿易精覧』より作成

X: 資料 I の時期は、綿糸はまだ輸入に頼っており、日本の紡績業が未発達であることがわかる
Y: 資料 II の時期は、輸出品の中で綿糸の割合が高くなっている一方で、その原料は輸入に頼っていることがわかる

- ア. X—正しい Y—正しい イ. X—正しい Y—まちがい
ウ. X—まちがい Y—正しい エ. X—まちがい Y—まちがい

問 13 下線部 (13) について、ある生徒が観光に来ていた外国人への取材をおこなったところ、「交番」を「KOBAN」とするなど、外国人にとって何を意味するかわかりにくい表記があることに気がつきました。日本に滞在する外国人をふくめすべての人にとって使いやすいような製品・施設などのデザインを何とといいますか。カタカナで答えなさい。

問 14 下線部 (14) について、次の文章はアジア・太平洋戦争後の日本の鉄道の発展と現状をまとめたものです。文章中の空らんにあてはまる語句の組み合わせとして正しいものはどれですか。下から 1 つ選び、記号で答えなさい。

鉄道は、戦後も発展を続け、(X) の時期には東京と大阪を結ぶ新幹線が開通しました。しかし、鉄道以外の交通機関の発達も目覚ましく、1990 年代に入ってから貨物輸送量・旅客輸送量ともに (Y) が第 1 位になっています。

- ア. X—バブル景気 Y—自動車 イ. X—バブル景気 Y—航空機
ウ. X—高度経済成長 Y—自動車 エ. X—高度経済成長 Y—航空機

1

問1		問2	(1)									
問2	(2)											
問3		問4			問5		問6					
問7		問8		問9		問10		問11	X		Y	
問12		問13	(1)					(2)				
問14	(1)					(2)					問15	
問16		問17					問18	→ → →				

2

問1	(1)		(2)					問2		問3		問4	
問5					問6		問7	(1)	(2)				
問8	どこの船か	中国船 ・ ポルトガル船											
問9													
問10	(1)												
	(2)												
問11		問12		問13					問14				

↓ここにシールを貼ってください↓



202313

受験番号

ふりがな

氏 名