

(注意) 解答はすべて解答用紙に記入しなさい。解答用紙のみ提出しなさい。

1 2023年になって、日本の牛乳生産状況が厳しいというニュースが何度も報道された。報道によれば、ロシアによるウクライナ侵攻や円安など、国際情勢によって輸入飼料の価格が高くなったことでコストが増加したのが主な原因とされている。牛乳は畜産の一種である酪農によって生産される。酪農とは乳牛を飼育し、生乳だけでなく、それを加工してバター・チーズ・<sup>だっしよんにゅう</sup>脱脂粉乳などを生産する農業の一種である。現在、日本には13,000戸ほどの酪農家があり、一農家当たり平均100頭を超える飼育頭数となり大規模化している。酪農や稲作、貿易に関する以下の問いに答えなさい。

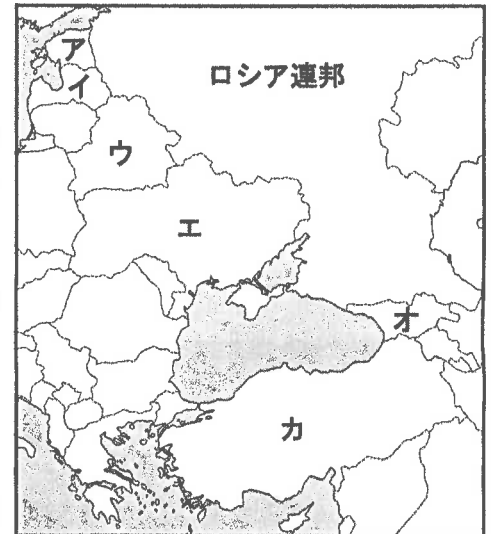
(1)本文中の下線部について、次の各問いに答えよ。

①日本の乳牛の飼料は牧場の草だけではなく、トウモロコシなどの穀物が入った配合飼料も利用している。日本の酪農で配合飼料を多く利用している理由について述べた文A・Bについて、それぞれの文の正誤の組合せとして正しいものをア～エから1つ選び、記号で答えよ。

- A. 特に都府県では、大規模化に対応して牧草地を広げるための土地の余裕がないから。
- B. 配合飼料は、海外産のトウモロコシが入っており、栄養価が高い牧草よりも価格が安いから。

- ア. A-正 B-正      イ. A-正 B-誤
- ウ. A-誤 B-正      エ. A-誤 B-誤

②ロシアによるウクライナ侵攻により世界の穀物市場が混乱し、穀物の価格が上がったことで酪農の経営を圧迫するようになったとされる。右の地図中、ウクライナの位置として正しいものをア～カから1つ選び、記号で答えよ。



③ウクライナの首都キーウ(キエフ)はおよそ北緯50度の近くに位置している。北緯50度に最も近い都市・地域をア～エから1つ選び、記号で答えよ。

- ア. サハリン中央部      イ. 札幌市      ウ. 稚内市      エ. 青森市

(2)右の表は、都道府県別の生乳生産の統計(2021年)のうち上位8位までを示しているこの統計を参考に、酪農について述べた文A～Cについて、それぞれの文の正誤の組合せとして正しいものをア～クから1つ選び、記号で答えよ。

- A. 乳牛は夏の暑さに弱いため、気候に恵まれた北海道の生産量が圧倒的に多い。
- B. 生乳は鮮度が求められるため、大市場から遠い北海道では、バター・チーズなどの加工製品の割合が高い。
- C. 北海道以外の都府県では、市場からの近さを活用し、大都市近郊の平野部を中心に酪農が行われている。

	ア	イ	ウ	エ	オ	カ	キ	ク
A	正	正	正	正	誤	誤	誤	誤
B	正	正	誤	誤	正	正	誤	誤
C	正	誤	正	誤	正	誤	正	誤

表 都道府県別生乳生産(単位:万t)

都道府県名	生産量
北海道	426.6
栃木	34.8
熊本	26.7
岩手	21.2
群馬	20.8
千葉	19.3
茨城	17.5
愛知	15.4
…全国	759.2

『日本国勢図会』(2023/24)より作成

(3)北海道東部は夏も寒冷な地域で穀物栽培に向かないため、大規模な酪農がおこなわれてきた歴史をもつ。このように北海道東部の気候や農業に影響を与える海流名を答えよ。

(4)乳製品加工メーカーでは、製品の製造履歴<sup>りれき</sup>や物流記録などの情報を保存し、もしも安全性に問題が生じたときにはこれらの情報をさかのぼることができるしくみを整えている企業がある。このような食品の安全性を高めるしくみを何とよぶか、カタカナで答えよ。

(5)日本の農業総産出額8兆8384億円(2021年)を作物別にみた場合、最も割合が高いのは畜産物であり、かつて4割を超えていた米は現在15.5%にまで落ち込んでいる。次の文のうち誤っているものをア～エから1つ選び、記号で答えよ。

- ア. 第二次世界大戦後の食生活の欧米化・多様化にともない米の需要が減り、一人当たりの消費量も減少している。
- イ. 政府が生産量を調整してきた減反政策は2018年に廃止され、農家は自らの判断で米づくりができるようになった。
- ウ. 政府はブランド米を含めた米の輸出拡大を戦略として進めている。米だけでなくパックご飯や米粉も対象である。
- エ. 政府は国際的な合意に基づき米の輸入を行っており、外食産業などに安い価格で販売している。

(注意) 解答はすべて解答用紙に記入しなさい。解答用紙のみ提出しなさい。

(6)下の表は、2021年における日本との貿易品目及び貿易金額を示しており、ア～エはそれぞれ日本周辺に位置する台湾・韓国・中国・ロシアのいずれかを示している。このうち、中国とロシアに当てはまるものをア～エからそれぞれ選び、記号で答えよ。

ア	
日本からの輸出	日本の輸入
機械類 44.6%	機械類 49.0%
プラスチック 6.1%	衣類 7.8%
自動車 5.2%	金属製品 3.6%
科学光学機器 3.9%	織物類 2.6%
自動車部品 3.8%	家具 2.6%
鉄鋼 3.5%	有機化合物 2.3%
17兆9844億円	20兆3818億円

イ	
日本からの輸出	日本の輸入
機械類 37.0%	機械類 25.4%
鉄鋼 8.7%	石油製品 14.9%
プラスチック 5.9%	鉄鋼 10.0%
有機化合物 5.4%	有機化合物 4.4%
科学光学機器 4.2%	プラスチック 4.2%
石油製品 3.4%	銀 4.1%
5兆7696億円	3兆5213億円

ウ	
日本からの輸出	日本の輸入
機械類 46.5%	機械類 59.0%
プラスチック 5.2%	プラスチック 4.2%
自動車 4.7%	鉄鋼 2.7%
鉄鋼 4.0%	金属製品 2.3%
科学光学機器 3.2%	科学光学機器 2.1%
有機化合物 3.1%	有機化合物 1.4%
5兆9881億円	3兆6782億円

エ	
日本からの輸出	日本の輸入
自動車 41.5%	液化天然ガス 23.9%
機械類 27.0%	石炭 18.5%
自動車部品 11.6%	原油 16.6%
タイヤ・チューブ 4.7%	白金族 9.9%
金属製品 1.4%	魚介類 8.9%
	アルミニウム 8.7%
8623億円	1兆5516億円

『日本国勢図会』(2023/24)より作成

2 日本の工業や物流について、以下の問いに答えなさい。

(1)自動車の生産について述べた文のうち、正しいものをア～エから1つ選び記号で答えよ。

ア. 約3万点の部品を製造する関連工場の多くが、最終組み立てを行うメーカーと対等な関係にあり、組み立て工場だけでなく関連工場も同じ敷地内に立地している。

イ. 人の手による細かな部品の組み立て以外の工程は、大部分が産業用ロボットによる作業となっている。その作業は、鋼板のプレス、部品の溶接、塗装などである。

ウ. 完成した自動車のうち、国内で販売されるものの多くがキャリアカーにより運ばれているが、大消費地である関東や関西方面へはフェリーで運ばれることが多い。

エ. 自動車を組み立てる労働力として、日系の外国人を雇用する傾向がある。そのため、東京都の大田区や茨城県の日立市などでは人口に占める外国人の割合が高い。

(2)日本の自動車メーカーは、海外での生産比率が非常に高い。海外で生産を行う利点について述べた次の文中の空らんア・イに当てはまる語をそれぞれ答えよ。なお、イはカタカナで答えること。

日本で生産して外国へ輸出すると、原則としてアにより販売価格が高くなってしまいうため、現地で生産して販売の方が利点がある。また、輸送費の削減だけでなく、輸送に関連する二酸化炭素の排出も抑えることができ、環境にやさしい。さらに、色々な国で異なる消費者のイを把握しやすい。

(3)次のア～エは、ツナの缶詰をつくる際の工程である。この工程を正しい順序に並び替えたとき、2番目と4番目になるものをそれぞれ選び、記号で答えよ。ただし、これ以前にマグロを解体して蒸しているものとする。

ア. 調味料を入れる    イ. 蒸気で殺菌する    ウ. ふたをして空気を抜く    エ. 骨などを取り除き缶に入れる

(4)廃棄物を削減する取り組みのうち、3Rとはリユース(再使用)・リデュース(ゴミ減量)・リサイクル(再利用)を指す。以下のア～オのうち、最もリサイクルに適さないものを1つ選び、記号で答えよ。

ア. パソコン    イ. ビールびん    ウ. 自動車の半導体部品    エ. ペットボトル    オ. 古紙

(5)新型コロナウイルス感染症まん延により、2019年から2020年にかけて日本における電子商取引の市場規模は縮小した。これはなぜか、解答らんに沿って10字以内で答えよ。

3 しょうゆの歴史について述べた次の文章を読み、あとの問いに答えなさい。

しょうゆのルーツといわれる「醬」が本格的につくられるようになったのは古墳時代が始まりとされる。藤原京や平城京より出土したa木簡の荷札にも「醬」の文字をみることができ、平安時代の宮廷料理では、塩・酢・酒とならぶ「四種器」とよばれる調味料の一つとなっていた。しかし、平安末期から鎌倉期にかけてb武士が台頭する争乱の時代のなかで都での醬づくりはあまり行われなくなり、大豆を塩漬にした食品が作られるようになり、これが現在のXのもととなった。

(注意) 解答はすべて解答用紙に記入しなさい。解答用紙のみ提出しなさい。

その後、「醬」の字が再び史料に登場するのは室町時代以降で、当時の **c** 用語辞典 や寺社日記に「醤油」や「正ユウ」という名で登場していることから、この頃には液状の調味料として定着していたことがうかがえる。

江戸時代をむかえると、戦乱のない社会を背景にしょうゆの産業化の動きが広がった。江戸初期、その産地はほとんどが上方にあり、江戸ではつくられず、大坂・堺・尼崎などから海運により運ばれた(下ってきた)「下りしょうゆ」が主となった。大坂を舞台にした **d** 『曾根崎心中』の主人公徳兵衛が、しょうゆ屋の手代であったことから、この頃の上方の町人にとって、しょうゆは身近な存在だったことがわかる。しかしこの「下りしょうゆ」は、そもそも上方の料理に合わせた品であり、醸造期間も短く濃厚さに欠けていた。上方が **e** 昆布出汁 の味を生かした淡白な味つけであるのに対して、江戸はカツオ節の出汁に砂糖を使った濃い味つけが主流となっていた。江戸っ子には出汁や砂糖に負けない「濃いくち」が求められて、18世紀に上方産とはまったく違う独自のしょうゆが生み出され、地場産業として発達した。

この「濃いくちしょうゆ」によって、今につづく江戸の食文化も花開くこととなった。1657年の明暦の大火のあと、復興をむかえた江戸市中では、**Y** で天ぷらやすしなど **f** 魚 を提供する商売も盛んとなり、しょうゆは江戸の人びとの身近な品となった。江戸後期になると、江戸近辺でつくられた「濃いくちしょうゆ」が「下りしょうゆ」の出荷数を上回るようになり、幕末のころまでには江戸市場を独占するまでとなった。

(1) 空らん **X** ・ **Y** にあてはまる語をそれぞれ答えよ。なお、表記はひらがなでもよいものとする。

(2) 下線部 **a** について、平城宮より出土した木簡には「備前国邑久郡尾奴郷年料醬五斗」と書かれてあった。この木簡は何について記録した荷札とみることができるか。具体的に漢字1字で答えよ。

(3) 下線部 **b** の時期に争乱によって被災した文化財として正しいものをア～エから1つ選び、記号で答えよ。

ア. 法隆寺金堂      イ. 東大寺大仏殿      ウ. 比叡山延暦寺      エ. 鹿苑寺金閣

(4) 下線部 **c** のような辞典の発達は、当時、京都の文化が地方へ広がり始めていたことと関係がある。このような広がりが見られるきっかけとなった歴史的な事件を答えよ。

(5) 下線部 **d** の作者を答えよ。

(6) 下線部 **e** の品は、当時、西まわり海路を通じて上方へ運ばれた代表的な北海道の産物である。何という船によって運ばれたか答えよ。

(7) 下線部 **f** に関して、青魚のうちでも腐りやすいイワシは、乾燥させて食用以外でも利用された。江戸時代には主に何として用いられたか答えよ。

**4** 次の文章を読み、以下の問いに答えなさい。

**a** 明治政府 は、欧米諸国に追いつき対等な関係を築くために、富国強兵を目指し、殖産興業を進めた。**b** 産業の発展 には輸送機関の発達が欠かせなかった。日本で初めての鉄道は1872(明治5)年に開通し、新橋と横浜を53分で結んだ。この鉄道は、世界に先駆けて産業革命が始まり、初めて鉄道を敷設した **Z** の援助を受けてつくられた。その後、1889(明治22)年には新橋と神戸が20時間5分で結ばれるなど、**c** 日本各地に鉄道網が整備されていった。

鉄道網は戦争にも活用された。日露戦争時には、物資や兵を戦場に送るために東海道線と山陽線の直行運転が行われ、輸送効率を上げた。**d** 第二次世界大戦 時には、インド侵攻のためにタイとミャンマーを結ぶ鉄道がつけられた。

(1) 空らん **Z** の国は、19世紀後半に他国と連合艦隊を組み、長州藩の砲台を占領したこともある。空らん **Z** にあてはまる国名を答えよ。

(2) 下線部 **a** に関連して、次の各問いに答えよ。

① 明治政府にとって国家財政の安定が重要課題のひとつであった。明治政府が国家の収入を安定させるために行った改革を答えよ。

② 大日本帝国憲法下の日本について記した文あ～うの正誤の組合せとして正しいものをア～クから1つ選び、記号で答えよ。

(注意) 解答はすべて解答用紙に記入しなさい。解答用紙のみ提出しなさい。

あ. 天皇は国の元首として国家を統治し、帝国議会の意見を聞きながら法律を定める権利をもっていた。

い. 帝国議会は、天皇が任命する議員などによる貴族院と、国民に選ばれた議員による衆議院とに分かれていた。

う. 国民には言論や著作、集会、結社の自由が認められていたが、法律により制限が可能であった。

	ア	イ	ウ	エ	オ	カ	キ	ク
あ	正	正	正	正	誤	誤	誤	誤
い	正	正	誤	誤	正	正	誤	誤
う	正	誤	正	誤	正	誤	正	誤

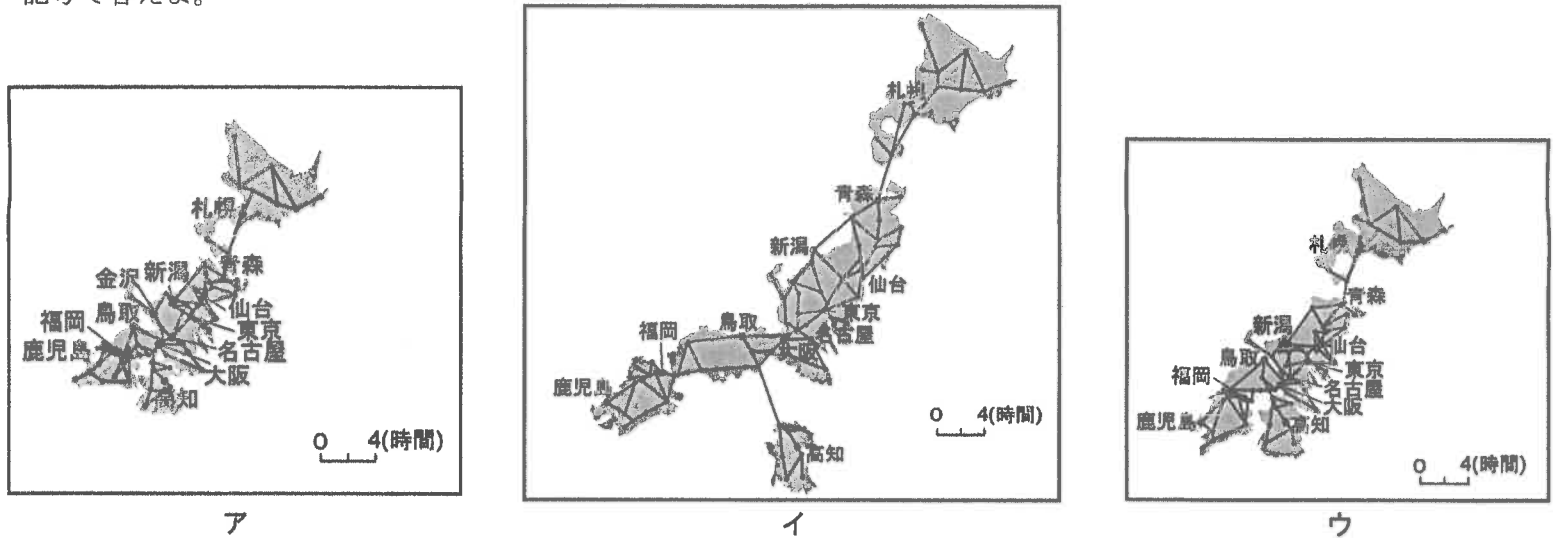
(3) 下線部 b に関連して述べた文あ・いの正誤の組合せとして正しいものをア～エから1つ選び、記号で答えよ。

あ 明治後期の女工たちによってうたわれた「工女節」に、「男軍人 女は工女 糸をひくのも国のため」という一節がある。この「糸を引くのも国のため」とは、繊維産業が国の産業発展などに役立っていたことを表す。

い 石川啄木(1886～1912)が「地図の上朝鮮国にくろぐろと墨をぬりつつ秋風を聴く」と詠んだのち、八幡製鉄所が開業し、中国の鉄鉱石と九州地方の石炭をつかって鉄鋼の国産化が進められた。

ア. あー正 いー正      イ. あー正 いー誤      ウ. あー誤 いー正      エ. あー誤 いー誤

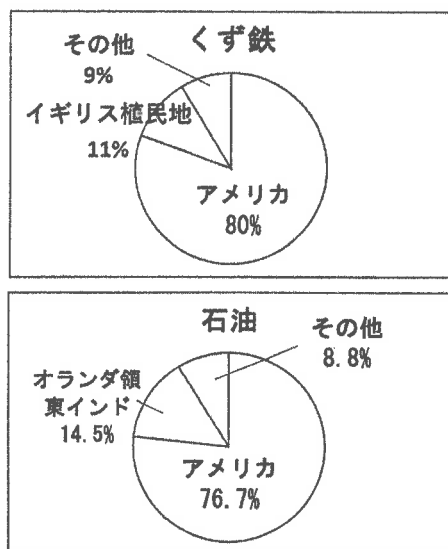
(4) 下線部 c について、次の地図ア～ウは、戦後のある年における2点間のへだたりを、何kmという空間距離ではなく、所要時間で表した距離をもとに変形した日本地図である。下の出来事①・②が起こった時期に最も近い地図をそれぞれ選び、記号で答えよ。



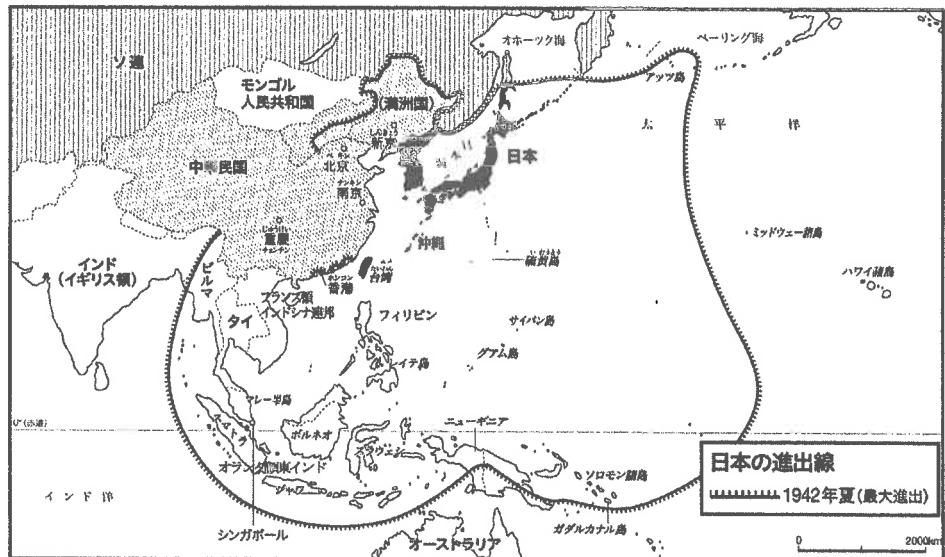
「日本を変えた新幹線 ～ビジュアルで振り返る半世紀」日本経済新聞より(一部改編)

- ①10月10日に東京オリンピックの開会式が開催された。
- ②3月11日に東北地方太平洋沖地震(東日本大震災)がおこった。

(5) 下線部 d について、次のグラフと地図をもとに、日本が勢力を拡張した目的を30字以内で簡潔に説明せよ。



物資の輸入先(1940年)



日本の進出線  
1942年夏(最大進出)

(注意) 解答はすべて解答用紙に記入しなさい。解答用紙のみ提出しなさい。

5 次の各問いに答えなさい。

(1) 地方公共団体の収入になる税金の組合せとして正しいものをア～キから1つ選び、記号で答えよ。

- a. 住んでいる人から集める税      b. 土地や建物にかかる税      c. 所在している会社から集める税  
 ア. a      イ. b      ウ. c      エ. a・b      オ. a・c      カ. b・c      キ. a・b・c

(2) 市町村議会と市町村長の関係を述べた文 a・b の正誤の組合せとして正しいものをア～エから1つ選び、記号で答えよ。

- a. 市町村長は議会を解散することができる。      b. 議会は市町村長の不信任を議決できない。  
 ア. a-正 b-正      イ. a-正 b-誤      ウ. a-誤 b-正      エ. a-誤 b-誤

(3) 国民は、国や地方公共団体に対して政治を監視したり改めたりすることを働きかけることができる。このことに関する説明として正しいものをア～エから1つ選び、記号で答えよ。

- ア. 国や地方公共団体の議員の解職、議会の解散、首長の解職を法律で定められた手続きによって直接請求できる。  
 イ. 国民は、地方公共団体の議会を傍聴<sup>ぼうちやう</sup>することができるが、国会は傍聴することはできない。  
 ウ. 災害や事故による損害の救済、法律の制定・廃止・改正などを法律に基づいて請願することができる。  
 エ. 国務大臣の解職を直接請求することはできるが、副知事・副市長などの解職を直接請求することはできない。

(4) 次のグラフ A・B は、第二次世界大戦後の衆議院・参議院議員選挙の投票率の推移を示したものである。このうち参議院議員通常選挙のグラフを記号で選び、その理由をグラフをもとに答えよ。



(5) 国会・選挙と内閣について述べたものとして正しいものをア～エから1つ選び、記号で答えよ。

- ア. 内閣に属する省庁のうち法務省が選挙を担当するのは、法律に従った公正な選挙を実施するためである。  
 イ. 国務大臣は多くが国会議員ではないので、国民は選挙で大臣としての資質を判断しにくい。  
 ウ. 内閣に属する省庁はすべて東京都内にあるので、地方の状況や課題に敏感でないと批判されている。  
 エ. 現在の内閣総理大臣は多くの場合、衆議院で多数を占める政党の代表が選ばれるので、国民の選挙での意思表示が大切である。

(6) 日本の選挙に関する法律では国政選挙の投票制度はどのようになっているか、このことについて述べたものとして正しいものをア～エから1つ選び、記号で答えよ。

- ア. 郵便による投票もできる。      イ. 旅行や行楽の場合、期日前に投票はできない。  
 ウ. 投票日の直前に転居した場合、投票はできない。      エ. インターネットを利用した投票もできる。

解答用紙

受験番号

中学社会

(注意) 解答はすべて解答用紙に記入しなさい。解答用紙のみ提出しなさい。

(この欄には解答しない)

1

(1)			(2)	(3)
①	②	③		

(4)	(5)	(6)	
		中国	ロシア

2

(1)	(2)		(3)		(4)
	ア	イ	2番目	4番目	

(5)									
が大幅に減少したから。									

3

(1)		(2)	(3)	(4)
X	Y			

(5)	(6)	(7)

4

(1)	(2)		(3)	(4)	
	①	②		①	②

(5)									

5

(1)	(2)	(3)	(4) 記号

(4) 理由		(5)	(6)

{ 中学・社会 } 訂正

全5枚中の5

15 (3) 選択肢イ

「傍聴すること<sup>は</sup>√<sub>2</sub>まるが、」