

(注意) 解答はすべて解答用紙に記入しなさい。解答用紙のみ提出しなさい。

1 農林水産省が5年ごとに発行する統計「農林業センサス」は、2005年統計から調査対象を大きく変更した。かつて、農業の労働力の統計は「農家」を単位としてきたが、2005年以降、個人と団体を合わせた「農業経営体」を農業の担い手としてとらえるようになってきている。表1は農業経営体と農家数・経営耕地面積の推移を示している。以下の問いに答えなさい。

表1 農業経営体と農家数・経営耕地面積の推移

	2005年	2010年	2015年	2020年
農業経営体(単位:千経営体)	2009	1679	1377	1076
個人経営体	...	1644	1340	1037
団体経営体	...	36	37	38
経営耕地面積(単位:千ha)	3693	3632	3451	3233
1経営体当たり(単位:ha)	1.9	2.2	2.5	3.1
北海道	20.1	23.5	26.5	30.2
都府県	1.4	1.6	1.8	2.2
総農家数(単位:千戸)	2348	2528	2155	1747
農業従事者数(単位:千人)	5562	4536	3399	2494

※2005年統計では「個人経営体」「団体経営体」の統計は無し。

※農業経営体:経営耕地面積30アール以上または販売金額50万円以上に相当する規模以上の農業を営む者、または農作業委託サービスを行っている者

経営耕地:農業経営体が経営している耕地(自作地と借入耕地の合計)

総農家:自家消費も含めて農業を行うすべての世帯

農業従事者:年間1日以上自営農業に従事した世帯員

『日本国勢図会』(2022/23)より作成

(1)表1の統計から読み取ることができることについて、誤っているものをア～エから1つ選び、記号で答えよ。全て正しい場合はオと答えよ。

- ア. 総農家数・農業従事者の数値から、農業にたずさわる人口は減少傾向にある。働く世代が都市へと流出したことで農村の過疎化が進んだことが原因のひとつである。
- イ. 団体経営体は継続的に増加している。家族単位で行う個人経営体に比べて従業員の確保や経営の多角化が行いやすいのがその要因である。
- ウ. 農業を営む人々の高齢化が進んだことから耕作放棄地が増加しており、経営耕地面積は減少を続けている。
- エ. 農地の集約化が進み、広い耕地を利用する農業経営体が増えていることから、1経営体当たりの経営耕地面積は、北海道および都府県のいずれも増加傾向にある。

(2)2005年の農林業センサスから農業経営体という統計単位に切り替えた理由は何だと考えられるか。その考えられる理由を「兼業農家」の語を必ず用いて2行で答えよ。

(3)農林業を行う上で、水資源は大変重要となる。日本の水資源利用に関する文について、次の各問いに答えよ。

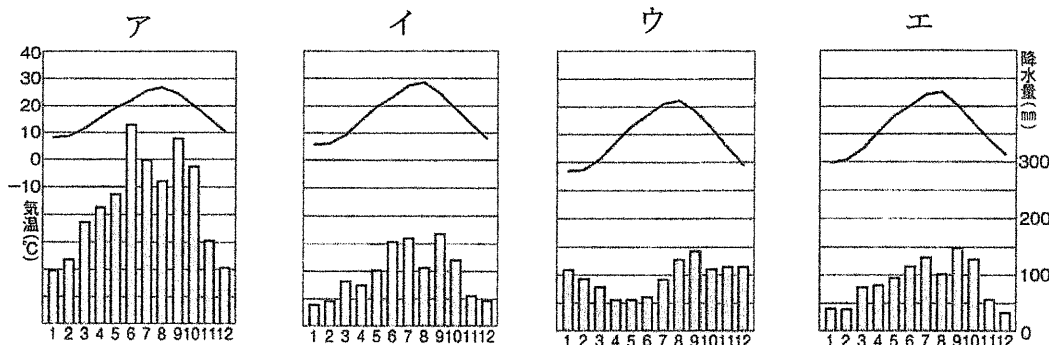
「日本は世界的に見ると降水量が多い国であるが、有効な水資源は少ない。その理由は、山地・丘陵地が国土の( A )を占め、日本列島を流れる川は傾斜が急で、( B )が狭いという特徴を持つためである。日本列島には約800ヶ所の多目的ダムと約1900ヶ所の農業用水・水道用水・工業用水に関する専用ダムが建設されているが、日本列島に吹き付ける( C )による降水量の変化が、増水による洪水被害や水不足による渇水をもたらすこともある。」

①文中の空らん( A )に当てはまる数値をア～エから1つ選び、記号で答えよ。

- ア. 52.8%    イ. 62.8%    ウ. 72.8%    エ. 82.8%

②文中の空らん( B )・( C )に当てはまる語を答えよ。なお、( B )は4字、( C )は3字である。

③文中の下線部「降水量の変化」について、以下の雨温図ア～エは札幌・潮岬・高松・松本のいずれかを示している。このうち、松本と潮岬に当てはまるものをア～エから1つずつ選び、記号で答えよ。

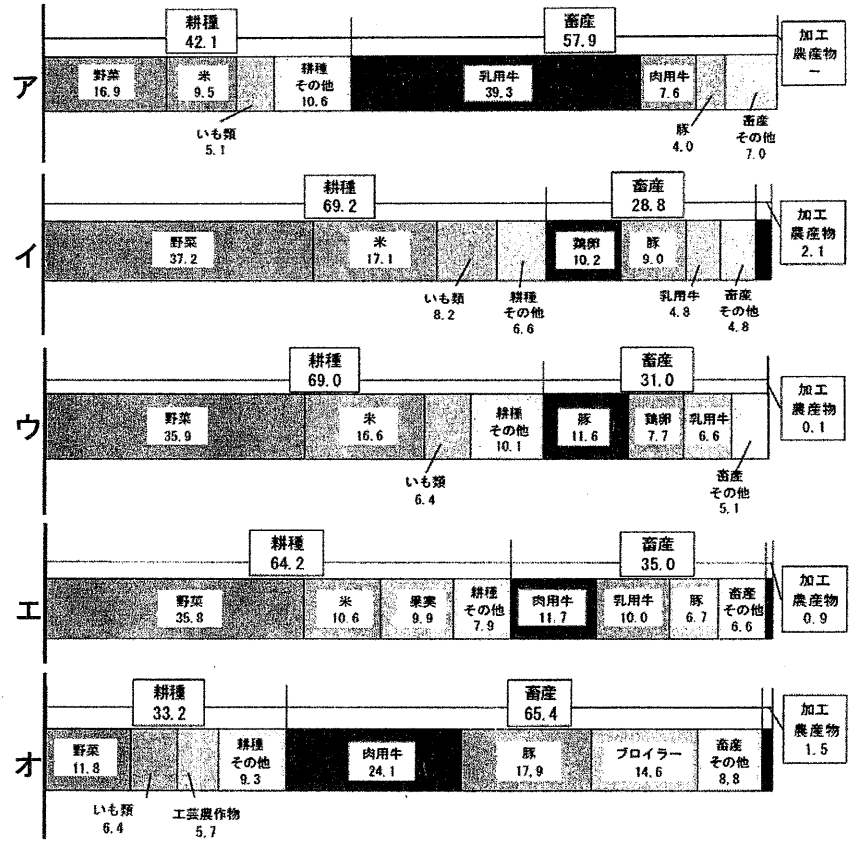


(注意) 解答はすべて解答用紙に記入しなさい。解答用紙のみ提出しなさい。

(4) 右図ア～オは、都道府県別農業産出額上位5道県の部門別構成割合を示している。また、上位5道県とは茨城県・鹿児島県・熊本県・千葉県・北海道のいずれかである。このうち、北海道と熊本県に当てはまるものをア～オから1つずつ選び、記号で答えよ。

(5) 日本における大豆・トウモロコシの生産や輸入について述べた文のうち誤っているものをア～エから1つ選び、記号で答えよ。全て正しい場合はオと答えよ。

- ア. 日本国内で最も生産量が多い都道府県は、大豆・トウモロコシともに北海道である。
- イ. 日本の大豆の輸入先で最も取引量が多いのはアメリカ合衆国である。
- ウ. 輸入大豆は食用油などの原料に多く利用され、国産大豆は豆腐・納豆・みそ・しょうゆなどへ利用される。
- エ. トウモロコシは主に畜産の飼料として利用される。食用のスイートコーンとともに自給率は高い。



農林水産省『生産農業所得統計』(令和2年度版)より作成

2 日本の工業や貿易について、以下の各問いに答えなさい。

(1) 日本の工業に関する文を読んで、次の問いに答えよ。

1960年代には、a 鉄鋼業や石油化学工業などの重化学工業を中心に工業が発達し、日本の経済が著しく成長した。鉄鋼業では、b 原料である鉄鉱石を高炉の中で溶かして銑鉄\*をとり、転炉や電気炉に移して炭素などを取り除いて(あ)をつくり、それを圧延機によってさまざまな形に変え、各用途に応じた製品がつくられる。一方、石油化学工業では、まず製油所において原油を熱したものを蒸留塔の中に入れ、温度によってガソリンや重油・(い)などの石油製品が精製される。石油化学工業では石油製品のうち主に(い)を原料として、合成繊維やプラスチックなどの石油化学製品が製造されている。

\*銑鉄(せんてつ)・・・炭素を多く含んだ鉄のこと

①文中の空らん(あ)・(い)に当てはまる語を答えよ。

②下線部aについて、日本の重化学工業に関して述べた文として誤っているものをア～エから1つ選び、記号で答えよ。

- ア. 戦前の日本では、鉄鋼業は北九州など国内の石炭産地に近い地域を中心に立地していたが、戦後になると輸入に便利で、大都市にも近い臨海部を中心に立地するようになった。
- イ. 1980年代以降、日本の鉄鋼業はそれまでの国内生産から、鉄鉱石の産地である中国やブラジル、オーストラリアでの海外生産を拡大した。その結果、国内の工場が減少し産業の空洞化を招いた。
- ウ. 日本の石油化学工業は、原油の大部分をタンカーで輸入しているため大規模な港に隣接して立地している。その原油はパイプラインによって貯蔵タンクや製油所へ輸送されている。
- エ. 千葉県市原市の沿岸部には、国内最大規模の石油化学コンビナートが形成され、ここで生産される製品は国内人口の約3分の1が集中する関東地方の大きな消費を支えている。

③下線部bについて、鉄鋼業には鉄鉱石以外にも石炭を蒸し焼きにしたものが原料として使用されているが、これを何とよいか答えよ。

(2) 次ページの図1・図2は、日本における1960年と2020年の主要輸入品目の内訳を示している。次の問いに答えよ。

①図1の「繊維原料」のうち、約半分を占める植物由来の原料を答えよ。

②図2の「機械類」に含まれる主な品目のうち、金額が最も低いものをア～エから1つ選び、記号で答えよ。

- ア. 自動車      イ. コンピュータ      ウ. 通信機      エ. 半導体等電子部品

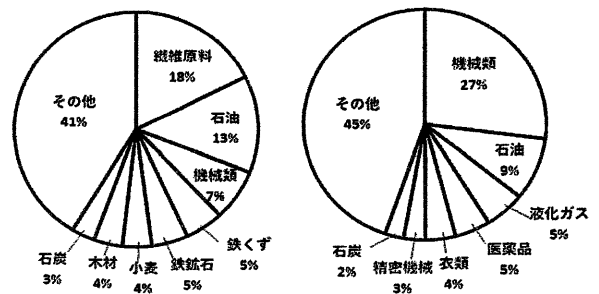
(注意) 解答はすべて解答用紙に記入しなさい。解答用紙のみ提出しなさい。

③図1・図2とその背景について述べた次の文中の( )に当てはまる語を1語で答えよ。

「図からは日本の貿易構造が加工貿易から大きく変化していることが読み取れる。こうした変化は1980年代に貿易摩擦や急激な( )が進んだことがきっかけとなって、日本企業の海外進出が増加したことなどが要因となっている。」

図1 1960年

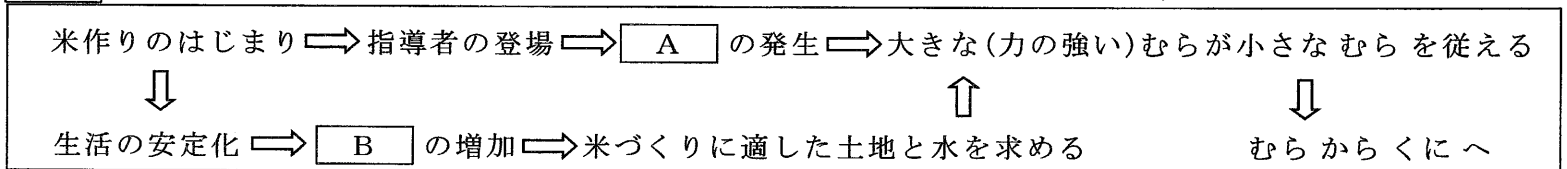
図2 2020年



『日本国勢図会』(2021/22)より作成

3 縄文・弥生時代から江戸時代までの各時代に関する以下の問いに答えなさい。

(1) 次のメモは、米づくりのはじまりとくにの成立についてまとめたものである。メモの中の空らん A・Bに入る語の組合せとして正しいものをア～エから1つ選び、記号で答えよ。



- ア. A—争い(戦争)    B—人口    イ. A—身分    B—人口  
 ウ. A—争い(戦争)    B—食料    エ. A—身分    B—食料

(2) 次のメモは大化の改新で中大兄皇子らが進めようとした政治の方針についてまとめたものである。メモの中の空らん C・Dに入る文の組合せとして正しいものをア～エから1つ選び、記号で答えよ。

- これまでの天皇や豪族が所有していた土地や民は、すべて国家のものとする。
- 都や地方の区画(国・郡)を定め、C。
- 戸籍をつくり、D。
- 布などを納める税の制度を統一する。

- ア. C—唐の法律にならって律令を制定する    D—検地をおこなって田畑の広さや収穫量を調べる  
 イ. C—唐の法律にならって律令を制定する    D—人々に田を割りあてて耕作させる  
 ウ. C—都から地方に役人を派遣して治めさせる    D—検地をおこなって田畑の広さや収穫量を調べる  
 エ. C—都から地方に役人を派遣して治めさせる    D—人々に田を割りあてて耕作させる

(3) 聖武天皇の大仏づくりについて述べた文として誤っているものをア～エから1つ選び、記号で答えよ。全て正しい場合はオと答えよ。


- ア. この当時、都では伝染病が広がり、地方ではききんなどが起こって世の中が混乱していた。  
 イ. 大仏づくりに必要な物資や、作業にあたる大勢の農民が全国から集められた。  
 ウ. 高度な技術をもつ朝鮮からの渡来人の子孫が工事の責任者に任命された。  
 エ. 大仏が完成したころには、日本に仏教が伝わってから300年ほどの年月がたっていた。

(4) 平安時代や鎌倉時代について述べた文として誤っているものをア～エから1つ選び、記号で答えよ。全て正しい場合はオと答えよ。

- ア. 貴族たちは、儀式や年中行事を行い、細かいしきたりを守ることを大切にされた。  
 イ. 紫式部は、宮廷の生活や自然の変化を生き生きと表現した随筆『源氏物語』を書いた。  
 ウ. 武士は、一族とともに領地に館を構え、農民や家来に米などをつくらせ富をたくわえていった。  
 エ. 鎌倉時代、牛や馬にすきを引かせて農地を深く耕し、草や灰を肥料にすることが普及した。

(注意) 解答はすべて解答用紙に記入しなさい。解答用紙のみ提出しなさい。

(5) 元軍との戦いを描いた図として正しいものをア～エから1つ選び、記号で答えよ。



(6) 室町時代について述べた文 a～c の正誤の組合せとして正しいものをア～クから1つ選び、記号で答えよ。

- a 京都に住む武士を中心に、それまでの貴族の文化や大陸の文化の影響を受けた新しい文化が生まれた。
  - b 枯山水の庭は、このころに差別されつつもすぐれた技術をもった人々がつくったといわれている。
  - c 田植えのときに人々を励まし楽しませる田楽や、こっけいな踊りをする猿楽が、能や狂言へと発展した。
- ア. a—正 b—正 c—正      イ. a—正 b—誤 c—正      ウ. a—正 b—正 c—誤  
 エ. a—正 b—誤 c—誤      オ. a—誤 b—正 c—正      カ. a—誤 b—誤 c—正  
 キ. a—誤 b—正 c—誤      ク. a—誤 b—誤 c—誤

(7) 戦国時代・安土桃山時代について述べた文として誤っているものをア～エから1つ選び、記号で答えよ。全て正しい場合はオと答えよ。

- ア. 室町幕府がおとろえると、戦国大名が自分の領地に戦いに備えた城をつくり、お互いに勢力を争った。
- イ. 長篠の戦いは、織田・徳川連合軍が武田勝頼の軍を愛知県の長篠で破った戦いである。
- ウ. 織田信長は、将軍を京都から追放して室町幕府を滅ぼし、キリスト教を保護するため堺を支配した。
- エ. 豊臣秀吉が2度にわたって朝鮮に大軍を送った結果、朝鮮の国土が荒れただけでなく、豊臣氏の力がおとろえるきっかけとなった。

(8) 江戸時代について述べた文として誤っているものをア～エから1つ選び、記号で答えよ。全て正しい場合はオと答えよ。

- ア. 徳川家康は、江戸城の工事を全国の大名に手伝わせる一方、大名が住む城以外の城の破壊を命じた。
- イ. 対馬藩は、毎年朝鮮に船を送り、朝鮮から生糸や毛皮を輸入し、日本から銀や銅を輸出した。
- ウ. 町人のなかには経済力で大名をしのぐ大商人があらわれ、大名にお金を貸す者もいた。
- エ. 寺子屋や私塾が開かれた江戸時代の日本は、外国に比べて文字が読める人の割合が高い国だった。

**4** 幕末以降の日本と世界に関する以下の問いに答えなさい。

(1) 日本の開国の影響について述べた文 a～c の正誤の組合せとして正しいものをア～クから1つ選び、記号で答えよ。

- a 幕府の力がおとろえ、薩摩藩や長州藩などでは藩校をつくって藩の政治を改革する動きがあらわれた。
- b 米などの生活必需品が値上がりしたため、各地で「世直し」を求める一揆や打ちこわしが激しくなった。
- c 日本古来の文化を見直す動きがあらわれ、古くからの日本人の考えを研究する国学が成立した。

(注意) 解答はすべて解答用紙に記入しなさい。解答用紙のみ提出しなさい。

- ア. a—正 b—正 c—正      イ. a—正 b—誤 c—正      ウ. a—正 b—正 c—誤  
 エ. a—正 b—誤 c—誤      オ. a—誤 b—正 c—正      カ. a—誤 b—誤 c—正  
 キ. a—誤 b—正 c—誤      ク. a—誤 b—誤 c—誤

(2) 次の文中の空らん  ・  に入る語を答えよ。

日清戦争の少し前から軽工業が盛んになり、24時間休むことなく機械を動かす工場もあらわれた。欧米に比べて  が安く製品の質もよかったので、外国産よりも値段が安くてよい製品がつくられ、やがて  の輸出量は世界一になった。

(3) 19世紀末以降の対外関係について述べた文として誤っているものをア～エから1つ選び、記号で答えよ。

- ア. 1894年の条約改正成功の背景には、当時アジアでロシアと対立していたイギリスが日本の協力をもとめていた事情があった。  
 イ. 日露戦争では、日本海海戦で日本が勝利したものの、日本は兵力や物資をつぎこむ力がなくなり、ロシアも革命が起こったため、両国は講和条約を結んだ。  
 ウ. 第一次世界大戦が起こると、日本も参戦して戦勝国の一つとなった。戦後、ヨーロッパやアメリカの生産力が低下すると日本は輸出をのばして好景気をむかえた。  
 エ. 太平洋戦争末期、アメリカ・イギリス・中国が日本に無条件降伏を求めるポツダム宣言を発表したが、日本はこれをすぐに受け入れなかった。

(4) 1960年代～70年代の日本について述べた次のa～dの各文に関連して、次の問いに答えよ。

- a. 日本は輸出産業に力を入れて経済を発展させた結果、 がアメリカに次いで世界第2位になった。  
 b. 中学校や高校を卒業した若者が、「金の卵」とよばれて地方から都会の工場や会社に集団で就職した。  
 c. 高速道路が通され、東京・大阪間には  新幹線が整備されるなど、交通網が整備された。  
 d. 産業の各分野における省エネルギー化の努力によって、世界一の貿易黒字国となった。

① a・cの文中の空らん  ・  に当てはまる語句を答えよ。

② a～dの文のうち、60年代・70年代の出来事として誤っているものを1つ選び、記号で答えよ。

5 次の文を読み、以下の問いに答えなさい。

天皇は、大日本帝国憲法では元首であり  とみなされていたが、日本国憲法では国と国民統合の象徴と定められており、 に関しては何の権能\*も無く、憲法の定める国事行為のみをおこなう。また、皇位の継承は  によると定められている。

\*ある行為をすることが認められている権限・能力

(1) 文中の空らん  ・  に適する語を答えよ。

(2) 文中の空らん  に適する語をア～エから1つ選び、記号で答えよ。

- ア. 閣議決定      イ. 世襲      ウ. 皇室会議における選挙      エ. 国会の議決

(3) 日本の国旗・国歌が法律で定められた年を西暦で答えよ。

6 以下の文中の下線部が正しければ○を、誤っていれば正しい答えを解答らんに答えなさい。

- (1) 国際赤十字は、各国の政府や国連から独立して活動するNGOの一つである。  
 (2) 国際連合が設立された時の憲章には「安全保障理事会は、15の国際連合加盟国で構成する。中華民国、オランダ、ソヴィエト社会主義共和国連邦、グレート・ブリテン及び北部アイルランド連合王国及びアメリカ合衆国は安全保障理事会の常任理事国となる。」と記されている。  
 (3) 手続き事項に関するもの以外の安全保障理事会の決定は、「常任理事国の同意投票を含む9理事国の賛成投票によって行われる。」と定められており、この五大国一致の原則にもとづく常任理事国の権利は優越権と呼ばれる。  
 (4) 国際連合の機関の一つであるユニセフの活動の中心となる考え方は、「生きる権利、育つ権利、守られる権利、参加する権利」を四本の柱とする児童保護条約にもとづいている。

令和5年度 久留米大学附設中学校 入学試験問題

解答用紙

受験番号	
------	--

中学社会

(注意) 解答はすべて解答用紙に記入しなさい。解答用紙のみ提出しなさい。

(この欄には解答しない)

①

(1)	(2)


(3)				
①	②B	②C	③松本	③潮岬

(4)		(5)
北海道	熊本県	

②

(1)			
①あ	①い	②	③

②

(2)		
①	②	③

③

(1)	(2)	(3)	(4)	(5)	(6)	(7)	(8)

④

(1)	(2)		(3)
	X	Y	

(4)		
①X	①Y	②

⑤

(1)		(2)	(3)
A	B		
			年

⑥

(1)	(2)	(3)	(4)