

(注意) 解答はすべて解答用紙に記入しなさい。解答用紙のみ提出しなさい。

1 日本の交通・都市や工業，農業，貿易に関する(1)～(8)の問いに答えなさい。

(1)右の表は，新幹線の4つの路線の出発地からの距離と，路線沿いの主な停車駅がある都市の人口を示している。なお，表中の停車駅は人口25万人以上の都市にある駅のみを挙げている。例えば東海道新幹線は東京を出発し，営業距離293.6 km進むと豊橋(人口37.8万人)に到着する。路線A～Cは，九州新幹線(博多始発)，東北新幹線(東京始発)，上越新幹線(東京始発)のいずれかを示している。路線A～Cの正しい組合せをア～カから1つ選び，記号で答えよ。

【東海道新幹線】	新横浜	静岡	浜松	豊橋	名古屋	京都	新大阪
出発地からの距離	28.8	180.2	257.1	293.6	366.0	513.6	552.6
人口	373.6万人	70.9万人	80.8万人	37.8万人	227.9万人	141.8万人	269.1万人
【路線A】				X			
出発地からの距離	109.5	226.7	272.8	351.8	535.3	713.7	
人口	52.2万人	32.7万人	28.3万人	105.9万人	29.3万人	29万人	
【路線B】		Y					
出発地からの距離	35.7	118.4	288.9				
人口	30.7万人	73.4万人	60.7万人				
【路線C】				Z			
出発地からの距離	30.3	105.0	270.6	333.9			
人口	128.1万人	37.5万人	27.5万人	80.0万人			

(人口統計2017年)

	ア	イ	ウ	エ	オ	カ
路線A	九州	九州	東北	東北	上越	上越
路線B	東北	上越	九州	上越	九州	東北
路線C	上越	東北	上越	九州	東北	九州

(2)表中の停車駅X～Zについて，それぞれの停車駅がある都市の主な特徴を以下に記した。それぞれの都市名を答えよ。

- 都市X：地方中核都市として，この地方の経済・文化・政治の中心地であり，多くの企業や金融機関が集中している。市街地はかつての城下町を中心に平野部に展開している。
- 都市Y：北部は比較的緩やかな山地，東から南にかけては標高1,000m級の山々に囲まれており，水資源に恵まれた都市である。市内には路面電車が走り，市民の足として活用されている。
- 都市Z：古くから水陸交通の拠点として栄え，幕末の日米修好通商条約の開港の1つとなった。冬季に降雪量が多くなるが，緯度の割に温暖である。海岸部には砂丘が並ぶ。

(3)東海道新幹線沿いの静岡市・浜松市は東海工業地域に含まれる。この工業地域の特色を述べた文として誤っているものをア～エから1つ選び，記号で答えよ。

- ア. 工業地域として発達した理由の1つは，京浜・中京工業地帯の中間に位置し，交通が便利だったことである。
- イ. 富士山ろくの豊かな用水や原木を利用したパルプ・製紙工業が富士市や富士宮市に発達している。
- ウ. 浜松市ではオートバイの生産がさかんで，以前海外に移転していた工場が国内に復帰し，生産台数は増加した。
- エ. 静岡市では石油精製などのほか，地元のみかんや水産物を加工する食品加工業もさかんである。

(4)名古屋市がある愛知県は，電照菊の生産でも有名である。右表は2017年における菊の生産量全国1～3位の県および生産量を示している。次の文のうち誤っているものをア～エから1つ選び，記号で答えよ。なお，全て正しい場合はオと答えよ。

	県名	生産量(万本)	割合(%)
1位	愛知県	46420	30.9
2位	沖縄県	28370	18.9
3位	福岡県	9660	6.4
	全国	150400	100.0

(「統計資料 日本 農業・漁業・林業」)

- ア. 愛知県の菊は，温室などを用いて，日照時間が短くなると花が咲く性質を利用し，照明によって開花期を遅らせて出荷することで有名である。
- イ. 沖縄県の菊は冬でも温暖な気候を活用し，お彼岸や新年など他の産地の出荷の少ない時期に出荷している。
- ウ. 沖縄県の菊は，東京や大阪など主な出荷先への距離が遠く，輸送に時間と費用がかかるため，輸送費が高くても早く出荷できる飛行機輸送と，輸送費は安いが出荷に時間がかかる船舶輸送とを使い分けている。
- エ. 沖縄県では，台風による強風や害虫などから菊を守るため，近年ビニールハウスにかえて平張りの防風施設がつけられている。

(5)大阪府の工業の特色を述べた文として誤っているものをア～エから1つ選び，記号で答えよ。

- ア. 明治以降，近代的な紡績工場が建設され，さらに大阪湾岸の埋立地に造船などの重工業が発達し，第二次世界大戦前には阪神工業地帯として日本最大の総合工業地域となった。

(注意) 解答はすべて解答用紙に記入しなさい。解答用紙のみ提出しなさい。

- イ. 内陸部の門真市・守口市などには、家庭用電気製品の工場が多く、下請け工場も多く見られる。
- ウ. 大阪市東部から東大阪市にかけての地域には町工場が多く集まり、金属加工品や日用雑貨などを生産している。
- エ. 阪神工業地帯は他の工業地帯と比べると、金属工業の割合が少なく機械工業の割合が高いという特徴がある。

(6) 東海道新幹線の路線に近い太平洋ベルトでは、石油化学工業が発達している。①・②の問いに答えよ。

①石油について述べた文のうち誤っているものをア～エから1つ選び、記号で答えよ。

- ア. 石油は日本で使われているエネルギーに占める割合が最も多く、全体の40%以上を占めている。
- イ. 日本は石油のほぼ全てを海外に依存しており、国内では新潟県、秋田県、北海道などでわずかに生産されている。
- ウ. 日本は石油の多くを中東諸国から輸入しているが、中東以外で最も輸入量が多い相手国はアメリカ合衆国である。
- エ. 加熱炉で熱せられた原油は蒸留塔で成分ごとに製品化される。石油化学製品の元となるのはナフサである。

②日本の石油輸入量が最も多い貿易相手国はサウジアラビアである。サウジアラビアに関する説明として最も不適切なものをア～エから1つ選び、記号で答えよ。

- ア. 降水量が少ない厳しい自然環境のため、都市部では海水を淡水化したものを供給している。
- イ. 広大なアラビア半島の多くを領有しており、首都は国土のほぼ中央に位置するアンカラである。
- ウ. 聖地メッカとメディナがあり、多くの海外からの巡礼者を迎え入れている。
- エ. ほとんどの国民はイスラム教を信仰している。1日5回の礼拝や禁酒などのしきたりを守りながら生活している。

(7) 日本の輸出入の特色について述べた文のうち正しいものをア～エから1つ選び、記号で答えよ。

- ア. 輸出品で最も金額の割合が多いのは自動車である。
- イ. 最大の貿易相手国はアメリカ合衆国である。
- ウ. 国内の港別で最も貿易額が多いのは東京港である。
- エ. 貿易貨物重量の9割以上を船舶で運んでいる。

(8) 日本国内の農業生産減少と農産物輸入の増加は、食料自給率の低下をもたらしている。①～③の問いに答えよ。

①日本は、食料として欠かせない穀物類や飼料も海外からの輸入に多く依存している。下の表は、日本の国別輸入量を示したものである。A～Cに当てはまる作物名の正しい組合せをア～カから1つ選び、記号で答えよ。

A				B			C		
	国名	輸入量(百万トン)	割合(%)	国名	輸入量(百万トン)	割合(%)	国名	輸入量(百万トン)	割合(%)
1位	アメリカ合衆国	2.9	48.3	アメリカ合衆国	14.5	91.9	アメリカ合衆国	2.3	69.1
2位	カナダ	1.8	33.2	ブラジル	0.8	4.6	ブラジル	0.6	15.8
3位	オーストラリア	0.9	16.7	南アフリカ	0.4	2.1	カナダ	0.3	13.4
	国内自給率	12%		国内自給率	0.001%		国内自給率	6%	

(農林水産省 農林水産物輸出入概況2018年統計より)

	ア	イ	ウ	エ	オ	カ
A	小麦	小麦	とうもろこし	とうもろこし	大豆	大豆
B	とうもろこし	大豆	小麦	大豆	小麦	とうもろこし
C	大豆	とうもろこし	大豆	小麦	とうもろこし	小麦

②食料自給率とは、国内の食料消費が、国内の食料生産でどの程度まかなえるかを示す指標である。ここでは、基礎的な栄養価であるエネルギーに着目した熱量(カロリーベース)の自給率で考えたい。右表は主要国のカロリーベースの食料自給率(2013年)を示しており、ア～オはイギリス・カナダ・フランス・オーストラリア・日本のいずれかを示している。このうち、イギリスと日本に当てはまるものをア～オから1つずつ選び、記号で答えよ。

	食料自給率
ア	264%
イ	223%
ウ	127%
エ	63%
オ	39%

③日本国内で都道府県別に食料自給率を算出した場合、北海道が206%、秋田県が188%、山形県が137%、青森県が117%、岩手県が101%(数値はいずれも2017年度)と自給率100%を超える道県が存在する。なぜこのような数値となるのか、50字以上60字以内で説明せよ。

(注意) 解答はすべて解答用紙に記入しなさい。解答用紙のみ提出しなさい。

2 次のⅠ～Ⅴの各文章を読み、(1)～(7)の問いに答えなさい。

- Ⅰ 武勇にすぐれた皇子である **X** は、天皇の命令を受けて、九州へ行ってクマソを平らげ、休む間もなく東日本のエミシをたおしました。・・・中略・・・ところが、都へ帰る途中、病気でなくなってしまう。すると、その魂は大きな白鳥に生まれ変わって、都の方へ飛んでいきました。
- Ⅱ 右大將軍が平氏をほろぼして幕府を開いてから、そのご恩は、山よりも高く、海よりも深いほどです。ご恩に感じて名譽を大切にす武士ならば、よからぬ者をうちとり、幕府を守ってくれるにちがいありません。
- Ⅲ 室町時代、有力な武将たちは大名とよばれ、將軍に仕えるために京都で生活するようになりました。京都を中心に花開いた室町文化は、こうした大名やその家来、旅の僧などによって、**a** 地方へとしだいに広がっていきました。
- Ⅳ **Y** が始まると、各藩の財政は苦しくなり、幕府に逆らうことは難しくなりました。一方で、これによって街道や宿場町が整備されて、江戸の文化が各地に伝わることに役立ちました。また、幕府は各大名に対し、**Y** だけでなく、**b** お手伝い普請も命じました。
- Ⅴ 富岡製糸場の門の前に来たときは、夢かと思うほどおどろきました。生まれてかられんが造りの建物など、**Z** で見ただけで、それを目の前に見るのですから無理もないことです。・・・中略・・・ただ、日本造りの風通しのよい家に住み慣れた私たちに、窓から入る風はどことなく物足りなく感じられ、また山のように積み上がった **c** まゆの立ちこめる匂いに眠気を感じてしまい、日が長く感じられました。〔『富岡日記』(訳出)〕

(1) 文章中の空らん **X** ～ **Z** に入る語句の正しい組合せをア～クから1つ選び、記号で答えよ。

- | | | | | | |
|---------------|----------|--------|---------------|----------|--------|
| ア. X : ワカタケル | Y : 参勤交代 | Z : 錦絵 | イ. X : ワカタケル | Y : 参勤交代 | Z : 映画 |
| ウ. X : ワカタケル | Y : 版籍奉還 | Z : 錦絵 | エ. X : ワカタケル | Y : 版籍奉還 | Z : 映画 |
| オ. X : ヤマトタケル | Y : 参勤交代 | Z : 錦絵 | カ. X : ヤマトタケル | Y : 参勤交代 | Z : 映画 |
| キ. X : ヤマトタケル | Y : 版籍奉還 | Z : 錦絵 | ク. X : ヤマトタケル | Y : 版籍奉還 | Z : 映画 |

(2) 文章Ⅰは『古事記』の抜粋である。この史料が作成された奈良時代の事柄として誤っているものをア～オから1つ選び、記号で答えよ。

- ア. 国分寺の建立 イ. 「梅花の宴」 ウ. 大宝律令の制定 エ. 『風土記』の作成 オ. 『日本書紀』の作成

(3) 文章Ⅱにみるような「ご恩」を仲立ちとする將軍と武士の関係は、八幡太郎とよばれた人物の行いをきっかけにして始まったといわれる。これについて述べた次の文を読み、八幡太郎にあたる人物として適当なものをア～エから1つ選び、記号で答えよ。

11世紀後半に東北地方で起きた争いでは、八幡太郎とともに戦った武士たちが大きな働きをしました。しかし、朝廷から恩賞は出ませんでした。そこで、彼は、一緒に戦った武士たちに自分の財産を分けあたえました。そのことが、源氏をすたう勢力が東国に広がるきっかけとなりました。

- ア. 源義仲 イ. 源義家 ウ. 源義経 エ. 源頼朝

(4) 下線部 a にみるような地方への文化の広がり、15世紀のある歴史的出来事をきっかけに起こった。その出来事とは何か、答えよ。

(5) 下線部 b の内容として誤っているものをア～エから1つ選び、記号で答えよ。ただし、全て正しい場合はオと答えよ。

- ア. 大坂城の修理 イ. 京都御所の修理 ウ. 日光東照宮の修理 エ. 木曾三川の治水工事

(6) 下線部 c に関連して、次の説明文に示される事件の名称を答えよ。

西南戦争以降、とくにまゆの価格が下がったことで、多くの農民が借金の延滞や減税を求めて、高利貸しや役所をおそつて占領しました。事件に加わった人の中には、自分たちで自由に市政を治める理想をかける人もいました。

(注意) 解答はすべて解答用紙に記入しなさい。解答用紙のみ提出しなさい。

(7) 文章Vの筆者が生まれたのは江戸時代の末である。日記文より、筆者はどのような家庭で育った人物と推察できるか。筆者の性別および家柄として適当なものをア～カから1つ選び、記号で答えよ。

- ア. 男性 - 農家 イ. 男性 - 武家 ウ. 男性 - 公家
エ. 女性 - 農家 オ. 女性 - 武家 カ. 女性 - 公家

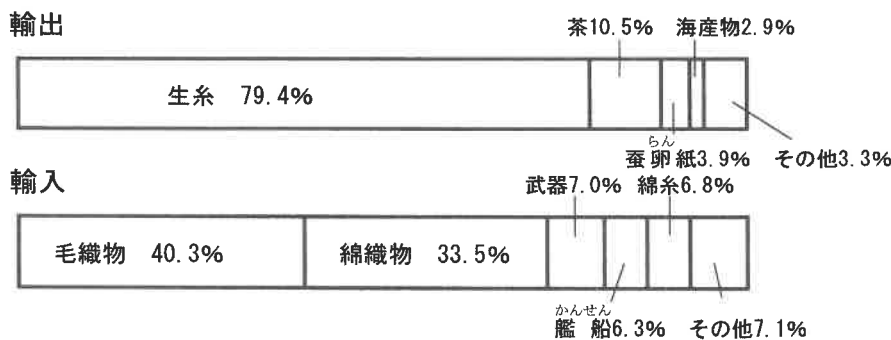
3 次の文章を読み、(1)～(6)の問いに答えなさい。

13世紀になると、 X 民族がユーラシア大陸を広く支配し、東西交易が飛躍的に発展した。また、東西を結ぶ海上交易も活性化し、人・モノ・情報の交流が盛んになった。

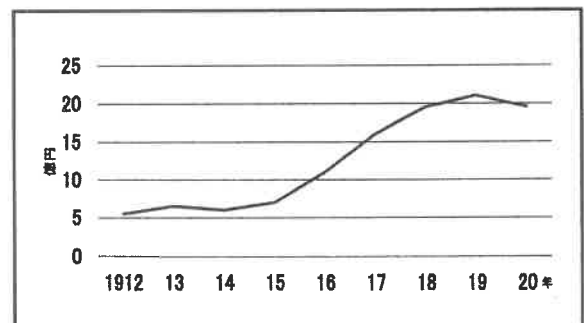
18世紀にはじまる産業革命によりイギリスは「世界の工場」となった。19世紀になると、a イギリスやフランスといった国々が、原料の供給地や製品の市場を求めてアジアやアフリカに進出した。このような流れのなか、中国に進出しようとした b アメリカは日本に目を向け、ペリーを派遣した。その後、c 開国した日本は、近代化を進めて欧米諸国に追いつこうとした。この動きにおくれたドイツはイギリスやフランス、d ロシアと勢力争いをはじめ、第一次世界大戦がおこった。世界大戦を経て成長したアメリカが、世界経済の中心のひとつとなり、国際政治での発言力を増すようになった。

e 第二次世界大戦後は、アメリカとソ連が対立し、冷戦とよばれる状況が生まれた。

- (1) 空らん X の民族は、各地へ遠征を行う際、火薬を用いた。そのため、火薬が各地に伝わり、西ヨーロッパなどの戦術に影響を与えた。 X に適する語を答えよ。
- (2) 下線部 a に関連して、清朝との戦争に勝利したイギリスが1842年の講和条約で獲得した領土を漢字で答えよ。
- (3) 下線部 b について、このときアメリカ大統領が日本に宛てた国書の内容を述べた文のうち誤っているものをア～エから1つ選び、記号で答えよ。
- ア. 難破船の漂流民を保護すること。 イ. 貿易のために港をひらくこと。
ウ. アメリカからの商品に関税をかけないこと。 エ. アメリカの船に、石炭と食料・水を与えること。
- (4) 下線部 c に関連して、日本の貿易に関する資料1・2と、当時の社会状況を踏まえて述べた次の文A・Bの正誤の組合せとして正しいものをア～エから1つ選び、記号で答えよ。



資料1. 開国後(1865年)の主要輸出入品の割合



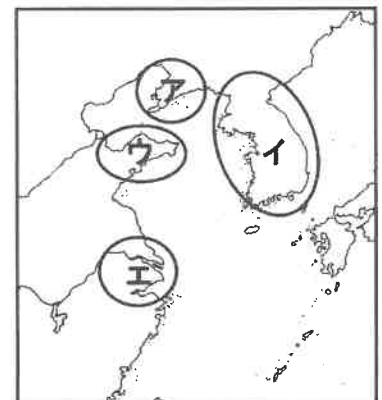
資料2. 輸出額の移り変わり

A: 資料1から、開国後は生糸の輸出・織物の輸入が多いことがわかる。そのため、国内では生糸が品不足となり、大きく値上がりした。米や菜種油なども値上がりし、人々の生活は苦しくなった。

B: 資料2から、第一次世界大戦中に輸出を増やしたことがわかる。しかし、戦後ヨーロッパの国々の産業が立ち直ると、日本の輸出は伸び悩んだ。

- ア. A - 正 B - 正 イ. A - 正 B - 誤
ウ. A - 誤 B - 正 エ. A - 誤 B - 誤

(5) 下線部 d について、1895年にドイツやフランスとともに、ロシアが日本に対して清朝に返すように求めた場所を右の地図中ア～エから1つ選び、記号で答えよ。



令和2年度 久留米大学附設中学校 入学試験問題

解答用紙

受験番号

中学社会

(注意) 解答はすべて解答用紙に記入しなさい。解答用紙のみ提出しなさい。

(この欄には記入しない)

1

(1)	(2)		
	X	Y	Z
		市	市

(3)	(4)	(5)	(6)		(7)	(8)		
			①	②		①	②イリス	②日本

*

(8)③											

50字

60字

2

(1)	(2)	(3)	(4)	(5)	(6)	(7)
						事件

3

(1)	(2)	(3)	(4)	(5)	(6)

4

(1)	(2)	(3)
		生活を営む権利

(4)	(5)	(6)	(7)
	義務		