

平成30年度 入学試験 中学社会

訂正

1 設問文 1行目最後

(誤) (1)~(7)

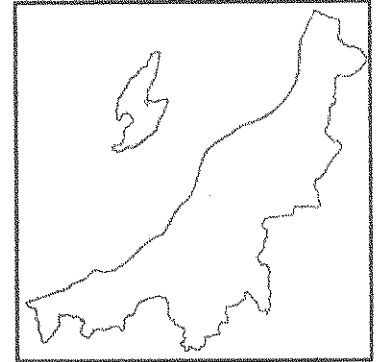
↓

(正) (1)~(9)

(注意) 解答はすべて解答用紙に記入しなさい。解答用紙のみ提出しなさい。

1 小学6年生のワタル君は、社会の宿題で日本の各都道府県の特徴を調べるようになった。地図や表を参照し、(1)~(7)の問いに答えなさい。

地図1



(1) 地図1に描かれている県名を漢字で答えよ。

(2) 地図1の県内を流れている河川について述べた文として誤っているものをア~エから1つ選び、記号で答えよ。

ア. 信濃川は、他県を流れているときは千曲川と呼ばれ、県南部から北上して流れている。水源からの長さは日本第一位である。

イ. 信濃川下流域の平野はしばしば洪水害に襲われてきた。このため、大河津分水路が建設され、治水上の安全度が高められた。

ウ. 阿賀野川では1960年代に鉦山から流れ出たカドミウムによって公害が発生し、多くの人的被害をもたらされた。

エ. 飛騨山脈東側を流れる姫川の下流域は糸魚川市である。フォッサマグナの北部にあたり、世界ジオパークに指定されている。

(3) 地図1の県は日本でも有数の豪雪地帯の1つである。冬の季節風が県境にある山脈にぶつかることで大量の降雪がみられる。この山脈名を答えよ。

(4) 下の表は、道県別の作付延面積、水稻の作付面積および収穫量、農業産出額およびその割合(2014年)を示している。また、表中のア~オは地図1の県、北海道、千葉県、富山県、宮崎県のいずれかである。地図1の県に当てはまるものをア~オから1つ選び、記号で答えよ。

出典:『データブックオブ・ザ・ワールド2017』

道県	作付延面積(千ha)			水稻		農業産出額 (億円)	農業産出額の割合(%)			
	田畑計	田	畑	作付面積(千ha)	収穫量(千トン)		米	野菜	果実	畜産
ア	73	42	32	19	90	3326	5.2	22.5	4.4	59.6
イ	117	66	51	60	336	4151	14.1	38.8	3.9	30.1
ウ	54	52	2	40	214	581	64.9	9.0	3.8	15.5
エ	1141	210	932	111	641	11110	9.9	19.0	0.5	54.3
オ	149	135	15	120	657	2448	52.9	15.6	3.6	21.8

(5) 上の表に関連して、アとイは作付延面積が小さいにも関わらず、農業産出額が高い数値を示している。アおよびイの農業の特色にふれた上で、農業産出額が高い理由を50字以上60字以内で答えよ。

(6) 地図1の県における稲作について述べた文として誤っているものをア~エから1つ選び、記号で答えよ。

ア. この県の稲作農家がかもともおそれているのは、夏の冷害である。オホーツク海気団から吹く寒冷なやませが発生すると、収穫量が激減するおそれがある。

イ. 品種としてはコシヒカリが最も多く生産されているが、いもち病などの病気に弱く倒れやすい品種でもあったために改良が重ねられ、さらには直播栽培などの工夫も行われている。

ウ. 平野部に限らず盆地においても積極的に耕地整理を実施し、大型機械も導入された。そのため、稲作にかかる時間は大幅に減少したが、大型機械の購入費や維持費が負担となった。

エ. 12月から3月中旬までは積雪によって農作業は難しく、苗づくりや田おこし・しろかきなどの農作業は4月以降に行われることがほとんどである。

(7) 水田の働きについて述べた文として誤っているものをア~エから1つ選び、記号で答えよ。なお、すべて正しい場合はオと答えよ。

ア. 雨水を一時的に保留し、洪水を防ぐ。

イ. 田の水面からの水分の蒸発により暑さをやわらげる。

ウ. 土砂崩れや土壌の流出を防ぐ。

エ. 豊かな生態系を保持し、農村の景観を保全する。

(注意) 解答はすべて解答用紙に記入しなさい。解答用紙のみ提出しなさい。

(8) 地図1の県における人口変化や産業構造について述べた文として誤っているものをア～ウから1つ選び、記号で答えよ。なお、すべて正しい場合にはエと答えよ。

ア. 産業別製造業出荷額では食料品が最も割合が高く、米の生産はもちろんのこと、米菓や切り餅、清酒などの製品や、水産物を原材料としたかまぼこなどが有名である。

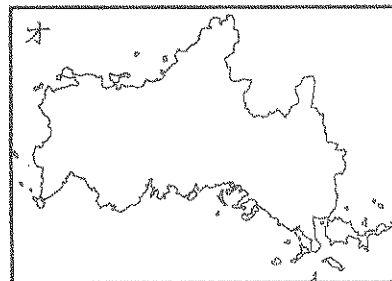
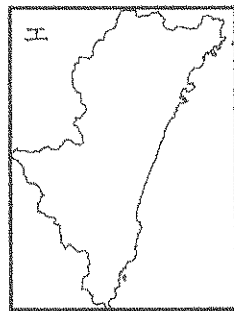
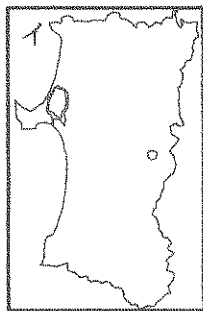
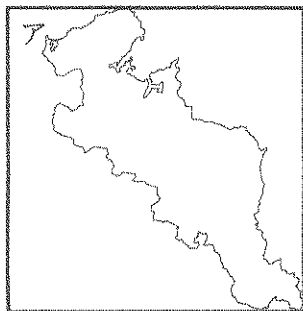
イ. 新幹線や高速道路が整備され首都圏とつながったことで多くの労働者がこの県に向かって移動したため、県庁所在地の市を中心に人口増加の傾向がみられる。

ウ. 豪雪地帯で知られる山間部は特にウインタースポーツを目的とした観光客が多く、近年では中国やインドネシア、オーストラリアなど海外からの観光客も増加している。

(9) ワタル君は地図1の県だけでなく他の都道府県にも注目してみた。次の①・②に当てはまる都道府県をそれぞれ1つずつ選び、ア～オの記号で答えよ。

① 日本海に面していない

② 政令指定都市を有している



2 日本や世界の貿易に関する文を読み、(1)～(3)の問いに答えなさい。

(1) 日本の貿易構造はこの50年間で大きく変化している。これについて、①・②の問いに答えよ。

① 1960年代初頭、輸出入とも最も多い品目は繊維であったが、2016年は何であるか、品目名を答えよ。

② 日本のかつての貿易構造は、燃料や原料を輸入し、これらを製品や半製品に加工して輸出するものであった。このような貿易構造を何と呼ぶか、答えよ。

(2) 国際貿易がより進展するにつれ、特に食品の安全に関する取り組みが重要となっている。生産者や事業者が食品を取りあつた際の記録を作成・保存することで、その食品の流通過程を調べることができる仕組みを何というか。次のア～エから正しいものを1つ選び、記号で答えよ。

ア. ナショナルトラスト イ. フードマイレージ ウ. メディア・リテラシー エ. トレーサビリティ

(3) 近年の貿易に関する話題について述べた文として誤っているものをア～エから1つ選び、記号で答えよ。

ア. 環太平洋経済連携協定(TPP)は、アメリカ合衆国の離脱表明によって早期実現が難しくなった。

イ. ドーハでおこなわれた世界貿易機関の会議で、世界共通の貿易ルールが作成された。

ウ. 発展途上国の農産物や伝統的な技術で作られた製品などを、価格や労働条件を保証する公正な価格で購入し、発展途上国などの経済的な自立を支援する運動がすすめられている。

エ. 日本の貿易は、2000年代半ばに中国が最大の貿易相手国となり、中国との貿易では日本側の輸入超過が続いている。

3 次の文を読み、(1)～(6)の問いに答えなさい。

日本は、大陸との交流のなかで①文化を育んできた。今から2400年ほど前には、大陸や朝鮮半島から移住した人々が②米作りを伝え、食生活を変えた。③古墳が作られはじめたころには、渡来人が土木・建築などの技術や漢字、仏教などをもたらした。遣隋使や遣唐使を派遣したころには、中国の政治の仕組みや学問、仏教などの文化を取り入れた。また、④平清盛や足利義満は、中国との貿易を行い中国の⑤文物を取り入れた。16世紀には、⑥ヨーロッパから鉄砲やキリスト教が伝来し、ポルトガルやスペインの商人と貿易を行うようになった。

(注意) 解答はすべて解答用紙に記入しなさい。解答用紙のみ提出しなさい。

(1) 下線部①に関連して、各時代の文化について述べた文として誤っているものをア～エから1つ選び、記号で答えよ。

- ア. 平安時代には、貴族の間で蹴鞠が流行した。
- イ. 鎌倉時代には、小倉百人一首が成立した。
- ウ. 室町時代には、茶を飲む風習が広まり、茶室もつくられるようになった。
- エ. 安土・桃山時代には、能や狂言が成立した。

(2) 下線部②に関連して、米作りがはじまったことで社会が大きく変わった。この変化について述べた文として誤っているものをア～エから1つ選び、記号で答えよ。


- ア. 食料生産が安定したため、人口が増えた。
- イ. 戸籍がつくられ、人々は割り当てられた田で米作りをおこなった。
- ウ. 指導者があらわれ、人々のあいだに身分が生じた。
- エ. 大きな「むら」が小さな「むら」を従えるようになった。

(3) 下線部③について、5世紀ごろの古墳から出土したものとして誤っているものをア～エから1つ選び、記号で答えよ。

- ア. 土偶 イ. 勾玉 ウ. 神獸鏡 エ. 鉄製の剣

(4) 下線部④について、平清盛と足利義満が貿易を行った中国の王朝名をそれぞれ答えよ。

(5) 下線部⑤に関連して、奈良・平安時代の官庁や大寺には、大切なものを納める正倉がつけられた。そのうち、東大寺正倉院に収蔵されている文物として誤っているものをア～エから1つ選び、記号で答えよ。



(6) 下線部⑥について述べた文として誤っているものをア～エから1つ選び、記号で答えよ。

- ア. 長崎では、ポルトガル商人がもたらした中国産の生糸が取引された。
- イ. 織田信長は、安土にキリスト教の学校や教会を建てることを認めた。
- ウ. スペイン人が伝えた鉄砲の作り方は、急速に各地に広がり、堺では大量に作られた。
- エ. フランシスコ・ザビエルは、平戸や山口などで布教をおこなった。

4 次の(1)～(7)は、それぞれある時代・時期について述べたものである。その時代・時期について、誤っている文の組み合わせをア～カからそれぞれ1つ選び、記号で答えなさい。

- ア. a・b イ. a・c ウ. a・d エ. b・c オ. b・d カ. c・d

(1) 江戸時代(1603年～1867年)

- a. この時代になると、庶民の間では落語、相撲、花火などを楽しむことが多くなった。
- b. 江戸幕府は大名たちを譜代・親藩・外様の3つに分け、親藩を最も江戸から遠ざけた。
- c. 琉球王国は薩摩藩によって支配され、将軍や琉球王が代わるたびに通信使を江戸まで送った。
- d. 杉田玄白があらわした『蘭学事始』には、人体解剖を見たときの様子が書かれている。

(2) 江戸幕末期～1870年代(1853年～1879年)

(注意) 解答はすべて解答用紙に記入しなさい。解答用紙のみ提出しなさい。

- a. ペリーが2度目に来航したときに、江戸幕府との間に日米和親条約が結ばれて、下田と兵庫が開港した。
- b. 長州藩は、イギリス・アメリカなどの4か国と戦い、最新の大砲の威力で勝利をおさめた。
- c. 鳥羽・伏見の戦いで旧幕府軍に勝った新政府軍は、その後江戸に攻め上り、江戸城を無血開城させた。
- d. 東京～横浜間に電信が開通し、郵便制度も始まり、横浜では日刊紙の「横浜毎日新聞」が創刊された。

(3)1880年代(1880年～1889年)

- a. まゆ や米などの農産物の価格が下がり、農民の多くは苦しい生活をしいられた。そのため、借金で困った農民たちが秩父事件を起こした。
- b. 各国の憲法や政治の仕組みを調査するために、伊藤博文がヨーロッパに派遣された。帰国した伊藤は、皇帝の力の強いドイツの憲法を手本にして憲法案をまとめた。
- c. 大日本帝国憲法では天皇は国の主権者とされ、条約を結んだり、戦争を宣言したりする権限を持ったが、軍隊を統率する権限は内閣がにぎった。
- d. 殖産興業の政策の一つとして、筑豊炭田のある福岡県に官営の八幡製鉄所が設立された。この製鉄所は、まもなく国内の鉄鋼生産の約80%を占めるようになった。

(4)大正時代(1912年～1926年)

- a. 第1次世界大戦が起こり、日本はこの戦争に加わりイギリスと戦った。大戦の間、日本からヨーロッパ各国への輸出が増え、国内では物価が急に高くなり、人々の暮らしは苦しくなった。
- b. 関東大震災では、死者・行方不明者が10万人をこえた。その大部分は火災によるものだったので、後の東京の復興事業では、防火帯や避難場所としての役割を果たす大きな公園がつけられた。
- c. 平塚らいてうたちは、女性の地位向上を求める運動を進めた。また、普通選挙を求める運動も起こり、25歳以上の男女が財産に制限されず衆議院選挙の選挙権を持つことになった。
- d. 西洋風の住宅、ガスや水道、電気を使う生活が広がった。またデパートができるなど、都市での生活は現在の暮らしにつながる近代的なものになっていった。

(5)1930年代(1930年～1939年)

- a. 満州全土を占領した日本軍は、満州国をつくり政治の実権をにぎった。国際連盟は満州国の成立を認めたので、これに反対する中国は連盟から脱退した。
- b. ヨーロッパでは、ドイツがフランスやイギリスと戦争を始めた。またアジアでは、日本がドイツ、イタリアと軍事同盟を結び、連合国と対立していった。
- c. 日本軍が南満州鉄道を爆破し、これを中国軍のしわざであるとして攻撃を始めた。これをきっかけに日本と中国との全面戦争が始まった。
- d. 国家総動員法が制定され軍需工場への勤労働員が始まり、物資の統制も強化され、国民全体を戦争に協力させる体制がつけられた。

(6)1940年代前半(1940年～1945年)

- a. 日本はハワイの真珠湾にある海軍基地を攻撃し、アメリカとの戦争を始め、ほぼ同時にイギリスやソ連との戦争をアジアで始めた。
- b. 全国で隣組が組織され、住民が助け合う一方で、互いに監視する仕組みが整えられた。また砂糖・塩・しょう油が切符制となり、米の配給制度も始まった。
- c. アメリカ軍による空襲が激しくなり、軍事施設や工場だけでなく住宅地も爆撃されるようになったので、小学生が集団疎開をした。
- d. 連合国は広島と長崎に原爆を投下し、ポツダム宣言を発表した。その後、沖縄がアメリカ軍に占領されたため、日本はこの宣言を受け入れることを決定した。

(注意) 解答はすべて解答用紙に記入しなさい。解答用紙のみ提出しなさい。

(7)1940年代後半～1950年代(1946年～1959年)

- a. アメリカ東海岸の都市で講和会議が開かれ、日本はアメリカ・イギリスなど48か国と平和条約を結んだ。一方、同じ日に日米安全保障条約が結ばれ、アメリカ軍が日本の基地にとどまることになった。
- b. アメリカとソ連の対立が深まるなかで、朝鮮半島では韓国と北朝鮮が成立し、朝鮮戦争が起こった。この戦争によって、日本は好景気になり産業が復興した。
- c. 日本は、平和条約に調印しなかったソ連と国交を回復した。その結果日本は国際連合への加盟が認められ、国際社会に復帰することになった。
- d. 日中平和友好条約が結ばれて、中国との国交が正常化された。また、日韓基本条約によって韓国との国交は開かれたが、北朝鮮とは国交が開かれなかった。

5 地方政治に関する文のうち正しいものをア～オからすべて選び、記号で答えなさい。

- ア. 地方選挙に立候補できる年齢は、市長が30歳以上で市議会議員は25歳以上である。
- イ. 市議会では、予算案の作成や法律の制定・改正などがおこなわれる。
- ウ. 市議会の議決は市全体の意思決定となる。
- エ. 健康診断や保育サービスなどの支援事業の内容は、専門の事業所で決定する。
- オ. 市議会は、国会や関係省庁に直接意見書を出すことができる。

6 次の文を読んで(1)～(6)の問いに答えなさい。

日本国憲法は第32条で「何人も、裁判所において裁判を受ける権利を奪はれない。」と定め、国民に裁判を受ける権利を保障している。裁判には人と人との間の争いを解決する **a** 民事裁判、罪を犯したかどうかを判断する **b** 刑事裁判、行政行為の適法性を争う **c** 行政裁判がある。これらの裁判を担当する裁判官は「その **A** に従ひ独立してその職権を行ひ、この憲法及び法律にのみ拘束される。」(憲法第76条第3項)。そのうち、最高裁判所の長たる裁判官は「**B** の指名に基いて」天皇が任命(憲法第6条第2項)し、それ以外の裁判官は「最高裁判所の指名した者の名簿によって、**B** でこれを任命する。」(憲法第80条第1項)とされている。

(1)刑事裁判で「公益の代表者」として裁判にかかわる人を何というか、漢字3字で答えよ。

(2)次の①～③の事例は文中の波線部 **a**～**c** のどの裁判であつかわれるか、次の中から正しい組み合わせを選び、ア～カの記号で答えよ。

- ①佐藤さんは知人に貸したお金を返してもらいたい。
- ②田中さんは課せられた税金が納得できないので、払いたくない。
- ③渡辺さんは自転車で走行中、急に飛び出してきたお年寄りを避けきれずに衝突し、けがをさせてしまった。

	ア	イ	ウ	エ	オ	カ
①	a	a	b	b	c	c
②	b	c	a	c	a	b
③	c	b	c	a	b	a

(3)文中の空らん **A** と **B** に適する語を答えよ。

(4)次のア～ウの文のうち、正しいものを1つ選び記号で答えよ。すべて誤っている場合はエと答えよ。

- ア. 日本の明治憲法下で、裁判員制度が導入されていたことがある。
- イ. 日本の裁判員制度は、裁判員のみ話し合いで有罪か無罪かを決定する。
- ウ. 日本の裁判員裁判は、重大な刑事裁判の一審のみで行われる。

(5)裁判官を辞めさせるかどうかの裁判を行う弾劾裁判所が設置される国の機関は何か、答えよ。

(6)国民が直接投票することによって、最高裁判所の裁判官を辞めさせることができる制度を何というか、答えよ。

