

(注意) 解答はすべて解答用紙に記入しなさい。解答用紙のみ提出しなさい。

1 日本<sup>かんきょう</sup>の自然環境や農林水産業に関連する(1)~(6)の問いに答えなさい。

(1)北海道の自然環境や農林水産業について述べた文のうち、誤っているものをア~オから2つ選び、記号で答えよ。

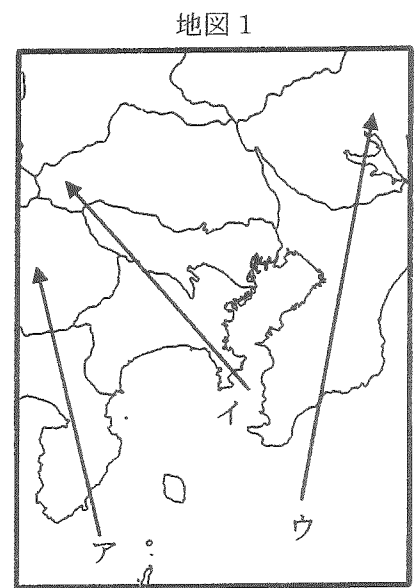
- ア. 品種改良や土壌改良によって稲作がおこなわれている地域は拡大したが、栽培が困難な地域も残されている。
- イ. 根釧台地では夏の気温が低く穀物栽培に向かないため、乳牛を飼育してバターなどをつくる酪農が盛んである。
- ウ. さとうの原料となるてんさいは、十勝平野を中心に、寒さの厳しい冬に栽培されている。
- エ. 知床半島では世界自然遺産に登録後、居住人口が制限され、豊かな生態系が維持されている。
- オ. 十勝平野や旭川盆地ではキャベツやアスパラガスなどの栽培が盛んであり、東京などに出荷されている。

(2)次のA~Cには、北海道地方の地名ではないものがふくまれている。それぞれア~エから1つ選び、記号で答えよ。

- |      |         |         |         |         |
|------|---------|---------|---------|---------|
| A... | ア. 北見山地 | イ. 日高山脈 | ウ. 養老山地 | エ. 天塩山地 |
| B... | ア. 十和田湖 | イ. サロマ湖 | ウ. 屈斜路湖 | エ. 洞爺湖  |
| C... | ア. 積丹半島 | イ. 根室半島 | ウ. 牡鹿半島 | エ. 渡島半島 |

(3)右の地図1中、ア~ウのルートで飛行したとき、通過する地名として誤っているものをア~ウから1つ選び、記号で答えよ。

- アのルート: 伊豆半島 → 富士山 → 甲府盆地
- イのルート: 三浦半島 → 相模川 → 関東山地
- ウのルート: 房総半島 → 利根川 → 中禅寺湖



(4)世界重要農業遺産システムという考え方が2002年に世界食糧農業機関から提唱された。「世界農業遺産」とも呼ばれ、何世代もの間、農民や遊牧民によって受け継がれてきた農業生産の方法や文化を認定している。2014年末現在、世界では25か所、うち日本では5か所が認定されている。これに関する以下の①~③の問いに答えよ。

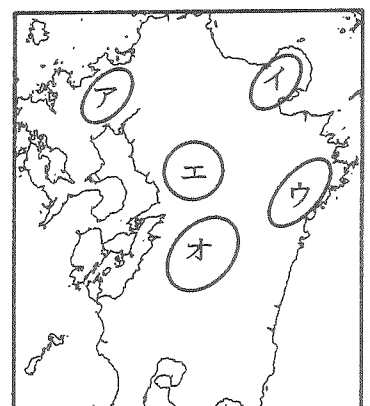
①日本で初めて認定を受けた地域は、佐渡島と能登半島一帯である。この両地域に関して述べた文として誤っているものをア~エから1つ選び、記号で答えよ。

- ア. 佐渡島は沖合を流れる暖流の対馬海流の影響で冬でも本土より暖かく、また本土よりも積雪量が少ない。
- イ. 佐渡島は、金山開発時代に土地開拓が急速に進み、現在では島の大部分をしめる平野で稲作がおこなわれている。
- ウ. 能登半島一帯は農業だけでなく、伝統的な製塩法や輪島塗などの伝統工芸も継承されている。
- エ. 両地域とも人口が減少している地域であるが、豊かな農業環境をいかした地域おこしが進められている。

②2013年には静岡県掛川地域一帯が茶の栽培に関連して認定された。茶の生産や輸入に関する文として正しいものをア~エから1つ選び、記号で答えよ。

- ア. 茶の栽培に適した地域は、気温が比較的高く日照時間が長く、降水に恵まれた台地が多い。
- イ. 茶の栽培は静岡県が生産第1位であり、中部・近畿地方の府県で日本の生産量のほぼ全てを占めている。
- ウ. 日本の茶の消費量は世界でも有数であり、世界第1位の輸入量を誇っている。
- エ. この地域で茶の生産地として有名なところは、磐田原や牧ノ原、笠野原などである。

地図2



③同じく2013年に、阿蘇地域と国東半島地域が認定された。地図2中、阿蘇地域および国東半島地域に当てはまるものをア~オから1つずつ選び、記号で答えよ。

(5)日本の農業について述べた文として誤っているものをア~オから2つ選び、記号で答えよ。

- ア. 米の消費量が減り古米の在庫量が増えたため、1971年より生産調整が本格的に始まった。
- イ. 農家数は減少を続けており、1960年と比較すると、この50年間で総農家数は半分以下に減った。

(注意) 解答はすべて解答用紙に記入しなさい。解答用紙のみ提出しなさい。

- ウ. 年齢別農業人口でみると、最も多い層は30～59才の年齢層である。
- エ. 1993年の冷害時の緊急輸入以外、日本は米の輸入を行っていない。
- オ. 機械や設備、農作業の共同化などを目的に新しい生産組合もつくられるようになった。

(6) 稲作の生産過程で見た場合、地域ごとに田植えがおこなわれる時期は異なっている。この理由を説明した文中の空欄(ア)～(ウ)に当てはまる語句を答えよ。

「全国で田植えがおこなわれる時期がもっとも早いのは沖縄県で3月上旬、もっとも遅いのは福岡県・佐賀県などの九州地区で6月中旬頃となっている。東北地方では5月中旬頃が多い。これらの違いは、稲の(ア)による影響が大きい。さらに九州地区では二毛作が多く、福岡県から佐賀県にまたがる筑紫平野では(イ)の刈り取り後に田植えが始まり、熊本県中部に位置する(ウ)平野では熊本県が生産の大部分を占めるいぐさの刈り取り後の田植えとなるために時期が遅くなる。」

2 日本や世界の自動車産業に関する(1)～(3)の問いに答えなさい。

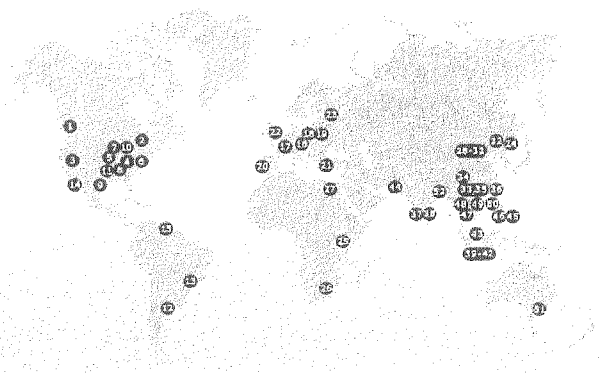
(1) 日本の自動車産業に関する文として誤っているものをア～エから1つ選び、記号で答えよ。

- ア. 自動車には2万点以上の部品が使われるため、最終組み立て工場の周辺に多くの関連工場が集まっている。
- イ. 自動車工場は太平洋ベルトにその多くが立地しているが、内陸部にも工場が立地している。
- ウ. 自動車生産台数は1980年代を中心に日本が世界第1位であったが、現在は中国が第1位である。
- エ. 日本で生産された自動車の約半分は輸出されており、輸出先の第1位は経済発展が続く中国である。

(2) 自動車関連工場では、最終組み立ての工程に対応して、必要な部品を必要なときに必要な数だけ送り届けるシステムを採用している。このシステムを何と呼ぶか、カタカナで答えよ。

(3) 右の世界地図は、日本のある自動車会社の現地生産工場の分布(2014年現在)を示している。この地図を参照し、誤っている文を1つ選び、ア～エの記号で答えよ。なお、全て正しい場合にはオと答えよ。

- ア. ロシアにも工場進出しているが、部品の輸送や製品の輸出入の難しさから、内陸部には工場は立地していない。
- イ. かつて貿易摩擦が発生したことから、アメリカ合衆国に多くの工場が建設され、現地生産が盛んに行われている。
- ウ. 日本の自動車産業において、現地生産台数はすでに輸出台数を超えており、日本への逆輸入も進んでいる。
- エ. 自動車の購買力はその国の経済発展と強く結びついている。経済発展が本格化していないアフリカにはあまり進出していない。



出典：[http://www.toyota.co.jp/jpn/company/about\\_toyota/facilities/worldwide/index.html](http://www.toyota.co.jp/jpn/company/about_toyota/facilities/worldwide/index.html)

3 次の各時代に関わる(1)～(8)の問いに答えなさい。

(1) 縄文～弥生時代について述べた文として正しいものをア～エから1つ選び、記号で答えよ。

- ア. 縄文時代最大の集落跡が見つかった青森県の三内丸山遺跡では、当時の人々が稲作をしていたことがわかっている。
- イ. 米づくりを始めたころは、湿地を耕して水田をつくり、苗床をつくらずに種もみをじかにまいた。
- ウ. 弥生時代には、米づくりの手法とともに、金属器も大陸から伝わった。とくに鉄器はめずらしく、まつりの道具として用いられた。
- エ. 女王卑弥呼が治めた邪馬台国の場所については、九州地方とする説と近畿地方とする説が有力であり、それぞれ福岡県の板付遺跡と奈良県の纏向遺跡が注目されている。

(2) 古墳～飛鳥時代について述べた文として正しいものをア～エから1つ選び、記号で答えよ。

(注意) 解答はすべて解答用紙に記入しなさい。解答用紙のみ提出しなさい。

- ア. 堺市の大仙古墳をはじめ、古墳はおもに大和・河内に集中し、大和朝廷から離れた九州では見ることができない。
- イ. 埼玉県の稲荷山古墳から出土した鉄剣には、「オワケ」という大王の名を記した文章がきざまれており、関東地方にまで当時の大和朝廷の勢力がおよんでいたことがわかる。
- ウ. 聖徳太子が亡くなると、蘇我氏の勢いは大王をしのぐほどになった。この動きに不満をもった中大兄皇子と中臣鎌足たちは蘇我馬子を倒し、中国から帰った留学生らとともに政治改革を進めた。
- エ. 飛鳥時代の有力豪族はおもに高床の邸宅で生活をしていて、農民たちは堅穴住居での生活をつづけていた。

(3) 奈良時代について述べた文として誤っているものをア～エから1つ選び、記号で答えよ。

- ア. 平城京の外には、東西二つの市がおかれて、各地から税として集められた品々を取り引きされた。
- イ. 政治のしくみが整うにしたがい、国のなり立ちを明らかにした『古事記』・『日本書紀』が完成した。
- ウ. 天皇の命令を全国に伝える政治のしくみが整っていたので、東大寺の大仏づくりでは大量の物資と人手を集めることができた。
- エ. 鑑真が来日する直前の752年には、東大寺の大仏完成を祝う開眼式が盛大に行われた。

(4) 平安時代について述べた文として誤っているものをア～エから1つ選び、記号で答えよ。

- ア. 中国から伝わった囲碁は、『源氏物語』や『枕草子』など、この時代の文学作品のなかにも登場しており、男性貴族のみならず、宮中の女性たちもたしなむ遊びの一つに数えられた。
- イ. 世の中に対する不安や恐れから仏教が説く極楽浄土へのあこがれが強まり、貴族や天皇による熊野もうでが行われたり、極楽浄土を表現した寺などもつくられた。
- ウ. 藤原道長は、自分のむすめのために、菅原道真などの漢詩や和歌の教養をもった学者をそばにさせさせた。
- エ. 山口県の下関に位置する壇ノ浦は、源平合戦に敗れた平氏一族の終えんの地となった。

(5) 鎌倉時代について述べた文として正しいものをア～エから1つ選び、記号で答えよ。

- ア. 源頼朝は関東の武士を地頭に任命して全国各地におき、村での年貢の取り立てや犯罪の取りしまりにあたさせた。
- イ. 「征夷大將軍」とは、もとは南九州地方に住む人びとを武力で従わせる役職であったが、源頼朝が任命されてからは武家政治の代表者をさすようになった。
- ウ. 源頼朝が亡くなったあと、北条氏のもとで幕府の力はしだいに朝廷をしのぐようになり、それまでの律令を廃止して新たな武家の法律を定めた。
- エ. 筑前国の御家人である竹崎季長が描かせたとされる『蒙古襲来絵詞』には、元軍と戦う九州の御家人のすがたや季長本人が幕府に自分の手がらをうったえに行く様子が描かれている。

(6) 室町時代について述べた文として正しいものをア～エから1つ選び、記号で答えよ。

- ア. 障子やふすまで屋内を仕切る建築様式が生まれ、3代將軍の足利義満ゆかりの金閣もその様式で建てられた。
- イ. 京都の足利学校は、学問の中心地として栄え、全国から多くの武士や僧が集まって漢学を学んだ。
- ウ. 農業の生産力が上がると、民衆の力が高まり、地域のお祭りや盆おどりも盛んに行われるようになった。
- エ. 当時の京都は幕府がおかれて大いに栄え、祇園祭がこの時代に初めて行われた。

(7) 戦国時代、および安土・桃山時代について述べた文として正しいものをア～エから1つ選び、記号で答えよ。

- ア. 1560年の桶狭間の戦いでは、織田信長・徳川家康の連合軍が、駿河の戦国大名である今川義元をやぶった。
- イ. 戦国大名のなかで最初に都へ上って天下に力を示した織田信長は、京都を中心に抵抗する仏教勢力を武力でおさえこむ一方、外来宗教であるキリスト教の布教は認めた。
- ウ. 1549年のキリスト教の伝来以降、パン・カステラ・カルタ・タバコなど西洋の品々も日本に伝えられた。
- エ. 豊臣秀吉の検地と刀狩によって、武士・百姓といった身分がはっきり区別され、武士以外のものは城下町に住むことを禁じられた。

(注意) 解答はすべて解答用紙に記入しなさい。解答用紙のみ提出しなさい。

(8)江戸時代について述べた文として正しいものをア～エから1つ選び、記号で答えよ。

- ア. 初代将軍の徳川家康は、武家諸法度で大名が自分の領地と江戸を1年おきに行き来する参勤交代を定めて、将軍と大名との主従関係を確かなものとした。
- イ. キリスト教の布教を行っていたポルトガル船の来航を幕府が禁止すると、島原・天草地方を中心にキリシタンたちによる一揆が起こった。
- ウ. 元禄期には木版技術が発達し、色あざやかな浮世絵が大量につくられた。なかでも、歌舞伎役者を描いた美人画が人気を集めた。
- エ. 一日三食の食習慣が広まり、大都市となった江戸の町では、そば・にぎりずし・天ぷらなどの手軽に食べられる食事を出す屋台も発達した。

④ 次の文章を読み、(1)～(5)の問いに答えなさい。

①2008年アメリカ大統領選挙における  党の候補者争いは、ヒラリー・クリントンとバラク・オバマによる史上まれにみる接戦となった。いずれも本選で当選すれば、アメリカ政治史上、初の女性大統領、黒人大統領の誕生となることから大きな注目を集めることとなった。

結果としてヒラリー・クリントンは候補者争いに敗れ女性大統領誕生とはならなかったが、アメリカの女性参政権の歴史をふりかえってみると、女性たちの参政権を求める運動は②1848年から始まったといわれる。19世紀後半には女性団体が運動を展開し、③1920年になってようやく憲法修正第19条により「合衆国市民の投票権は、性別を理由として、合衆国またはいかなる州によっても、これを拒否または制限されてはならない」と定められ④女性の政治参加が可能となった。

(1)空欄  に入る政党名として正しいものを、次のア～エから1つ選び、記号で答えよ。

- ア. 社会      イ. 民主      ウ. 保守      エ. 共和

(2)下線部①の年、日本の国会では「アイヌ民族を先住民とすることを求める決議」が可決された。アイヌ民族について述べた文として誤っているものを、次のア～エから1つ選び、記号で答えよ。

- ア. アイヌ民族とは、古くから北海道・サハリン・千島列島などを居住地とする人びとのことである。
- イ. 江戸幕府からアイヌの人びとと交易する権利を得た松前藩は、アイヌの人びとが持ってくる大量のサケ・コンブなどを、わずかな米などと交換し、大きな利益を得ていた。
- ウ. 江戸時代、アイヌの人びとはアテルイを指導者として松前藩と戦ったが、武力によっておさえられた。
- エ. 北海道開拓を進める明治政府は、アイヌの人びとの土地を取り上げ、日本語の使用や日本名への改名を強制した。

(3)下線部②の年に、後の日露戦争において日本海軍を率いた東郷平八郎とロシア海軍(バルチック艦隊)を率いたロジェストベンスキーが生まれている。日露戦争や日本とロシア(ソ連)との関係について述べた文として誤っているものを、次のア～エから1つ選び、記号で答えよ。

- ア. 日露戦争は、日清戦争と比べて戦費や戦死者が約7倍となる、日本にとって大きな戦争であった。
- イ. 日露戦争はイギリスのなかだちによって講和条約が結ばれて終わり、日本はロシアから領土などをゆずり受けた。
- ウ. 第二次世界大戦の終わりごろ、ソ連は満州やサハリン南部などに侵攻してきた。
- エ. 第二次世界大戦後、日ソ間の国交が回復してもソ連は国後・択捉島などの北方領土を日本に返還しなかった。

(4)下線部③について、1920年代の日本の人びとの生活や社会について述べた文として正しいものを、次のア～エから1つ選び、記号で答えよ。

- ア. 日本初の日刊新聞が発行され、ラジオ放送が始まるなど、新しいメディアが登場した。
- イ. 学校給食が始まり、おなかをすかせた日々を送っていた子どもたちにとって、栄養を補給する貴重な機会となった。

(注意) 解答はすべて解答用紙に記入しなさい。解答用紙のみ提出しなさい。

ウ. 日本が統治していた朝鮮では、朝鮮の人びとの姓名を日本名に改めたり、神社をつくって参拝させたりする政策が進められた。

エ. デパートの店員やタイピスト・バスの車掌・電話の交換手など、これまでなかった新しい仕事が登場した。

(5) 下線部④について、近現代の日本における女性の社会進出について述べた文として誤っているものを、次のア～エから1つ選び、記号で答えよ。

ア. 津田梅子は、岩倉使節団とともにアメリカに渡り、帰国後、学校をひらき女性の英語教師育成に力を注いだ。

イ. 明治半ばから繊維工業が発達し、製糸工場では農村出身の女性たちが低い賃金で長時間働いた。

ウ. 大正時代に、平塚らいてう・与謝野晶子・樋口一葉らが女性の自由と権利の拡大をめざす運動を進めた。

エ. 女性参政権は普通選挙法成立から約20年後に実現し、その翌年の総選挙では女性国会議員も誕生した。

5 次の(1)～(3)の問いに答えなさい。

(1) 次の a～e の文には、それぞれ誤りが1か所ある。解答欄に誤っている部分の番号を示し、正しい語句に書きかえよ。

a. 1889年に発布された大日本帝国憲法は、①ドイツの憲法を模範にしてつくられ、主権者は②天皇であった。国民には③兵役の義務があり、一定額の税金を納めた者だけが④衆議院・貴族院の両院の議員を選ぶことができた。

b. 日本国憲法では、外国との争いごとを①武力で解決しない、そのための②戦力を持たないと定めている。また、日本の国会と政府は、「核兵器を持たない、つぐらなない、③持ちこませない」こと(非核三原則)を定め、平和主義の精神を実現する努力をしている。また、原子力発電所の輸出は④禁止している。

c. 日本国憲法によれば、外国との条約を結ぶのは①内閣であり、その条約は②国会が承認し、③天皇が公布する。日本が国際連合に加盟したのは、1956年に④中華人民共和国と国交を回復したのちのことである。

d. 1970年代初めに出た四大公害裁判の判決では、①すべての裁判で企業の責任が認められた。国は、1967年に②公害対策基本法を定め、1971年に公害対策などを仕事とする③環境庁ができ、のちにそれぞれ環境基本法、環境省へとかわった。一方、環境ホルモンなどの危険な物質や病気の対策をするのは④経済産業省の仕事である。

e. 国際連合は、1972年にスウェーデンのストックホルムで①人間環境宣言を採択したが、環境問題がさらに深刻化したために、1992年にブラジルのリオデジャネイロで②国連貿易開発会議を開いた。この会議では、③持続可能な社会を実現するために、④開発を進めながら環境を守っていくための協力の必要性が合意された。

(2) 次の文のうち、誤っているものをア～エから1つ選び、記号で答えよ。

ア. 1950年に始まった朝鮮戦争では、大韓民国にはアメリカ合衆国が、朝鮮民主主義人民共和国には中華人民共和国が軍隊を送った。

イ. 1960年から始まったベトナム戦争は、化学兵器の使用や空爆を繰り返したアメリカ合衆国の軍隊が撤退した後、北ベトナム側の勝利に終わり、南北が統一された。

ウ. 1991年にイラクによる隣国クウェート占領をきっかけとする湾岸戦争が起こり、アメリカ合衆国を中心とする多国籍軍が組織されたが、平和主義をかかげる日本はこの戦争には関わりを持たなかった。

エ. 1991年、多くの民族が暮らしていたユーゴスラビアが崩壊すると、民族対立などから内戦状態になり、大量の難民が発生した。

(3) 日本国憲法に関する、次の文中の空欄( a )・( b )に適切な語句を答えよ。

われわれは、憲法の定める( a )を正しく行使するとともに、おたがいの自由を尊重しなければならない。すなわち、思想や言論や集会の自由が保障されているが、それは他人の( a )を否定し、( b )を否定するものであってはならない。健康で文化的な生活とは、たんに経済的なことがらにかかわるものではない。自分とは違う他者の生き方を認めず、他者の自由を否定し、他者の生きる意欲・生命を奪うことは、( b )を否定するものである。

平成27年度 久留米大学附設中学校 入学試験問題

解答用紙

受験番号	
------	--

中学社会

(注意) 解答はすべて解答用紙に記入しなさい。解答用紙のみ提出しなさい。

(この欄には記入しない)

(1)	(2)			(3)	(4)		
	A	B	C		①	②	③
						阿蘇	国東半島

*
-----

(5)	(6)		
	ア	イ	ウ

(1)	(2)	(3)

(1)	(2)	(3)	(4)	(5)	(6)	(7)	(8)

(1)	(2)	(3)	(4)	(5)

(1)					
a		b		c	
番号	語	番号	語	番号	語

(1)			
d		e	
番号	語	番号	語

(2)	(3)	
	a	b