

令和4年度
広島学院中学校入学試験問題

社 会

【 40分 】

◎試験開始まで、問題用紙にも解答用紙にも手をふれてはいけません。
次の注意を読みなさい。

注 意

1. 問題用紙

この問題用紙は、2ページから35ページまでで、問題は4問あります。

2. 解答用紙

解答用紙は別の用紙1枚で、この問題用紙にはさんであります。

3. 記入・質問などの注意

(1) 答えはすべて解答用紙のわくの中に、ていねいな字で記入しなさい。

(2) 記号を選択する問題では、問題の指示する記号で答えなさい。

(3) 印刷が悪くて字のはっきりしないところなどがあれば、手をあげて監督
の先生に知らせなさい。

[1] 広島県の歴史や文化について述べたA～Fの文章を読んで、後の問いに答えなさい。

A 東広島市には、①三ツ城古墳という県内で最大の前方後円墳や②安芸国分寺の跡があり、共に公園として整備されています。

B 呉市には、倉橋島に③遣唐使船を展示する施設があります。また市街地から倉橋島に行く際に通っていく④音戸の瀬戸には、この地に関する人物の像があります。

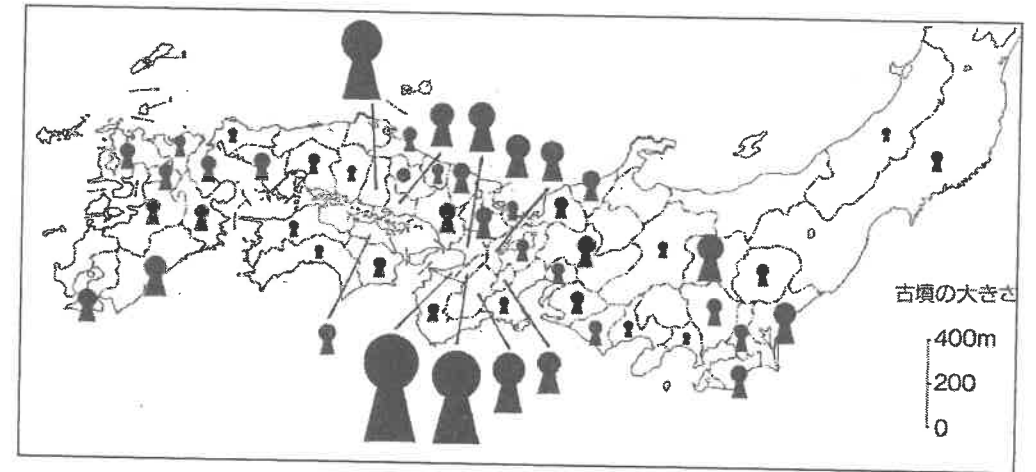
C 山県郡北広島町には、⑤鎌倉時代から戦国時代までこの地の支配者であった吉川氏関係の遺跡が数多くあります。特に吉川氏城館跡からは戦国武将の生活が想像できます。

D 広島市の安佐南区には、江戸時代につくられた八木用水があります。この水路は、⑥江戸時代の農業を支え、地域の米の取れ高の安定に貢献しました。

E 山県郡安芸太田町には、この地で「たたら製鉄」を営んでいた経営者が1781年につくった⑦吉水園という庭園があります。かつては、ここに広島藩主や様々な文化人が訪れるなどしました。

F 福山市には⑧平安時代に空海によって創建されたという明王院という寺があります。また草戸千軒町という、鎌倉時代から戦国時代にかけておよそ300年間栄えた町の遺跡があります。⑨この遺跡の出土品は広島県立歴史博物館で保存・展示されています。

問1 下線部①について、次の図は4世紀末期～5世紀末期のそれぞれの地域で最も大きい前方後円墳の分布を示したものです。この図に関して、考察を行った下の文章の(1)・(2)にあてはまる語句を答えなさい。



(朝日百科『歴史を読みなおす2 古墳はなぜつくられたのか』より作成)

大きい前方後円墳が(1)に多いことから、この地域に(2)が存在したことが考えられる。また、日本各地に分布する前方後円墳も同じ技術で作られていることや副葬品に共通性があることから(2)の権力の広がりが見える。

問2 下線部②のような寺は全国に建てられました。この寺を建てるように命じた天皇の名前を漢字で答えなさい。

問3 下線部③について、次の文章はこの船で唐へ渡った人物の説明です。
これを参考にして、この人物の名前を答えなさい。

留学生として唐にわたり、唐の皇帝にも仕えて高い位につきましたが、
日本に帰ることができず、日本のことを思いながら次の歌を残しました。

「天をあおいではるか遠くをながめれば、月がのぼっている。あの月は奈良の春日にある、三笠山にのぼっていたのと同じ月なのだなあ」

問4 下線部④に関する次の写真ア・イを見て、写真アの人物が行ったこと
について説明した下の文章の(1)・(2)にあてはまる語句
を答えなさい。

写真ア



(呉市webページより引用)

写真イ



(呉市観光情報webページより引用)

写真アの人物は、(1) 貿易を行うための重要な航路として写真イの
音戸の瀬戸を切りひらきました。また、(2) を整備し、一族の守り神
としてまつり、海上交通の安全を祈りました。

問5 下線部⑤の時期の出来事や様子について述べた文として誤っている
ものを次から2つ選び、記号で答えなさい。

あ 鎌倉幕府は、京都の警備や朝廷の監視を行うために京都所司代を
設置した。

い 足利義政によって京都の室町に花の御所がつくられた。

う 学問がさかんになり、足利学校には全国から学生が集まった。


え 京都の寺で修業した雪舟が、中国にわたって水墨画を学び、自然
を題材とする作品をたくさん残した。

お 現在にも受けつがれている茶の湯や生け花が流行した。

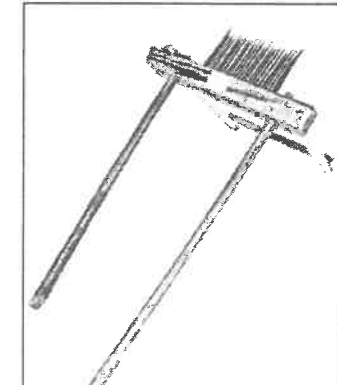
か 稲を刈り取ったあとに麦などを作る二毛作が始まった。

問6 下線部⑥について、写真ア・イは江戸時代に農業で使用されていた
道具です。写真ア・イは何をするために使われていた道具ですか、そ
れぞれ説明しなさい。

写真ア



写真イ



問7 下線部⑦について、この庭園がつくられた後の出来事として正しいものを次から2つ選び、記号で答えなさい。


- あ 江戸幕府が全国に一国一城令を出して、大名が住む城以外の城の破壊を命じた。
- い 江戸幕府が、キリスト教を禁止し、信者を取りしめるようになった。
- う 長州藩や薩摩藩などでは、藩の政治を改革する動きが出てきた。
- え 近松門左衛門の作品が、歌舞伎や浄瑠璃で上演された。
- お 琉球王国が薩摩藩に征服され、以後、将軍や琉球国王がかわるごとに江戸へ使節を送るようになった。
- か 天保のききんのとき、大阪の役人であった人物がまちの人々を救おうと大阪で反乱を起こした。

問8 下線部⑧のころの出来事として正しいものを次から1つ選び、記号で答えなさい。

- あ 菅原道真の意見によって、遣唐使がさかんに派遣されるようになった。
- い 紫式部が『枕草子』というすぐれた随筆を書いた。
- う 都が京都の平城京から奈良の平安京に移された。
- え 藤原道長によって平等院鳳凰堂が建てられた。
- お 藤原清衡によって中尊寺が建てられた。

問9 下線部⑨について、下の写真は草戸千軒町遺跡の出土品です。この出土品を見て太郎さんと次郎さんと三郎さんが考えたことをカードに書きました。下のカードの(1)・(2)にあてはまる語句を答えなさい。なお、次郎さんと三郎さんのカードの(1)には同じ語句が入ります。

草戸千軒町遺跡の出土品



(広島県教育委員会webページより引用)

太郎さんのカード

中国や朝鮮の陶磁器が出土していることから、中国・朝鮮と貿易していたことがわかります。

次郎さんのカード

瀬戸焼は現在の愛知県から運ばれてきたものです。この焼物は吉川氏城館跡からも出土しています。このことから、この時代に瀬戸焼は(1)として流通していたことがわかります。

三郎さんのカード

貿易品や各地の(1)が、共通して出土していることから、この時代は商業が発達し、人々がたくさん集まる場所に定期的に(2)が開かれるようになっていたことがわかります。

[2] 次の各問いに答えなさい。

問1 次の文章は北海道函館市にある五稜郭を説明したものです。また、下の写真は、五稜郭を上から見た写真です。文章を読み、写真を参考にして、(1)～(3)に答えなさい。

1854年に(①)条約が結ばれ、日本は(②)と函館を開港しました。この際、函館の奉行所(役所)を外国の軍隊から守るために築かれたのが五稜郭です。

この城は、旧幕府軍と明治新政府軍の戦いの舞台となりました。この戦いに勝利した③明治新政府は、天皇を中心とした国づくりを始めました。

写真



(1) 五稜郭のような、星形をした城は日本に2か所しかありません。このような城の建築方法はどこから伝えられたと考えられますか。次から1つ選び、記号で答えなさい。


あ 朝鮮 い 琉球 う 西洋 え 中国

(2) (①)・(②)にあてはまる語句を漢字で答えなさい。

(3) 下線部③について、新しい国づくりの説明として、正しいものを次から1つ選び、記号で答えなさい。

- あ 伊藤博文の名で、五箇条の御誓文が発表された。
- い 廃藩置県が行われ、府知事・県令が選挙で選ばれるようになった。
- う 政府が学制を定めた翌年、ほぼすべての男子が就学した。
- え 身分制度は改められたが、結婚や就職などでの差別はなくなかった。

問2 次の2つの絵は、1872年、群馬県に完成した官営工場の様子を描いたものです。これらの絵を見て、この工場がまねようとした欧米の工業生産の様式(やり方)を説明しなさい。



問3 日清戦争について、(1)・(2)に答えなさい。

(1) このころの日本の軍隊について説明した次の文中の(A)にあてはまる法令を答えなさい。

日本は、(A)を定め、富国強兵政策を推し進めたことによって、近代的で訓練された軍隊を組織することができた。

(2) 次の写真は、この戦争の講和条約が結ばれた「春帆楼」という建物の写真です。この建物は現在の何という都市にありましたか。都市名を漢字で答えなさい。



問4 日露戦争について説明した、次の文章中の(A)・(B)にあてはまる語句の組み合わせとして正しいものを下のあ～かから選び、記号で答えなさい。

日本は、ロシアの勢力拡大を抑えたい(A)と同盟を結び、日露戦争を戦いました。戦争で、多くの犠牲者を出しながらも、両国のなかだちをした(B)のポーツマスで講和条約が結ばれ、ロシアが韓国から退くことが決められました。

- あ A アメリカ B フランス い A アメリカ B イギリス
 う A ドイツ B アメリカ え A ドイツ B イギリス
 お A イギリス B アメリカ か A イギリス B フランス

問5 次の資料1と資料2を比較すると、沖縄戦においては軍人・軍属等の戦没者数に対して、民間人の戦没者数の割合が大きいことがわかります。これはなぜですか。理由を説明しなさい。

資料1 第二次世界大戦における日本の戦没者数(推計)

軍人の戦没者数	民間人の戦没者数	合計
230万人	80万人	310万人

資料2 沖縄戦における戦没者数(推計)

沖縄県出身軍人・軍属* および他都道府県出身兵士の 戦没者数	民間人(一般沖縄県民) の戦没者数	合計
9.4万人	9.4万人	18.8万人


*軍属…軍隊に関わる仕事をする民間人

(資料1, 2は、厚生労働省資料、総務省資料などより作成)

問6 次の写真は、1948年に作られた広島市立高女原爆慰霊碑^{げんぱく いれいひ}です。中央の少女が持つ箱には、「 $E=MC^2$ 」が刻まれています。作者は「原爆」という文字を使用せず、代わりに原爆の原理となった原子力エネルギーの公式「 $E=MC^2$ 」を刻みました。

その理由を説明した次の文章中の□にあてはまる言葉を答えなさい。

当時は、□ため、原爆という文字を使うことができなかった。また、同じ理由でラジオ放送や報道も規制がかけられていた。



問7 次の資料はサンフランシスコ平和条約第2条の内容をわかりやすくまとめたものです。(A)・(B)には、日清戦争以降、日本が植民地とした地域の名前が入ります。(A)・(B)にあてはまる地名を答えなさい。

資料

- ・日本国は朝鮮の独立を承認して、済州島^{チェジュ}…(中略)…に対するすべての権利などを放棄^{ほうき}する。
- ・日本国は、初めて植民地として領有していた(A)及び澎湖諸島^{ボンフー}に対するすべての権利などを放棄する。
- ・日本国は千島列島並びに日本国が1905年9月5日のポーツマス条約の結果として主権^{かくとく}を獲得した(B)の一部…(中略)…に対するすべての権利などを放棄する。

問8 日本の中国への勢力拡大について述べた文として、誤っているものを次から1つ選び、記号で答えなさい。

- あ 満州事変で日本は満州を占領^{せんりょう}すると、中国から切り離^{はな}して満州国として独立させた。
- い 国際連盟は満州の独立を認めなかった^{だっ}ので、日本は国際連盟を脱退^{たい}した。
- う 日中戦争が始まって半年もたたないうちに、日本は首都ナンキン(南京)を占領した。
- え 日中戦争が始まってから終わるまで、日本国内は好景気にわき、資源の輸入も急激に増えていった。

問9 現在の日中関係について述べた文として、誤っているものを次から1つ選び、記号で答えなさい。

あ 名目国内総生産（GDP）において、中国は日本を抜き、世界第2位に成長した。

い 日本政府は「尖閣諸島に関する領土問題は存在しない」と表明している。

う 共同声明文は出されたものの、両国は、依然、平和友好条約を結んでいない。

え 日本の最大の貿易相手国は中国である。

[3] 次のA・Bの問題に答えなさい。

A 太郎さんたちは社会科の授業で次の新聞記事に関してグループ学習を行いました。これについて、後の問いに答えなさい。

新聞記事

18歳成人、22年4月から 改正民法が成立
成人年齢を現行の20歳から18歳に引き下げる①改正民法が6月13日午前の参議院本会議で可決、成立した。1876年の太政官布告以来140年以上続く大人の定義が変わる。2022年4月1日に施行する。
若者が親の同意なくローン^{*1}などの契約を結べるようになる。既に18歳以上に引き下げられた②選挙権年齢と合わせ、若者の社会参画を促す。女性が結婚できる年齢を16歳から18歳に引き上げて男女ともに18歳にする。成人年齢引き下げに合わせ、生活に関わるルールを定めた22本の法律についても「20歳未満」「未成年者」などの年齢要件を改める。
健康被害やギャンブル^{*2}依存症への懸念から、飲酒や喫煙、競馬や競輪などは現在の20歳の基準を維持する。
親の同意なく契約した場合に原則取り消せる規定は、18、19歳は適用されなくなる。野党などから消費者被害の拡大を懸念する声が出ている。
(中略)
施行に向けた課題は多い。成人年齢引き下げで新成人が18歳になる年が大学受験などに重なるため、成人式の開催時期や方法に関係省庁の会議で検討する。少年法の適用年齢も20歳未満から18歳未満と変更すべきかどうかを法務省の法制審議会で議論している。

(日本経済新聞2018年6月13日一部改)

^{*1}ローン…銀行などからお金を借りて、後から少しずつ返していくこと。

^{*2}ギャンブル…金品をかけて争う勝負事。

問1 新聞記事に関する発言として、内容の正しいものを次から1つ選び、記号で答えなさい。

- あ 成人年齢が18歳になると、「成人の日」に、成人式を開催しやすくなるからいいね。
- い 高校在学中でも18歳になれば、お酒を飲んだり、タバコを吸ったり、ギャンブルができるようになるね。学校の校則で禁止できなくなるね。
- う 結婚できる年齢が男女で違うのは平等じゃないよね。成人が早くなって、男女ともこれまでより早く18歳で結婚できるようになるんだね。
- え 大学生で一人暮らしをする時にも、18歳になっていれば、自分でローンを利用して買い物ができるようになるね。お金が返せなくならないか心配だね。
- お 少年法は、今は18歳から適用されているけど、これからはもっと低い年齢から罰せられるようになるかもしれないね。

問2 下線部①について、法律の改正には、法律の制定と同じ手続きが必要です。その手続きとして正しいものを次から1つ選び、記号で答えなさい。

- あ 衆議院と参議院のそれぞれで、すべての議員の3分の2以上の賛成で可決し、さらに国民投票で過半数の賛成を得る。
- い 衆議院と参議院のそれぞれで、出席している議員の過半数の賛成で可決し、住民投票で過半数の賛成を得る。
- う 衆議院と参議院のそれぞれで、出席している議員の過半数の賛成で可決する。
- え 内閣で、内閣総理大臣とすべての国務大臣の賛成で可決する。
- お 地方議会で、出席している議員の過半数の賛成で可決する。

問3 下線部②について、(1)～(3)の問いに答えなさい。

(1) 太郎さんは選挙権年齢がどのように移り変わってきたかを調べ、年表にまとめました。下線部(あ)～(け)のうち、誤っている箇所を3つ見つけて、その記号と正しい語句を答えなさい。

年表

年	出来事	選挙権
1881	国会開設の勅諭 <small>ちよくゆ</small> が出される	なし
(あ)1889	大日本帝国憲法が發布される	直接国税(か)3円以上を納めた満25歳以上の男子
1890	第一回(う)貴族院議員選挙が行われる	
(い)1925	男子普通選挙制 <small>ふつう</small> が実現する	満(き)25歳以上の男子
1945	(え)男女普通選挙制が実現する	満(く)20歳以上の男女
1946	日本国憲法が(お)施行される	
1947	第一回参議院議員選挙が行われる	
1950	公職選挙法が制定される	満(け)18歳以上の男女
2015	選挙権年齢が引き下げられる	

(2) 近年の選挙では、「投票時間の延長」や投票日より前に投票できる「期日前投票制度」が導入されています。これらは何を目的としているのですか。答えなさい。

(3) 次郎さんは選挙権年齢や政治のしくみが他の国ではどのようになっているのか調べ、表にまとめました。表のA～Dにあてはまる国名の組み合わせとして正しいものをあ～くから選び、記号で答えなさい。

表 各国の選挙権年齢と政治のしくみ

国名	A	B	C	D
選挙権	18歳以上	18歳以上	19歳以上	なし
政治	50の州が合わさっている。大統領が世界に大きな影響力を持つ。上院と下院の二つの議会がある。二つの政党が競っている。	多くの民族が暮らしている。一つの大きな議会がある。一つの政党が中心となって国家の政治を指導している。	同じ民族が二つの地域に分断された状態を統一することが課題となっている。大統領の権限が強い。議会は一つだけである。	イスラム教の指導者が政治に大きな力をもつ。国王を助ける評議会のメンバーは男性が中心となっている。

- あ A アメリカ B イギリス C 韓国 D インド
 い A アメリカ B イギリス C ドイツ D インド
 う A ブラジル B 中国 C 韓国 D インド
 え A ブラジル B 中国 C ドイツ D インド
 お A アメリカ B 中国 C 韓国 D サウジアラビア
 か A アメリカ B 中国 C ドイツ D サウジアラビア
 き A ブラジル B イギリス C 韓国 D サウジアラビア
 く A ブラジル B イギリス C ドイツ D サウジアラビア

B 基本的人権に関する国内外での動きについて、後の問いに答えなさい。

問1 「黒い雨」訴訟^{そしう}について、(1)・(2)に答えなさい。

(1)「黒い雨」について説明した次の文章の(あ)・(い)にあてはまる語句を答えなさい。

「黒い雨」とは、(あ)後に降った雨のことです。この雨は灰やすずで黒くなっていただけでなく、(い)を含んでいたため、人体への影響^{えいさう}が考えられています。

(2) 次の資料1は、2020年7月から2021年7月までの「黒い雨」訴訟についてまとめたものです。資料1に関する説明として、正しいものを下のあ～えから1つ選び、記号で答えなさい。

資料1

2020年7月	広島県・広島市は、「黒い雨」訴訟を起こした人たちは「黒い雨」を浴びた人などを援護する法律の救済対象外だとしてきました。しかし、広島地方裁判所は、救済対象であるとする判決を出しました。
2020年8月	上の判決に対して、国・県・市は、広島高等裁判所に訴えることにしました。
2021年7月14日	広島高等裁判所は、広島地方裁判所の2020年7月の判決を支持しました。
2021年7月16日	県と市は厚生労働大臣に、県と市がさらに上級の裁判所に訴えないことを認めるように要請しました。
2021年7月26日	国は、県と市がさらに上級の裁判所に訴えることを断念すると表明しました。

- あ この訴訟では、国・県・市が原告側となり、「黒い雨」を浴びた人たちが被告側となった。
- い 広島地方裁判所は、裁判員裁判によって2020年7月の判決を下した。
- う 2021年7月16日に県と市は、国の行政組織や地方自治・通信などに関する仕事を行う省庁の大臣に要請を行った。
- え 広島高等裁判所の判決後、三審制というしくみに基づいて県と市はさらに上級の裁判所に訴えることができたが、それを行わなかった。

問2 広島市で行われているユニバーサルデザインの取組みについて述べた文として、誤っているものを次から1つ選び、記号で答えなさい。

- あ 広島県立美術館は、外国人の観光客を増やすため、海外の有名な建築家が設計したものである。
- い 広島市中心部の地下街のトイレには、赤ちゃんのおむつ替え用のシートが設置されている。
- う 市の政治に関する広報紙を発行する際には、その内容の音声をホームページ上でも配信している。
- え 広島平和記念資料館では、敷地内通路や玄関、出入口の段差をなくしている。

問3 昨年、東日本大震災から10年を迎えました。震災前の福島第一原子力発電所の主な電力供給先だった地域を次の資料2中のあ～えから1つ選び、記号で答えなさい。

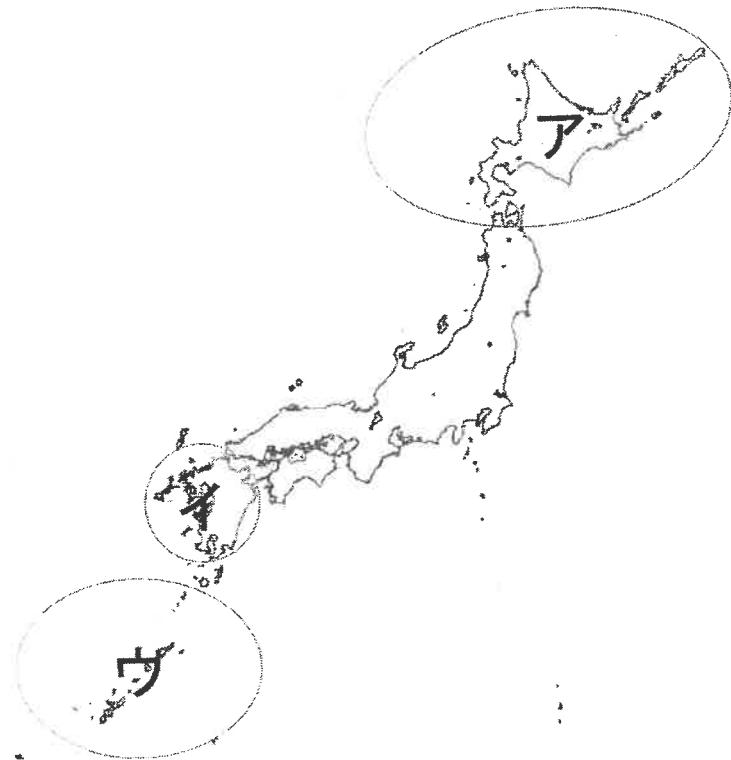
資料2



問4 昨年開かれた東京オリンピックのマラソン競技のスタート地点では、その地の民族の伝統舞踊が披露されました。この民族について説明した次の文章の(A)～(C)にあてはまる語句・記号の組み合わせとして、正しいものを次ページのあ～こから1つ選び、記号で答えなさい。

この民族は(A)と呼ばれており、古くから資料3中の(B)の地域を中心に暮らしていました。この地域では明治時代以降に、この民族を日本国民の一員とするための同化政策が進められ、彼ら独自の文化が制限または禁止されました。その後、1997年に彼ら独自の文化を守るために「(A)文化振興法」が制定され、2019年に彼らの(C)としての権利が正式に認められました。

資料3



	A	B	C
あ	アイヌ	ア	移住民
い	アイヌ	ア	先住民
う	アイヌ	イ	移住民
え	アイヌ	イ	先住民
お	アイヌ	ウ	移住民
か	クマソ	ア	先住民
き	クマソ	イ	移住民
く	クマソ	イ	先住民
け	クマソ	ウ	移住民
こ	クマソ	ウ	先住民

問5 資料4は中国の地図です。資料4中のアの地域に関する資料5の内容を参考に、アの地域の名称として正しいものをあ～えから1つ選び、記号で答えなさい。

資料4



資料5

- ・アの地域は、中国に住むある少数民族が多く居住する地域です。
- ・この少数民族は、主にイスラム教を信仰しています。
- ・中国は、この少数民族に対する人権問題を国際社会から指摘されています。
- ・アの地域では、大規模な綿花生産が行われています。

- | | |
|----------------|------------|
| あ 香港特別行政区 | い チベット自治区 |
| う シンチヤンウイグル自治区 | え 内モンゴル自治区 |

[4] 日本の地理について、後の問いに答えなさい。

問1 次のA～Cは、日本の世界自然遺産についての説明です。その世界自然遺産がある都道府県を流れている川を下のあ～えから選び、それぞれ記号で答えなさい。あてはまる川がない場合は、解答欄に「×」と答えなさい。

- A 中央に宮之浦岳をはじめとする高い山々がそびえています。年間4000～10000mmもの多雨に恵まれていることなどから、樹齢数千年の杉をはじめとする世界でも貴重な森林が広がっています。
- B 人の影響をほとんど受けていない、原始的なブナ天然林が世界最大級の規模で、2つの県にまたがって分布しています。広大な山地のうち、特に林道などの整備が全く行われていなかった中心地域が世界自然遺産に登録されました。
- C 流氷が接岸することにより、海の生態系と陸の生態系が関係しあう特殊な環境が見られます。国際的に貴重な動植物の生息地にもなっており、生物多様性にとっても重要な地域です。

- あ 十勝川 い 雄物川 う 筑後川 え 阿賀野川

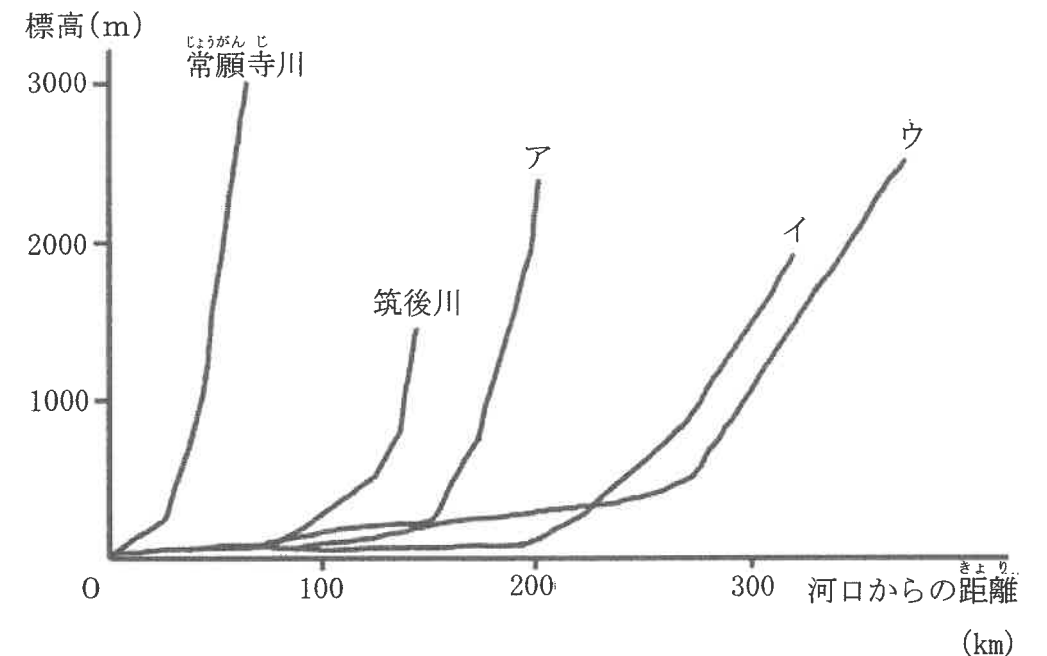
問2 次のA～Cは日本のある川の説明です。次ページの図中のア～ウは、A～Cのいずれかの川を示しています。A～Cとア～ウの組み合わせとして、正しいものを次ページのあ～かから選び、記号で答えなさい。

A 日本海に注ぐ大きな川で、長野県を流れている間と下流の県を流れている間で川の名前が変わります。古くは「大川」などと呼ばれていましたが、のちの時代に上流の地域の旧国名をとった呼び名で親しまれるようになりました。

B 「坂東太郎」の異名を持つ暴れ川の一つで、江戸時代の初期には流路を変更された歴史をもちます。国内の経済活動上、重要な役割を果たす大きな川です。

C 標高2000メートル以上を水源とし、南西に流れます。昔はたびたび水害が起き、流域の人々が古代から治水に苦勞し、輪中などの工夫がなされました。

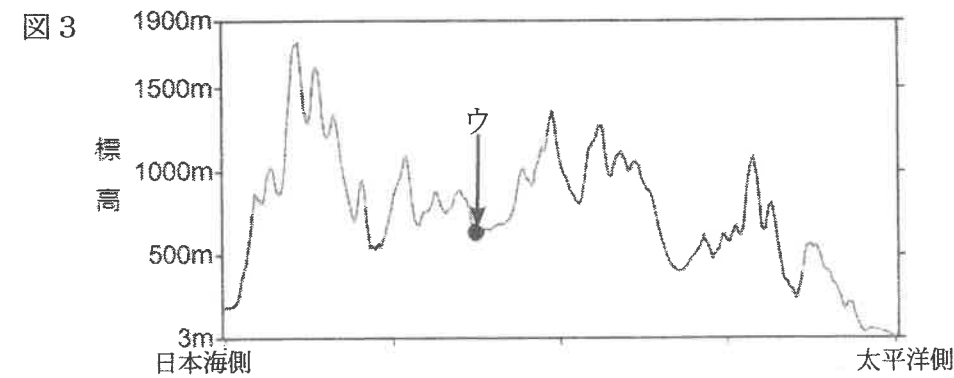
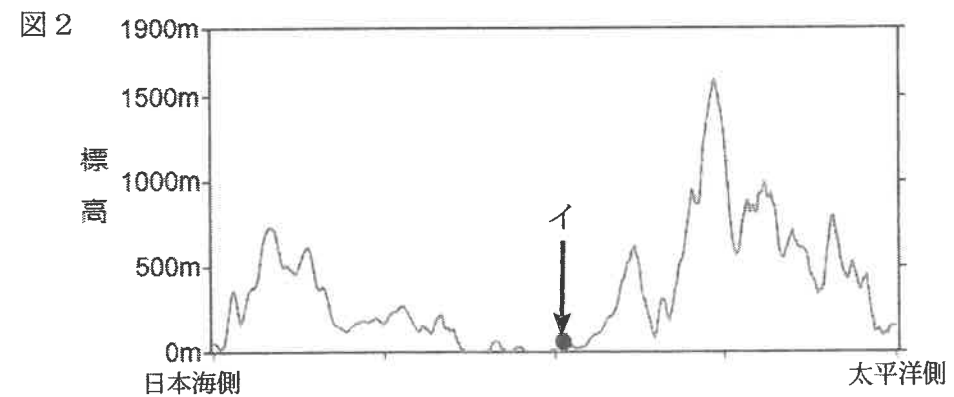
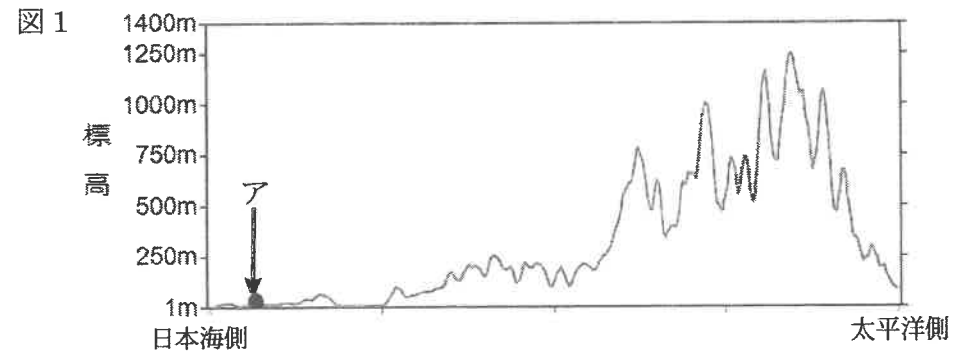
図 日本の河川の長さ^{かたむ}と傾き



(国土交通省 web ページ等から作成)

- | | | | |
|---|-----|-----|-----|
| あ | A-ア | B-イ | C-ウ |
| い | A-ア | B-ウ | C-イ |
| う | A-イ | B-ア | C-ウ |
| え | A-イ | B-ウ | C-ア |
| お | A-ウ | B-ア | C-イ |
| か | A-ウ | B-イ | C-ア |

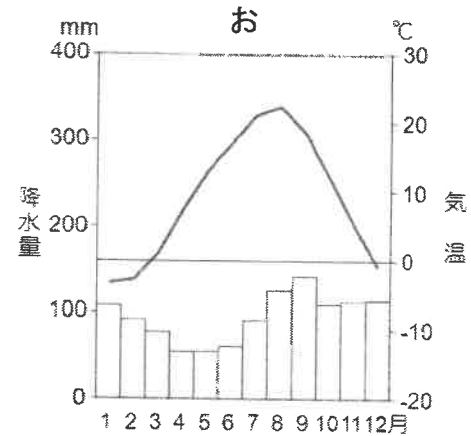
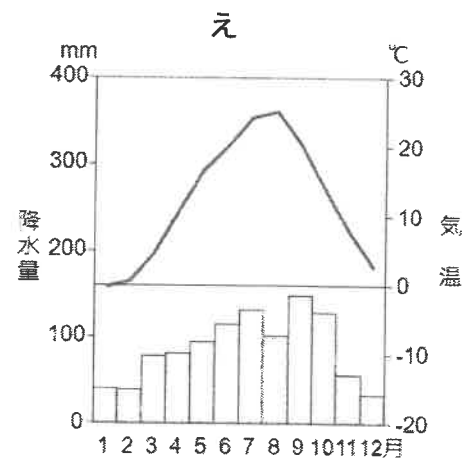
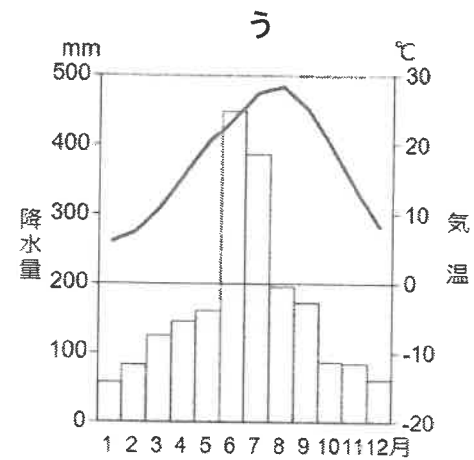
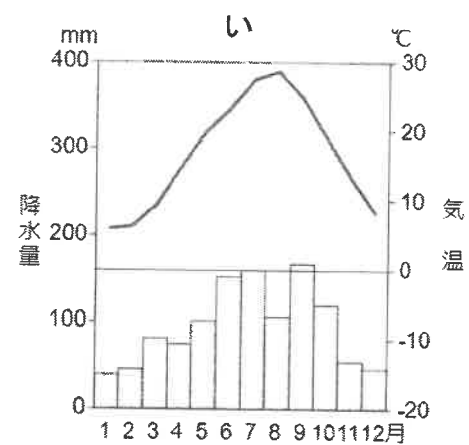
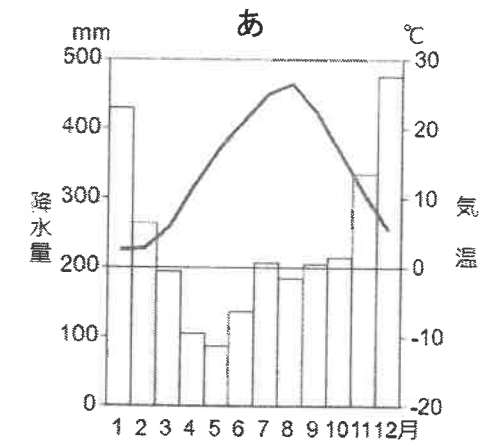
問3 次の図1～3は、次ページの地図中A-B, C-D, E-Fの地形断面図のいずれかを示しています。図中のア, イ, ウの地点の雨温図を、30ページの選択肢あ～おから選び、それぞれ記号で答えなさい。



※ 図1から3の日本海側から太平洋側までの距離は異なっています。



<選択肢>



※ 折れ線グラフは気温を、棒グラフは降水量を示しています。気温、降水量は、1991～2020年の平均値です。

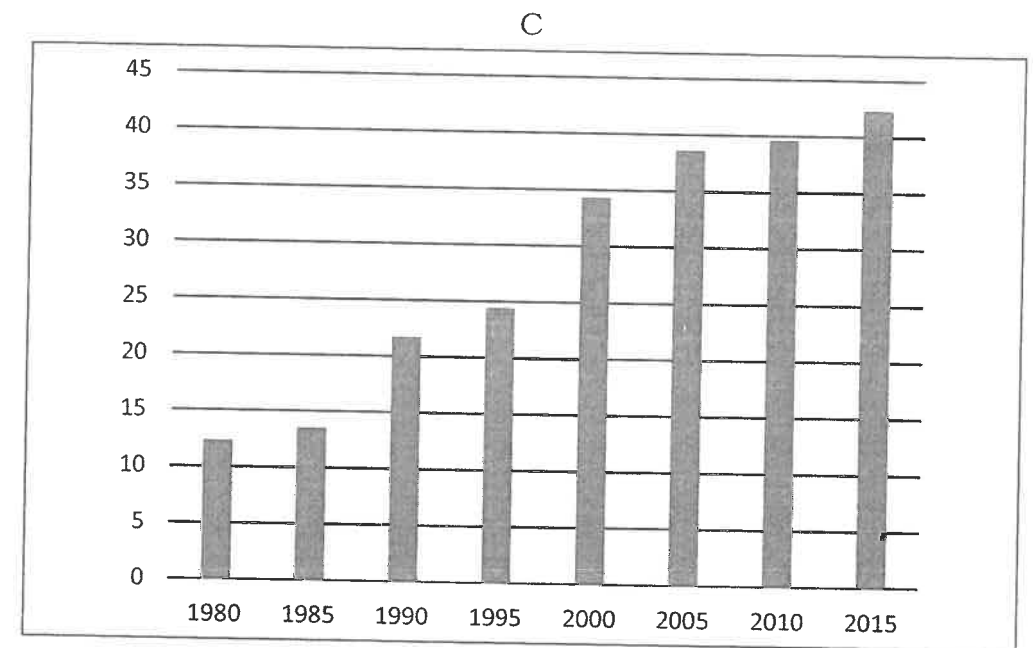
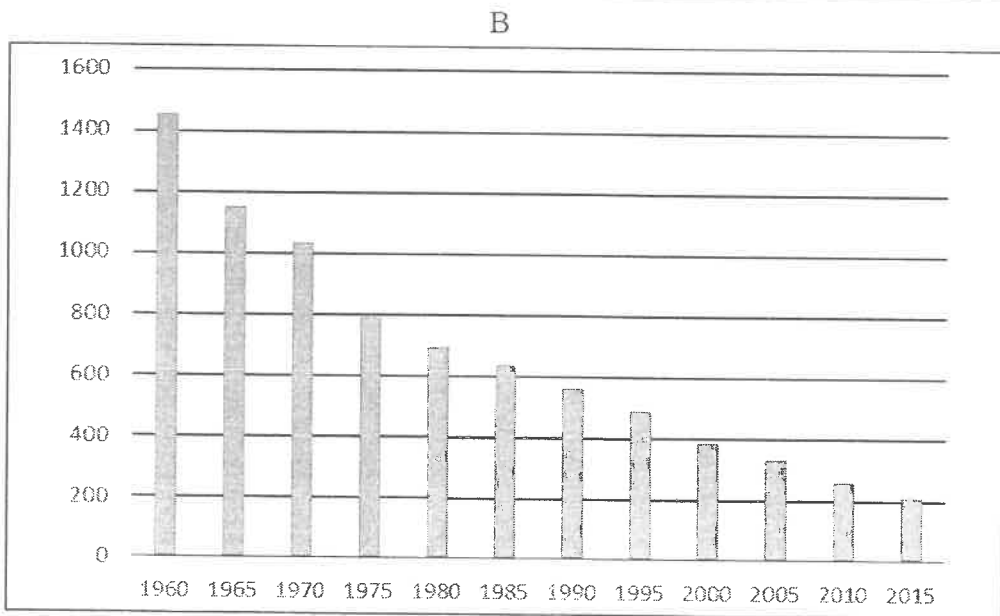
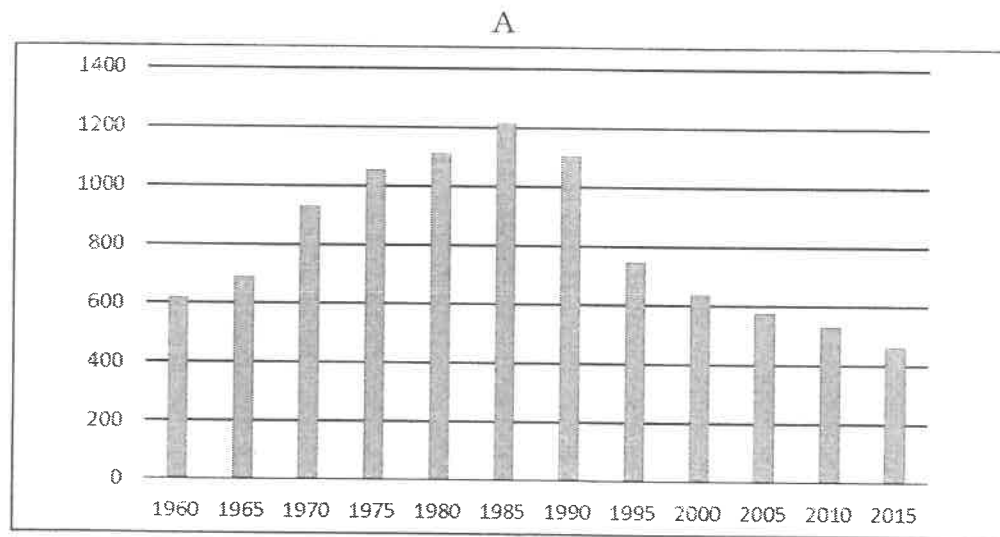
問4 次の表中の道県には、北海道、愛媛、長崎、鹿児島、沖縄のいずれかの道県があてはまります。愛媛、長崎、鹿児島にあてはまる道県を表中のあ～おから選び、それぞれ記号で答えなさい。

道県	海岸線の長さ (km) 【2017】	農業産出額 (億円) 【2018】	漁業漁かく量※ (千トン) 【2018】
あ	4446	12593	877
い	4171	1499	291
う	2643	4863	64
え	2029	988	16
お	1704	1233	75

※湖、川の漁かく量^{りょう}を除く。

(日本国勢図会2020/2021より作成)

問5 次のA～Cは、農業人口のうつり変わり（万人）、漁かく量^{ぼうき}のうつり変わり（万トン）、耕作放棄地の面積のうつり変わり（万ha）のいずれかのグラフです。組み合わせとして正しいものを、次ページのあ～かから1つ選び、記号で答えなさい。



グラフの表題	あ	い	う	え	お	か
農業人口の <u>う</u> つり変わり	A	A	B	B	C	C
漁かく量 ^{ぼうき} の <u>う</u> つり変わり	B	C	A	C	A	B
耕作放棄地の面積の <u>う</u> つり変わり	C	B	C	A	B	A

（A～Cのグラフは、農林業センサス・海面漁業生産統計調査、農業構造動態調査などより作成）

問6 領海・^{はいた}排他的経済水域について説明した文A～Cの正誤の組み合わせとして、正しいものを下のあ～くから1つ選び、記号で答えなさい。

A 排他的経済水域の^{はんい}範囲内では、水産資源や鉱物資源を自分の国だけで利用できる権利が認められている。

B 領海とは、自国の海岸線から12海里までの海のことをいい、許可なく他の国の船などが入れない決まりがある。

C 領土・領海・排他的経済水域の上空を領空という。








	A	B	C
あ	正	正	正
い	正	正	誤
う	正	誤	正
え	正	誤	誤
お	誤	正	正
か	誤	正	誤
き	誤	誤	正
く	誤	誤	誤

問7 下の資料のように、インターネット上の多くのショッピングサイトでは、売り上げを増やすために人によって異なるおすすめの商品が表示されるようになっています。どのようなしくみで、それぞれの人に合わせたおすすめの商品を表示させているのですか。次の語句をすべて用いて、説明しなさい。

買った商品 人工知能 (AI)

資料

Aさん・Bさん・Cさんのそれぞれのパソコン画面に表示されるおすすめの商品

	 Vシャツ (白)	 Vシャツ (ピンク)	 ぼうし	 ジャケット
 Aさん	—	○ おすすめ	—	○ おすすめ
 Bさん	○ おすすめ	—	—	○ おすすめ
 Cさん	—	○ おすすめ	○ おすすめ	—

※ 資料中の「—」は商品が表示されていないことを示しています。

(問題は以上です)

[1]

問1 (1) (2) 問2

問3 問4 (1) (2)

問5 問6 写真ア 写真イ

問7 問8 問9 (1) (2)

[2]

問1 (1) (2) ① ② (3)

問2

問3 (1) (2) 問4

問5

問6

問7 A B 問8 問9

[3]

A 問1 問2

問3 (1)

記号	()	語句	
----	-----	----	--

記号	()	語句	
----	-----	----	--

記号	()	語句	
----	-----	----	--

(2) (3)

B 問1 (1) あ い (2) 問2

問3 問4 問5

[4]

問1 A B C 問2 問3 ア イ ウ

問4 愛媛 長崎 鹿児島 問5 問6

問7

受験番号					
------	--	--	--	--	--