

[1] 日本の都市について述べた次のA～Jの文を読んで、後の問いに答えなさい。

A この都市には、①日本最大の古墳^{こふん}があります。②室町時代には③南蛮貿易^{なんばん}が行われる商業都市になりました。現在は金属工業などが発達した工業都市になっています。

B この都市は、古代から貿易や外交の窓口となってきました。また、近くには元寇^{げんこう}に際してつくられた石塁^{せきるい}の跡^{あと}もあります。近代以降、周辺が日本最大の炭鉱地帯^{いた}となったため、人口が増加し、現在に至っています。

C この都市は、東北地方で一番人口の多い都市です。関ヶ原の戦いの後に(④)氏によってこの地が選ばれ、城と城下町が同時に建設され、今日まで発展してきました。

D この都市は、⑤江戸時代に、最も石高^{こくだか}の多い外様大名の⑥城下町として発達しました。また、金箔^{きんぱく}をはじめとする様々な伝統工芸品が伝わっており、毎年たくさんの観光客が訪れています。

E この都市は、古くから多くのアイヌの人々と和人(日本人)が集まり、江戸時代に入ると(⑦)藩^{はん}の支配下になりました。その後この藩から蝦夷地^{えぞち}の産物である(⑧)が北前船などによって各地にもたらされ、料理にもたくさん使われるようになりました。

F この都市は、江戸時代の初めに外国との貿易を中心として栄え、キリスト教が広まりました。しかしその後、外国との関係を見直す中で、江戸幕府の政策によりキリスト教は禁止され、貿易も制限されるようになりました。明治時代以降は、造船を中心として発展しました。

G この都市は、古代に都が置かれたことがあります。江戸時代には、各藩^{やしま}の蔵屋敷^{ざん}が建ち並び、全国からたくさんの商品が集まる商業都市として発展しました。江戸時代の末期には、幕府への反乱も起こりました。

H この都市は、明治時代になって開拓^{かいたく}の中心地として役所が置かれました。やがて官公庁や商店、民家などが京都にならって碁盤目状^{ごばん}に配置されて発展し、1972年には、アジアで初めてとなる冬季オリンピックが開かれました。

I この都市は、もとは小さな村でしたが、この地に幕府が開かれた後に、大規模な都市となりました。しかし、関東大震災^{しんさい}では大きな被害を受けました。その後復興したものの、第二次世界大戦では大規模な空襲^{くうしゅう}を受けました。

J この都市は、江戸時代に徳川氏の御三家の1つの城下町として栄えました。第二次世界大戦末期には空襲によって大きな被害を受けましたが、⑨戦後^{せんご}は復興し、現在では、日本最大の工業地帯の中心都市として発展しています。

問1 下線部①が造られたころの説明として、正しいものを次から1つ選び、記号で答えなさい。

- あ 「ワカタケル大王」の名前が刻まれた鉄刀や鉄剣が作られた。
- い 『古事記』や『日本書紀』がつくられた。
- う 鑑真が来日し、仏教の発展に貢献した。
- え 九州北部で、米作りが始まった。

問2 下線部②について、この時代の出来事として、正しいものを次から1つ選び、記号で答えなさい。

- あ 諸国に守護・地頭が設置された。
- い 足利義満が宋との国交を開き、貿易をはじめた。
- う 現在の和室に似た、書院造という建築様式が発達した。
- え 足利義政の保護を受けた観阿弥・世阿弥父子によって、能が大成された。

問3 下線部③によってもたらされたものとして、正しいものを次から1つ選び、記号で答えなさい。

- あ 生糸
- い 銀
- う 麻布
- え 漆器

問4 (④) にあてはまる大名を次から選び、記号で答えなさい。

- あ 黒田
- い 伊達
- う 上杉
- え 島津
- お 前田

問5 下線部⑤について、この時代の様子として、誤っているものを次からすべて選び、記号で答えなさい。

- あ 藩校が多く建てられ、各藩の百姓や町人の子どもが通った。
- い 近松門左衛門が、浄瑠璃や歌舞伎の脚本家として活躍した。
- う 伊能忠敬やその弟子たちが日本全国を測量し、正確な日本地図を作ろうとした。
- え 農業生産力が上がり、都市を中心に商業や工業もさかんになり、盆おどりがはじまった。
- お 幕府は、各大名に対して、参勤交代だけでなく、江戸城の修理や河川の治水工事なども命じた。
- か 農村では、生産を増やすために新田開発がさかんに行われ、備中ぐわや千歯こきなどの新しい農具が普及した。

問6 下線部⑥について、下の表のように、江戸時代の城下町で、人々の住む場所が分かれていたのはなぜですか。その理由を答えなさい。

表 Dの都市の古い町名とその由来

古い町名	町名の由来
穴水町	穴水城にいた上級家臣の家来たちが住んでいたため
与力町	藩の役人である与力の家が並んでいたため
五十人町	足軽五十人組の住居があったため
板前町	藩の台所奉行に属する板前たちが住んでいたため
御歩町	藩主を警護する家来(歩)が住んでいたため
御小人町	藩主の荷物を運ぶ家来(小人)が住んでいたため
御仲間町	藩の馬の世話をする家来(仲間)が住んでいたため
桶町	桶職人が多く住んでいたため
石屋小路	石工が多く住んでいたため
木町	材木問屋が集まっていたため
大工町	大工が多く住んでいたため
古寺町	かつてここに寺が集められていたため

(市のウェブページより作成)

問7 (⑦) にあてはまる語句を漢字で答えなさい。


問8 (⑧) に入る語句を次から1つ選び、記号で答えなさい。

あ カツオ い ワカメ う コンブ え サンマ

問9 下線部⑨について、戦後に行われたさまざまな改革として、誤っているものを次からすべて選び、記号で答えなさい。

- あ 独占的な企業が解体される。
- い 女性の選挙権が保障される。
- う 義務教育の制度がはじまる。
- え 労働者の権利が憲法で保障される。
- お 多くの農民が自分の土地を持つようになる。
- か 法律の範囲内で、言論・思想の自由が保障される。

問10 次の写真の建造物がある都市をA～Jから選び、記号で答えなさい。



問11 A～Jの都市について、現在の人口の多い順に3つ、記号で答えなさい。

[2] 次の文章を読んで、後の問いに答えなさい。

「あるもんは何でも使うて、暮らし続けにゃなんのすけえ、うちらは。」

「これがうちの戦いすけえ。」

この言葉は、映画『この世界の片隅に』の中で、主人公がつぶやいたものです。この映画は一昨年に公開され、記録的な大ヒットとなった作品で、①アジア・太平洋戦争で大きな被害を受けながら懸命に生きる女性とその家族をていねいにえがいています。

主人公は広島から呉にお嫁に行きました。②日々の暮らしに戦争の影響が濃くなる中で、③呉の空襲で負傷し、右手を失いました。さらには④広島の原爆で両親を失いました。

この映画は、主人公の視点をとおして、ユーモアを交えながら、私たちに平和の大切さ、戦争の悲惨さ、そして⑤核兵器の残酷さを、静かに力強く訴えかけています。

問1 下線部①について、(1)・(2)に答えなさい。

(1) この戦争のきっかけとなった日本の東南アジア進出はなぜ起こったのですか。当時の中国との関係にふれながら、その理由を説明しなさい。

(2) 満州事変から何年後にアジア・太平洋戦争が始まりましたか。数字で答えなさい。

問2 下線部②について、(1)～(3)に答えなさい。

(1) 当時の様子として誤っているものを次からすべて選び、記号で答えなさい。

- あ やかんや鍋、お寺の鐘などが回収された。
- い 米や食料、マッチなどが配給制・切符制になった。
- う 国民服やもんぺなどのぜいたくな服装が禁止された。
- え 全国の小学生が、学校で給食を食べることになった。
- お 全国の中学生が、兵器工場などで働くことになった。

(2) 国民が戦争中に徴兵される「召集令状」は、何と呼ばれていましたか。漢字2字で答えなさい。

(3) この時代、住民同士が助け合うとともに互いに監視しあう仕組みがつけられました。この仕組みを何といいますか。答えなさい。

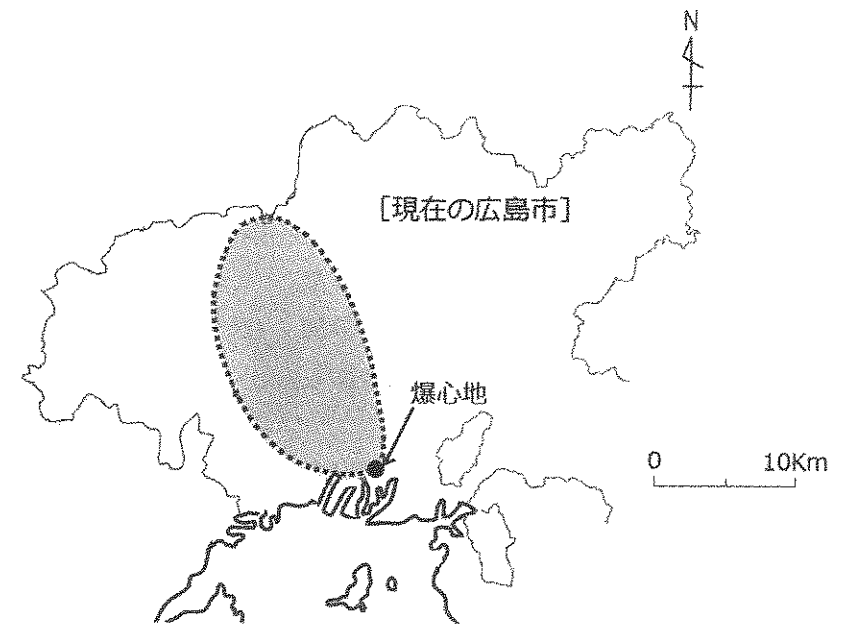
問3 下線部③について、(1)・(2)に答えなさい。

(1) 呉はアメリカ軍の空襲で大きな被害を受けました。その理由として正しいものを次から1つ選び、記号で答えなさい。

- あ 陸軍の毒ガス工場や港があったため。
- い 海軍の大きな基地や造船所があったため。
- う 西日本最大の食料備蓄基地があったため。
- え 戦争を指揮する大本営が置かれていたため。

(2) アメリカ軍は、日本の建物に適した爆弾を開発し、これを使用して空襲の被害を大きくしました。その爆弾を何といいますか。答えなさい。

問4 下線部④について、広島市内にいて直接被爆した人以外で、爆心地から20km程度離れた場所でも、深刻な放射線被害を受けた人たちがいました。下の地図は、その被害の範囲を示したものです。この範囲で起ったことを答えなさい。



(注) この範囲の外でも、放射線被害を受けた人々がいます。

(広島平和記念資料館の資料より作成)

問5 下線部⑤について、(1)・(2)に答えなさい。

(1) 昨年7月、国際連合で核兵器禁止条約が採択されました。この条約に対して日本のとった行動を述べた文として正しいものを次から1つ選び、記号で答えなさい。

あ 唯一の被爆国である日本がリーダーシップをとって条約案の作成に参加し、各国に賛成するように働きかけた。

い 日本は憲法9条に定められた非核三原則を変更するために、採決を棄権した。

う アメリカが「エルサレムをイスラエルの首都と認める」と発表したため、日本は採決に反対票を投じた。

え この会議には核保有国の多くが参加しないため、核兵器廃絶が現実的ではないと判断し、会議に参加しなかった。

(2) 昨年12月、NPOの「核兵器廃絶国際キャンペーン」が、核兵器禁止条約の採択に大きな貢献をしたことを理由にノーベル平和賞を受賞しました。この団体の略称として正しいものを次から選び、記号で答えなさい。

あ IAEA い ICAN う ICBM

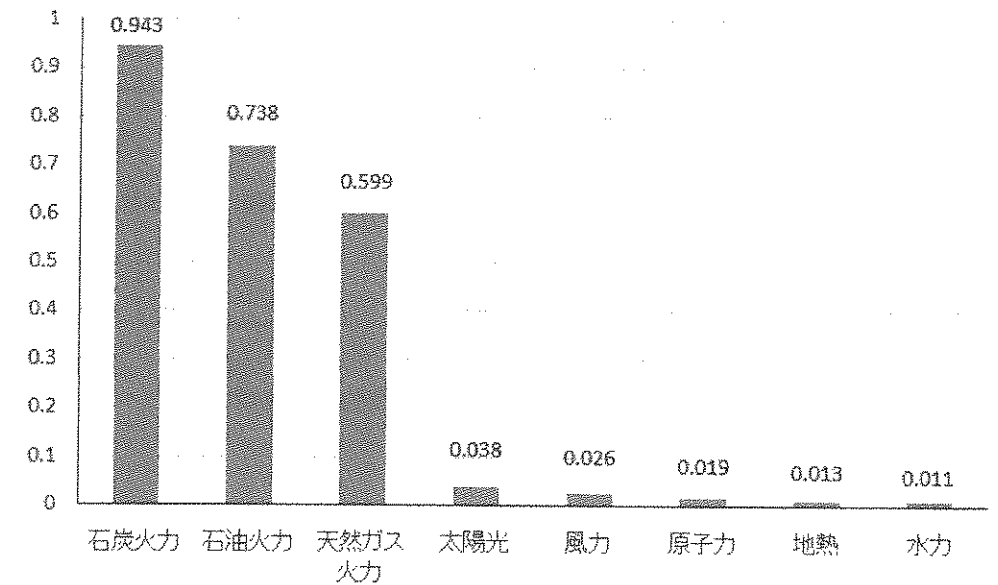
え OPEC お OECD か OEEC

[3] エネルギーに関して、後の問いに答えなさい。

問1 次のグラフを見て、文中の(ア)・(イ)にあてはまる語句を答えなさい。

グラフ

日本の発電方法別(1kWhあたり)の二酸化炭素排出量(単位:kg)

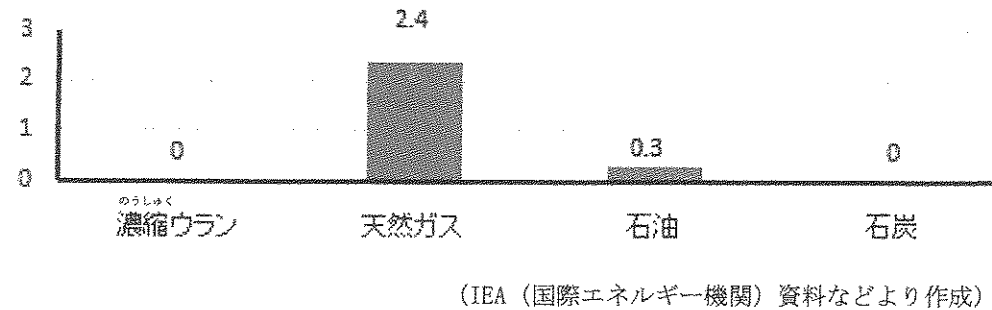


(電力中央研究所「日本における発電技術のライフサイクルCO₂排出総合評価(2016年)」より作成)

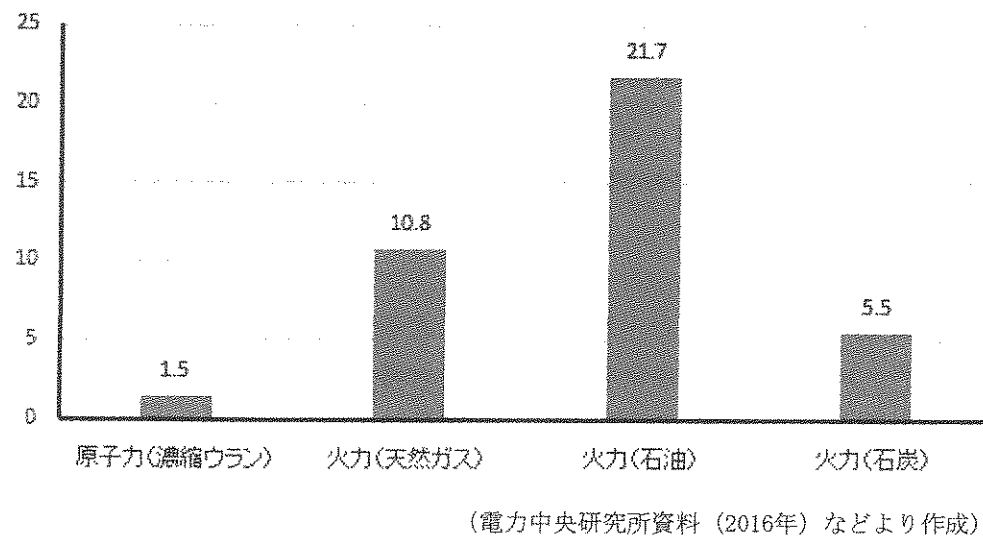
「太陽光・風力・原子力・地熱・水力による発電は、火力発電と比べた際、(ア)の進行をおさえる効果があると考えられています。(ア)の問題を解決するため、2015年に、196の国と地域で国際的なルールである(イ)が定められました。これは、先進国のみに義務を定めた京都議定書を発展させた取り決めです。」

問2 次の3つのグラフから読み取ることができることとして、誤っているものを後のあ～おからすべて選び、記号で答えなさい。

グラフ1 日本のエネルギー資源自給率（単位：％）（2014年）

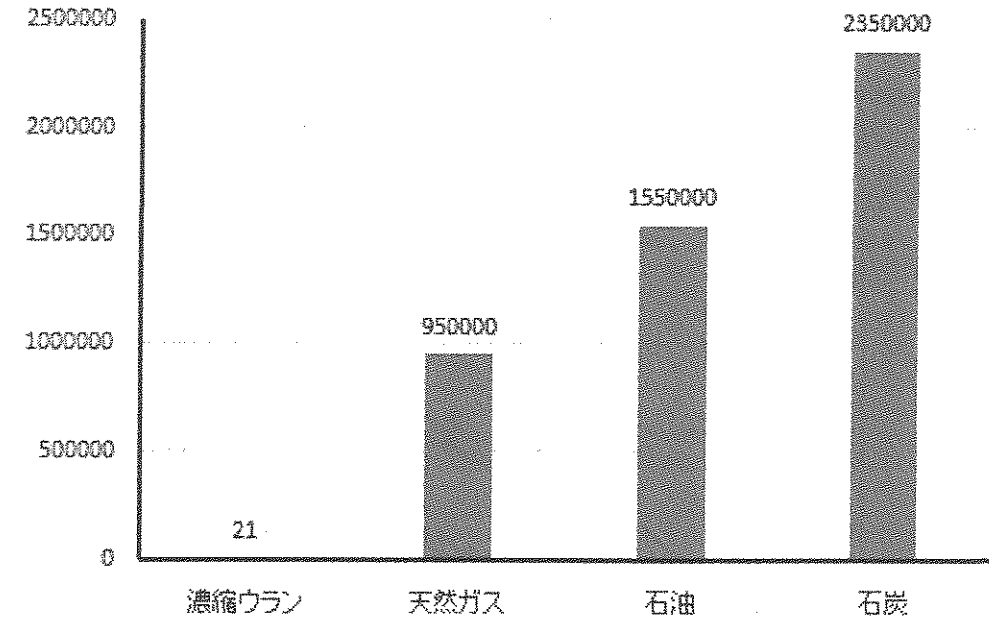


グラフ2 1 kWhあたりの燃料費（単位：円）（2014年）



グラフ3

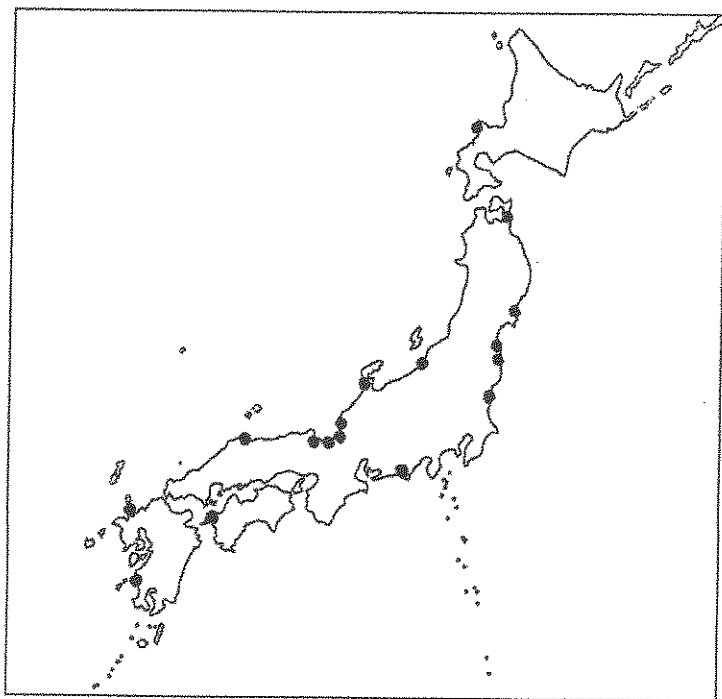
100万kW級の発電所を1年間運転するために必要な燃料の量（単位：t）



- あ 発電する際の燃料となるエネルギー資源のほとんどを日本は輸入に依存している。
- い 石炭は、火力発電の際に最も多い燃料の量が必要となるが、他の火力発電のエネルギー資源に比べると燃料費が一番安い。
- う 天然ガスは、石油に比べると、火力発電の際に必要な燃料の量が少なくすみ、燃料費も安い。
- え 石油は、原子力発電に比べると、発電の際の燃料の量はより多く必要となるが、燃料費は安い。
- お 原子力発電は、他の発電方法に比べると最も少ない燃料の量で発電できるが、燃料費は極めて高い。

問3 次の資料を見て、原子力発電所が設置されている場所の特徴を、「海に面した場所であること」以外で、1つ挙げなさい。

資料 日本の主な原子力発電所のある場所



(資源エネルギー庁資料より作成)

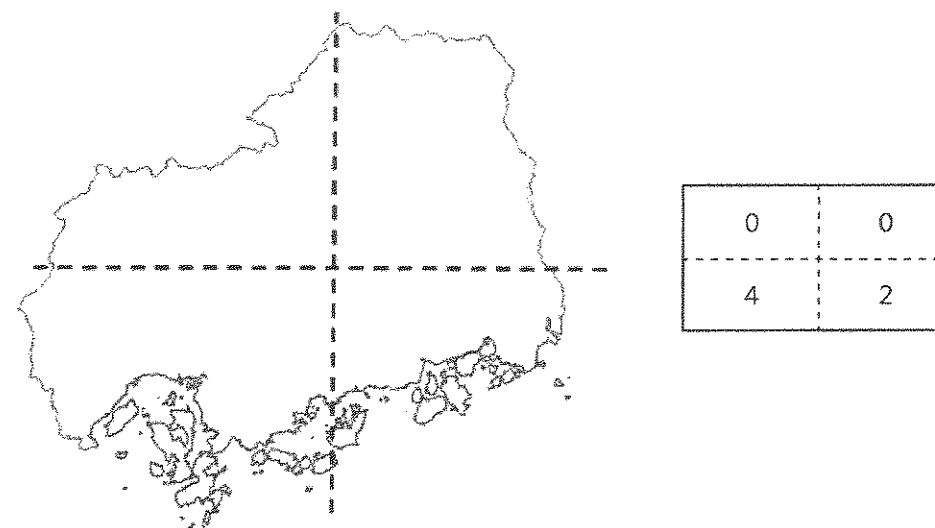
問4 福島県東部の一部には、政府によって、避難区域に指定されている自治体があります。そのため、東日本大震災から6年以上が経過した現在もなお、この地域では、多くの人々が避難しています。なぜ政府は、避難区域の指定を解除しないのですか。その理由を説明しなさい。

[4] 次のA・Bの問いに答えなさい。

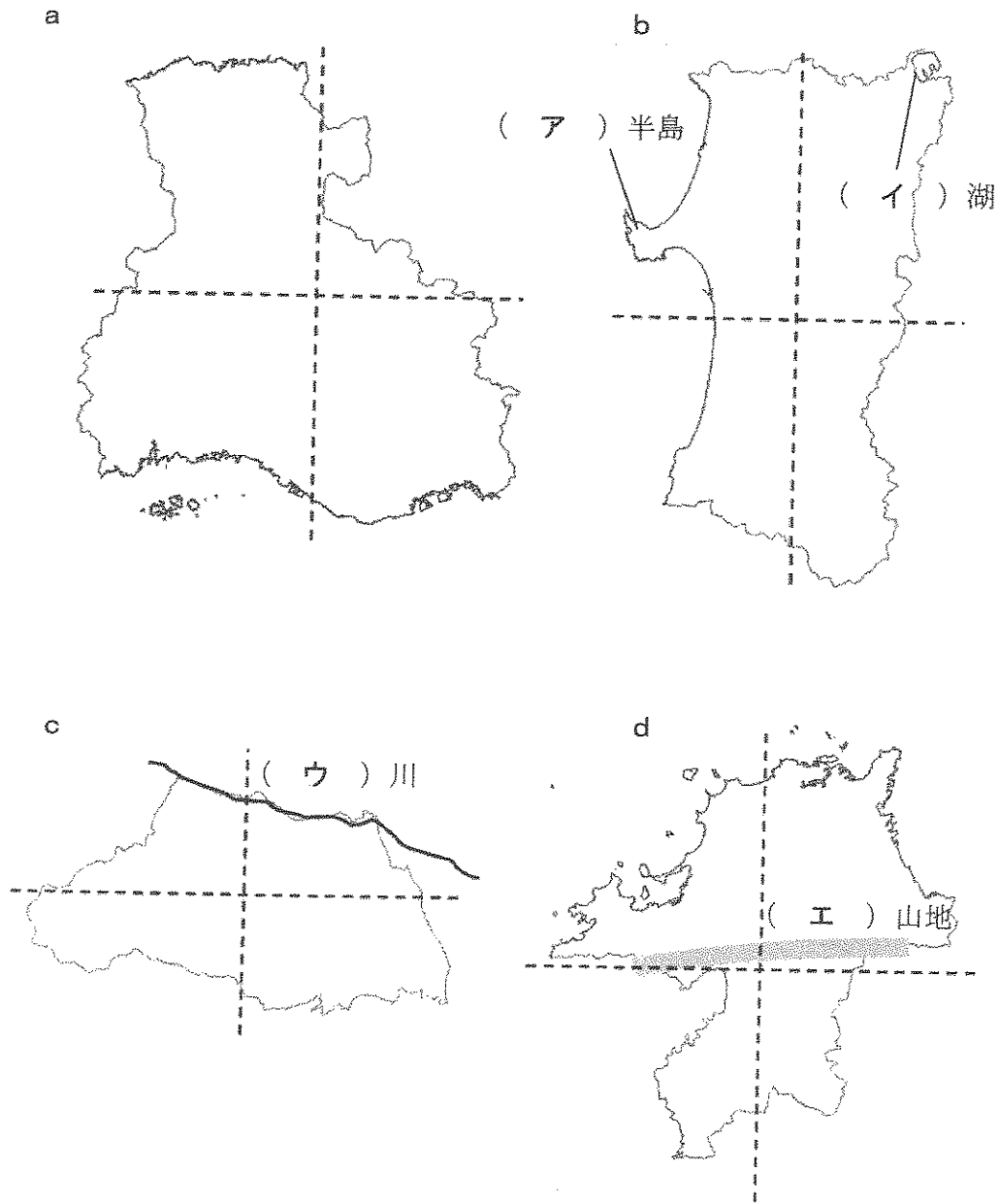
A

問1 下の図は広島県を点線で4つの地域に分けたものです。また、となりの表は、それぞれの地域に含まれる人口10万人以上の市の数を示しています。例えば、広島県の南西部には人口10万人以上の市が4つあることを示しています。

表の数字「4」が示す市を、「広島市」以外に3つ答えなさい。
(各都市の人口の統計年次は2016年)



問2 下の図a～dは、ある都道府県（島しょ部を省略したものもあります）を示したものです。縮尺はそれぞれ異なりますが、いずれも上が北を示しています。この図を見て、(1)・(2)に答えなさい。



(1) 図の(ア)～(エ)にあてはまる地名を答えなさい。

(2) 問1と同じように、表あ～えを作成しました。都道府県a～dにあてはまる表をあ～えから選び、それぞれ記号で答えなさい。

(各都市の人口の統計年次は2016年)

あ

1	5
0	16

い

4	2
2	0

う

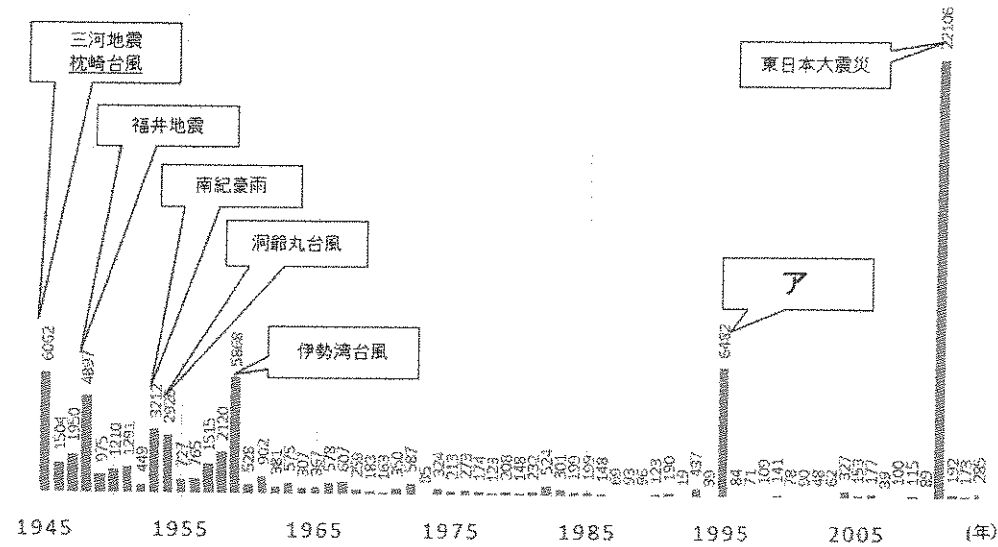
0	0
2	8

え

1	0
0	0

B 次の図は、自然災害による国内の死者・行方不明者数を、年ごとに表したものです。またふきだしの中は、その年に起こった被害の大きな自然災害（死者・行方不明者1000人以上）を示しています。

図 自然災害による死者・行方不明者の推移（人）



(平成27年度版『防災白書』などより作成)

問1 アにあてはまる災害名を答えなさい。

問2 1960年ごろを境に、日本の自然災害による被害には変化が見られます。どのような変化が見られますか。説明しなさい。

問3 表中の「枕崎台風」について、(1)・(2)に答えなさい。

(1) この台風が広島に与えた被害について述べた次の文章の(ア)～(ウ)にあてはまる語句を答えなさい。

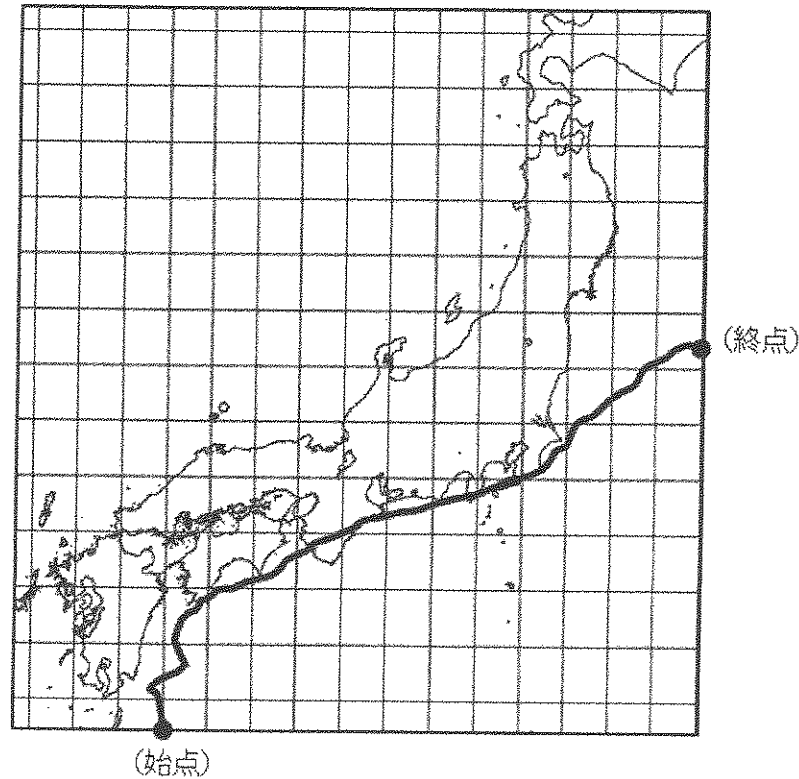
この台風は、原爆投下から約(ア)日後の9月17日に広島を襲ったため、被害は甚大なものになりました。戦災からの復興もままならない市内中心部のほとんどは浸水し、郊外の丘陵地では「山津波」とも呼ばれる大規模な(イ)が発生し、被爆者の救護に訪れていた医療班の宿舎が直撃を受けるなど、二次的な被害も生じました。

このような大きな水害が今後起こるのを防ぐため、広島市内には、かねてから計画のあった(ウ)の建設が急がれ、22年後にようやく完成しました。

(2) 次の文章は、枕崎台風の経路を説明した文章です。この文章から、(例)を参考にして台風の経路図を作成し、解答用紙の地図に書き入れなさい。

この台風は、薩摩半島南部の枕崎付近に上陸しました。その後は、九州を横断し国東半島から周防灘へ抜け、広島を直撃。続いて松江を通して日本海へ抜け、能登半島の北端を通過し、佐渡島付近から東北地方へ再上陸し、太平洋に抜けました。

(例)



[5] 次の表は、2017年に起きた出来事の一部を月別に示したものです。これを見て、後の問いに答えなさい。

月	日	出来事
1月	1日	①新しい国際連合事務総長(第9代)が就任する。
		②日本標準時で8時59分60秒の閏秒が挿入される。
2月	27日	衆議院本会議で、平成29年度の③予算案が賛成多数で可決される。
3月	1日	特許庁が④色や色の組み合わせを商標(商品を区別するためのマーク)として、登録することを始める。
4月	1日	⑤JRグループが発足して30年が経つ。
5月	20日	⑥参議院が創設されてから70年が経つ。
7月	20日	⑦新しい「温泉マーク」の使用が開始される。
8月	17日	サウジアラビアの国王が、国交を断絶しているカタールからの巡礼者に国境を開放するよう命じ、(⑧)への大巡礼が行えるようにした。
9月	18日	⑨広島東洋カープが、セントラル・リーグ2連覇を達成する。
10月	22日	⑩衆議院議員総選挙が行われる。
11月	12日	広島県知事選挙が行われる。
12月	8日	現在の天皇の退位の日が、2019(平成31)年4月30日に決まる。

問1 下線部①について、新しい事務総長の出身国に関して述べた文として、正しいものを次から1つ選び、記号で答えなさい。

- あ 古墳時代に、この国の多くの人が、渡来人として日本を訪れた。
- い 鎌倉時代に、この国の軍隊が、2度にわたり九州北部にせめこんだ。
- う 戦国時代に、この国の商船が種子島に漂着し、日本に鉄砲をもたらした。
- え 江戸時代に、この国の医学書が、杉田玄白らによって翻訳された。

問2 下線部②について、日本標準時の基準となっている子午線（経線）の経度を答えなさい。

問3 下線部③に関する(1)・(2)の問いに答えなさい。

(1) 下線部③を作成する機関が行う働きとして、正しいものを次から1つ選び、記号で答えなさい。

- あ 法律が憲法に違反していないか調べる。
- い 外国の大使などをもてなす。
- う 憲法改正を国民に提案する。
- え 国会の召集を決める。

(2) 国が集めている税として正しいものを、次からすべて選び、記号で答えなさい。

- あ 所得税（会社員などの給料にかかる税）
- い 固定資産税（土地や建物にかかる税）
- う 法人税（会社の利益にかかる税）
- え 住民税（住民が納める税）

問4 下線部④について、このようにして守られる商標権などの権利を知的財産権といいます。この権利を守るためのルールとして正しいものを次から1つ選び、記号で答えなさい。


- あ 他人のパスワードをたずねたり、使ったりしない。
- い 他人が作ったアニメ・音楽などをコピーしたり、勝手に配ったりしない。
- う 掲示板・SNSなどのインターネット上のサービスに他人の個人情報を書きこまない。
- え あやしいメールに返信したり、添付ファイル（メールの本文とともに送られるデータ）を開いたりしない。

問5 下線部⑤について、JR西日本の鉄道路線で、2018年4月1日に廃線になる路線があります。この路線の始発駅（広島県側）がある自治体の特産品としてふさわしいものを次から1つ選び、記号で答えなさい。

- あ ブドウ
- い 琴
- う レモン
- え 家具

問6 下線部⑥について、国会に衆議院と参議院という二つの議院が置かれている理由は何ですか。説明しなさい。

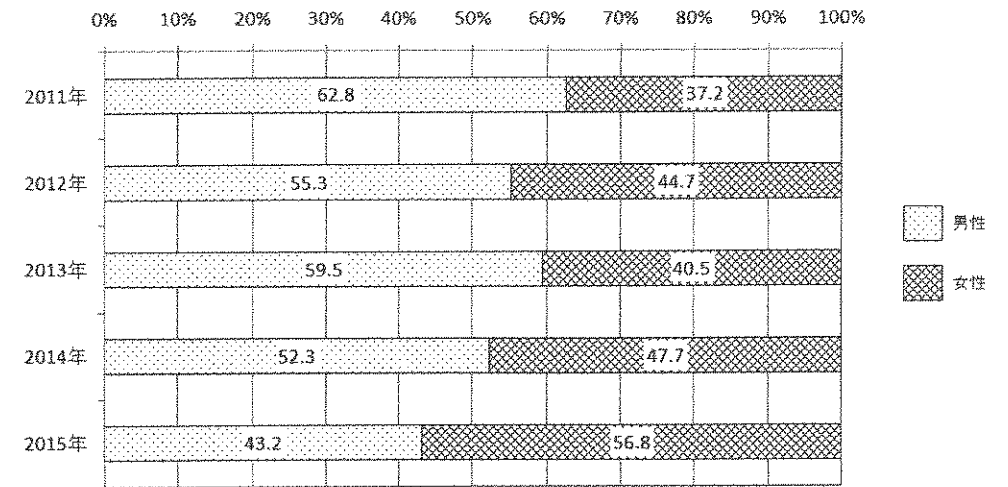
問7 下線部⑦について、下の図のようなマークをピクトグラムといいます。2020年のオリンピックに向けて、このようなマークが街に多く掲げられる予定です。ピクトグラムにはどのような利点があると考えられますか。答えなさい。



問8 (⑧) について、あてはまる地名を答えなさい。

問9 下線部⑨について、次のグラフを参考にして、文中の (X) にあてはまる語句として、最もふさわしいものを下のあ～えから選び、記号で答えなさい。

グラフ マツダスタジアム(プロ野球開催時)に来場した人の男女比



(広島市ウェブページより作成)

プロ野球に縁の薄かった (X) メーカー大手は今季、野球中継の新規スポンサーとして広島地区限定で参入。ブランドイメージを優先し、野球中継はNG(ふさわしくない)としていた海外メーカーもCMを入れ始めたという。

(2017.9.8 中国新聞より引用、作成)

- あ 化粧品 い おもちゃ う ビール え ゲーム開発

問10 下線部⑩について、現在の衆議院の議員定数を数字で答えなさい。

(問題は以上です)

平成30年度 社会 解答用紙

[1]

問1 問2 問3 問4 問5

問6

問7 藩 問8 問9 問10 問11

[2]

問1 (1)

(2) 年後 問2 (1) (2) (3)

問3 (1) (2) 問4

問5 (1) (2)

[3]

問1 (ア) (イ) 問2

問3

問4

[4]

A 問1 市 市 市

問2 (1) (ア) 半島 (イ) 湖 (ウ) 川 (エ) 山地

(2) a b c d B 問1

問2

問3 (1) (ア) 約 日後
(イ)
(ウ)

[5]

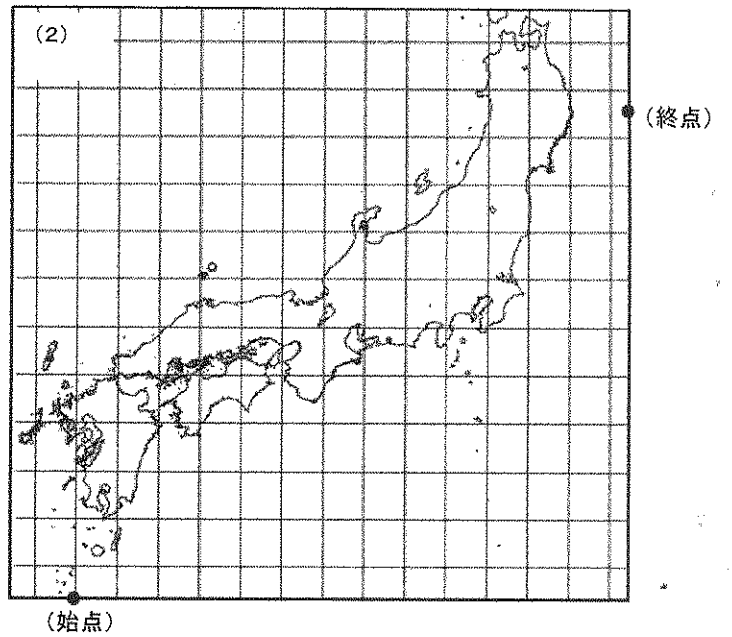
問1 問2 度

問3 (1) (2)

問4 問5 問6

問7

問8 問9 問10



受験番号