

[1] 次の文章を読んで、後の問いに答えなさい。

日本各地には妖怪の伝説が残されています。妖怪の伝説は、日本の歴史や日本人の心に深く関係しています。

『日本書紀』に見られる日本神話に、「ヤマタノオロチ」の伝説があります。8つもの頭を持ち、山にまたがる大蛇である「ヤマタノオロチ」は、①山の木を伐採したことによって起きた洪水を表現していると言われます。

『日本書紀』には、他にも、②弥生時代の人物とされている景行天皇が九州に遠征した際、海上で「不知火」を見たことが記されています。また、

③推古天皇の時代には「人魚」が捕獲されたと伝えられています。

「鬼」は古くから各地に伝えられる妖怪で、『出雲国風土記』には「鬼」が人を食う話が記録されています。平安時代には、京都の④大江山に「酒呑童子」と呼ばれる「鬼」の首領が住み、都の人々を襲ったとされます。

動物の妖怪も様々なものが伝えられており、⑤『平家物語』には二条天皇を苦しめた「鵜」と呼ばれる怪物の伝説が残されています。また、⑥鎌倉時代に書かれた『徒然草』には「猫又」と呼ばれる妖怪が人を食う話が残されています。

⑦室町時代には古い道具が捨てられた後に妖怪となる「付喪神」の伝説が生まれました。⑧江戸時代には、「付喪神」から「カラ傘お化け」や「提灯お化け」などの妖怪が生まれ、これらが『百鬼夜行図』などの絵巻物に描かれたために、多くの妖怪が人々に知られるようになりました。


明治時代に島根県松江市に住んだ、ギリシア生まれの(⑨)は、日本各地の伝説をまとめて『怪談』を著し、日本の妖怪を海外にも紹介しました。

昭和に入り、⑩鳥取県境港市出身の漫画家水木しげるは、漫画「ゲゲゲの鬼太郎」の中でさまざまな妖怪を登場させ、妖怪は子供から大人まで多くの人々が知るものとなりました。

かつて恐れられていた妖怪は、現在では、マスコットキャラクターなど、愛される存在となっています。これからも、時代に応じて役割を変えながら、妖怪は生き続けるのではないのでしょうか。

問1 下線部①について、中国地方の山間部では、次の図に見られるような作業に使う燃料として、山の木が伐採されていました。この作業は、何を作るために行われていたのですか。答えなさい。

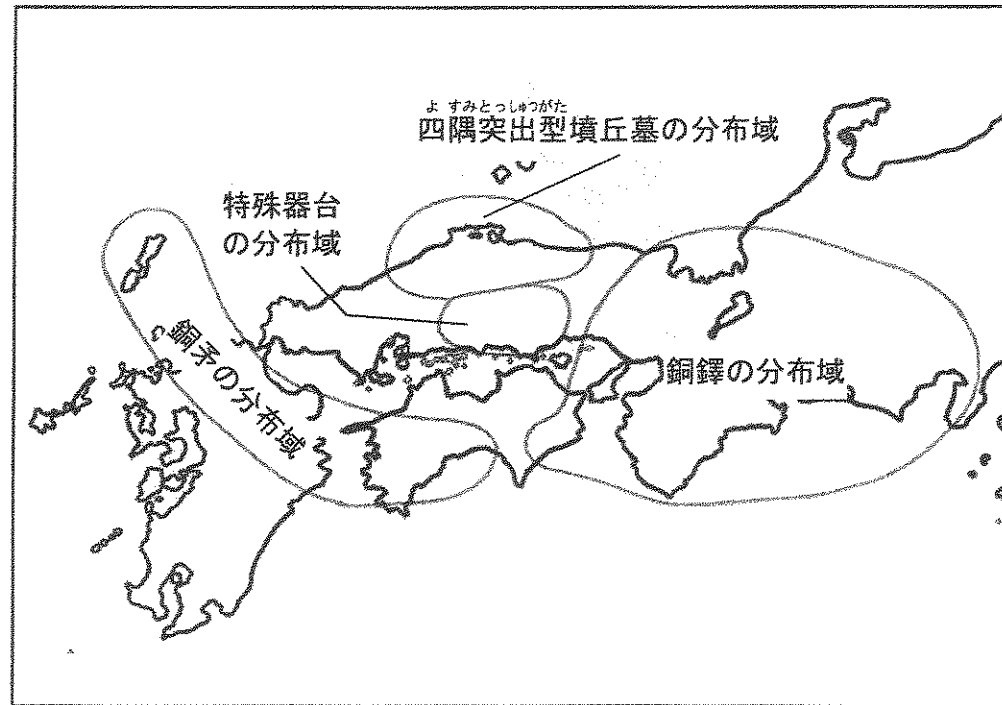
図



(映画：『もののけ姫』より／室町時代に行われていた作業の想像図)

問2 下線部②について、この時代には、各地で文化の<sup>ちが</sup>違いがあり、祭りのための青銅器（銅矛や銅鐸）や土器（特殊器台）が作られ、墳丘墓<sup>ふんきゆうぼ</sup>が祭りの場となりました。次の図から、弥生時代の西日本について、どのようなことを読み取ることができますか。解答欄にしたがって説明しなさい。

青銅器や土器、墳丘墓の分布図



(鳥取県ウェブページより作成)

問3 下線部③について、この時代には、小野妹子<sup>おののいもこ</sup>が遣隋使<sup>けんずいし</sup>として遣わされました。小野妹子が隋の皇帝に渡した国書は次のような文で書き始められています。このような文が国書に書かれたのはなぜですか。考えられる目的を答えなさい。

「日がのぼる国の天子が、国書を日がしずむ国の天子に届けます…」

問4 下線部④について、(1)・(2)に答えなさい。

(1) 都の人々に恐れられたこの「鬼」は、都の人々の不安によって生み出されたとされています。この時代の人々が信じた、仏教がすたれ現世（生きている今の世）が終わってしまうとする考え方を何といいますか。答えなさい。

(2) 都の人々は現世への不安から、極楽浄土<sup>ごくらくじょうど</sup>へのあこがれを強めました。平等院鳳凰堂はこの時代に建てられたものです。平等院鳳凰堂にまつられている本尊（中心となる仏）と同じ仏をまつっている寺院を次から1つ選び、記号で答えなさい。

- |           |       |        |
|-----------|-------|--------|
| あ 中尊寺     | い 法隆寺 | う 唐招提寺 |
| え 慈照寺（銀閣） | お 東大寺 |        |

問5 下線部⑤について、この物語には平氏の繁栄から滅亡<sup>めつぼう</sup>までが描かれています。平氏が源氏に敗北し、滅亡することとなった戦いを答えなさい。

問6 下線部⑥について、この時代に武士が大切にしていた、「領地を守り、戦いの場で手がらを立てて、恩賞を得るために命がけで働くこと」を表す言葉を答えなさい。

問7 下線部⑦について、この時代にまとめられた本で、「一寸法師」などの昔話が集められているものを何といいますか。答えなさい。

問8 下線部⑧について、この時代に関する説明として、正しいものを次からすべて選び、記号で答えなさい。

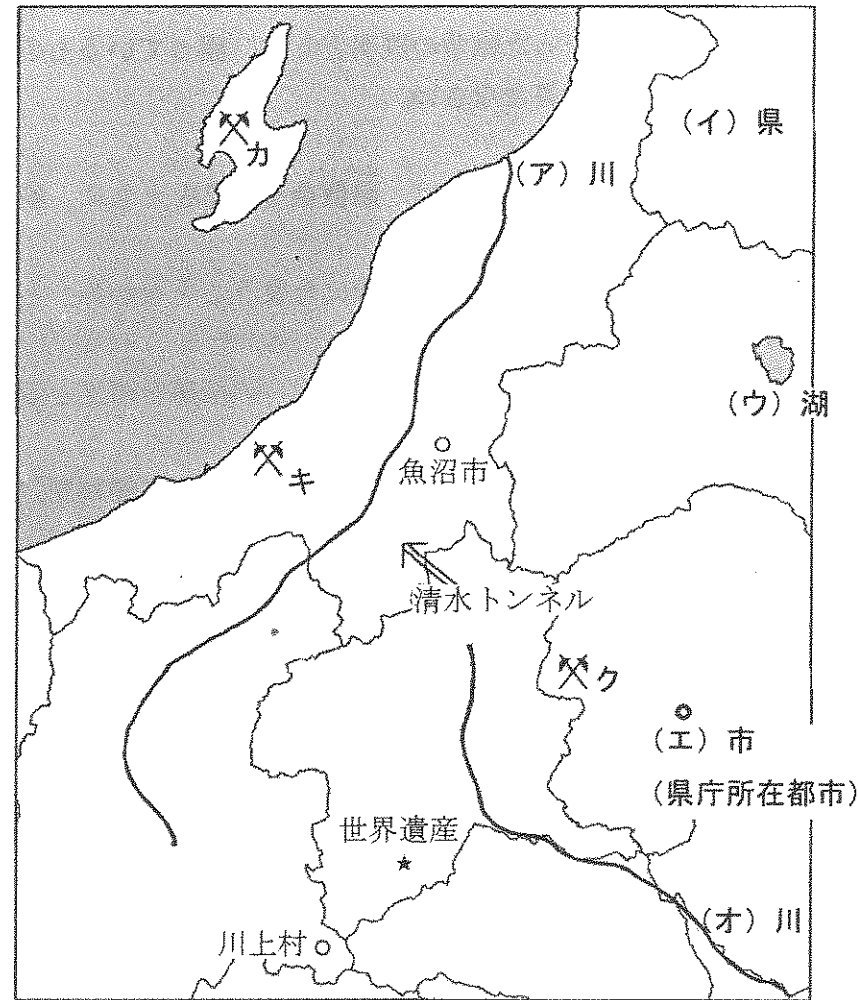
- あ 大名のうち、徳川家の親戚の大名は譜代と呼ばれた。
- い 杉田玄白や前野良沢らが英語の医学書を翻訳した。
- う 大阪は「天下の台所」、江戸は「将軍のおひざもと」と呼ばれた。
- え 幕府が朝廷と西国の大名を監視するために六波羅探題を設置した。
- お 天保のききんの時、大塩平八郎は、役人を批判し京都で反乱を起こした。
- か 農民は、名主（庄屋）とよばれる有力者を中心に、自分たちで村を運営していた。

問9 ( ⑨ ) にあてはまる人物を答えなさい。

問10 下線部⑩について、戦争で左腕を失った水木しげるは、「妖怪が注目される時代は平和である」として、平和の大切さを訴えました。明治時代以降、日本が行った戦争の説明として、誤っているものを次からすべて選び、記号で答えなさい。

- あ 日清戦争に勝利した日本は、賠償金を得るとともに、朝鮮半島を日本の植民地とした。
- い 日露戦争中に樋口一葉は「君死にたまふことなかれ」という詩をよんだ。
- う 日露戦争後、日本は樺太（サハリン）の南部を領土とし、満州の鉄道を得た。
- え 第一次世界大戦が起こると、日本もこの戦争に加わり、中国などに勢力を伸ばそうとした。
- お 満州事変の時、日本は「満州国」をつくったが、国際連盟がこれを認めなかったため、国際連盟を脱退した。
- か 日中戦争が長引くと、米や野菜、衣類なども国が管理する配給制となった。

[2] 次の地図を見て、後の問いに答えなさい。



問1 地図の(ア)～(オ)にあてはまる地名を答えなさい。

問2 次のA～Cの文は、地図のカ～クの地点に見られる地下資源について述べたものです。A～Cとカ～クの正しい組合わせを、あ～かから選び、記号で答えなさい。

A：江戸幕府が直轄地として経営し、大量の金や銀を産出した鉱山です。当時としては世界最大級の金山でしたが、現在採掘は行われていません。

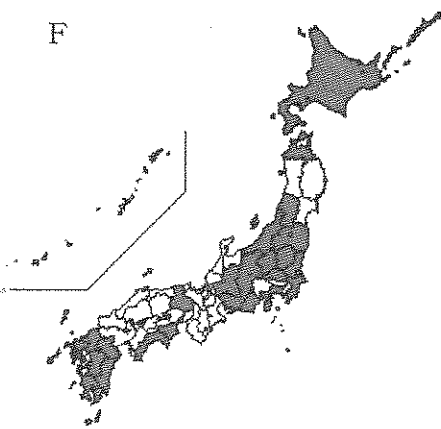
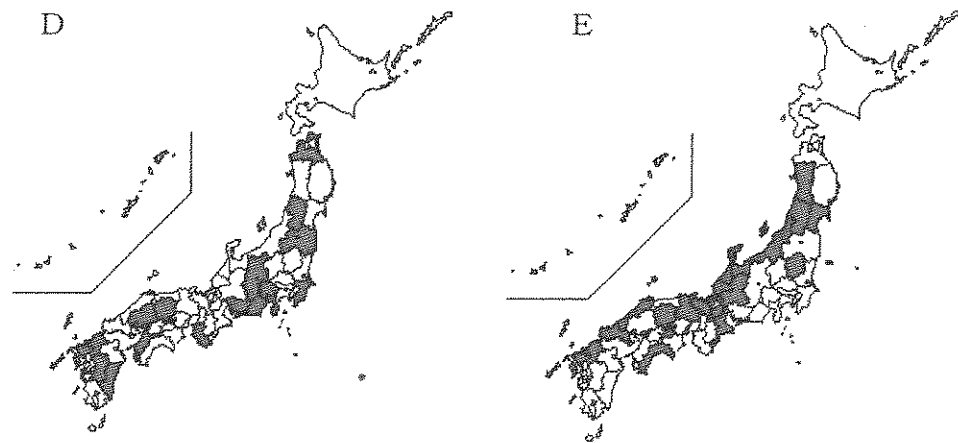
B：明治政府の富国強兵策を背景に、当時は国内の銅の40%を産出していました。しかし、発生した廃棄物が周辺環境汚染を引き起こし、後に閉山しました。

C：現代生活に欠かせない重要な地下資源を採取しています。国内で自給できるのはわずか0.4%ですが、この付近が国内最大の産出地域となっています。

	カ	キ	ク
あ	A	B	C
い	A	C	B
う	B	A	C
え	B	C	A
お	C	A	B
か	C	B	A

問3 地図の「魚沼市」について、この地域は「コシヒカリ」の生産地として知られています。米の生産に関して、(1)・(2)に答えなさい。

(1) 次の図D～Fは、耕地の中で田の占める面積が4分の3以上の都道府県、果物の生産額が上位の都道府県、野菜の生産額が上位の都道府県、のいずれかを示したものです。D～Fの組み合わせとして正しいものを、あ～かから選び、記号で答えなさい。



	田の面積が 3/4以上	果物の生産 額が上位	野菜の生産 額が上位
あ	D	E	F
い	D	F	E
う	E	D	F
え	E	F	D
お	F	D	E
か	F	E	D

(作物統計, 生産農業所得統計, 果樹生産出荷統計から作成)

(2) 日本は魚沼産コシヒカリなどの米を外国へ輸出しています。次の表は、日本から輸出される米の量を、輸出先の国(地域を含む)別に表したものです。この表から読み取れることがらとその背景について述べた文あ～かのうち、適当なものを2つ選び、記号で答えなさい。

表 日本の米の輸出量(単位:トン)

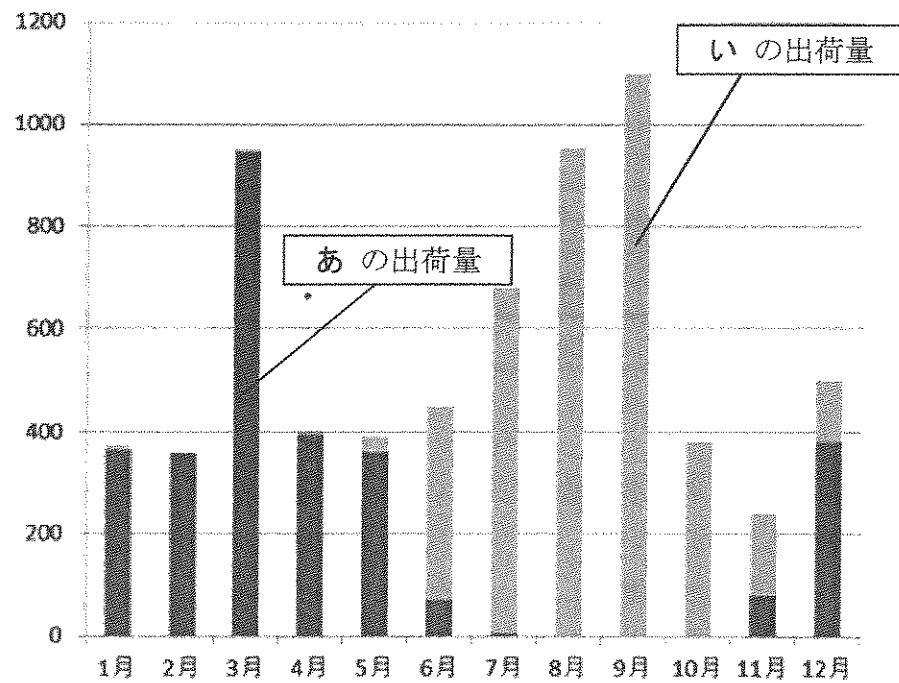
	2010年	2011年	2012年	2013年	2014年	2015年
ホンコン	654	779	916	1207	1744	2519
シンガポール	334	598	668	961	1295	1850
台湾	271	183	154	168	407	753
中国	96	0	34	46	157	568
アメリカ	39	46	29	91	81	322
オーストラリア	125	157	130	189	185	273
タイ	13	13	19	21	43	208
イギリス	36	57	48	58	112	189
ベトナム	5	1	3	16	4	142
モンゴル	3	4	7	73	51	134
マレーシア	15	22	10	6	49	124
輸出合計	1898	2129	2202	3121	4516	7640

(農林水産省 ウェブページより作成)

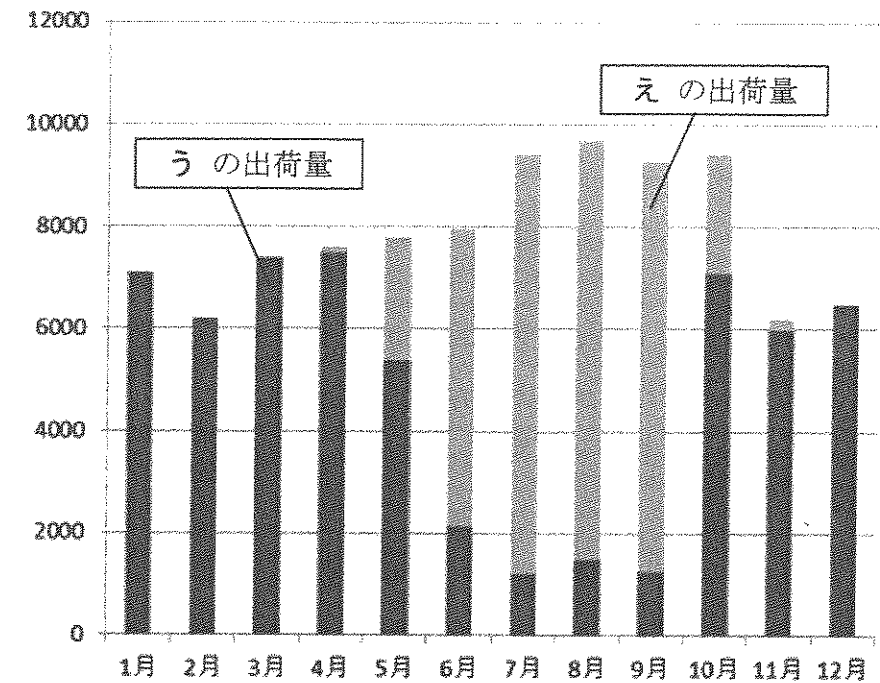
- あ 日本が米を多く輸出している国は、食料不足に悩まされている開発途上国が多い。
- い 日本が米を輸出している国の中には、米以外を主食とする国も含まれている。
- う 日本が米を輸出している国のほとんどが、国内で米作りができない地域である。
- え 日本から輸出された米は、その国では安い値段で売られているので人気がある。
- お 日本の米の輸出量は増加しているため、日本では米の輸入はいつまで行っていない。
- か 日本の米の輸出量は徐々に増えているが、国内での米の生産量は減少の傾向にある。

問4 地図の「川上村」について、この地域はレタスの産地として知られています。次のグラフX、Yは、東京市場で取引されるレタス、または菊のいずれかの出荷量を月別に表したものです。またあ～えには、長野県、長野県以外、沖縄県、沖縄県以外、のいずれかがあてはまります。次ページの(1)～(3)に答えなさい。

グラフX



グラフY



(東京都中央卸売市場統計より作成、単位はトン、または万本)

(1) レタスの栽培と菊の栽培について説明した次の文章の( ① )・( ② )にあてはまる語句を答えなさい。

長野県では、気候を生かして出荷時期をずらす( ① )栽培でレタスを作っています。また、沖縄県でも同様にして作られた( ② )菊を出荷しています。

(2) 長野県にあてはまるものをあ～えから選び、記号で答えなさい。

(3) 沖縄県にあてはまるものをあ～えから選び、記号で答えなさい。

問5 地図の★について、ここにある世界遺産は観光名所として知られています。ここで作られて、輸出されていたものは何ですか。答えなさい。

問6 地図の「清水トンネル」について、次の文は、川端康成『雪国』の冒頭部分で、作者が矢印の方向に鉄道で旅をした経験をもとに書かれたものだとされています。

「国境の長いトンネルを抜けると雪国であった。」

トンネルを抜けた後で景色が「雪国」に変わった理由について、気候とその成り立ちを次のように説明したとき、[ ① ]・[ ② ]にあてはまる文、または語句を答えなさい。

トンネルを抜けた後の地域では、[ ① ] ため、たくさんの雪が降ります。一方、トンネルを抜ける前の地域では、晴天の日が続き、[ ② ] が吹きます。

[3] 次の表は、1945年以降の広島市の主な出来事を示しています。これを見て、後の問いに答えなさい。

年	広島市の主な出来事
1945	①原子爆弾が投下される。
1949	②広島平和記念都市建設法が成立する。
1950	広島カープがつくられる。
1955	第1回原水爆禁止世界大会が開かれる。
1965	③お好み村がつくられる。
1967	④太田川放水路がつくられる。
1975	カープがセ・リーグで初優勝する。
1979	カープが初の日本一になる。
1980	広島市が政令指定都市となる。
1985	広島市の人口が100万人をこえる。
1996	原爆ドーム、厳島神社が世界遺産となる。
2001	芸予地震がおこる。
2006	⑤市町村合併で広島県が14市9町となる。 ⑥平和記念資料館が国の重要文化財に指定される。
2009	新しい市民球場が完成する。
2012	サンフレッチェ広島がJ1で年間優勝する。
2014	広島市北部で土砂災害が発生する。
2016	アメリカの⑦オバマ大統領が広島を訪問する。 25年ぶりにカープがセ・リーグで優勝する。

問1 下線部①について、(1)～(3)に答えなさい。

(1) 被爆後の広島では、校舎がないところで学校教育がおこなわれました。下の写真のような授業のようすを何と呼んでいましたか。漢字で答えなさい。



(広島平和記念資料館ウェブサイトより引用)

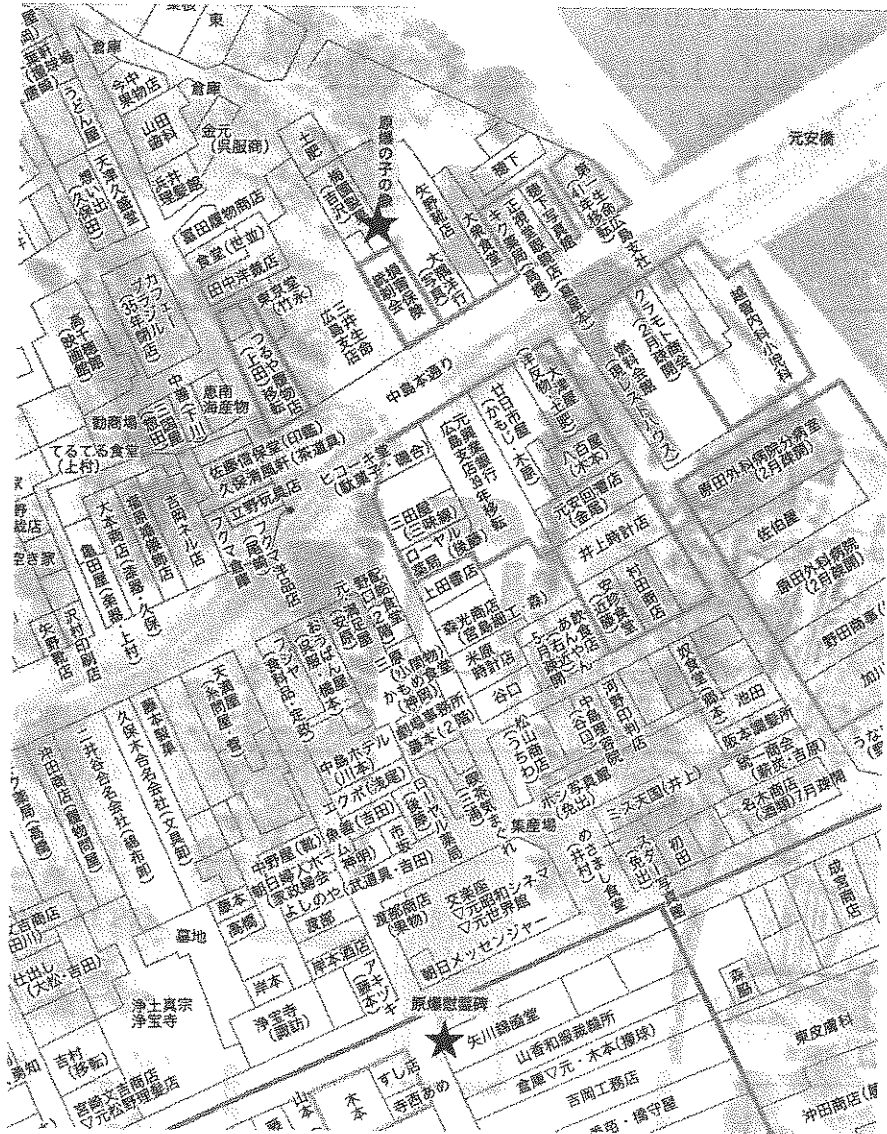
(2) アメリカ国内には、原爆投下を正当化する主張があります。原爆投下が必要だったといわれるのはなぜですか。次の年表から考えられる理由を2点、説明しなさい。

時期	主な出来事 【 】内は戦闘におけるアメリカ軍の死者・行方不明者数
1942年6月	アメリカ軍がミッドウェー海戦で日本軍を敗北させる。 【約300人】
1943年2月	アメリカ軍がガダルカナル島（ソロモン諸島）から日本軍を撤退させる。 【約6,800人】
1944年7月	アメリカ軍がサイパン島（マリアナ諸島）で日本軍を全滅させる。 【約3,400人】
10月	アメリカ軍がレイテ島（フィリピン）に上陸し、以降、フィリピン全土で日本軍と戦う。 【約23,300人】
1945年2月	ヤルタ会談にて、戦後の世界をめぐるアメリカとソ連の対立が深まる。
3月	アメリカ軍が硫黄島（小笠原諸島）の日本軍を全滅させる。 【約6,800人】
5月	ソ連軍がベルリンを攻め落とす。ドイツが降伏する。
6月	アメリカ軍が沖縄戦で勝利する。 【約14,000人】
7月	連合国がポツダム宣言で日本に無条件降伏を要求するが、日本はこれを受けいれず。
8月	ソ連が対日参戦し、満州・千島・樺太に攻めこむ。

(福田茂夫『第2次大戦の米軍戦略』中央公論社、1979年 などより作成)

(3) 広島における原爆の投下は非人道的であるといわれます。それはなぜですか。次の地図から考えられる理由を説明しなさい。

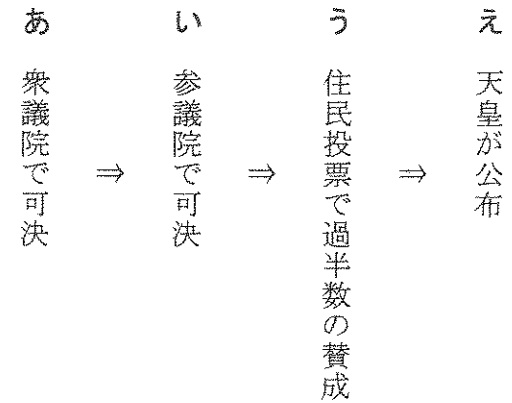
原爆投下直前の広島市の街並み復元図



※ 地図中の★は、現在の原爆慰霊閣連碑の位置を表しています。

(中国新聞ヒロシマ平和メディアセンター資料より作成)

問2 下線部②について、この法律は地方特別法として成立しました。次の図は、地方特別法の成立過程を示しています。これと一般の法律の成立過程と違う点はどこですか。あ～えから1つ選び、記号で答えなさい。



問3 下線部③について、お好み焼きのソースの原料にも使われる、デザート(ナツメヤシの実)の主な生産地として適当な国を次から1つ選び、記号で答えなさい。

- |           |           |
|-----------|-----------|
| あ インド     | い ブラジル    |
| う オーストラリア | え サウジアラビア |

問4 下線部④について、太田川水系の洪水を防ぐために、2001年に安芸太田町に建設されたダムの名前を答えなさい。

問5 下線部⑤について、市町村の財源不足を補うために始まった制度で、自分が選んだ自治体にお金を寄付した場合に、税金が減らされたり、返礼品がもらえる制度を何といいますか。答えなさい。

問6 下線部⑥について、2016年9月、平和記念資料館の入口にある地球平和監視時計が「247」日から「0」日にリセットされました。この時計には、いつからの日数が表されているのですか。答えなさい。

問7 下線部⑦について、2009年、オバマ前大統領はチェコ共和国の首都プラハで演説を行いました。次の一文は、この時にオバマ大統領が用いた文章をまとめたものです。文中の（ ）にあてはまる言葉を答えなさい。

「（ ）世界へむけて、平和と安全を追求しよう。」

[4] 次の表は、2016年に起きた出来事の一部を月別に示したものです。これを見て、後の問いに答えなさい。

月	日	出来事
1月	16日	台湾で総統選挙が行われ、①女性初の総統が誕生する。
	23日	2015年の難民申請数が発表される。
2月	4日	②TPP(環太平洋パートナーシップ協定)署名式が行われる。
3月	26日	北海道新幹線が開業する。
	29日	集団的自衛権の行使を含む安保法制が施行される。
4月	16日	③熊本地震(本震)が発生する。
5月	9日	フィリピン大統領選挙の投開票が行われる。
6月	23日	④イギリスが国民投票を実施し、EU(欧州連合)離脱を決定する。
7月	10日	日本で⑤国政選挙の投開票が行われる。
8月	5日	⑥リオデジャネイロオリンピックが開幕する。
	8日	⑦天皇陛下が退位に対するお気持ちを表明される。
9月	4日	( ⑧ ) がカトリックの「聖人」に認定される。
	15日	⑨8300年前に埋葬された人骨が発見される。
10月	19日	⑩日ソ国交回復から60年を迎える。
11月	3日	⑪日本国憲法の公布から70年を迎える。
	8日	アメリカ大統領選挙の投開票が行われる。
12月	15日	山口県で日ロ首脳会談が開かれる。

問1 下線部①について、2017年1月22日現在、女性が国家の政治指導者（大統領、内閣総理大臣）を務める国を次からすべて選び、記号で答えなさい。

- あ イギリス                      い ドイツ                      う アメリカ  
 え 中国                              お ロシア

問2 下線部②が結ばれると、外国から安い農作物が日本に輸入されるようになり、日本の農業に影響えいさようを与えられています。かつて、日本で、外国から安い製品が多く輸入されるようになり、国内の産業に大きな打撃だげきを与えたことがありました。それは、いつ、何が行われた後に起こりましたか。解答欄らんにしたがって答えなさい。

問3 下線部③について、次の表のA～Eにあてはまる農畜産物のうちくさんを、あ～おから選び、それぞれ記号で答えなさい。

平成25年主要農畜産物における上位5都道府県の産出額と構成比

都道府県	A	
	産出額	構成比
	億円	%
1 北海道	3,224	47.1
2 栃木	307	4.5
3 熊本	243	3.6
4 群馬	237	3.5
5 千葉	236	3.4

都道府県	B	
	産出額	構成比
	億円	%
1 鹿児島	880	15.8
2 北海道	814	14.6
3 宮崎	527	9.4
4 熊本	326	5.8
5 宮城	202	3.6

都道府県	C	
	産出額	構成比
	億円	%
1 熊本	410	17.6
2 北海道	207	8.9
3 愛知	157	6.8
4 千葉	150	6.5
5 茨城	139	6.0

都道府県	D	
	産出額	構成比
	億円	%
1 栃木	250	15.6
2 福岡	204	12.7
3 静岡	108	6.7
4 熊本	106	6.6
5 長崎	95	5.9

都道府県	E	
	産出額	構成比
	億円	%
1 和歌山	248	16.0
2 愛媛	237	15.3
3 静岡	236	15.3
4 熊本	160	10.3
5 佐賀	110	7.1

(平成26年12月公表農林水産統計より作成)

- あ 肉用牛                              い みかん                              う トマト  
 え 生乳                                      お いちご

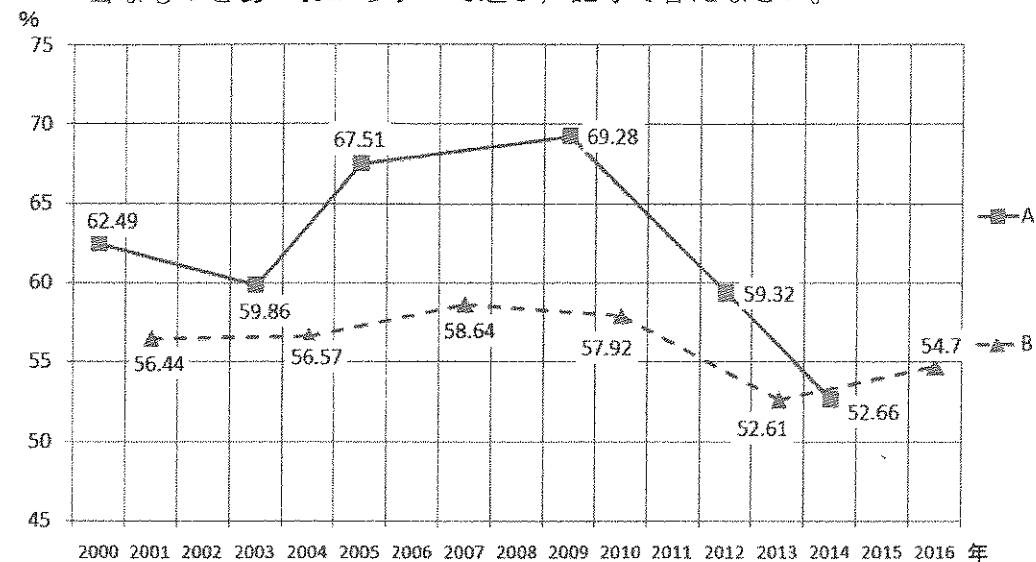
問4 下線部④について、EU離脱が全体として多数となった理由を、次の表の44歳以下の人々の数値に注目して、説明しなさい。

表 イギリスの国民投票の結果

年齢層 （2015年）	有権者全体に 対する割合 （2015年）	投票率	投票した人のうち	
			離脱	残留
18-24歳	12%	36%	27%	73%
25-34歳	17%	58%	38%	62%
35-44歳	16%	72%	48%	52%
45-54歳	18%	75%	56%	44%
55-64歳	14%	81%	57%	43%
65歳～	22%	83%	60%	40%

（イギリス政府ウェブページ、BBCウェブページなどを参考に作成）

問5 下線部⑤について、次のグラフA・Bは、国政選挙の投票率の移り変わりを示したものです。このグラフに関連して述べた文として、適当なものをあ～おからすべて選び、記号で答えなさい。



注1 ■や▲は衆議院議員選挙もしくは参議院議員選挙が行われた年の投票率を示しています。

注2 衆議院議員選挙は小選挙区選挙の投票率、参議院議員選挙は選挙区選挙の投票率を示しています。

（総務省ウェブページより作成）

- あ 2016年に衆議院議員選挙が行われた。
- い 2009年以降、衆議院議員選挙の投票率は下がり続けている。
- う 参議院は、定期的に、定数の半分の議員が改選されている。
- え 日本でサミット（主要国首脳会議）が行われた年に、国政選挙は行われていない。
- お 2000年以降と同様に、これからも衆議院議員と参議院議員の選挙が同じ年に行われる可能性はない。

問6 下線部⑥について、リオデジャネイロオリンピック開会式は、現地時間の8月5日の20時から行われました。次の文は、式を演出したフェルナンド・メイレス氏のインタビューの一部です。この中で語られている「人類最大の悲劇」とは何ですか。答えなさい。

「(開会式の) 開始15分後、平和のメッセージを組み込み、人類最大の悲劇に触れたかった」(NHKインタビューより引用)

問7 下線部⑦に関連して、天皇が幼かったり、病気で仕事ができなかったりする場合、他の者がある役職につき、代理でその仕事を行うことがありました。この役職を務めたことがある歴史上の人物を、一人答えなさい。

問8 ( ⑧ ) には、インドのコルカタ(カルカッタ)で貧しい人々を救済する活動に尽くした人物の名前が入ります。それは誰ですか。答えなさい。

問9 下線部⑨について、この埋葬が行われた時代の名称は、何に由来してつけられましたか。答えなさい。

問10 下線部⑩と同じ年の出来事として正しいものを1つ選び、記号で答えなさい。

- あ 沖縄が日本に復帰した。
- い 東京オリンピックが開かれた。
- う 日本の国際連合への加盟が認められた。
- え 国民総生産がアメリカについて世界第2位になった。

問11 下線部⑪の3つの原則に関して述べた次の文A～Cについて、その正誤の組み合わせとして正しいものを、あ～くから選び、記号で答えなさい。

- A 国民一人ひとり「個人」として大切にされる。
- B 国民一人ひとりが投票によって意見を伝えることができる。
- C 武力を持たず、話し合いによって平和な世界をつくる。

- |   |     |     |     |   |     |     |     |
|---|-----|-----|-----|---|-----|-----|-----|
| あ | A=正 | B=正 | C=正 | い | A=正 | B=正 | C=誤 |
| う | A=正 | B=誤 | C=正 | え | A=正 | B=誤 | C=誤 |
| お | A=誤 | B=正 | C=正 | か | A=誤 | B=正 | C=誤 |
| き | A=誤 | B=誤 | C=正 | く | A=誤 | B=誤 | C=誤 |

(問題は以上です)

平成29年度 社会 解答用紙

[ 1 ]

問1  問2 各地に

問3  問4 (1)  (2)

問5  の戦い 問6  問7

問8  問9  問10

[ 2 ]

問1 (ア)  川 (イ)  県 (ウ)  湖  
(エ)  市 (オ)  川 問2  問3 (1)

(2)  問4 (1) ①  ②  (2)  (3)

問5

問6 ①   
②

[ 3 ]

問1 (1)

(2)

(3)

問2  問3  問4  問5

問6  からの日数 問7

[ 4 ]

問1  問2  時代に  後に起こった。

問3 A  B  C  D  E

44歳以下の人々は

問4

問5  問6

問7  問8

問9  問10  問11

受験番号	<input type="text"/>	<input type="text"/>	<input type="text"/>	<input type="text"/>
------	----------------------	----------------------	----------------------	----------------------