

平成 27 年度  
広島学院中学校入学試験問題

社 会

【 40分 】

◎試験開始まで、問題用紙にも解答用紙にも手をふれてはいけません。

次の注意を読みなさい。

注 意

1. 問題用紙

この問題用紙は、2 ページから 27 ページまでで、問題は 4 問あります。

2. 解答用紙

解答用紙は別の用紙 1 枚です。

3. 記入・質問などの注意

(1) 答えはすべて解答用紙のわくの中に、ていねいな字で記入しなさい。

(2) 印刷が悪くて字のはっきりしないところなどがあれば、手をあげて監督かんとくの先生に知らせなさい。

[1] 次の文章は、太郎君が立てた九州地方をめぐる旅行計画です。これを読んで、後の問いに答えなさい。

< 1 日目 >

新幹線に乗って広島駅から博多駅に移動し、福岡市内の観光地をめぐる。西鉄バスに乗って①板付遺跡を見学し、福岡城跡の近くにある②鴻臚館跡展示館を見学します。その後は、博多駅に戻り、人気の列車ソニックに乗って大分県に向かいます。途中下車して、③黒田官兵衛(孝高)ゆかりの中津城も見学し、別府温泉で宿泊です。

< 2 日目 >

日豊本線で大分県から宮崎県に入ります。昼ごろに宮崎駅に着いたら④宮崎のおいしいものを食べましょう。宮崎市内を観光した後、日豊本線で宮崎県から鹿児島県に入ります。夕方に霧島神宮駅に到着し、霧島温泉で宿泊です。九州は温泉がたくさんあるので毎日温泉に入ることができます。

< 3 日目 >

鹿児島県の霧島高原は、霧島錦江湾⑤国立公園に指定されています。霧島高原の自然散策をした後、日豊本線で鹿児島中央駅に到着します。鹿児島市では鹿児島と沖縄を支配した島津氏の別邸である雄大な仙巖園を散策します。ここでは⑥陶磁器の絵付け体験ができるのでしていきましょう。夕方、鹿児島港からフェリーに乗って沖縄県の那覇市へ出発します。

< 4 日目 >

1日フェリーに乗ります。夕方に那覇市に到着。この日は市内で宿泊です。

< 5 日目 >

那覇市から観光バスに乗って、沖縄本島北部の美ら海水族館へ行きます。水族館ではジンベエザメをぜひ見ましょう。沖縄の美しい⑦サンゴ礁の海も見てみたいです。この日は恩納村に宿泊します。

< 6 日目 >

恩納村から糸満市の平和祈念公園に行き、沖縄戦の激戦地であった摩文仁の丘にある慰霊碑や平和祈念資料館、平和の礎を見学します。途中、バスの窓から⑧アメリカ軍基地が見えるそうです。那覇市に戻ったら、国際通りで沖縄のおみやげを買って、市内で宿泊します。

< 7 日目 >

朝からフェリーに乗り鹿児島県に戻ります。この日はフェリーで宿泊です。

< 8 日目 >


朝、鹿児島港に到着します。鹿児島市からは九州新幹線で熊本駅へ。⑨熊本城を見て、⑩くまモンのおみやげを買ったら、九州新幹線と長崎本線乗り継いで夕方に長崎駅に到着です。

< 9 日目 >

この日は長崎の町をめぐる。松山町駅まで路面電車で移動し、平和記念公園、浦上天主堂、如己堂などを見学します。如己堂は、⑪原爆による病気の研究をし、⑫核兵器の廃絶を訴えた永井隆博士が生活した場所です。その後、長崎本線で博多駅に戻り、新幹線で広島駅に帰ります。

長い旅行計画ですが、九州地方にはまだまだ行ってみたい所がたくさんあります。太郎君は、大人になったらこの旅行を実現しようと思いました。

問1 下線部①について、この遺跡からは、次のような道具が発掘されました。これは、何に使われたものですか。次から選び、記号で答えなさい。



あ 代かき      い 稲刈り      う 脱穀      え 精米

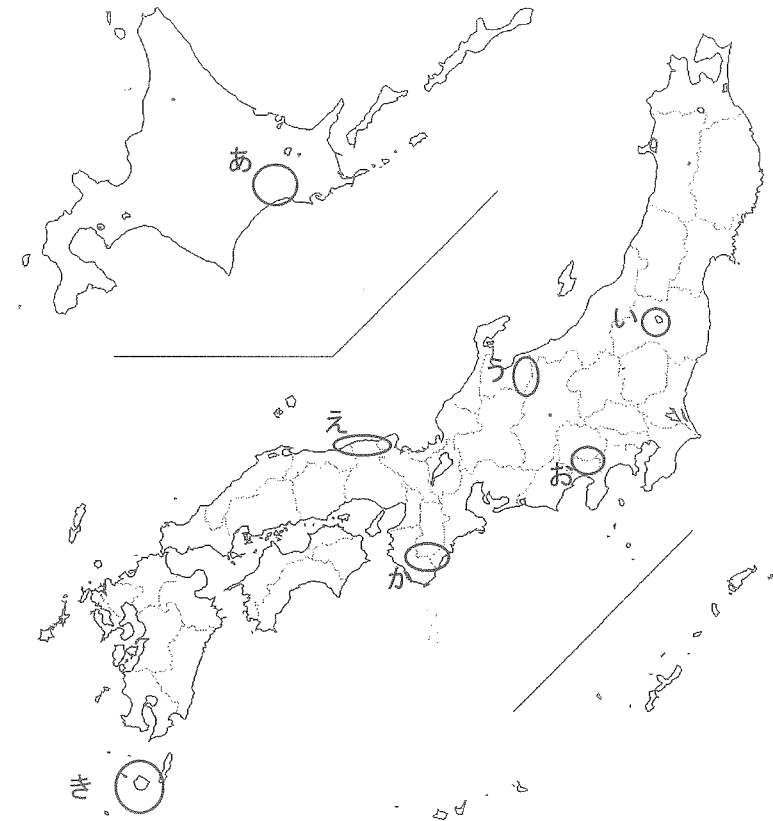
問2 下線部②について、このような施設は奈良時代から平安時代にかけて、京都や福岡などに設けられました。何のために設けられた施設ですか。答えなさい。

問3 下線部③について、この人物はキリシタン大名としても知られています。九州の戦国大名がキリスト教の宣教を認めた目的は何ですか。キリスト教の教えを信仰し、広めようとしたことの他に、1つ答えなさい。

問4 下線部④について、宮崎県の農業や畜産業の生産物のうち、生産量が全国5位以内（2012年）に入っていないものを次から選び、記号で答えなさい。

あ レタス      い ピーマン      う きゅうり      え 肉用牛

問5 下線部⑤について、地図に示されたあ～きの地域のうち、世界自然遺産が含まれているものを選び、記号で答えなさい。



問6 下線部⑥について、江戸時代初期、鹿児島をはじめ、九州の各地に陶磁器の生産地が生まれました。これらの地域に陶磁器の技術が伝えられたのはなぜですか。説明しなさい。

問7 下線部⑦について、近年、沖縄のサンゴが赤土の流出により次々と失われている問題が起きています。赤土が海に流れ込んでいるのはなぜですか。気象条件以外の理由を説明しなさい。


問8 下線部⑧について、日本にあるアメリカ軍基地（米軍が専用で使用するもの）の面積のうち、沖縄県にあるアメリカ軍基地の面積がしめる割合として最もふさわしいものを次から選び、記号で答えなさい。

あ 約15%      い 約35%      う 約55%      え 約75%

問9 下線部⑨について、熊本城は明治初期に起きた士族の反乱で焼けました。この反乱を何といいますか。漢字で答えなさい。

問10 下線部⑩について、近年、「くまモン」のような「ゆるキャラ」が各地でつくられています。（1）・（2）の「ゆるキャラ」はどここの県にある都市でつくられましたか。県名をそれぞれ答えなさい。


（1）



頭のかんむりは来島海峡大橋をイメージし、腹巻には特産のタオル地を使用。造船業をイメージした船の形をした財布を持ち、焼き鳥が好き。

（2）

ちょんまげはうなぎ、羽織にはみかんの印、はかまはピアノの柄と特産品が盛り込まれている。



問11 下線部⑪について、原爆投下当日に直接被ばくをしていない人でも、その後、放射線の被害に苦しんだ人が多くいました。それはなぜですか。説明しなさい。

問12 下線部⑫について、解答欄にしたがって非核三原則を答えなさい。

[2] 次の文章を読み、後の問いに答えなさい。

宗教は人間の歴史の中で大切にされてきました。日本人と宗教の関係を歴史から考えてみましょう。

日本の人々は、古くから自然の中に宿る神々を信じていました。縄文時代や①弥生時代の遺跡からそのことがわかります。

次の時代になると、②聖徳太子が登場し、③仏教を人々の間に広めようとなりました。奈良時代になると、聖武天皇は東大寺を建て、④行基などの協力を得て⑤大仏づくりをはじめました。またこのころ、中国から⑥鑑真が来日しました。仏教はこうして日本の中心的な宗教になっていきました。

その後、平安時代の終わりから鎌倉時代にかけて、源平の戦いや⑦元軍が攻めてくるなど、戦乱の多い不安定な世の中になりました。その中で仏教の新しい宗派が次々とうまれました。室町時代になると、禅宗の影響を受けた文化が花開き、⑧砂と石で作られた庭園や⑨墨絵が流行しました。またこのころには金閣、⑩銀閣といった代表的な寺院も建てられました。

安土桃山時代になると、織田信長は延暦寺や（⑪）宗の信者と対立しました。一方で、信長はキリスト教を保護しました。しかし、江戸時代になるとキリスト教は禁止され、⑫宗教は幕府に統制されていきました。こうした中でキリスト教の信者を中心として島原・天草一揆が起こり、その後、取りしめりは一層厳しくなりました。

明治時代になると、⑬板垣退助を中心に国民の間で自由や権利を求める声が高まり、大日本帝国憲法には信教の自由が定められました。明治時代から⑭大正時代にかけてミッションスクール（キリスト教の学校）が各地につくられました。

昭和時代になり戦争が始まると、信教の自由が大きく制限されるようになりしました。ミッションスクールでは、外国人の教員が自国に帰ることを強制されました。

戦後には⑮日本国憲法によって、信教の自由が保障されるようになりしました。このように、日本人と宗教との関係はさまざまな変化をへて今日に至っています。

問1 下線部①について、この時代に女王となった卑弥呼はどのような方法で人々を治めていましたか。答えなさい。

問2 下線部②について、「冠位十二階を定めたこと」、「十七条の憲法を定めたこと」の他に、この人物の主な業績を2つ答えなさい。

問3 下線部③について、次の写真はこの時代の代表的な仏像です。この仏像がある寺を建てた一族を答えなさい。



問4 下線部④について、この人物の説明として、最もふさわしいものを次から選び、記号で答えなさい。

- あ 座禪の修行を広めた。
- い 踊りながら念仏を唱えた。
- う 中国からお経を持ち帰った。
- え 橋や道、池や水路などをつくった。

問5 下線部⑤について、(1)・(2)に答えなさい。

(1) 大仏づくりの作業では大量のまきが燃やされました。それは何のためですか。答えなさい。

(2) このころの出来事として、誤っているものを次から選び、記号で答えなさい。

- あ 伝染病が流行した。
- い 外国から攻撃を受けた。
- う 貴族の反乱が起こった。
- え 全国各地で災害が起こった。

問6 下線部⑥について、この人物の説明として、最もふさわしいものを次から選び、記号で答えなさい。

- あ 極楽浄土への信仰を伝えた。
- い 山で修行する仏教を広めた。
- う 日本の仏教の制度をととのえた。
- え 日本古来の宗教を仏教に取り入れた。

問7 下線部⑦について、この時の執権の名前を漢字で答えなさい。

問8 下線部⑧について、このような庭園の様式を何といいますか。答えなさい。

問9 下線部⑨について、この時代に墨絵をえがいた代表的な画家を1人答えなさい。

問10 下線部⑩について、この建物が建てられたころ、ある出来事をきっかけに、京都を中心に生まれた文化が地方の都市に急速に広がりました。その理由を説明しなさい。

問11 ( ⑪ ) にあてはまる語句を漢字で答えなさい。

問12 下線部⑫について、次の図は当時、正月に長崎で行われていた行事の様子を示したものです。何をしているところですか。答えなさい。



問13 下線部⑬について、この人物の考えとして最もふさわしいものを次から選び、記号で答えなさい。

- あ 天皇の権力を強めた憲法をつくるべきである。
- い 農民は最も人口が多いので、政治の中心につくべきである。
- う 政党をつくり、広く国民の意見を聞いて議を開くべきである。
- え 政府を批判する演説会や新聞などは厳しく取りしめるべきである。

問14 下線部⑭について、この時代に活躍した新渡戸稲造にかかわりのある出来事を次から選び、記号で答えなさい。

- あ 国際連盟の設立
- い ペスト菌の発見
- う 全国水平社の結成
- え 八幡製鉄所の生産開始

問15 下線部⑮について、下の日本国憲法の条文（第20条、要旨）を読んで、この内容にふさわしくないものを次から選び、記号で答えなさい。

信教の自由は、だれに対してもこれを保障する。どんな宗教団体も、国から特権を受けたり、政治上の権力を使ったりしてはならない。

- あ 友人たちと一緒に、自分たちの考えを広めようと思い、新しい宗教団体を作った。
- い 市役所が、市民に近所の神社にお参りしなければならぬとお知らせを送った。
- う 両親は仏教の信者だが、キリスト教の考え方に共感したので、その信者になった。
- え 1月に初もうでのため神社へ行き、2月に親戚の結婚式に出席するために、キリスト教の教会へ行った。

[3] 次の表は、国際機関や国の機関が定めた主な記念日です。これらの記念日に関して、後の問いに答えなさい。

1月	10日 110番の日 17日 防災と(①)の日	18日 ● 118番の日 26日 文化財防火デー
2月	2日 世界②湿地の日 7日 ③の日	20日 旅券の日
3月	7日 ★ 消防記念日 10日 ④農山漁村女性の日	22日 世界水の日 24日 世界結核デー
4月	2日 世界自閉症啓発デー 10日 交通事故死ゼロを目指す日	18日 発明の日 23日 子ども読書の日
5月	10日 地質の日 12日 ▲ 看護の日	22日 国際⑤生物多様性の日 31日 世界禁煙デー
6月	1日 ● 気象記念日 3日 ● 測量の日	5日 ⑥環境の日
7月	1日 国民安全の日	7日 ● 川の日
8月	1日 ● 水の日	10日 ● 道の日
9月	1日 防災の日 9日 ▲ 救急の日	10日 世界自殺予防デー 12日 ● 水路記念日
10月	1日 法の日 4日 ● ⑦都市景観の日 6日 国際協力の日	10日 ▲ 目の愛護デー 14日 ● ⑧鉄道の日 18日 ★ 統計の日
11月	1日 ● 灯台記念日 1日 ⑨自衛隊記念日 9日 ★ 「119番」の日 10日 ▲ ⑩技能の日	11日 ▲ 介護の日 11日 ● 公共建築の日 28日 ⑪税関記念日
12月	1日 ★ ⑫デジタル放送の日 1日 世界エイズデー	3日 国際⑬障害者デー 10日 世界人権デー

(政府広報オンライン Web ページより作成)

問1 (①) について、次の3つの文を参考にして、(①) に当てはまる語句をカタカナで答えなさい。

阪神・淡路大震災をきっかけに多くの市民が活発に行うようになった。  
東日本大震災や広島土砂災害でも多くの人が参加した。  
お金をもらわず、自分からすすんで行うことなどが原則である。

問2 下線部②について、水鳥など多くの生物の生息地である湿地を保護するために結ばれた条約を何といいますか。答えなさい。

問3 ③には、他国と領土問題になっている島々の呼び名が入ります。この島々は日本の領土のどこにありますか。次から選び、記号で答えなさい。

あ 東のはし    い 西のはし    う 南のはし    え 北のはし

問4 下線部④について、秋田県の横手盆地<sup>よんてい</sup>では、生産量を増やすために田の形が変えられました。なぜ田の形を変えると、生産量の増加につながるのですか。写真を参考に、理由を説明しなさい。

1974年の様子



1999年の様子



問5 下線部⑤について、次の3つの文は、同じ生物について説明していません。この生物を答えなさい。

2014年に、この生物とクロマグロが絶滅危惧種<sup>ぜつめつきけんしゆ</sup>に指定された。  
国内の養殖生産量は、鹿児島県、愛知県、宮崎県の順が多い(2012年)。  
世界で7割近くを日本人が消費している。

問6 下線部⑥について、地球温暖化の原因のひとつとされている二酸化炭素の排出量が多い上位2か国を答えなさい。

問7 下線部⑦について、次の3つの文は、同じ都市について説明していません。この都市名を答えなさい。

町の景観を保つための条例を2008年に定めた。  
広島県の東部に位置し、多くの文学や映画の舞台<sup>ぶたい</sup>となった。  
本州と四国とを結ぶ「しまなみ海道」が通っている。

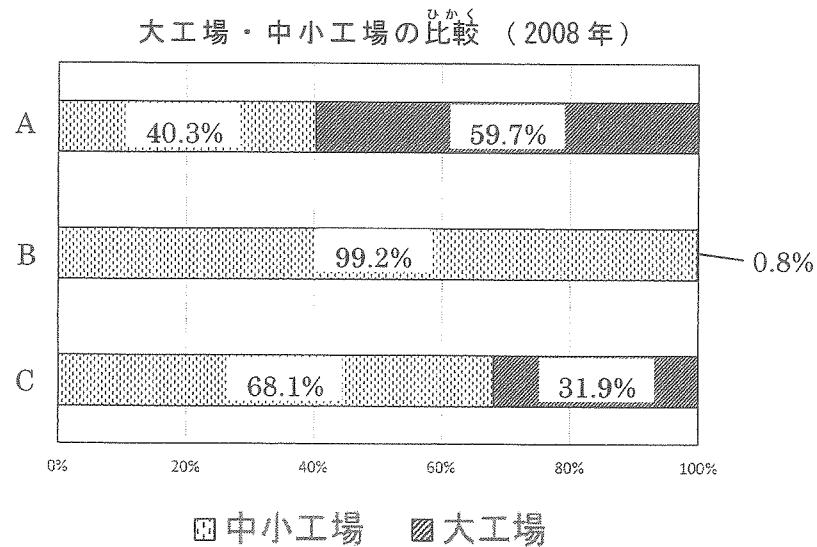
問8 下線部⑧について、日本の鉄道に関する説明として誤っているものを次から選び、記号で答えなさい。

- あ 1872年に日本で最初の鉄道が新橋・横浜間で開通した。
- い 1912年に広島市内で路面電車が走るようになった。
- う 1964年に東海道・山陽新幹線が東京・博多<sup>はくた</sup>間で開通した。
- え 2015年に北陸新幹線が開通する予定である。

問9 下線部⑨について、自衛隊の説明として誤っているものを次から選び、記号で答えなさい。

- あ これまで海外に派遣<sup>はけん</sup>されたことはない。
- い 災害時には、救助活動をおこなっている。
- う 武力によって外国の人の命をうばったことはない。
- え 防衛省が陸上・海上・航空の各隊を管理・運営している。

問10 下線部⑩について、日本では、多くの中小工場が優れた技能を持っています。次のグラフは、従業者数、工場数、生産額のいずれかについて、大工場と中小工場を比べたものです。正しい組み合わせを次のあ～かから選び、記号で答えなさい。



(経済産業省『我が国の工業』より作成)

- |   |          |          |          |
|---|----------|----------|----------|
| あ | A - 従業者数 | B - 工場数  | C - 生産額  |
| い | A - 従業者数 | B - 生産額  | C - 工場数  |
| う | A - 工場数  | B - 従業者数 | C - 生産額  |
| え | A - 工場数  | B - 生産額  | C - 従業者数 |
| お | A - 生産額  | B - 従業者数 | C - 工場数  |
| か | A - 生産額  | B - 工場数  | C - 従業者数 |

問11 下線部⑪について、長崎・横浜・箱館(函館)に日本で初めて税関が設けられました。江戸時代に外国と結んだ通商条約で、これら3つの港以外に日本が開くことを約束した港はどこですか。1つ答えなさい。

問12 下線部⑫について、デジタル放送の特色として、誤っているものを次から選び、記号で答えなさい。

- あ いつでも天気予報などの情報を見ることができる。
- い クイズやアンケートに答えるなど、番組に参加できる。
- う コマーシャルをとばして、番組のみを見ることができる。
- え 高齢者や障がい者に対し、字幕放送などのサービスを提供できる。

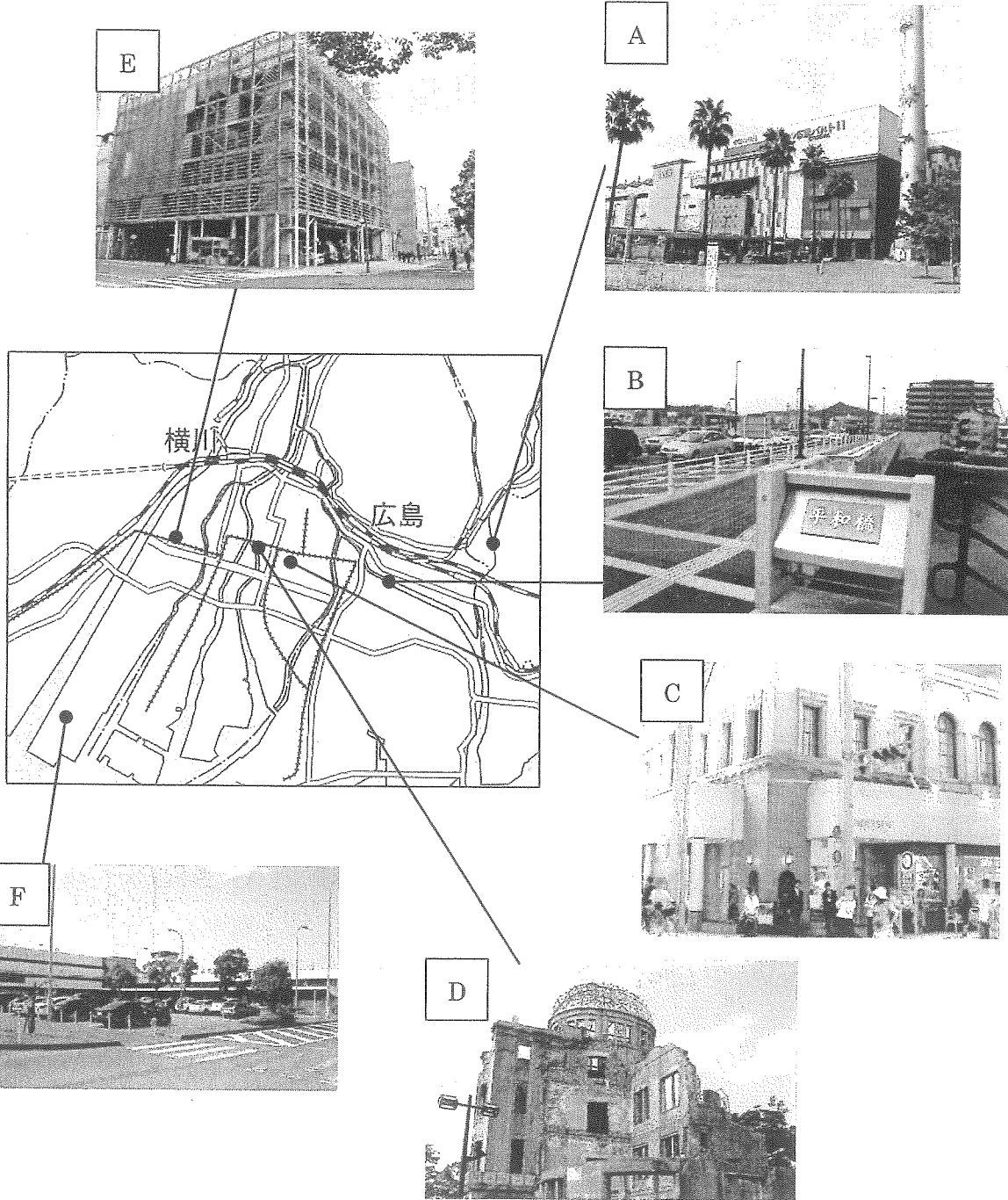
問13 下線部⑬について、2020年に東京で開催されることになった、世界の障がい者によるスポーツの祭典を何といいますか。答えなさい。

問14 表を見て、(1)・(2)に答えなさい。

(1) 表中の●, ★, ▲について、これらの記念日に関係する仕事は、国のある省が行っています。それぞれの省を漢字で答えなさい。

(2) 表中には、世界で深刻な広がりを見せる感染症を予防するために、世界保健機関(WHO)が定めた記念日があります。その記念日を表から1つ選び、月日を答えなさい。

[4] 二郎君は、広島市周辺の今と昔の様子について調べたことをレポートにまとめました。これを見て、後の問いに答えなさい。



A この商業施設は安芸郡府中町にある大型のショッピングモールです。もともとは①大きな飲料工場があったところで、1938年から1998年までビールやジュースがつくられていました。

B この橋は広島市民球場の目の前にあり、車や歩行者で混み合っています。かつてここに②広島駅と宇品港を結ぶ鉄道が通っていました。この鉄道は1894年に完成しましたが、第二次世界大戦後、利用客が減少し続け、廃線となりました。近くの公園に線路の跡が一部残っています。

C この建物は被爆建物として知られ、現在は多くの人に親しまれる③デンマーク風ベーカリーとなっています。1925年に完成した④石造りの洋風建築は当時珍しいもので、銀行として利用されていました。

D この建物は⑤広島県の物産品の展示・販売を行うほか、博物館・美術館としての役割も担っていました。戦争が激しくなつてからは主に会社の事務所として使用されました。現在この建物は平和の象徴となっています。

E このあたりには「福島川」と呼ばれる川が流れていましたが、太田川放水路が建設された際、改修工事により埋め立てられました。現在は道路をはさんで⑥東側に消防署、西側に病院がなっています。

F このあたりは海沿いの広い敷地を利用した⑦工業地区となっています。また、現在のヘリポートがある場所は、かつては広島県で唯一の飛行場でした。⑧1993年より三原市に広島空港が開港したため、定期路線があった空港としては、日本で初の廃港となりました。

問1 下線部①について、この地に飲料工場が建てられた理由について述べた文として、最もふさわしいものを次から選び、記号で答えなさい。

- あ 原料・製品ともに重く、運ぶのに手間がかかるので、原料が豊富に得られ、かつ都市に近い場所が適していたから。
- い 原料・製品ともに軽く、運ぶのにあまり手間がかからないため、交通の便が悪くても、安くて広い土地が適していたから。
- う 原料は軽いですが、製品になると重く、運ぶのに手間がかかるので、原料が近くで得られなくても、都市に近い場所が適していたから。
- え 原料は重いですが、製品になると軽く、運ぶのにあまり手間がかからないため、都市から遠くても、原料が得やすい場所が適していたから。

問2 下線部②について、開通したころ、この鉄道の主な役割は何でしたか。答えなさい。

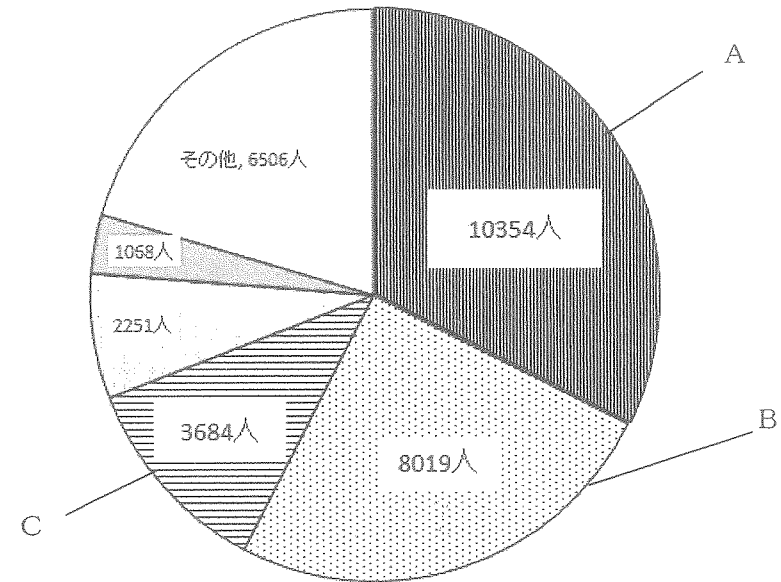
問3 下線部③について、(1)・(2)に答えなさい。

(1) この国は欧州連合(EU)に加盟しています。EUに加盟している国の組み合わせとして正しいものを次から選び、記号で答えなさい。

- |   |      |      |        |        |
|---|------|------|--------|--------|
| あ | イギリス | ギリシャ | アイルランド | コロンビア  |
| い | ロシア  | フランス | ウクライナ  | ポルトガル  |
| う | ドイツ  | オランダ | スウェーデン | フィンランド |
| え | イタリア | スペイン | コスタリカ  | アイスランド |

(2) 次のグラフは、広島県内に住む外国人の数を、国籍別に示したものです。A～Cに当てはまる国名の組み合わせとして正しいものを次のあ～えから選び、記号で答えなさい。

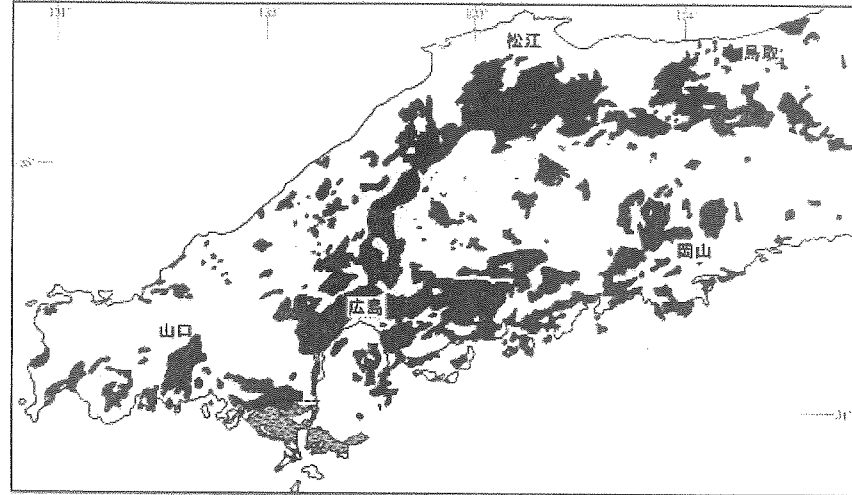
広島県に住む外国人の数(2010年)



(「広島統計」webページより作成)

選択肢	A	B	C
あ	中国	韓国・朝鮮	フィリピン
い	イギリス	アメリカ	中国
う	韓国・朝鮮	中国	オーストラリア
え	アメリカ	ブラジル	韓国・朝鮮

問4 下線部④について、この建物に使われている石材は古くから瀬戸内地方の特産品で、下の図のように広島にも広く分布しています。この岩石の名前を答えなさい。



(『中国地方(日本の地質7)』より作成)

問5 下線部⑤について、現在の広島県の特産品のひとつとして牡蠣が知られています。次の表のA～Dは、東京(23区)、広島、仙台、神戸のいずれかの都市であり、数字はその都市に出荷された牡蠣の総量を示しています。また、カッコ内の数字は、そのうち広島から出荷された牡蠣の量を表しています。この表について、(1)・(2)に答えなさい。

主な都市に向けた牡蠣の総出荷量(トン)

	A	B	C	D
2009年度	3047(757)	313(22)	323(212)	292(285)
2010年度	2665(544)	303(31)	279(89)	283(270)
2011年度	2394(1189)	303(49)	224(164)	274(262)
2012年度	2549(1026)	214(28)	198(140)	255(254)

(「広島の統計」webページより作成)

(1) A～Dにあてはまる都市を次から選び、それぞれ記号で答えなさい。

あ 東京      い 広島      う 仙台      え 神戸

(2) Aの都市では、2011年度以降、広島からの出荷量が大きく増えています。この理由として考えられることを答えなさい。

問6 下線部⑥について、次の図はこの地域の地図で、ア・イは病院・消防署のいずれかを示しています。ア・イに当てはまる地図記号をそれぞれ解答欄に書きなさい。



問7 下線部⑦について、(1)～(3)に答えなさい。

(1) 次の表のA～Eは、広島市、福山市、呉市、大竹市、府中市のいずれかであり、それぞれ業種別に工場(事業所)の数を比べたものです。福山市、大竹市を示した組み合わせとして正しいものを、次のあ～かから選び、記号で答えなさい。

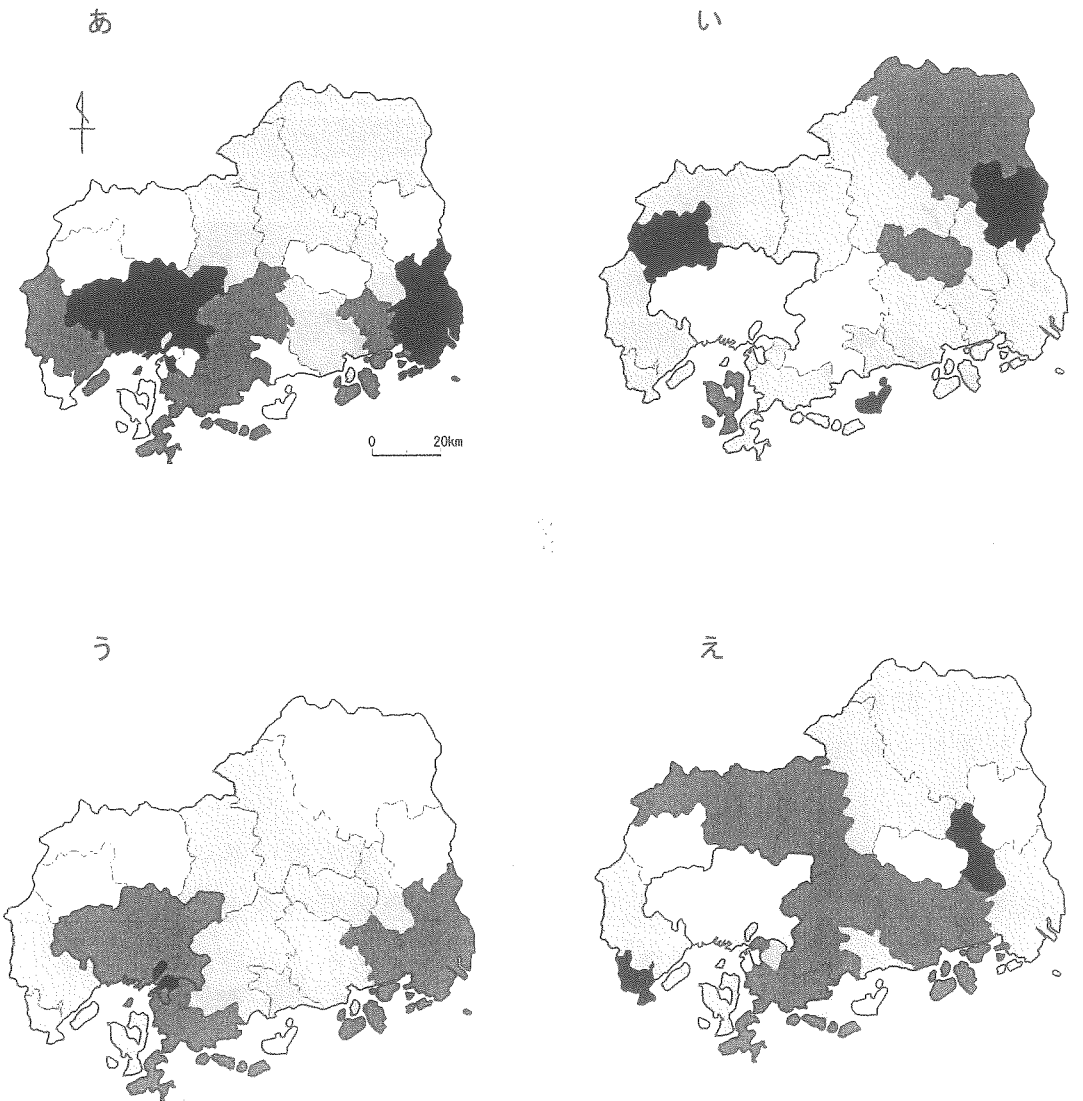
広島県のおもな都市における工場数(2013年)

A		B		C		D		E	
化学工業	10	食料品	202	せんい工業	206	金属製品	84	生産用機械	38
プラスチック	8	金属製品	162	生産用機械	178	輸送用機械	77	家具・装備品	34
食料品	7	生産用機械	141	金属製品	142	食料品	55	せんい工業	32
金属製品	4	印刷関連	128	食料品	109	生産用機械	49	木材・木製品	29
生産用機械	4	プラスチック	75	輸送用機械	89	はん用機械	36	金属製品	24

(「広島県の統計」webページより作成)

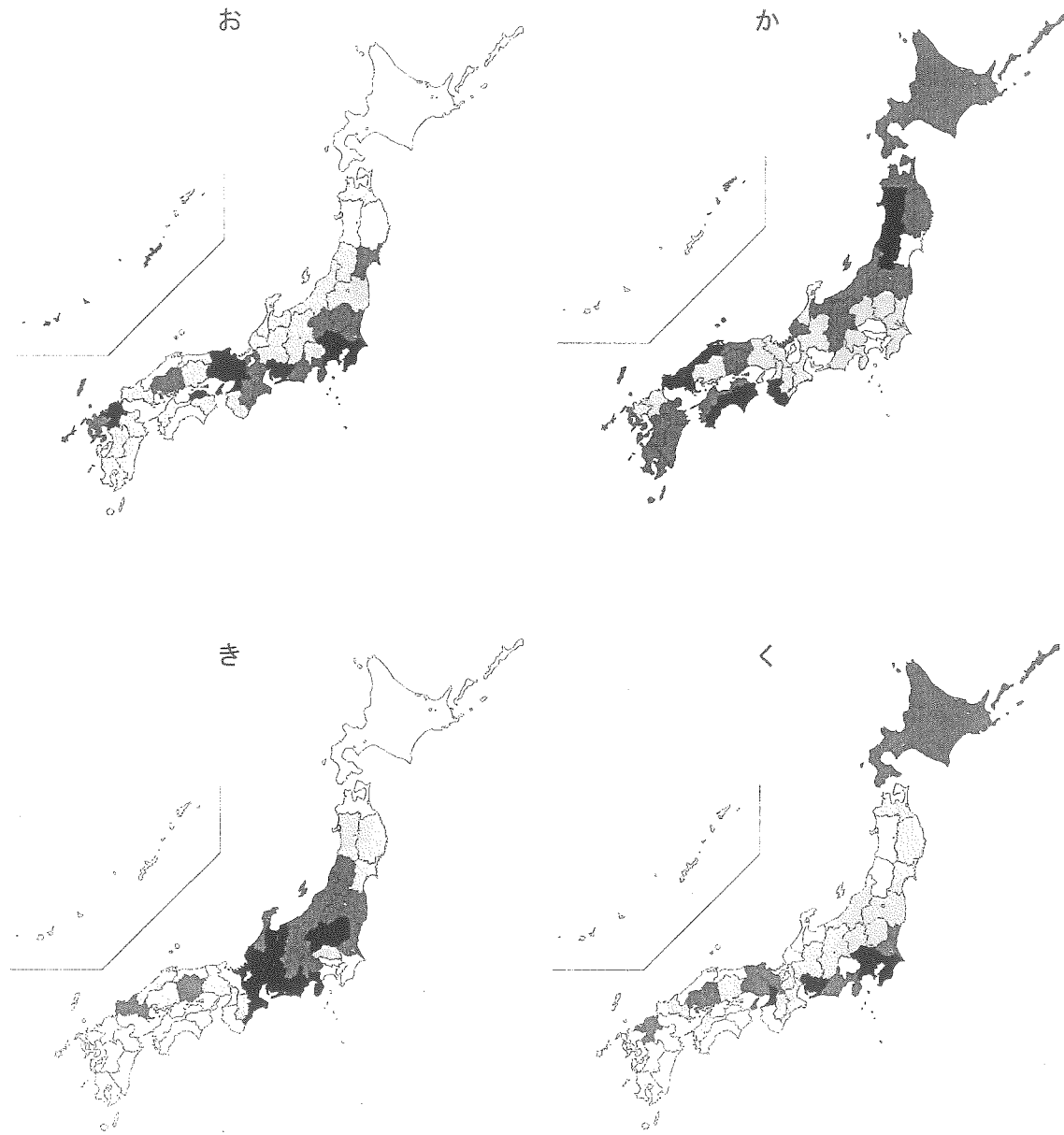
選択肢	あ	い	う	え	お	か
福山市	C	C	C	D	D	D
大竹市	A	B	E	A	B	E

(2) 次の図あ～えは、広島県の市町村別に見た人口、人口密度、高齢化率(65歳以上の人口の割合)、第二次産業人口の割合(製造業で働く人の割合)、のいずれかを表しています(2012年)。第二次産業人口の割合を表しているものを選び、記号で答えなさい。



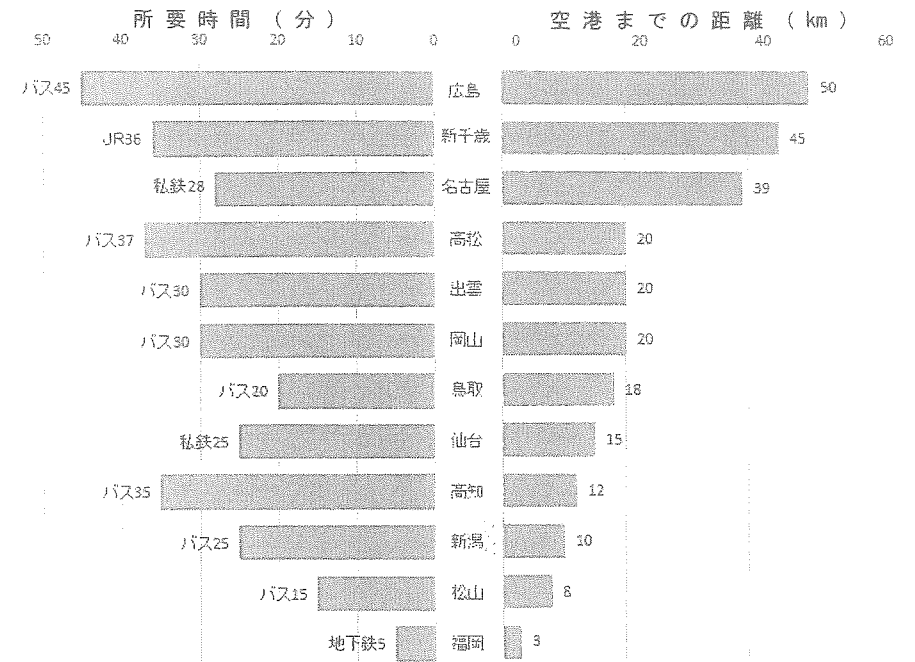
※図は色が濃いほど値が高い(大きい)ことを示しています。

(3) 次の図お～くは、日本の都道府県別に見た人口、人口密度、高齢化率、第二次産業人口の割合、のいずれかを表しています(2012年)。第二次産業人口の割合を表しているものを選び、記号で答えなさい。



※図は色が濃いほど値が高い(大きい)ことを示しています。

問8 下線部⑧について、下の図は、おもな空港から県庁所在地の中心駅までの距離と所要時間(交通手段)を表したものです。この図から読み取れる内容A～Cの正誤の組み合わせとして正しいものを、あ～くから選び、記号で答えなさい。



おもな空港から県庁所在地の中心駅までの距離と所要時間  
(各空港資料より作成)

- A 人口の多い都道府県の空港ほど、中心駅からの距離が長い。
- B 面積の小さい都道府県の空港ほど、中心駅からの所要時間が短い。
- C 平均速度がもっとも遅いのは、広島空港行のバスである。

- あ A = 正 B = 正 C = 正
- い A = 正 B = 正 C = 誤
- う A = 正 B = 誤 C = 正
- え A = 正 B = 誤 C = 誤
- お A = 誤 B = 正 C = 正
- か A = 誤 B = 正 C = 誤
- き A = 誤 B = 誤 C = 正
- く A = 誤 B = 誤 C = 誤

(これで問題は終わりです)

平成27年度 社会 解答用紙

[ 1 ]

問1  問2

問3  問4  問5

問6

問7  問8

問9  問10 (1)  県 (2)  県

問11

問12 核兵器を   。

[ 2 ]

問1

問2

問3  氏 問4

問5 (1)  (2)  問6

問7  問8  問9

問10

問11  宗 問12  問13  問14  問15

[ 3 ]

問1  問2  条約 問3

問4  問5

問6  問7  市 問8

問9  問10  問11  問12  問13

問14 (1) ●  省 ★  省 ▲  省

(2)  月  日

[ 4 ]

問1  問2

問3 (1)  (2)  問4  岩 問5 (1) A  B  C  D

(2)

問6 (1) ア  イ  問7 (1)  (2)  (3)  問8

受験番号