

[1] 次の地図を見て、後の問いに答えなさい。



問1 ①の国について、(1)・(2)の問いに答えなさい。

(1) ①の国は、日本と同じしくみで政治を行っています。①の国の政治のしくみについて述べた文として、最もふさわしいものを次から選び、記号で答えなさい。

- あ 内閣総理大臣は、国民の選挙によって選ばれる。
- い 国会は、2つの議院によって構成されている。
- う 国王が、国会の解散を決定することができる。
- え 国会が、最高裁判所を兼ねている。

(2) ⑥の国で採られた聖火が、①の国の聖火台に灯され、2012年7月27日にオリンピックが始まりました。この様子は、様々なメディアで報道されました。次のA～Cは、テレビ、新聞、インターネットのうちのメディアの特徴を説明していますか。その組み合わせとして正しいものを選択肢あ～かから選び、記号で答えなさい。

- A 知りたい情報を好きな時間に調べたり、情報を自ら発信できたりする。しかし、信ら^いできない情報も多い。
- B 情報の受け手を考えて、どのような情報を発信するか予定が組まれている。緊急に知らせる必要がある情報をすばやく伝えることもできる。
- C 事件や出来事などについて、じっくり調べた情報が発信されている。持ち運びや保存がしやすいが、情報をすばやく伝えることはできない。

選択肢	A	B	C
あ	テレビ	新聞	インターネット
い	テレビ	インターネット	新聞
う	新聞	テレビ	インターネット
え	新聞	インターネット	テレビ
お	インターネット	テレビ	新聞
か	インターネット	新聞	テレビ

問2 ②の国について、次の文章を読み、(1)・(2)に答えなさい。

②の国出身の(あ)は、日本に(い)を伝えました。織田信長は、(い)を保護し、広めることを認めました。

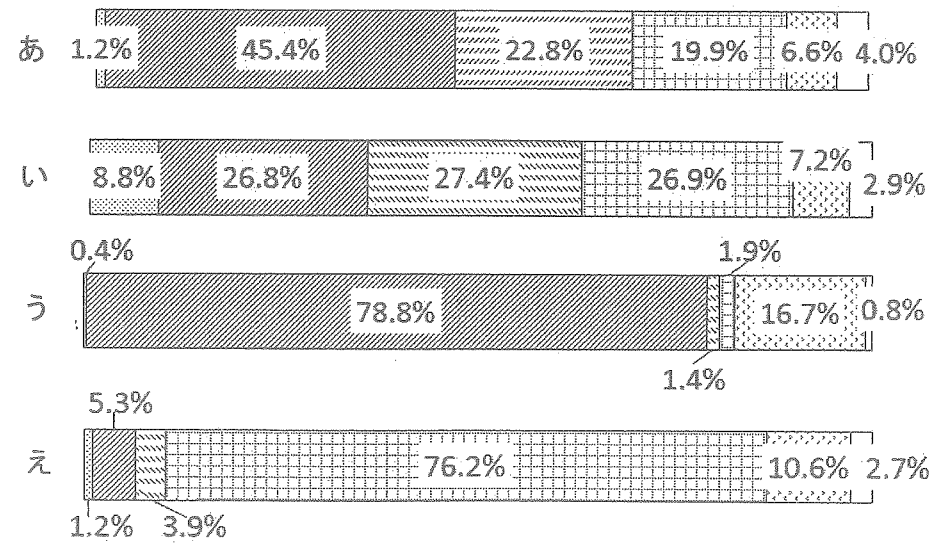
(1) (あ)・(い)にあてはまる語句を答えなさい。

(2) 織田信長が、(い)を広めることを認めたのはなぜですか。理由を説明しなさい。

問3 ③の国について、次の図は、日本、アメリカ、中国、③における発電のエネルギー源のうちの割合を示したものです。③にあてはまるものを、あ～えから選び、記号で答えなさい。

図 発電のエネルギー源のうちの割合 (2009年)

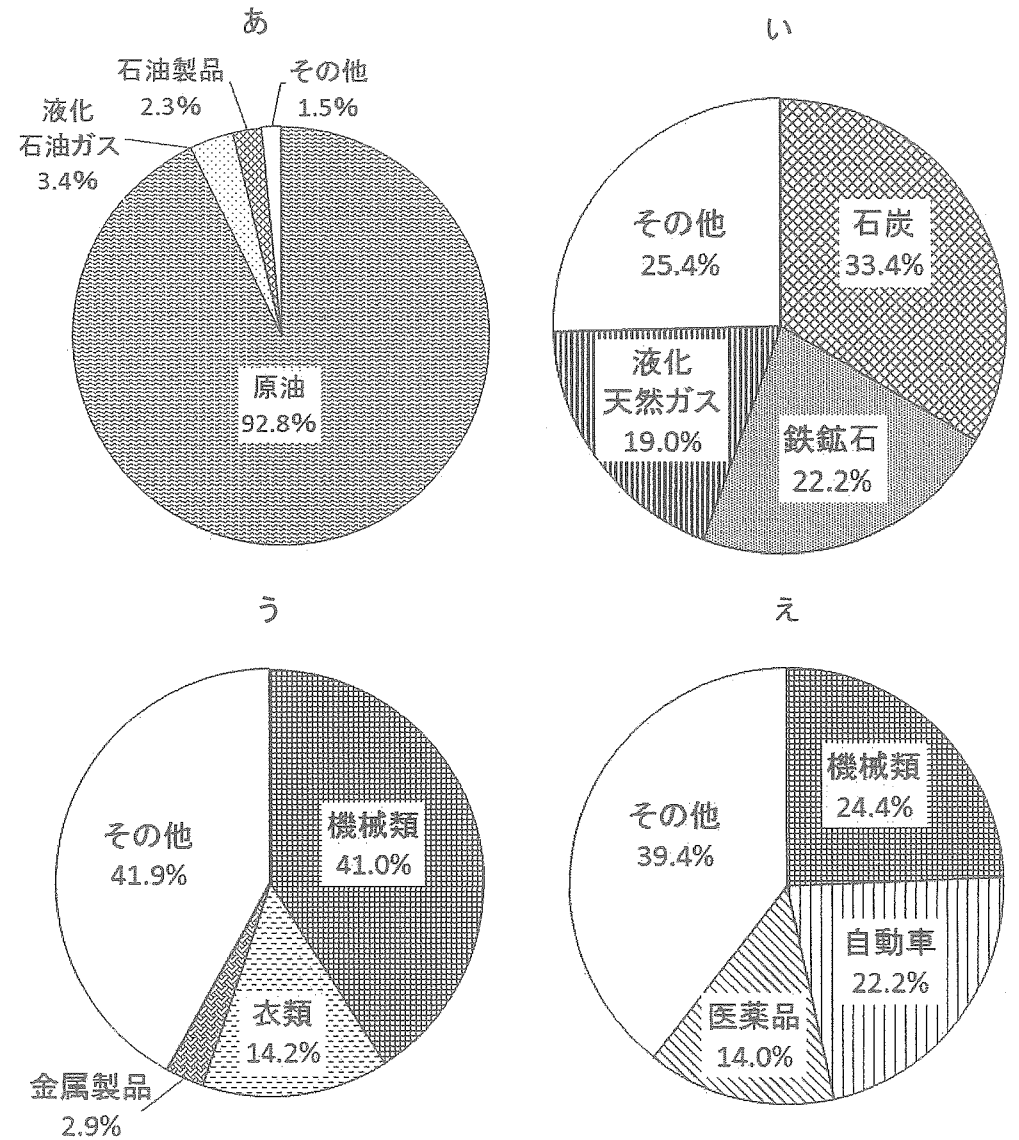
石油
 石炭
 天然ガス
 原子力
 水力
 その他



(海外電力調査会ウェブサイトより作成)

問4 ④の国について、次の図は、中国、オーストラリア、サウジアラビア、④における日本への輸出品のうちの割合を示したものです。④にあてはまるものを、次のあ～えから選び、記号で答えなさい。

図 日本への輸出品のうちの割合【金額】(2011年)



(『日本国勢図会2012/13』より作成)

問5 ⑤などの国で、多くの人々が信仰^{しんこう}しているイスラム教について、
(1)・(2)に答えなさい。

(1) イスラム教の聖典を答えなさい。

(2) 次の①～③の文は、イスラム教のきまりについて述べたものです。

①～③の正・誤の組み合わせとして正しいものを、あ～くから選び、
記号で答えなさい。

- ① 1日5回、聖地メッカに向けて祈りをささげる。
- ② 1か月の間、日中に食べ物を口にしない月がある。
- ③ お酒を飲むことと豚肉^{ぶたにく}を食べることが禁止されている。

あ ①=正 ②=正 ③=正 い ①=誤 ②=正 ③=正
う ①=正 ②=誤 ③=正 え ①=正 ②=正 ③=誤
お ①=正 ②=誤 ③=誤 か ①=誤 ②=誤 ③=正
き ①=誤 ②=正 ③=誤 く ①=誤 ②=誤 ③=誤

問6 2009年、ヨーロッパのある国で、国の多額の借金が問題となりました。その問題をきっかけとして、今も世界経済は不安定な状態が続いています。ある国とはどこですか。地図中の①～③から選び、記号で答えなさい。

問7 地図中のXの地点を通過する緯線^{いせん}は、日本列島も通過しています。この緯線が通る県の組み合わせとして、正しいものを次から選び、記号で答えなさい。

あ 秋田－岩手 い 栃木－埼玉
う 広島－高知 え 熊本－鹿児島

問8 広島市の姉妹都市ハノーバーがある国を、地図中の①～③から選び、記号で答えなさい。

[2] 次の文章を読んで、後の問いに答えなさい。

去年は①『古事記』がつくられてから②1300年目を迎えた年でした。『古事記』には③日本の神々の話がたくさん書かれています。

『古事記』が注目を集めるようになったのは、④江戸時代の中ごろを過ぎてからでした。特に本居宣長は『古事記』の研究に全力を注ぎ、⑤国学という学問を確立しました。その後、国学は人々の間に広がっていき、当時の社会に大きな影響を与えるようになりました。江戸時代末になると、外国から開国や貿易の要求が強まり、日本人としての自覚が高まってきました。『古事記』の中に書かれている日本の神話に注目が集まり、⑥浮世絵の中にも神話の世界を描くものもありました。

明治時代になると、⑦全国に小学校がつくられ、歴史の教科書に『古事記』の神話が登場するようになり、国民の基本的な知識として『古事記』の内容は定着していきました。また神話を題材とした絵画もたくさん描かれました。

大正時代には、『古事記』への関心が少しうすくなりました。昭和時代になり日本が戦争に向かっていく中で、再び『古事記』に関する神話が語られ、絵画もたくさん描かれました。

その後日本は⑧太平洋戦争に突入り、敗戦を迎えました。戦後の民主主義教育が行われる中で、『古事記』への関心はうすれていきました。

問1 下線部①について、(1)～(3)に答えなさい。

(1)『古事記』とほぼ同じ時代に書かれた歴史書は何ですか。漢字で答えなさい。

(2)『古事記』がつくられたころ、各地の人々の生活の様子や地域の自然などを記した書物もつくられました。この書物の名前を漢字で答えなさい。

(3)(2)の書物のうち、出雲国のものだけが現在ほぼ完全な形で伝えられています。この国は現在のどこにあたりますか。県名を漢字で答えなさい。

問2 下線部②について、今から1300年前の都の名前を漢字で答えなさい。

問3 下線部③について、神々の物語を題材にしてつくられた、広島県北部など中国地方で盛んな伝統芸能を何といいますか。答えなさい。

問4 下線部④の時代について述べている文として誤っているものを次から2つ選び、記号で答えなさい。(解答の順番は問いません)

- あ 江戸幕府は、大名を親藩・譜代・外様の三つに分けるとともに、武家諸法度によって全国の大名を取りしまった。
- い 武士や町人は、政治や経済の中心である城下町に集められたが、住む場所は自由に決めることができた。
- う 長崎では、正月の行事として、キリストの像を踏んで、信者ではないことを証明する絵踏みが行われた。
- え この時代の朝鮮との交流は対馬藩を通じて行われ、幕府は朝鮮国王がかわるごとに朝鮮の使節を江戸へ招いた。
- お 町人や農民のくらしが豊かになっていき、観光をかねてお寺や神社などへのお参りの旅に出かける人々もあらわれた。

問5 下線部⑤について、国学とはどのような学問ですか。説明しなさい。

問6 下線部⑥について、浮世絵に興味を持ち、自分の作品に浮世絵の表現方法などを取り入れた19世紀後半のヨーロッパの画家を、1人答えなさい。

問7 下線部⑦について、明治時代の前半、多くの人々は新しい教育制度に反対し、義務教育はなかなか普及しませんでした。その理由を答えなさい。

問8 下線部⑧について、戦争中の1944年8月、沖縄から鹿児島に向かっていた対馬丸という船がアメリカ軍の潜水艦によって沈められました。これにより多くの小学生が亡くなりました。なぜこの船には多くの小学生が乗っていたのですか。説明しなさい。

問9 本文の内容として誤っているものを次から選び、記号で答えなさい。

- あ 外国からの圧力が強まった時、『古事記』に注目が集まった。
- い 国民(人々)を中心とした政治が行われた時、『古事記』に注目が集まった。
- う 日本の文化や伝統に対する関心が高まった時、『古事記』に注目が集まった。
- え 政府が国民(人々)を一つにまとめようとした時、『古事記』に注目が集まった。

[3] 次の文章を読んで、後の問いに答えなさい。

日本の歴史には、多くの女性が登場します。名前がわかる中で最も古い時代の女性は、弥生時代の卑弥呼です。彼女は古いで人をひきつけ、①国を治めていました。

奈良時代には、光明皇后が聖武天皇の遺品を②正倉院に納めました。光明皇后は中臣鎌足の子孫である藤原氏の一族出身で、この一族はその後、③天皇との結びつきを強くすることで大きな権力を握りました。

平安時代には、④宮中に仕えた多くの女性たちが、当時⑤新たにつくられた文字を用いて、盛んに歌をよみ、物語や日記を残しました。

鎌倉時代には、⑥朝廷が鎌倉幕府をたおそうとしました。この時、北条政子が演説をして、幕府の御家人を一つにまとめたという話は有名です。

室町時代には、日野富子が夫である8代将軍の(⑦)との間の息子に将軍を継がせようとして、応仁の乱が起きたといわれています。





江戸時代、⑧3代将軍徳川家光の乳母(育ての親)の春日局は、朝廷との交渉役を務めたり、次の将軍選びに関わったりするなど、力をもった女性であったといわれています。しかし、この時代の社会には⑨性別や身分によって細かいきまりやしきたりがあり、女性は男性よりも低く見られていました。⑩幕末の動乱期には、天皇の妹である和宮が将軍徳川家茂に嫁ぐことで朝廷と幕府が協力して政治を行う道をさがしますが、結局、江戸幕府は滅びました。

明治に入ると、1871年、⑪欧米への使節団とともに、女性5名を含む43名の留学生が派遣されました。明治時代の終わりから大正時代には、女性たちも地位向上をめざし権利を拡大しようとする運動を盛んに行いました。⑫平塚らいてうを中心に女性の自由と権利の拡大をめざす運動が続けられ、こうした動きは一般の女性たちにも広がっていきました。

⑬明治・大正・昭和・平成と歴史に名を残す女性は次第に増えてきました。これからの時代には、男女が共に協力し合う社会がますます求められています。

問1 下線部①について、卑弥呼が治めていた国は何とよばれていましたか。答えなさい。

問2 下線部②を次から選び、記号で答えなさい。



問3 下線部③について、藤原氏はどのようにして天皇との結びつきを強めましたか。説明しなさい。

問4 下線部④について、宮中の女性の正装を何といいますか。答えなさい。

問5 下線部⑤について述べた文として、誤っているものを次から選び、記号で答えなさい。

- あ 漢字をくずしてつくられた。
- い 当時の庶民しよみんに広く使われた。
- う 日常のできごとや細かな感情を表現しやすくなった。
- え 清少納言せいしょうなごんはこの文字を用いて、『枕草子まくらそうし』という随筆ずいひつを書いた。

問6 下線部⑥について、(1)・(2)に答えなさい。

(1) このできごとを何といいますか。答えなさい。

(2) このできごとの結果、幕府の支配にどのような変化が起きましたか。朝廷への監視かんしを強めたことのほかに、1つ答えなさい。

問7 (⑦) にあてはまる人物名を答えなさい。

問8 下線部⑧の時代のできごととして、誤っているものを次から選び、記号で答えなさい。

- あ 参勤交代の制度を定めた。
- い 島原・天草一揆いつぎが起こった。
- う 一国一城令を出して、大名が住む城以外の城の破壊はかいを命じた。
- え オランダと中国の商人だけに、幕府と長崎で貿易することを認めた。

問9 下線部⑨について、幕府や藩が村のまとまりを利用して、百姓に年貢ひやくしやうねんを納めさせるためにつくった、共同で責任をとらせるしくみを何といいますか。漢字で答えなさい。

問10 下線部⑩について、あ～えを起きた順に並べかえ、記号で答えなさい。

- あ ペリーが浦賀うらがに来る。
- い 徳川慶喜とくがわよしのぎが政権を朝廷に返す。
- う アメリカなどと和親条約を結ぶ。
- え アメリカなどと修好通商条約を結ぶ。

問11 下線部⑪について、(1)・(2)に答えなさい。

(1) 欧米への使節団に参加していない人物を次から選び、記号で答えなさい。

- あ 伊藤博文いとうひろぶみ
- い 大久保利通おおくぼとしみち
- う 木戸孝允きとたかよし
- え 西郷隆盛さいごうたかもり

(2) 使節団は欧米を視察しましたが、当初の目的は達成できず、40年後に達成されることとなります。当初の目的とは何ですか。答えなさい。

問12 下線部⑫らが求めた権利の1つで、1945年に実現した権利は何ですか。答えなさい。

(問題は次のページに続きます)

問13 下線部⑬について、次の(1)～(3)の女性についての説明文として最もふさわしいものを1つ選び、それぞれ記号で答えなさい。

- (1) 与謝野晶子 (2) 樋口一葉 (3) 緒方貞子

[説明文]

- あ 新婦人協会を結成して、女性の権利を拡大しようという運動で活躍した。
- い 小説『たけくらべ』や『にぎりえ』などを書いたが、若くして亡くなった。
- う 10年間にわたって、国連難民高等弁務官として、難民の保護や支援に活躍した。
- え 全国水平社を結成して、女性の立場から社会の差別や貧困をなくすための先頭に立って活躍した。
- お 日露戦争のときには、従軍中の弟を思う詩「君死にたまふことなかれ」を発表して戦争に反対した。

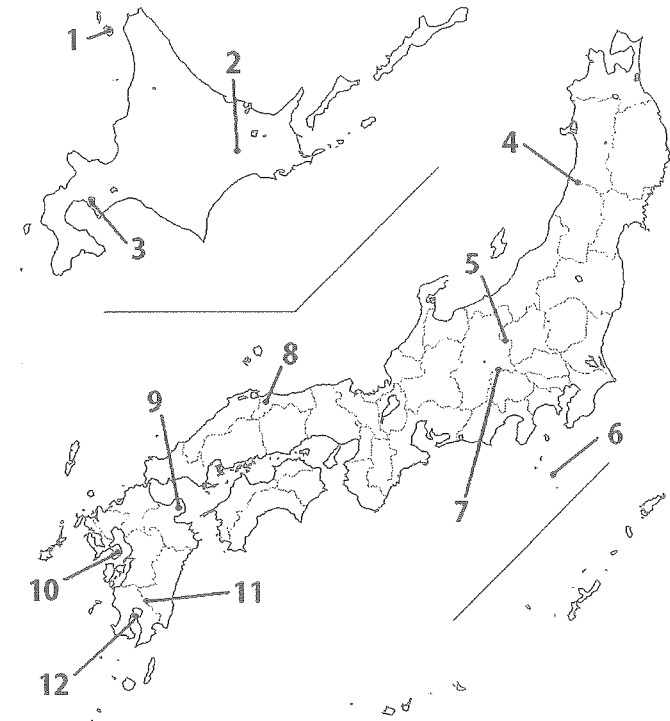
[4] 日本の自然災害について、後の問いに答えなさい。

表1 わが国で近年起きた自然災害

A—噴火	
ア	雲仙普賢岳噴火 (1990年)
イ	有珠山噴火 (2000年)
ウ	三宅島噴火 (2000年)
エ	霧島山新燃岳噴火 (2011年)
B—地震	
オ	東日本大震災
カ	岩手・宮城内陸地震
キ	新潟県中越地震
ク	阪神・淡路大震災
C—台風・洪水	
ケ	台風23号 (2004年)
コ	台風14号 (2005年)

問1 A—噴火について、(1)・(2)に答えなさい。

(1) 表1のア～エの噴火が起こった場所を、次の地図中の1～12から選び、それぞれ番号で答えなさい。



(2) 日本には多くの火山があり、噴火によって大きな被害が生じることがあります。しかしこのような危険がある半面、火山があることで生まれる利点(良いこと)もあります。温泉や美しい景色が観光資源になる以外に、どのような利点がありますか。説明しなさい。

問2 B—地震について、(1)～(3)に答えなさい。

(1) 表1のオ～クを、起きた順番に並べかえ、記号で答えなさい。

(2) 表1のオについて、次の表2は東北各県の東日本大震災による住宅被害をまとめたものです。表の①～⑤にあてはまる県名を答えなさい。

表2 東日本大震災の住宅被害

県名	ぜんかい 全壊 (棟)	ゆかうえしんすい 床上浸水 (棟)
①	20,182	1,761
②	76,079	7,061
③	0	0
山形県	37	0
④	18,137	62
⑤	2,873	1,590

(首相官邸ウェブページより作成)

(3) 東日本大震災の大きな被害をうけて、2012年に発足した官庁を何と
いいますか。漢字で答えなさい。

問3 C—台風・洪水について、(1)・(2)に答えなさい。

(1) 次の①～④は、古くから洪水被害に悩まされてきた地域(平野)です。①～④を流れる河川を次から選び、それぞれ記号で答えなさい。

① 濃尾平野 ② 富山平野 ③ 徳島平野 ④ 八代平野

あ 天竜川 い 大淀川 う 北上川 え 球磨川
 お 神通川 か 最上川 き 吉野川 く 筑後川
 け 富士川 こ 木曾川 さ 信濃川 し 四万十川

(2) 広島平野での太田川の洪水による被害は、少なくなってきていると言われています。この理由を述べた文として誤っているものを次から選び、記号で答えなさい。


- あ 堤防や護岸の工事が行われ、川沿いの土地が侵食されにくくなったから。
- い 放水路や水門が整備され、大雨のときには川の流れを調整できるようになったから。
- う 上流にいくつもダムが建設され、大雨のときには一時的に水をためておけるようになったから。
- え 三角州にたくさんあった水田が住宅地や工場に変わり、雨水が道路にあふれにくくなったから。

問4 次の地図を見て、(1)～(4)に答えなさい。



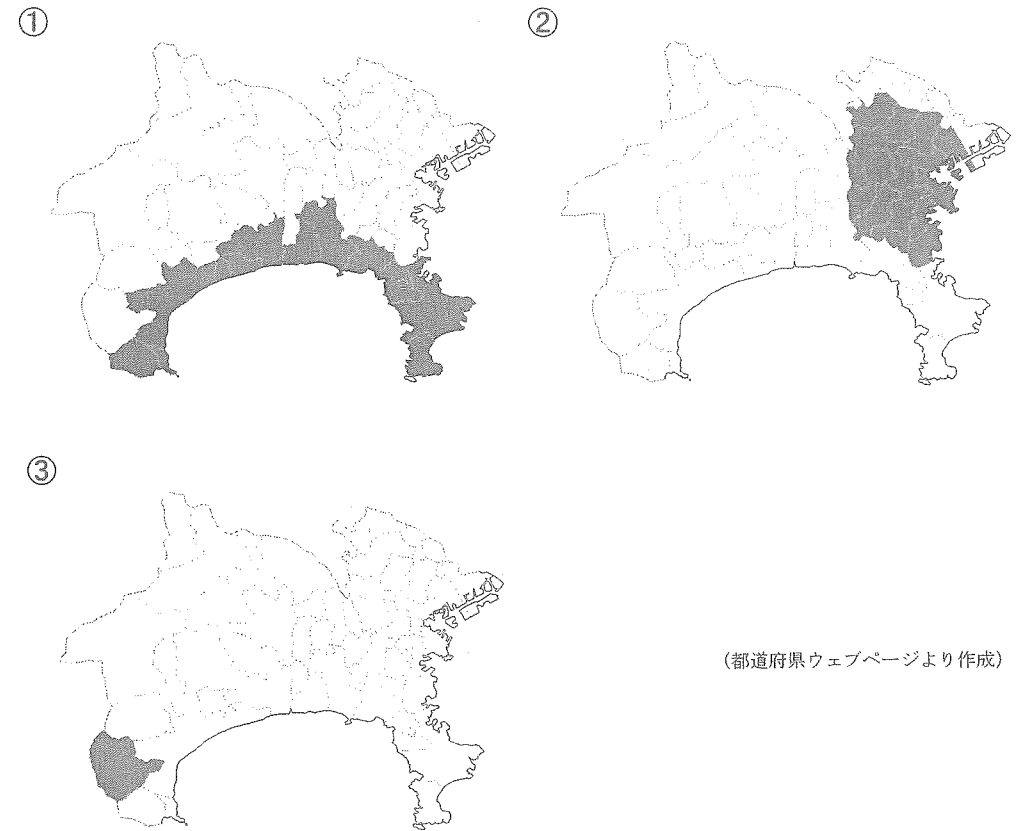
(安芸高田市ウェブサイトより作成)

- (1) (ア)・(イ)にあてはまる災害を答えなさい。
- (2) (ア)を防ぐために作られる下の写真の施設のしせつ名前を答えなさい。



- (3) ウのは何を表していますか。答えなさい。
- (4) このような地図を何といいますか。答えなさい。

問5 問4のような地図は、様々な市町村で作成・公開されています。次の図①～③は、ある都道府県において、火山、高潮、津波のうち、いずれかの災害の危険性を表す地図を公開している市町村を示しています。その組み合わせとして正しいものを選択肢あ～かから選び、記号で答えなさい。



(都道府県ウェブサイトより作成)

選択肢	①	②	③
あ	火山	高潮	津波
い	火山	津波	高潮
う	高潮	火山	津波
え	高潮	津波	火山
お	津波	火山	高潮
か	津波	高潮	火山

(これで問題は終わりです)

平成25年度 社会 解答用紙

[1]

問1 (1) (2) 問2 (1) あ い

(2)

問3 問4 問5 (1) (2) 問6 問7 問8

[2]

問1 (1) (2) (3) 県

問2 問3 問4

問5

問6 問7

問8 問9

[3]

問1 問2 問3

問4 問5 問6 (1)

(2) 問7

問8 問9 問10 → → → 問11 (1)

(2) 問12

問13 (1) (2) (3)

[4]

問1 (1) ア イ ウ エ (2)

問2 (1) → → → (2) ① 県 ② 県

③ 県 ④ 県 ⑤ 県 (3)

問3 (1) ① ② ③ ④ (2)

問4 (1) ア イ (2)

(3) (4) 問5

受験番号	<input type="text"/>	<input type="text"/>	<input type="text"/>	<input type="text"/>
------	----------------------	----------------------	----------------------	----------------------