

《答えはすべて解答用紙に記入しなさい。選択問題については、記号で答えなさい。》

- 1 次の文章は、日本に住んでいる直樹さんが海外に住んでいる日本人の小学生とそれぞれの国の行事についてテレビ電話で会話しているようすです。これを読み、後の問いに答えなさい。

直樹：みなさん、こんにちは。今日はみなさんの国で行われている行事やお祭りについて教えて下さい。最初に、中国にいる陽子さんからお願いします。

陽子：こんにちは、(ア) シャンハイに住んでいる陽子です。中国では旧暦の正月を祝う春節という伝統的な行事があります。正月を迎えるために家族みんなで掃除をして、玄関に赤い提灯を飾って準備をします。街のあちこちで商売繁盛を願う獅子舞や竜舞がおこなわれ、爆竹を鳴らす大きな音が聞こえてきます。この春節の期間には、多くの学校や会社がお休みになり、都市部の人たちはそれぞれの故郷に帰って親せきや家族と一緒に過ごします。

直樹：親せきや家族が集まって新年をお祝いするのですね。日本のお正月とよく似ていますね。

陽子：近年では(イ) 貿易や観光などで結びつきが強い日本と中国ですが、歴史的にも古くからつながりがあります。実は、お年玉を子どもにわたす習慣も、中国に起源があるのですよ。

直樹：そうなんです、お年玉の起源が中国にあったとは知らなかったです。ありがとうございました。次は、アメリカに住んでいる太郎君に、アメリカのお祭りについて聞いてみます。太郎君、よろしくをお願いします。

太郎：こんにちは、(ウ) ニューヨークに住んでいる太郎です。アメリカでは10月31日の夜に仮装した子供たちが近所の家々をまわり、お菓子をもらうハロウィンが行われます。このお祭りはヨーロッパからアメリカにわたってきた人たちによって伝えられ、(エ) アメリカ全土に広まったといわれています。最近では日本でもあちらこちらでハロウィンのイベントが行われていると聞きました。楽しそうですね。

直樹：去年のハロウィンには僕も仮装をしてお父さんと街へ行きました。とても楽しかったです。アメリカでもハロウィンに参加してみたいと思いました。

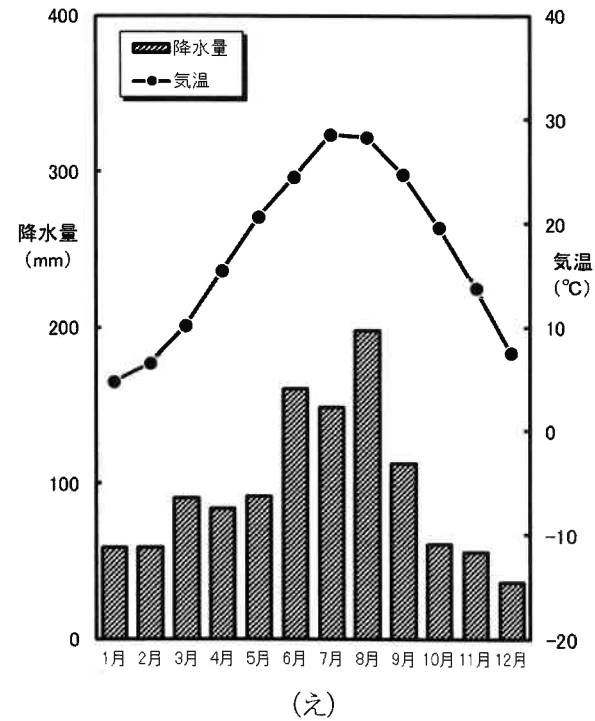
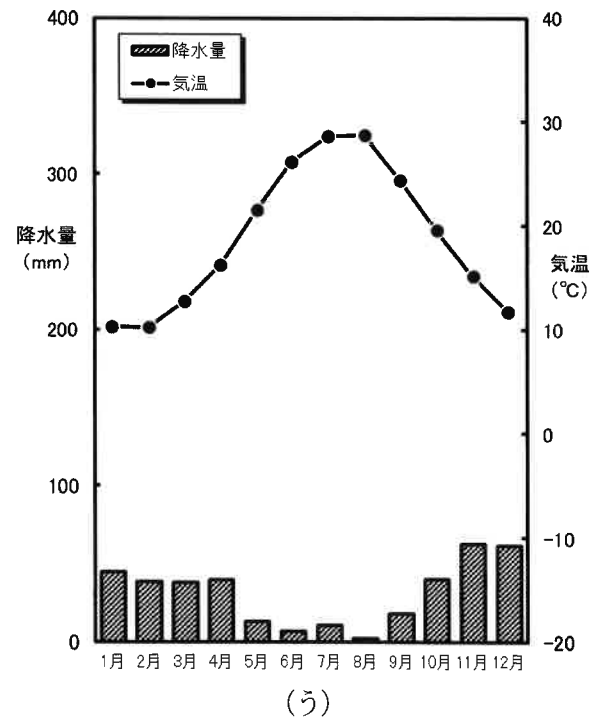
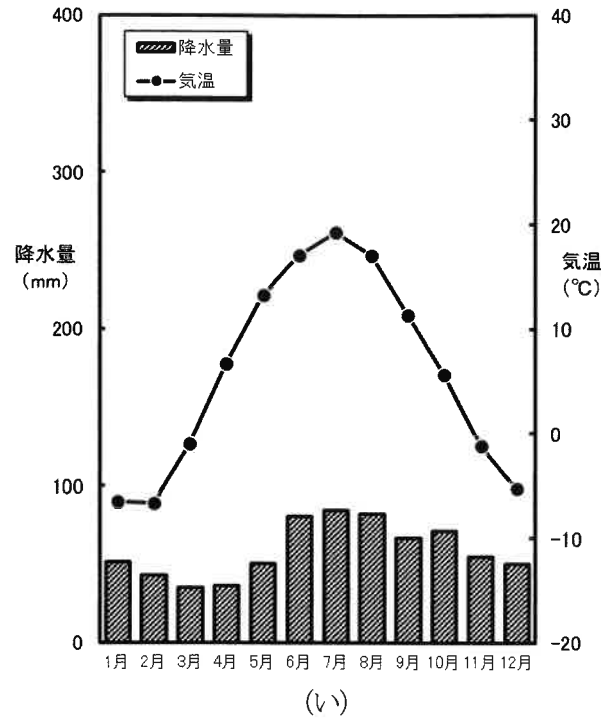
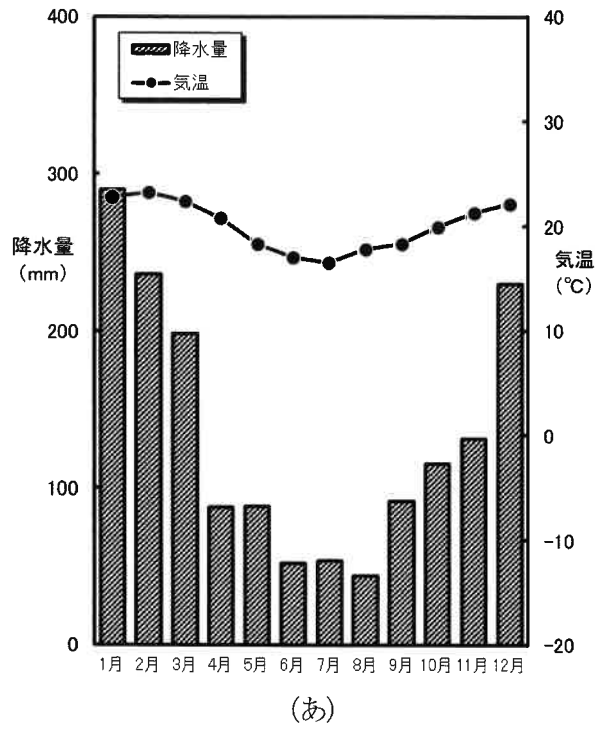
太郎：とても楽しいお祭りなので、ぜひ一度、アメリカでのハロウィンを経験してほしいです。

直樹：太郎君、どうもありがとうございました。次は修一君に聞いてみたいと思います。修一君は石油会社で働くお父さんの仕事のため、(オ) サウジアラビアの Riyadh でくらしています。よろしくをお願いします。

修一：サウジアラビアの修一です。こんにちは。(カ) イスラム教が人々のくらしと結びついているこの国では、お祭りについても宗教とのつながりが強いです。中でも、断食明けの大祭は多くの人たちが楽しみにしています。その日は親せきや家族が集まり、みんなでごちそうを食べたり、プレゼントを交換し合ったりする特別な日です。イスラム教徒ではない僕たち家族も、近所の人に招かれて一緒にお祝いをしました。食べきれないくらいのごちそうをいただいて、お腹いっぱいになったことを覚えています。

直樹：日本ではイスラム教やそのお祭りに触れる経験はあまりないのでうらやましいです。イスラム教のお祭りは他にもあると思うので、どんなものがあるかまた教えて下さい。(キ) それぞれの地域にさまざまな宗教やくらし方があるように、いろいろな行事やお祭りがあることが分かりました。みなさん、今日はありがとうございました。

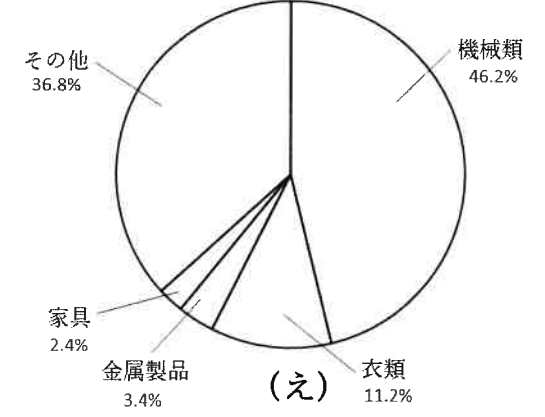

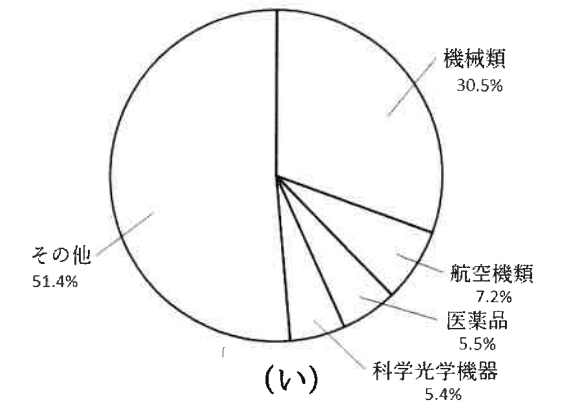
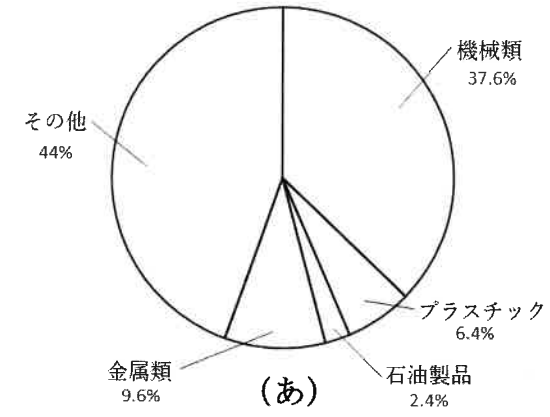
問1 下線部(ア)に関連して、この都市の雨温図として正しいものを、次の中から1つ選びなさい。



(2019年 気象庁HPより作成)

問2 下線部(イ)に関連して、以下の設問に答えなさい。

(1) 日本は、中国から多くのものを輸入しています。次の図(あ)～(え)は、アメリカ・中国・韓国・ブラジルのいずれかの国からの日本の輸入品目とその割合を示したものです。中国にあてはまるものを1つ選びなさい。



(『日本国勢図会 2017/2018』より作成)

(2) 現在では、海外の国々との結びつきが強くなり、さまざまな国に住む日本人も多くなりました。同時に、日本に住む外国人も多くなりました。次の表は、海外に住んでいる日本人の国ごとの人数、および日本に住む外国人の国ごとの人数、それぞれの上位5か国を示したものです。表の①～④には、中国、韓国、アメリカのいずれかがあてはまります。このうち、中国にあたるものの組み合わせとして正しいものを、下の(あ)～(え)の中から1つ選びなさい。

(単位：人)

海外に住んでいる日本人		日本に住んでいる外国人	
①	446,925	③	813,675
②	120,076	④	446,364
オーストラリア	98,436	ベトナム	411,968
タイ	75,647	フィリピン	282,798
カナダ	73,571	ブラジル	211,677

(外務省「2019年海外在留邦人数調査統計」および法務省「2019年在留外国人統計表」より作成)

(あ) ①③ (い) ①④ (う) ②③ (え) ②④

問3 下線部(ウ)に関連して、東京からニューヨークまで、飛行機で最短コースを進むとしたとき、次のうちのいずれの上空を通過しますか。最も適当なものを1つ選びなさい。

- (ア) ハワイ諸島 (イ) フロリダ半島 (ウ) メキシコ高原 (エ) 五大湖

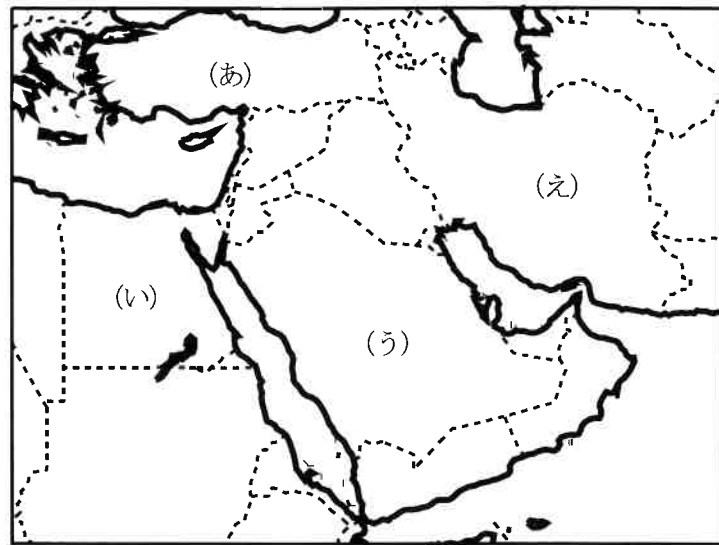
問4 下線部(エ)に関連して、アメリカの国土や人々について述べた次の文X・Yについて、その正誤の組み合わせとして正しいものを、下の中から1つ選びなさい。

X ニューヨークとロサンゼルス間に時差はない。

Y 日本の約25倍の国土を持ち、14億人あまりの人々がくらしている。

- (ア) X 正 Y 正 (イ) X 正 Y 誤
(ウ) X 誤 Y 正 (エ) X 誤 Y 誤

問5 下線部(オ)について、サウジアラビアの場所を次の地図中の(ア)～(エ)の中から1つ選びなさい。




問6 下線部(カ)について、イスラム教に最も関係の深いものを、次の写真の中から1つ選びなさい。



(ア)



(イ)



(ウ)



(エ)

問7 下線部(キ)に関連して、世界の人々の暮らしについて述べた文X・Yについて、その正誤の組み合わせとして正しいものを、下の中から1つ選びなさい。

X 韓国の人は、独自のハングル文字を使っている。

Y インドでは、多くの人々がヒンドゥー教を信仰している。

- (ア) X 正 Y 正 (イ) X 正 Y 誤
(ウ) X 誤 Y 正 (エ) X 誤 Y 誤

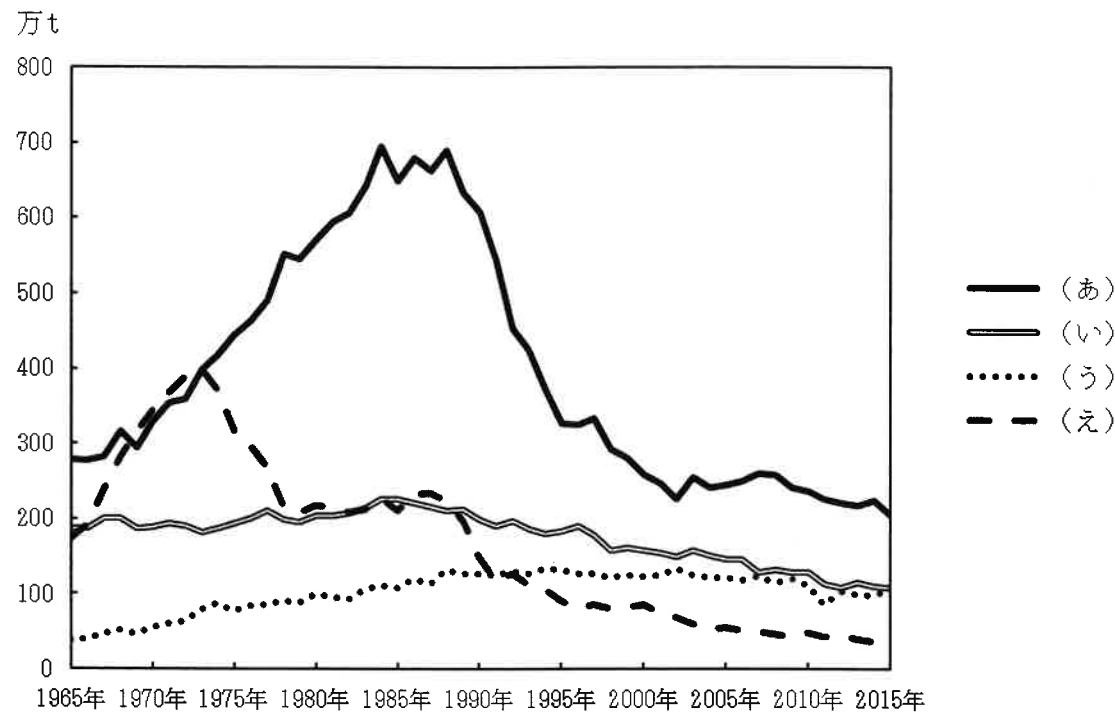
2 ある中学校の社会の授業で、「東日本大震災後の復興に向けた取り組みについて調べる」という宿題が出されました。次の文は、3人の生徒の発表のようすです。この文を読み、後の問いに答えなさい。

【A】私は、宮城県南三陸町の復興に向けた取り組みを紹介します。この町で長年行われてきたかきなどの(7)養殖業は、(イ)2011年3月11日に発生した大地震による津波でいかだなど必要な設備や道具が流されてしまい、大変な被害を受けました。廃業寸前にまで追い込まれたこの町の漁師たちは、ゼロから再スタートするならもとの養殖業にもどるのではなく、自然になるべく負荷をかけない養殖業をめざすことを決め、いかだの数を減らすことで海中の酸素のめぐりをよくするなどの工夫を始めたそうです。こうした取り組みが実を結び、この町でとれる「南三陸戸倉っこかき」は、(ウ)環境と社会に配慮した養殖業を認証するASC国際認証を日本で初めて取得しました。津波による大きな被害というピンチを、持続可能な水産業へと転換するチャンスに変えた、とても興味深い取り組みだと思いました。

【B】私は、福島県いわき市の復興に向けた取り組みを紹介します。(エ)福島第一原子力発電所の事故によって、放射性物質が広範囲に放出されたことで、いわき市の農業にも大きな被害が出ました。長く続いた出荷制限や、その後の風評被害などで、農業を断念する人たちが多く出てしまったそうです。こうした苦境のなかで発足したのが「ふくしまオーガニックコットンプロジェクト」です。このプロジェクトは放射性物質の影響を受けにくいといわれる綿花を、生産者や市民、学校、企業の人たちが一緒になって、無農薬で育て収穫されたコットン(木綿)を製品化して販売するというもので、(オ)地域の農業の再生だけでなく、新たな雇用を生み出すことにもつながっているそうです。今後も、いわき市から環境にも健康にも優しい綿花生産を世界にアピールし続けて欲しいです。

【C】私は、(カ)岩手県宮古市の復興に向けた取り組みを紹介します。私のおじいさんの家は、宮古市田老地区にあります。おじいさんから、この地区は昔からたびたび津波に襲われてきたため、震災前から巨大な防潮堤が築かれていたと聞きました。しかし大地震による津波でその一部が壊れ、低地の建物の多くは被災してしまいました。4階まで浸水した「たろう観光ホテル」もその1つです。震災後、宮古市では、このホテルのような田老地区の被災した建物を取り壊すのではなく、津波の教訓を語り継ぐ震災遺構として保存することが決まりました。ここではこれらの遺構をめぐりながら、震災の恐ろしさや命の大切さを伝える「学ぶ防災ガイドツアー」が実施されています。こうした取り組みは、日本全国や世界中から訪れた人々の(キ)防災意識を高めることにもつながる、貴重なものだと感じました。

問1 下線部(ア)に関連して、次の図は日本の漁業種類別生産量の推移を示したものであり、(あ)～(え)には、遠洋漁業、^{おきあい}沖合漁業、沿岸漁業、海面養殖業のいずれかがあてはまります。海面養殖業の生産量にあたるものを(あ)～(え)の中から1つ選びなさい。



(農林水産省「漁業・養殖業生産統計」より作成)

問2 下線部(イ)について述べた次の文中の空らん X・Y にあてはまるプレート名の組み合わせとして正しいものを、下の(あ)～(く)の中から1つ選びなさい。

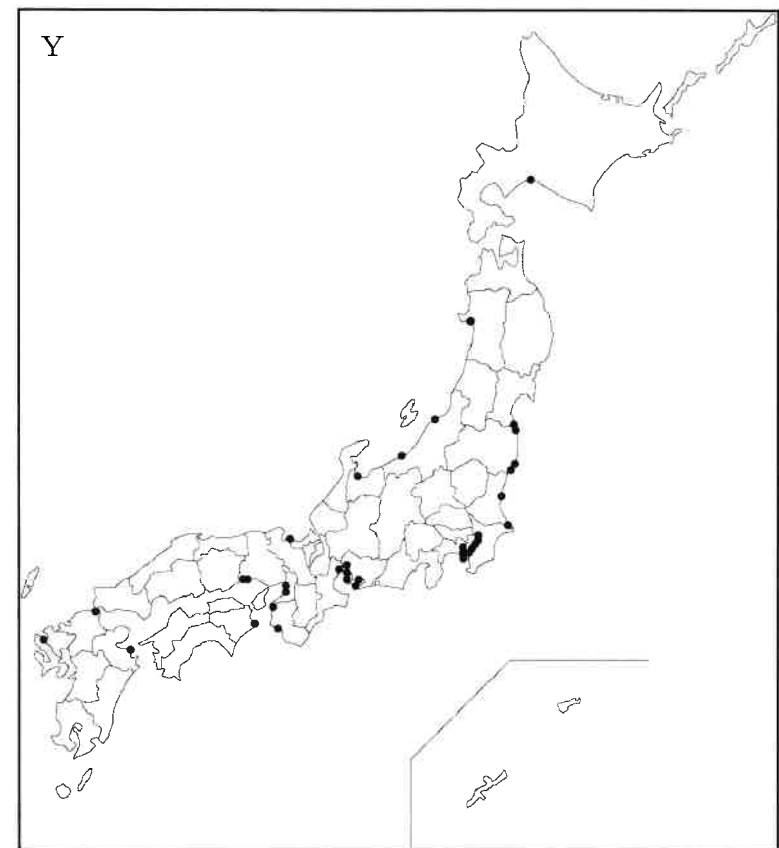
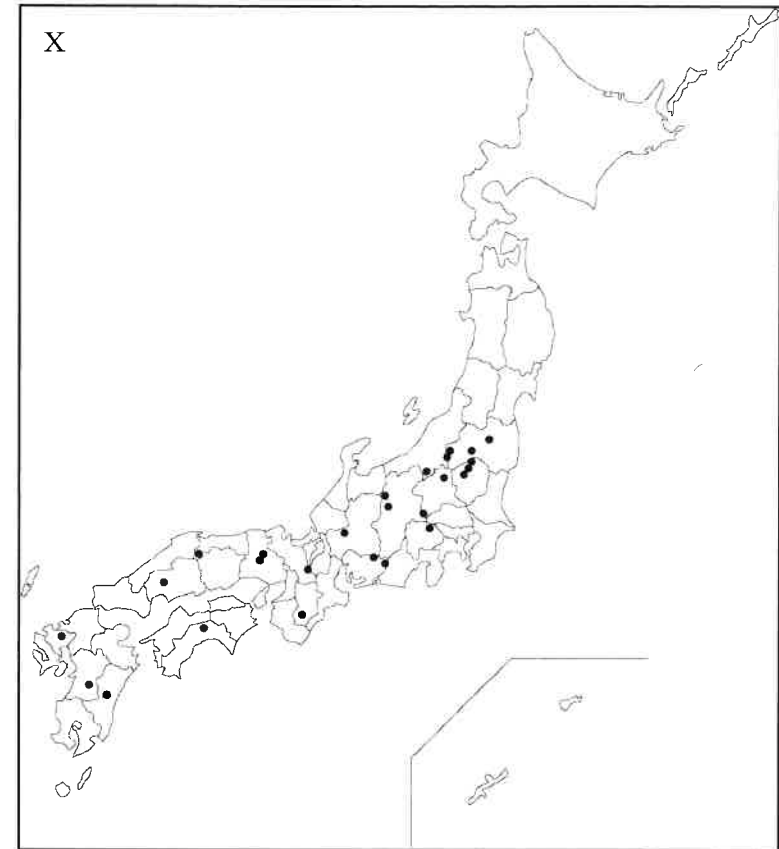
この大地震は、XプレートがYプレートに沈み込む日本海溝付近で発生した地震で、日本周辺における観測史上最大のマグニチュード9.0を記録しました。

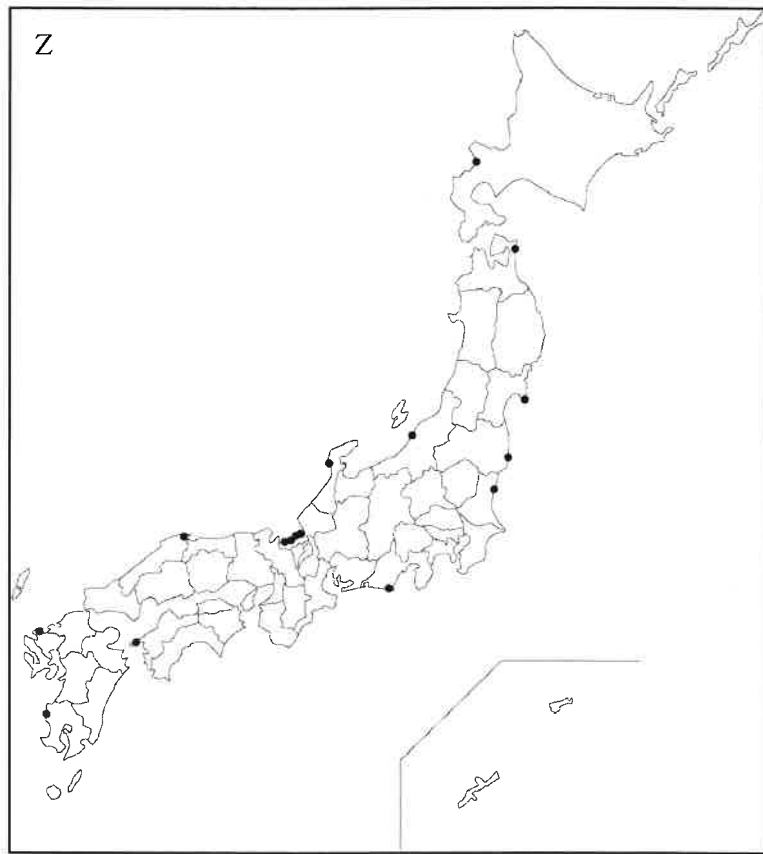
- (あ) X 北アメリカ Y 太平洋 (い) X 北アメリカ Y フィリピン海
- (う) X ユーラシア Y 太平洋 (え) X ユーラシア Y フィリピン海
- (お) X 太平洋 Y 北アメリカ (か) X 太平洋 Y ユーラシア
- (き) X フィリピン海 Y 北アメリカ (く) X フィリピン海 Y ユーラシア

問3 下線部(ウ)に関連して述べた次の文中の、下線部の略称をアルファベット4字で答えなさい。

2015年9月、ニューヨークの国連本部で「持続可能な開発サミット」が開かれ、持続可能な社会を実現するための2030年までの行動計画が立てられました。この計画の中心として示されたのが「持続可能な開発目標」で、17個の目標が示されました。その14番目の「海の豊かさを守ろう」という目標を達成するには、「海のエコラベル」と呼ばれるASCの認証制度は有効な手段の1つといわれています。

問4 下線部(エ)に関連して、次の図は、日本の主な発電所の所在地を示したものであり、X～Zには、火力発電所、原子力発電所、水力発電所のいずれかがあてはまります。発電所の所在地とX～Zとの正しい組み合わせを、下の(あ)～(か)の中から1つ選びなさい。





1点が1発電所。火力発電所は最大出力150万kW以上、水力発電所は最大出力40万kW以上の発電所のみ。

(平成26年版「電気事業便覧」より作成)

	(あ)	(い)	(う)	(え)	(お)	(か)
火力発電所	X	X	Y	Y	Z	Z
原子力発電所	Y	Z	X	Z	X	Y
水力発電所	Z	Y	Z	X	Y	X

問5 下線部(カ)に関連して、次の表は、東北地方で生産がさかんな果物について、生産量上位の都道府県とその生産量を示したものであり、X～Zには、西洋なし、もも、りんごのいずれかがあてはまります。農作物名とX～Zとの正しい組み合わせを、下の(あ)～(か)の中から1つ選びなさい。

(単位：t)

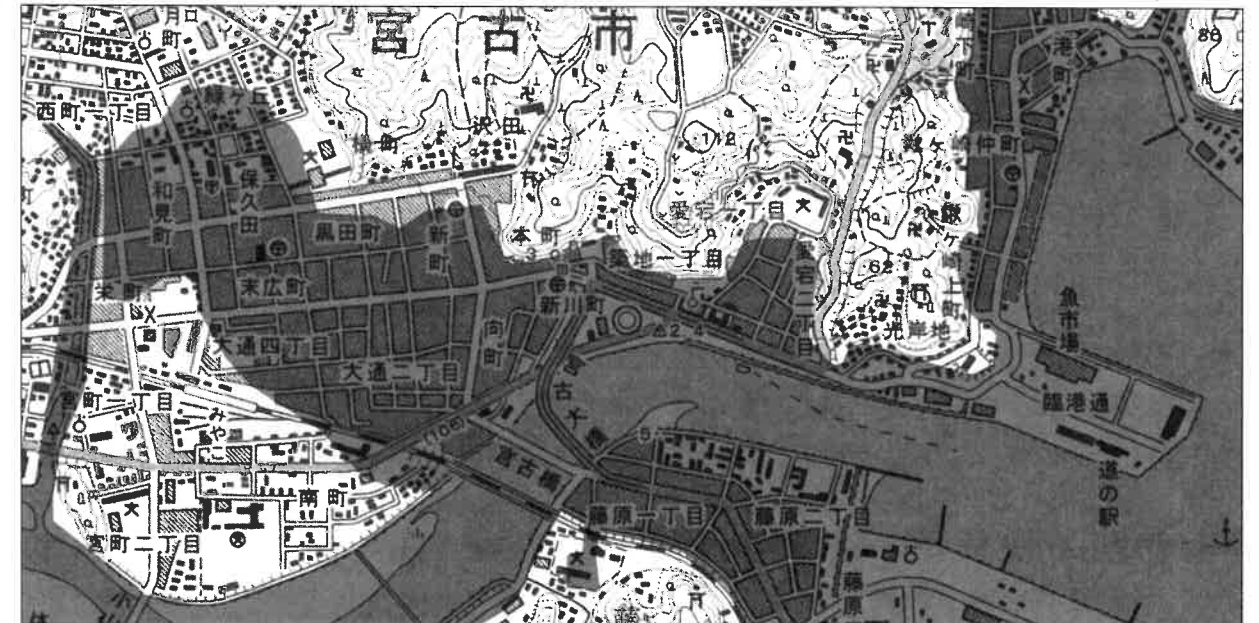
X		Y		Z	
青森	470,000	山形	19,000	山梨	38,600
長野	157,200	青森	2,090	福島	26,600
山形	50,600	長野	1,820	長野	15,900
岩手	48,600	新潟	1,760	和歌山	9,360
福島	26,300	福島	703	山形	8,190

統計年次は、2015年。

(『日本国勢図会 2017/2018』より作成)

	(あ)	(い)	(う)	(え)	(お)	(か)
西洋なし	X	X	Y	Y	Z	Z
もも	Y	Z	X	Z	X	Y
りんご	Z	Y	Z	X	Y	X

問6 下線部(カ)について、次の図は、2006年に発行された岩手県宮古市の中心部の地形図に、2011年3月11日に発生した大地震による津波の浸水範囲を重ねて示したものです。この図から読み取れる内容について述べた文X・Yについて、その正誤の組み合わせとして正しいものを、下の中から1つ選びなさい。



(「今昔マップ on the web」および「宮古市ホームページ」より作成)

X 図中に所在する高校は1つだけであるが、その高校の敷地は浸水の被害を受けた。

Y 宮古大橋近くにある市役所は浸水の被害を受けたが、市役所から北西の場所にある消防署は浸水の被害を受けなかった。

(あ) X 正 Y 正 (い) X 正 Y 誤

(う) X 誤 Y 正 (え) X 誤 Y 誤

問7 下線部(キ)について、人々が自然災害に対する防災意識を高めたり、災害発生時に取るべき行動を考えたりすることができるように、災害範囲や被害状況の予測、避難経路や避難場所などを示した地図の名称をカタカナで答えなさい。

3 次の【A】～【E】の文は、日本の歴史に関する最近の発見を述べたものです。これを読み、後の問いに答えなさい。

【A】2019年の秋に、(ア)藤原京の跡を発掘したところ、貴族の屋しきの跡が見つかったことが発表されました。これは、門をかまえた立派な屋しきで、(イ)碁盤の目のような区切りのなかの一部に建っていたようです。歴史書には、あるくらいに貴族には、約130メートル四方の土地があたえられる決まりがあったことが書かれており、この屋しきはこの広さの土地に建てられていました。今回の発見によって、この決まりを裏づけることができそうです。

問1 下線部(フ)について、藤原京に都がうつったのは7世紀のおわりのことです。藤原京に都がうつった後のできごとを、次の中から1つ選びなさい。

- (ア) 蘇我氏が中大兄皇子らにたおされた。 (イ) 初めて仏教が伝わってきた。
- (ウ) 国ごとに国分寺がつくられた。 (エ) 日本で最も大きい古墳がつくられた。

問2 下線部(イ)のような区切り方は中国の都にならったものですが、古代の日本は、中国との交流をおこないながら、さまざまな技術や文化を取り入れました。これに関連する次のできごとⅠ～Ⅲを、古いものから年代順に正しくならべかえたものを、下の中から1つ選びなさい。

- Ⅰ ワカタケル大王が中国に手紙を送った。
 - Ⅱ 中国からもたらされた楽器などの品々が、正倉院におさめられた。
 - Ⅲ 小野妹子らが使者として中国へ行った。
- (ア) Ⅰ - Ⅱ - Ⅲ (イ) Ⅰ - Ⅲ - Ⅱ (ウ) Ⅱ - Ⅰ - Ⅲ
 (エ) Ⅱ - Ⅲ - Ⅰ (オ) Ⅲ - Ⅰ - Ⅱ (カ) Ⅲ - Ⅱ - Ⅰ

【B】2019年の冬からの京都市内での発掘で、平安時代のおわりに政治を行っていた平氏の屋しきの跡と考えられる場所が見つかりました。ここからは、石垣や堀の跡が見つかり、(ウ)それまでの貴族の屋しきとはちがった造りであることが分かりました。発掘されたのは六波羅という場所で、ここには(エ)承久の乱のあとに、鎌倉幕府によって六波羅探題が置かれました。京都で平氏の屋しきの跡が見つかったのは初めてのことで、平氏がどのような政治をしたのかを知ることができるかもしれません。

問3 下線部(ク)に関連して、下の①～④の文の中には、平安時代の貴族の屋しきでの暮らしについて述べた文として正しいものが2つあります。①～④から正しい文を選んだときに、組み合わせとして正しくなるものを、次の(ア)～(カ)から1つ選びなさい。

- (ア) ①② (イ) ①③ (ウ) ①④ (エ) ②③ (オ) ②④ (カ) ③④

- ① 屋しきでは和歌やけまりを楽しんだ。 ② 屋しきのなかには水墨画がかざられた。
- ③ 屋しきでは囲碁や双六で遊んだ。 ④ 屋しきで能や狂言を見ていた。

問4 下線部(エ)について述べた次の文X・Yについて、その正誤の組み合わせとして正しいものを、下の中から1つ選びなさい。

- X 承久の乱の勝利によって、幕府の支配は西国にまでおよぶようになった。
 - Y 幕府は御成敗式目をつくっていたため、承久の乱で御家人たちは結束して戦った。
- (ア) X 正 Y 正 (イ) X 正 Y 誤
 (ウ) X 誤 Y 正 (エ) X 誤 Y 誤

【C】2020年6月、(ア)豊臣秀吉につかえた武将によって書かれた日記が、インターネット・オークションに出品されていたことが明らかになりました。この日記には、秀吉が天下統一をなしとげた後のできごとが記されています。秀吉は、(カ)大阪に城を築いて拠点としましたが、天下を統一したあとは、京都にも城を築き、そこでくらししていました。見つかった日記には、秀吉による最初の朝鮮への出兵がおわった次の年のことが書かれており、このころの秀吉のくらしや政治について、新しく知ることができるかもしれません。

問5 下線部(オ)に関連して、豊臣秀吉について述べた次の文中の空らん X・Y にあてはまる人物名の組み合わせとして正しいものを、下の中から1つ選びなさい。

豊臣秀吉は、X につかえて有力な武将となり、1582年に Y が X にそむくと、直ちに Y を打ち破りました。

- (ア) X 武田勝頼 Y 明智光秀 (イ) X 武田勝頼 Y 徳川家康
- (ウ) X 織田信長 Y 明智光秀 (エ) X 織田信長 Y 徳川家康

問6 下線部(カ)に関連して、大阪は豊臣秀吉が死んだ後の江戸時代にも発展しました。江戸時代の大阪について述べた下の①～④の文の中には、正しいものが2つあります。①～④から正しい文を選んだときに、組み合わせとして正しくなるものを、次の(ア)～(カ)から1つ選びなさい。

- (ア) ①② (イ) ①③ (ウ) ①④ (エ) ②③ (オ) ②④ (カ) ③④

- ① 大塩平八郎が反乱をおこした。 ② 伊能忠敬が天文学や測量術を学んだ。
- ③ 吉田松陰が私塾を開いた。 ④ 近松門左衛門が人形浄瑠璃の脚本を書いた。

【D】2019年の秋に、江戸時代の修行僧によって書かれた四国遍路の日記が、愛媛県の伊方町から見つかりました。これは、現在愛媛県内で見つかりしている四国遍路の日記としては、最も古い1757年のものです。四国遍路は、空海にゆかりのある88の四国のお寺をまわるもので、江戸時代にさかんになりました。また、江戸時代には(キ)さまざまな身分の人が、四国遍路のみではなく、さまざまな場所を旅行するようになりました。そのため、(ク)観光名所をえがいた浮世絵やガイドブックもつくられるようになります。

問7 下線部(キ)に関連して、江戸時代の身分について述べた次の文X・Yについて、その正誤の組み合わせとして正しいものを、下の中から1つ選びなさい。

- X 百姓身分は人口の80%以上をしめた。
 - Y 城下町では身分ごとに住む場所が決まっていた。
- (ア) X 正 Y 正 (イ) X 正 Y 誤
 (ウ) X 誤 Y 正 (エ) X 誤 Y 誤

問8 下線部(ク)に関連して、次の浮世絵をえがいた人物を下の中から1つ選びなさい。



- (あ) 葛飾北斎 (い) 雪舟 (う) 歌川広重 (え) 東洲斎写楽

【E】2020年の年明けに、西郷隆盛が1868年に出したと考えられる手紙が発見されました。見つかった手紙は、(ク)明治新政府軍と旧江戸幕府軍の戦いのさなかに出されたようで、新政府軍の西郷が部下を心配しているようですが読み取れるそうです。この戦いに勝利した新政府は、その後さまざまな改革をおこなっていきます。しかし、1873年に西郷は政府をはなれ、(コ)政府に反対することになります。この手紙を書いた時の西郷は、そのような未来を知るよしもありません。

問9 下線部(ク)に関連して、この戦いがおきたころのできごとを述べた次の文Ⅰ～Ⅲを、古いものから年代順に正しくならべかえたものを、下の中から1つ選びなさい。

- Ⅰ 江戸城が新政府軍に開城された。
Ⅱ 薩摩藩と長州藩が同盟をむすんだ。
Ⅲ 徳川慶喜が政権を朝廷に返した。

- (あ) Ⅰ - Ⅱ - Ⅲ (い) Ⅰ - Ⅲ - Ⅱ (う) Ⅱ - Ⅰ - Ⅲ
(え) Ⅱ - Ⅲ - Ⅰ (お) Ⅲ - Ⅰ - Ⅱ (か) Ⅲ - Ⅱ - Ⅰ

問10 下線部(コ)に関連して、明治政府に反対する動きは、武力による反乱と言論での主張のふたつに分けることができます。これらについて述べた次の文X・Yについて、その正誤の組み合わせとして正しいものを下の中から1つ選びなさい。

- X 士族によって西南戦争がおこされたが、その後、士族による反乱はなくなった。
Y 板垣退助から国会開設の要望書が出されたため、政府は10年後に国会を開くことを約束した。

- (あ) X 正 Y 正 (い) X 正 Y 誤
(う) X 誤 Y 正 (え) X 誤 Y 誤

4 次の文は、ある中学生が夏休み明けの社会の授業中に発表したものです。これを読んで、後の問いに答えなさい。

僕はこの夏に東京オリンピックを見に行く予定でしたが、延期になって見に行くことができませんでした。オリンピックが延期になったのは初めてだそうで、オリンピックや、オリンピックにまつわる日本の歴史について興味を持ちました。(ア)近代オリンピックが始まったのは1896年だそうです。日本が初めて参加したのは(イ)1912年のストックホルム大会で、選手はたった2名だったそうです。結果は予選落ちや棄権などで、(ウ)「世界の一等国」と自覚していた日本でしたが、スポーツではまだまだ世界との差が大きいことを見せつけられたとのこと。しかし1924年のパリ大会で日本は初のメダルを獲得し、さらに1928年のアムステルダム大会では金メダル2個を含む合計5個のメダルを獲得して大躍進しました。そのような中、(エ)1936年のベルリン大会では初めての聖火リレーがおこなわれたり、(オ)初めて日本に向けたラジオによる実況中継がおこなわれたりするなどして、人々の関心は高まってきました。

ところで今回の東京大会は延期となりましたが、夏のオリンピックは過去には中止になったことや、多くの国が参加しないこともありました。前者は(カ)1916年、1940年、1944年の大会です。これらはいずれも戦争が原因です。また後者は(キ)1980年のモスクワ大会と、1984年のロサンゼルス大会です。これらは東西冷戦が原因ということです。

今述べたように、(ク)1940年の大会は中止になりましたが、これはもともと東京で開催される予定でした。実は冬のオリンピックも、1940年に札幌で開催される予定だったそうです。これらは日本で初めて開催されるはずの大会でしたが、(コ)幻のものとなってしまいました。実際に日本で初めて開催されたのは(ケ)1964年の東京大会で、この大会は敗戦後の復興や(カ)高度経済成長のシンボルとして世界には受け止められたそうです。その後、日本では1972年の札幌、1998年の長野と、冬の大会が開催されています。2020年は56年ぶりの東京での開催予定でしたが延期となりました。けれども2021年には実施される予定ですから、とても楽しみです。

問1 下線部(ア)に関連して、近代オリンピックは古代ギリシャのスポーツの祭典の理念をモデルとして始まりました。そのため第1回の近代オリンピックはギリシャの首都で開催されましたが、それはどこですか。

問2 下線部(イ)に関連して、次のうちで1912年までにおこったできごととして、誤っているものを1つ選びなさい。

- (あ) 日本が韓国を併合して植民地とした。
(い) 関東大震災が発生した。
(う) 日本がアメリカと関税自主権を回復する取り決めをした。
(え) 南満州鉄道株式会社が設立された。

問3 下線部(ウ)について、このような意識は日露戦争に勝利したことが大きく影響しています。日露戦争に関連して述べた次の文のうち、誤っているものを1つ選びなさい。

- (あ) 日露戦争を前に、日本はイギリスと同盟国となった。
(い) 日露戦争中にロシアでは革命運動がおこった。
(う) 日本海海戦では東郷平八郎の指揮する艦隊がロシアの艦隊を破った。
(え) 日露戦争後の講和条約で日本は多額の賠償金をえた。

問4 下線部(エ)について、ベルリン大会は、当時ドイツで政権を握ったある政党が政治的に利用した大会といわれることがあります。この政党の名前をカタカナで答えなさい。

問5 下線部(カ)に関連して、日本ではラジオ放送が1925年に開始されました。次のうちで、この1925年の日本のできごととして誤っているものを1つ選びなさい。

- (ア) 世界恐慌の影響でひどい不景気におちいった。
- (イ) 男子普通選挙法が制定された。
- (ウ) 治安維持法が制定された。
- (エ) ソ連との国交を樹立した。

問6 下線部(カ)について、これらの戦争に関連して述べた文として、誤っているものを1つ選びなさい。

- (ア) 第一次世界大戦に日本は参戦し、戦勝国となった。
- (イ) 第一次世界大戦の末期に、日本では米騒動がおこった。
- (ウ) 第二次世界大戦中に満州国が建国された。
- (エ) 第二次世界大戦で日本は、スマトラやジャワなどを占領した。

問7 下線部(キ)について、この1980年の大会に参加しなかった国として誤っているものを、次のうちから1つ選びなさい。

- (ア) 日本 (イ) イタリア (ウ) 西ドイツ (エ) ポーランド

問8 下線部(ク)について、日本は1938年にこの大会の開催を断りました。断った理由の説明として最も適切なものを、次のうちから1つ選びなさい。

- (ア) 五・一五事件で首相が暗殺された。
- (イ) 日本への非難決議を受けて、国際連盟を脱退した。
- (ウ) 中国との全面的な戦争に突入し、首都南京を占領した後も戦争が継続していた。
- (エ) 日本各地の都市が空襲を受けた。

問9 下線部(ケ)に関連して、次のできごとのうち、1964年よりも後におこったものを1つ選びなさい。

- (ア) 日本でテレビ放送が開始された。 (イ) 日本が国際連合に加盟した。
- (ウ) 初めて日米安全保障条約が締結された。 (エ) 沖縄が日本に返還された。

問10 下線部(コ)について、日本の高度経済成長に関する次のできごとⅠ～Ⅲを、古いものから年代順に正しくならべかえたものを、下の中から1つ選びなさい。

- Ⅰ 国民総生産が世界第2位になった。
 - Ⅱ 所得倍増計画が発表された。
 - Ⅲ 『経済白書』で「もはや戦後ではない」と書かれた。
- (ア) Ⅰ - Ⅱ - Ⅲ (イ) Ⅰ - Ⅲ - Ⅱ (ウ) Ⅱ - Ⅰ - Ⅲ
 - (エ) Ⅱ - Ⅲ - Ⅰ (オ) Ⅲ - Ⅰ - Ⅱ (カ) Ⅲ - Ⅱ - Ⅰ

5 ある小学校の社会科の授業のようすを示した次の文を読んで、後の問いに答えなさい。

先生：小学校生活ももうすぐ終わりますね。今日は6年生になって学習した日本の政治のしくみや、国際社会とそこでの日本の役割について思い出してみましょう。では、Aさんは、真っ先に何を思いうかべますか。

Aさん：初めに(ア)日本国憲法について学習したことを思い出します。私たちのおじいさんやおばあさんが生まれたころに新しい憲法がつくられたと知りました。

先生：今の憲法がつくられて、まだ70年ほどしかたっていないんですね。Bさんは何か思いつきますか。

Bさん：日本の政治制度について学びました。みんなで三権分立を示した三角形の図をえがきました。

先生：(イ)国会・内閣・裁判所がそれぞれ仕事を分担して、おたがいに確認し合うしくみになっているのですね。Cさんはどうですか。

Cさん：国民と政治とのかかわりについて興味をもちました。(ウ)国民の政治参加は選挙だけではないことを知りました。

先生：国民が政治にかかわるためのさまざまな方法を学びましたね。ここまでの話は日本に関することでしたが、国際社会に関することでは、Dさん何かありませんか。

Dさん：私は、(エ)国際連合が世界の平和をまもるために、経済、社会、文化、人権などに関してさまざまな活動をしていることが印象深かったです。

先生：そうですね、国連は、そのためにたくさんの組織を設けていることを学習しましたね。Eさんは、何かありますか。

Eさん：私は、(カ)戦後の復興の時期に支援を受けた日本や日本人が、今日では世界中でいろいろな国際協力をしていることが心に残りました。

先生：みんなのなかにも、海外で活やくする人も出てくるでしょうね。今日ふりかえったことがらは、中学校の社会科では公民という分野にあたります。政治に加えて経済のこともくわしく学ぶことになります。楽しみにしてくださいね。

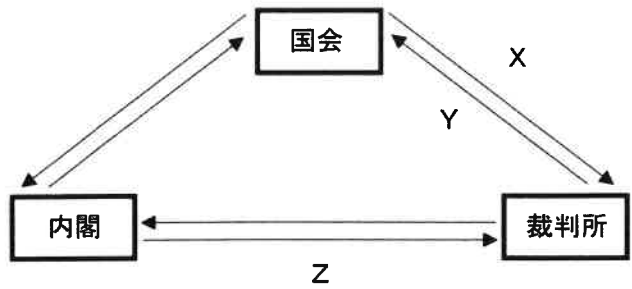
問1 下線部(ア)について述べた次の文X・Yについて、その正誤の組み合わせとして正しいものを、下の中から1つ選びなさい。

X 前文に示される三つの原則とは、国民主権、三権分立、基本的人権の尊重である。

Y 天皇は、国や国民のまとまりの象徴であり、政治についての権限はもたない。

- (ア) X 正 Y 正 (イ) X 正 Y 誤
- (ウ) X 誤 Y 正 (エ) X 誤 Y 誤

問2 下線部(イ)に関連して、国会・内閣・裁判所の関係を示す右の図中のX・Y・Zには、以下の①～④の内容があてはまる。その組み合わせとして適当なものを、下の(あ)～(か)の中から1つ選びなさい。



- ① 最高裁判所長官を指名する。
- ② 裁判官をやめさせるかどうかの裁判をおこなう。
- ③ 衆議院の解散を決める。
- ④ 法律が憲法に違反していないかを審査する。

	(あ)	(い)	(う)	(え)	(お)	(か)
X	①	①	①	②	②	②
Y	③	③	④	③	③	④
Z	②	④	②	①	④	①

問3 下線部(ウ)に関連して述べた次の文のうち、誤っているものを1つ選びなさい。

- (あ) 国民の意見を裁判にいかすため国民が裁判員として裁判に参加する。
- (い) 国民は国会議員をやめさせる請求をすることができる。
- (う) 憲法を改正するときには国民投票をおこなうことが必要である。
- (え) 最高裁判所の裁判官について国民審査がおこなわれている。

問4 下線部(エ)に関連して述べた次の文のうち、誤っているものを1つ選びなさい。

- (あ) 国際連合の本部はニューヨークにある。
- (い) 国際連合の活動を支える分担金にしめる日本の負担の割合は、加盟国の中で最大である。
- (う) 国際連合では、安全保障理事会を中心に国際社会の争いごとを解決する。
- (え) 教育・科学・文化のための国際連合の組織としてユネスコがある。

問5 下線部(オ)に関連して述べた次の文のうち、誤っているものを1つ選びなさい。

- (あ) 政府は、支援を必要とする国に対して、ODAとして資金や技術を提供している。
- (い) JICAの事業として、発展途上国に青年海外協力隊が派遣されている。
- (う) 国際協力を進めるために、政府はNGOを運営している。
- (え) 日本は、ユニセフから子どもたちの給食への支援を受けていた時期がある。

1

問1 問2

(1)	<input type="text"/>	(2)	<input type="text"/>
-----	----------------------	-----	----------------------

 問3 問4

問5 問6 問7

小計

2

問1 問2 問3

<input type="text"/>	<input type="text"/>	<input type="text"/>	<input type="text"/>
----------------------	----------------------	----------------------	----------------------

問4 問5 問6

問7

小計

3

問1 問2 問3 問4 問5

問6 問7 問8 問9 問10

小計

4

問1 問2 問3

問4

問5 問6 問7 問8 問9 問10

小計

5

問1 問2 問3 問4 問5

小計

受験番号	<input type="text"/>	氏名	<input type="text"/>
------	----------------------	----	----------------------

合計