

— 令和 7 年 度 —

# 中学入学試験問題

— 社 会 —

《 解 答 時 間 ： 4 5 分 》

— 注 意 —

1. 問題は試験開始の合図<sup>あいず</sup>があるまで開かないこと。
2. 問題用紙のページ数は、表紙を除いて29ページ、解答用紙は1枚である。不足している場合は、ただちに申し出ること。
3. 解答はすべて、問題の番号と解答用紙の番号が一致<sup>いっち</sup>するよう、解答用紙の所定のらん<sup>らん</sup>に記入すること。不明りょうな書き方をした解答は採点しない。（※印のらん<sup>らん</sup>には記入しないこと）
4. 開始の合図があつたら、まず解答用紙に教室記号・受験番号・氏名を記入すること。

- 1 現在の日本には、長い歴史の中で保存・維持されてきた、実に多くの文化財があります。その中でも、とくに貴重なものは「国宝」に指定され保護されています。国宝について述べた、次のA～Jの文章を読んで、あとの(1)～(20)に答えなさい。

A

国宝のうち、もっともサイズの小さなものは、江戸時代に、今の①福岡県で発見された「( )」と記された金印です。一辺が2.3cmと、手のひらに乗ってしまうほどの大きさです。この金印は、当時の中国の皇帝が使いを送った日本国内の「王」に対して、その力を認めて、使いを受け入れた証しとして贈ったものとされています。

- (1) 文章中の( )にあてはまる語句を、漢字5字で答えなさい。
- (2) 下線①について、福岡県には、国宝などの文化財を多く収めた九州国立博物館があります。この九州国立博物館は、有名な天満宮のある都市に設立されました。この天満宮に祀られ、平安時代、この地に置かれていた朝廷の役所に左遷された人物の名を答えなさい。

## B

もっともサイズの大きな国宝は、奈良県にある東大寺<sup>とうだいじ</sup>の大仏殿<sup>だいぶつでん</sup>です。すべて木造による構造の建築物としては世界最大ともいわれています。大仏殿に収められた大仏<sup>るしゃなぶつぞう</sup>（盧舎那仏像）も有名です。東大寺は、②奈良時代<sup>なら</sup>、仏教により国家を守ろうという③聖武天皇<sup>しょうむてんのう</sup>の願いにより建立<sup>こんりゅう</sup>されました。

(3) 下線②について、奈良時代に起こった出来事として正しいものを、次のア～オから1つ選んで、記号で答えなさい。

- ア 和同開珎<sup>わどうかいちん</sup>がつくられた。
- イ 壬申<sup>じんしん</sup>の乱が起こった。
- ウ 冠位十二階<sup>かんいじゅうにかい</sup>の制度が定められた。
- エ 大仙陵古墳<sup>だいせんりょうこふん</sup>がつくられた。
- オ 坂上田村麻呂<sup>さかのうえのたむらまろ</sup>が蝦夷<sup>えみし</sup>と戦った。

(4) 下線③について、この願いにより全国に建てられた寺を何といいますか。

## C

全都道府県のうち、もっとも多く国宝が保存されているのは、東京都です。博物館・美術館・大学などが多いためでしょう。それに続くのは、神社仏閣の多い京都府・奈良県です。

京都府の国宝のうち、多くが保存されているのが、洛南高等学校附属中学校のある東寺（教王護国寺）です。有名な五重塔をはじめ指定件数は、20件を超えています。真言宗を開いた空海（弘法大師）が関わった国宝は、和歌山県の高野山にも数多く残され、今日に伝えられています。空海と同時に中国に渡ったのが、比叡山に（ ）を開いた最澄（伝教大師）です。この寺院においても、多くの僧が学び、その後の仏教に大きな影響を与えました。

(5) 文章中の（ ）にあてはまる寺院の名を答えなさい。

## D

危うく破壊されそうになったものの、かろうじて保存され、国宝となったものもあります。奈良の④興福寺の五重塔です。明治時代に行われた廃仏毀釈の政策のもとに、多くの寺院が破壊の対象となり、興福寺の五重塔も売却・破壊される寸前までいったといわれています。また、海外に流出したため、国宝には指定されていない文化財も多くあります。平安時代に起こった⑤平治の乱を描いた『平治物語絵巻』の一部は、アメリカ合衆国のボストン美術館で保存されています。

(6) 下線④について、興福寺に保存されている国宝で、奈良時代につくられた像を、次のア～オから1つ選んで、記号で答えなさい。



ア



イ



ウ



エ



オ

(7) 下線⑤について、平治の乱で勝利を収めたのち、力を蓄<sup>たくわ</sup>え、ついには武士として初めて太政大臣に上りつめた人物の名を答えなさい。

## E



一人の画家として、もっとも多くの作品が国宝に指定されているのは、<sup>むろまち</sup><sup>かつやく</sup>⑥室町時代に活躍した（ ）です。彼は<sup>すいぼく</sup>が水墨画を得意とし、国宝に指定されたその作品は6点に上ります。その一つである「慧可断臂図」は、<sup>ぜんしゅう</sup>⑦禅宗の始祖である<sup>だるま</sup>達磨に弟子入りを願う僧が、決意を示すべく自らの<sup>ひだりうで</sup>左腕を切り落とし、<sup>かくこ</sup>覚悟を示している<sup>きんぱく</sup>緊迫した場面を描いたものです。

(8) 文章中の（ ）にあてはまる語句を答えなさい。

(9) 下線⑥について、<sup>あしかが</sup><sup>ばくふ</sup>室町時代には足利氏が幕府を開いて全国を支配しました。足利氏について述べた次の文章を読み、説明に誤りのあるものを、下線ア～オから1つ選んで、記号で答えなさい。

<sup>あしかがたかうじ</sup>足利尊氏は<sup>ごだいご</sup>ア後醍醐天皇と対立して、武家政権の再建に乗り出し、京都に新しい天皇を立てて<sup>むろまち</sup>室町幕府を成立させた。尊氏の孫の<sup>よしまさ</sup>イ足利義政が3代<sup>しょうぐん</sup>将軍になると、<sup>なんぼくちょう</sup>南北朝を合一して動乱を終わらせ、幕府は安定した支配を行った。しかし、1467年に<sup>あつ</sup>將軍の後継ぎ問題と結びつき、<sup>しゅごだいみょう</sup>守護大名らが争う<sup>おうにん</sup>ウ応仁の乱が起こり、幕府は弱体化した。社会では実力が重視され、家臣が主君に代わって<sup>ふ</sup>権力を振るうなど、<sup>げこくじょう</sup>エ下剋上の動きがみられるようになった。その後、<sup>よしあき</sup>足利義昭が<sup>おだのぶなが</sup>オ織田信長によって追放され、室町幕府は<sup>めつぼう</sup>滅亡した。

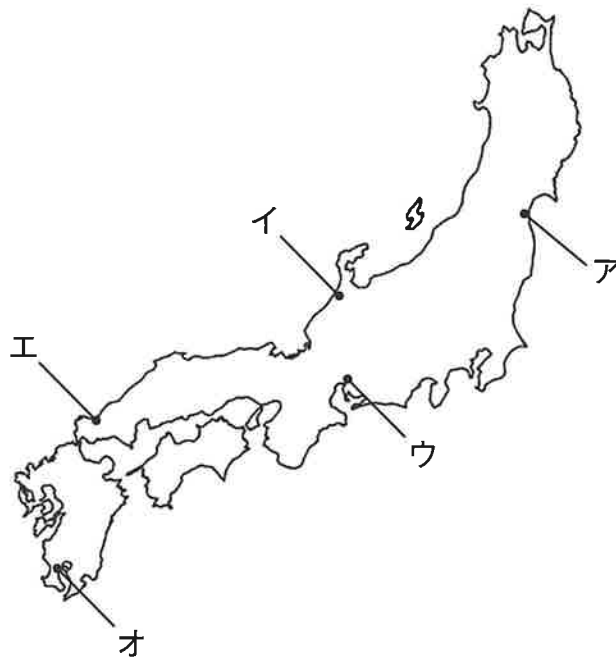
(10) 下線⑦について、日本に伝えられた禅宗の宗派の一つに<sup>そうとうしゅう</sup>曹洞宗があります。曹洞宗を伝えた人物を、次のア～オから1つ選んで、記号で答えなさい。

ア <sup>えいさい</sup>栄西    イ <sup>いつぺん</sup>一遍    ウ <sup>しんらん</sup>親鸞    エ <sup>どうげん</sup>道元    オ <sup>ほうねん</sup>法然

F

国宝の指定は、絵画・彫刻・工芸品・書籍典籍・古文書・考古資料・歴史資料・建造物の各ジャンルに分類されます。このうち、歴史資料というジャンルの国宝指定は歴史が浅く、現在3件しか指定されていません。その3件とは、  
 「⑧慶長遣欧使節関係資料」・「⑨琉球王国尚家関係資料」・「⑩伊能忠敬関係資料」です。

- (11) 下線⑧について、慶長遣欧使節は、伊達政宗がスペインとの交易を目指して、  
 支倉常長らをヨーロッパに送ったものです。伊達政宗の当時の居城の位置を、  
 次の地図中のア～オから1つ選んで、記号で答えなさい。



(12) 下線⑨について、琉球王国の支配の中心であった城の名を答えなさい。

(13) 下線⑩について、伊能忠敬について説明した文として正しいものを、次のア～オから1つ選んで、記号で答えなさい。

ア 『古事記』の研究に取り組み、『古事記伝』を著した。

イ 歴史や伝説を題材として、『南総里見八犬伝』を著した。

ウ 長崎で学んだ洋学の知識をもとに、摩擦式の発電機（エレキテル）を発明した。

エ 正確な日本地図を作成するため、全国の海岸を測量した。

オ 洋学研究への関心が高まる中、長崎郊外に塾を開設し、多くの人材を育成した。





国宝に指定されている絵画の中で、もっとも新しい作品は「鷹見泉石像」です。この絵を描いたのは、⑪江戸時代の後期に活動した渡辺華山です。武士の家に生まれ、幕府の学問所に学び、画業に努めました。一方、洋学に関心を強め、自身の画業にも西洋の手法を取り入れるようになりました。その後、幕府の行った⑫外国勢力の打ち払い政策に反対し、同じ立場であった高野長英らとともに取り締まりの対象となり、ついには自ら命を絶つこととなりました。この幕府による弾圧を蛮社の獄とよびます。

- (14) 下線⑪について、江戸時代に起こった出来事に関する史料を、次のア～オから1つ選んで、記号で答えなさい。(史料はわかりやすく書き改めてあります。)

ア この頃都にはやるもの。夜討ち、強盗、偽の朝廷命令。(中略)、勝手な出家……。

イ 下田、函館港の外、次の場所を右の期限より開くべし。神奈川(中略)、長崎、新潟(中略)、兵庫……。

ウ 諸国百姓は、刀・脇指・弓・槍・鉄砲、そのほか武器の類いを持つことを堅く禁じる。

エ 正長元年より以前に関しては、神戸4か郷には借金は一切ないものとする。

オ 天皇は、国の元首であり統治権をすべて持ちこの憲法の条文によって、これを行う。

- (15) 下線⑫について、江戸時代が始まる17世紀以降、欧米や中国などの諸外国で、新たな動きが起きました。江戸時代の世界の出来事として誤っているものを、次のア～エから1つ選んで、記号で答えなさい。

ア イギリスでピューリタン革命が起こった。

イ アメリカ合衆国が独立した。

ウ 中国で明が成立した。

エ ナポレオンが皇帝となった。

H

現存する城の<sup>てんしゅかく</sup>天守閣のうち、国宝に指定されているのは、<sup>まつもと</sup>松本城・<sup>いぬやま</sup>犬山城・<sup>ひめじ</sup>姫路城・<sup>ひこね</sup>彦根城・<sup>まつえ</sup>松江城の5か所です。いずれもその美しい姿が愛され、観光地としてにぎわっています。同じ城の天守閣といっても、それぞれに特徴があり、姫路城などはその美しさから「<sup>しらさぎじょう</sup>白鷺城」とよばれています。

残念ながら、多くの城は、江戸時代から<sup>⑬</sup>明治時代になったとき取り壊されてしまい、それでも維持されていた天守閣のうち、広島城・名古屋城・和歌山城は、<sup>⑭</sup>同じ年に失われてしまいました。

(16) 下線⑬について、明治時代に起こった出来事として正しいものを、次のア～オから1つ選んで、記号で答えなさい。

- ア <sup>にっしん</sup>日清戦争によって、<sup>ちようせん</sup>朝鮮を開国させた。
- イ ポーツマス条約を結んで、<sup>たいわん</sup>台湾を<sup>かくとく</sup>獲得した。
- ウ 政府の方針に反対して、<sup>じ ゆうみんけんうんどう</sup>自由民権運動が高まった。
- エ <sup>いわくら し せつだん</sup>岩倉使節団の<sup>こうしやう</sup>交渉によって、不平等条約改正が成功した。
- オ <sup>だいにっぽんていこくけんぽう</sup>大日本帝国憲法によって、内閣制度が発足した。

(17) 下線⑭について、これらの城の天守閣が同じ年に失われてしまったのはなぜですか。その理由を簡潔に説明しなさい。

現在の国宝は、<sup>15</sup>1950年に制定された「文化財保護法」という法律によって指定され、保護されています。このうち明治時代以降に建てられ国宝に指定された建造物は、3件あります。その一つは、群馬県にある（ ）です。明治時代の日本の産業革命を象徴する官営の施設として、世界遺産にも登録されるなどよく知られています。

(18) 文章中の（ ）にあてはまる施設名を答えなさい。

(19) 下線<sup>15</sup>について、この時期の日本は、連合国の占領下にありました。占領政策について述べたものとして誤っているものを、次のア～オから1つ選んで、記号で答えなさい。

- ア <sup>のうちかいかく</sup>農地改革が行われた。
- イ <sup>とうきょうさいばん</sup>東京裁判で戦争指導者が裁かれた。
- ウ <sup>じえいたい</sup>自衛隊が創設された。
- エ <sup>ざいばつ</sup>財閥の解体が命じられた。
- オ <sup>きょういく きほんほう</sup>教育基本法が制定された。

J

絵画で指定されている国宝のうち、もっとも古い時代のものは、⑩1972年に奈良県の高松塚古墳<sup>たかまつか こふん</sup>で発見された壁画<sup>へきが</sup>です。7世紀末から8世紀初めにつくられた壁画には、星座を表した「星宿図」<sup>せいしゆくず</sup>や人物たちの衣装が色鮮やかに描かれ、人々を驚かせました。これらの表現には、当時の中国や朝鮮半島の影響がみられます。

(20) 下線⑩について、この年よりもあとに起こった出来事として正しいものを、次のア～オから1つ選んで、記号で答えなさい。

- ア 大阪で万国博覧会が開催された。<sup>かいさい</sup>
- イ 国際連合への加盟が認められた。<sup>こくさいれんごう</sup>
- ウ 初めて消費税が導入された。<sup>しょうひぜい</sup>
- エ 湯川秀樹がノーベル賞を受賞した。<sup>ゆかわひでき</sup>
- オ 東海道新幹線が開通した。<sup>とうかいどうしんかんせん</sup>

- 2 小学6年生のアオイさんは、複数の地域を比べることで各地域の特徴がわかると考え、学校の先生に表の作り方を教えてもらいながら次のⅠ・Ⅱを作成しました。Ⅰ・Ⅱを見て、あとの(1)～(14)の問いに答えなさい。

Ⅰ

表1

国名	面積(千km <sup>2</sup> )	人口密度(人/km <sup>2</sup> )	1人当たり貿易額(ドル)
アメリカ合衆国	9834	34	13916
オーストラリア	7692	3	23380
<small>かんこく</small> 韓国	100	516	24300
中国	9600	149	4239
日本	378	324	12314
世界平均	660	61	5685

※人口密度・1人当たり貿易額は2021年の統計です。

(『地理統計要覧2024年版』より作成)

上の表1は、日本と、日本と関わりの深い①アメリカ合衆国・オーストラリア・韓国・中国について調べた内容をまとめたものです。表1からわかるように、日本はそれほど面積の大きな国ではありません。しかし、日本はおよそ7000の②島々からなるため、③排他的経済水域<sup>はいた</sup>は世界でも有数の広さとなっています。人口密度についても、世界の平均と比べると非常に高いことがわかりました。

日本は多くのものを輸出入している印象をもっていました、④輸出額と輸入額の合計である貿易額は1人当たりになると意外と少ないことに気づきました。

また、この統計を使って計算した結果、5つの国の中で人口がもっとも少ない国は(あ)で、日本は貿易額が3番目に多い国であることがわかりました。

(1) Ⅰ中の(あ)にあてはまる国の名を答えなさい。

(2) 下線①について、表1中の国々のうち、2つの国の領域がある大陸の名を答えなさい。

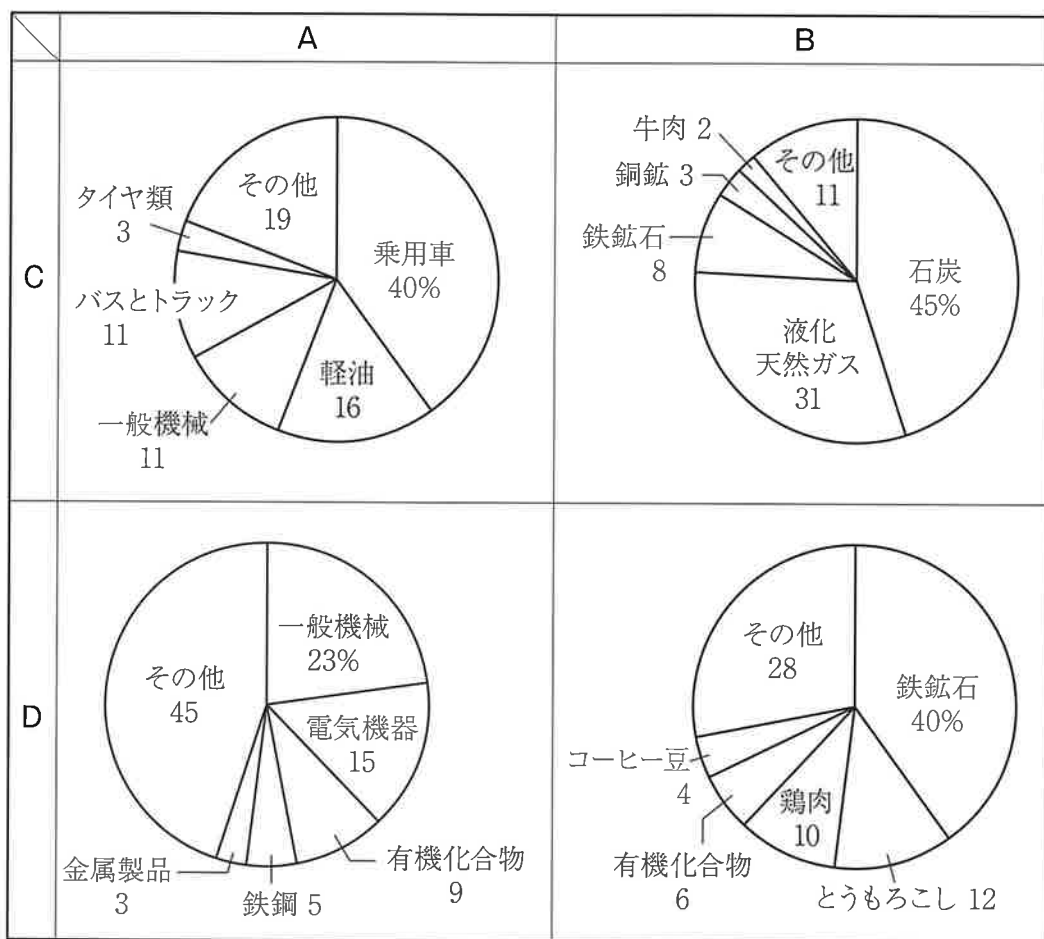
- (3) 下線②について、日本には多くの島々がありますが、なかには沖ノ鳥島<sup>おきのとりしま</sup>のよう  
に本州などの主要な島から大きく離<sup>はな</sup>れているものもあります。沖ノ鳥島の緯<sup>い</sup>  
度・経度として正しいものを、次のア～エから1つ選んで、記号で答えなさい。

ア 北緯24度26分 東経122度56分      イ 北緯45度33分 東経148度45分  
ウ 北緯24度16分 東経153度59分      エ 北緯20度25分 東経136度4分

- (4) 下線③について、日本より排他的経済水域がせまい国を、次のア～エから1  
つ選んで、記号で答えなさい。

ア インドネシア      イ カナダ      ウ ベトナム      エ ロシア

(5) 下線④について、次の図は、オーストラリア・ブラジルの2か国と日本との輸出入額における主な品目とその割合（2022年）をまとめたものです。図中のA・Bには輸出・輸入のいずれかが、図中のC・Dにはオーストラリア・ブラジルのいずれかが入ります。AとCの組み合わせとして正しいものを、あとのア～エから1つ選んで、記号で答えなさい。

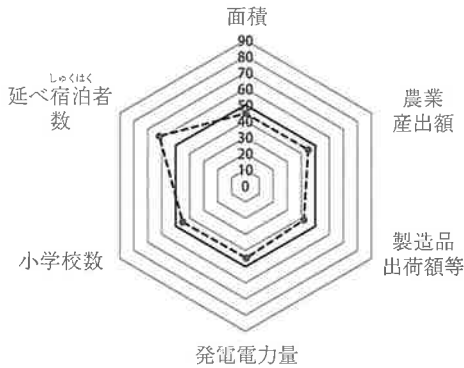


(『地理統計要覧 2024年版』より作成)

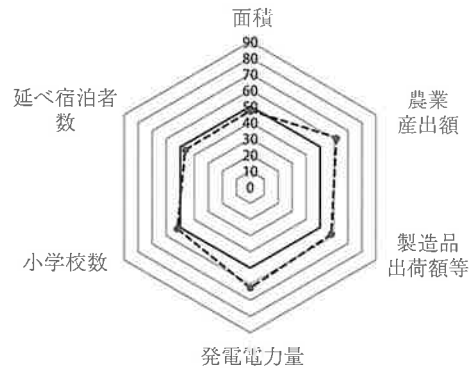
	ア	イ	ウ	エ
A	輸出	輸出	輸入	輸入
C	オーストラリア	ブラジル	オーストラリア	ブラジル

## II

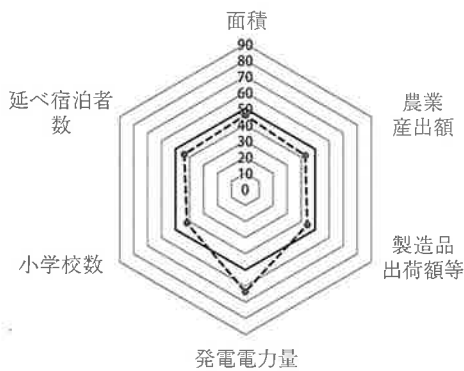
次のA～Eの図は、各県の特徴を調べるために、茨城県・岩手県・沖縄県・福井県・兵庫県のいずれかの県の各指標を、レーダーチャートにまとめたものです。図中の数値は、全国平均を50とした偏差値<sup>へんさち</sup>で示しており、それぞれの統計の数値が高いほど、偏差値は高くなります。



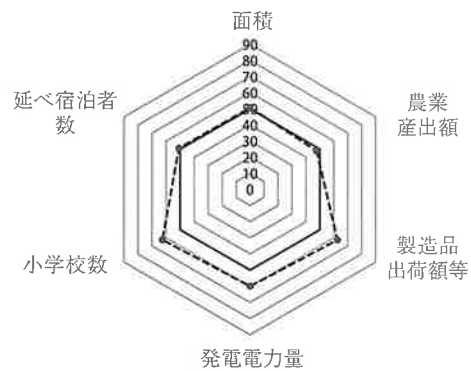
A



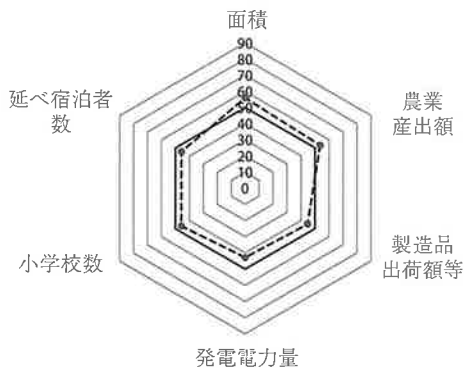
B



C



D



E

面積・農業産出額（2021年）・製造品出荷額等（2020年）は『地理統計要覧2024年版』，発電電力量（2023年度）は資源エネルギー庁HP，小学校数（2022年）は総務省統計局HP，延べ宿泊者数（2023年）は観光庁HPより作成



(6) II中のAの県について述べた次のア～エの文のうち、誤っているものを1つ選んで、記号で答えなさい。

ア 年間を通じて温暖な気候で、降雪はほとんどみられない。

イ 雨水がすぐに海に流れて水不足になりやすいため、屋根の上に給水タンクを置く家が多い。

ウ 菊<sup>きく</sup>作りが盛んで、夜間に光をあてることで出荷時期を調整している。

エ 古くからオランダとの交流が盛んで、建物や食べ物にその影響がみられる。

(7) アオイさんは、II中のAの県の観光について知るために、どのような調査をすればよいのかを考えてみました。次のa・bの文は、それぞれ調査の目的と方法について説明しています。a・bが調査として適切かどうかについて述べたあとのア～エのうち、正しいものを1つ選んで、記号で答えなさい。

a 1か月間で県外から来た観光客の総数を明らかにするために、1か月の県内の宿泊施設の宿泊者数の総数を調べる。

b 外国人観光客の県内の平均<sup>たいざい</sup>滞在期間を明らかにするために、観光地付近の住民に聞き取り調査を行う。

ア aのみ適切である。

イ bのみ適切である。

ウ a・bともに適切である。

エ a・bともに適切でない。

(8) 次の図1は、Ⅱ中のBの県における各市町村の人口(2020年)を示したものです。また、あとの図2中のあ～うは、Bの県内各市町村における、住民の従業地や通学地に占める、自市町村・県内他市町村・県外の割合(2020年)のいずれかを、上位・中位・下位の3つに区分したものです。自市町村・県内他市町村・県外とあ～うの組み合わせとして正しいものを、下のア～カから1つ選んで、記号で答えなさい。

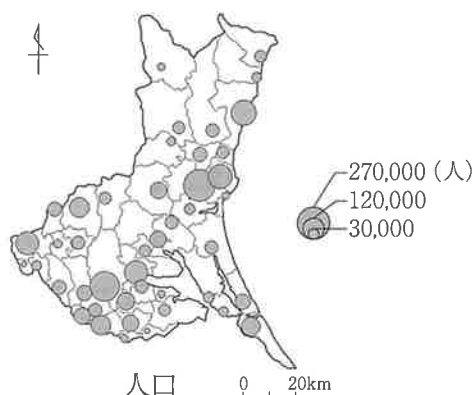


図1

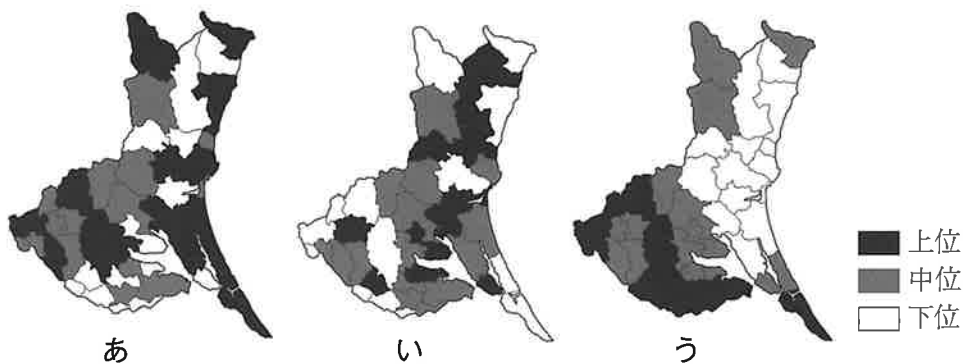


図2

(B県HPより作成)

	ア	イ	ウ	エ	オ	カ
自市町村	あ	あ	い	い	う	う
県内他市町村	い	う	あ	う	あ	い
県外	う	い	う	あ	い	あ

- (9) 次の図は、Ⅱ中のBの県のある地域を地理院地図で示したものです。図中の●・▲・★はある地図記号を置きかえたものです。3つの地図記号の組み合わせとして正しいものを、あとのア～カから1つ選んで、記号で答えなさい。



(地理院地図より作成)

	ア	イ	ウ	エ	オ	カ
●			∨	∨	Λ	Λ
▲	∨	Λ		Λ		∨
★	Λ	∨	Λ		∨	

- (10) Ⅱ中のCの県のかたちとしてもっとも適当なものを、次のア～エから1つ選んで、記号で答えなさい。また、Cの県の東部には5つの大きな湖があり、水鳥の生息地として重要な<sup>しっち</sup>湿地を守るための条約に登録されています。その条約の名を答えなさい。



ア



イ




ウ



エ

- (11) 次の図は、Ⅱ中のC・Dの県を含む各県の年間発電量の内訳（2023年度）を示したもので、図中のア～エは、火力発電・原子力発電・水力発電・風力発電のいずれかです。火力発電にあたるものを、ア～エから1つ選んで、記号で答えなさい。



(資源エネルギー庁HPより作成)

- (12) II中のDの県について、あとの表中のa～cは、次の図中のあ～うの3つの地点のいずれかにおける月別の平均気温と日照時間（1991年～2020年の平年値）を示したものです。あ～うとa～cの組み合わせとして正しいものを、下のア～カから1つ選んで、記号で答えなさい。



		1月	2月	3月	4月	5月	6月	7月	8月	9月	10月	11月	12月
a	平均気温（℃）	1.9	2.5	6.0	11.6	16.8	20.7	24.7	25.7	21.4	15.4	9.6	4.4
	日照時間（時間）	85.3	89.0	136.9	177.6	186.3	126.5	132.1	173.3	127.4	144.1	115.6	97.8
b	平均気温（℃）	4.5	4.7	7.5	12.5	17.2	20.9	25.1	26.2	22.4	17.1	11.9	7.0
	日照時間（時間）	56.9	74.3	132.6	183.7	204.0	151.1	160.9	202.8	138.8	134.0	97.2	68.5
c	平均気温（℃）	4.4	5.0	8.3	13.6	18.5	22.4	26.4	27.8	23.8	17.9	11.9	6.6
	日照時間（時間）	149.1	142.5	173.7	191.8	203.1	156.0	172.1	209.9	158.8	167.4	154.8	155.1

（気象庁HPより作成）

	ア	イ	ウ	エ	オ	カ
あ	a	a	b	b	c	c
い	b	c	a	c	a	b
う	c	b	c	a	b	a

(13) II中のEの県の名を答えなさい。

(14) 次の文章は、アオイさんがII中のEの県で生産されている伝統的工芸品について調べたことをまとめたものです。文章中の（ あ ）・（ い ）にあたる語句の組み合わせとして正しいものを、あとのア～エから1つ選んで、記号で答えなさい。

この（ あ ）は、江戸時代中期に誕生した伝統的工芸品である。この地域は、（ あ ）の原料が付近で手に入ることや、（ い ）川の水運が利用できることなど、（ あ ）を生産する上での地理的<sup>めぐ</sup>条件に恵まれていたことから作られるようになった。（ あ ）の特徴は、長持ちすることや熱が均一に伝わること、保温性に優れていることなどである。

	ア	イ	ウ	エ
あ	鉄器	鉄器	銅器	銅器
い	あぶくま 阿武隈	きたかみ 北上	阿武隈	北上

3 次のA～Dの文章を読んで、あとの(1)～(12)に答えなさい。

A

私たちの生活は、技術の進歩によって、過去に例がないほど便利で効率的なものとなっています。一方、思わぬ出来事の影響を受けて、生活が混乱することもあります。このようにしてもたらされる危機はリスクとよばれます。現代の社会には、どのようなリスクがあるのでしょうか。

企業活動は様々なリスクにみまわれることがあります。昨年発生したコンピュータのシステム障害は、多くの国の人々に影響を及ぼしました。航空便が多数欠航したり、病院で適切な①医療行為が行えなかったりするなど、いずれも生活にじかに関わる影響でした。この出来事は、社会活動がインターネットを通じて世界中で関係し合う、現代の②グローバル化を改めて実感させました。ほかに、サイバー攻撃を受けて企業活動が停止したり、③情報を盗まれたりする事例も生じています。

- (1) 下線①について、近年の医療では、自己決定の権利にもとづき、患者が治療方法などについて十分な説明を受けて判断するようになっています。このような方針を何といいますか。カタカナで答えなさい。

(2) 下線②について、国境を越えての人の移動も、グローバル化の一面です。

IOM（国際移住機関）は、人の移動の機会を保障することでSDGsの達成をめざす国際連合の機関です。また、文Ⅰ・Ⅱは、IOMが2023年の国連総会で呼びかけた内容で、図a～dは、SDGsの目標を表すものです。（文はわかりやすく書き改めてあります。）文Ⅰ・Ⅱと、その内容を表すSDGsの目標の組み合わせとしてもっともふさわしいものを、ア～エから1つ選んで、記号で答えなさい。

Ⅰ 社会保障と保健医療へのアクセスを拡大する。

Ⅱ 移民の声を国や地方の開発計画に反映させる。



ア Ⅰ－a Ⅱ－c

イ Ⅰ－a Ⅱ－d

ウ Ⅰ－b Ⅱ－c

エ Ⅰ－b Ⅱ－d

(3) 下線③について、国や地方公共団体の持つ情報を求める権利が、新しい権利の一つとして主張されています。この権利を何といいますか。



B

自然災害によるリスクも、ますます無視できないものになっています。④地球温暖化による環境の変化は、各地で人々の暮らしや産業に影響しています。また、昨年<sup>おおじしん</sup>大地震のあった<sup>のと</sup>能登半島では、<sup>こうれいか</sup>高齢化や人手不足によって復興がなかなか進まずにいます。以上のようなリスクに、⑤個人で立ち向かうことは困難です。

(4) 下線④について、次のア～エのうち、地球温暖化によって引き起こされる環境問題を1つ選んで、記号で答えなさい。

ア



都市の大気汚染<sup>おせん</sup>

イ



都市部での道路の陥没<sup>かんぼつ</sup>

ウ



水没の危機にさらされる国土

エ



大量の廃棄物によるごみ山<sup>はいきぶつ</sup>

(JICA HP, 朝日新聞より引用)

- (5) 下線⑤について、2016年、日本に居住するすべての個人に12桁<sup>けた</sup>の番号を割り当てる制度が始まりました。この制度を何といいますか。

C

私たちがリスクに共同で立ち向かう手段として、立法・行政という政治のはたらきがあげられます。たとえば、自然災害に対しては、⑥災害対策基本法という法律があります。この法律では、「⑦国土<sup>なら</sup>並びに国民の生命、身体及び⑧財産を災害から保護するため」、国、地方公共団体、その他の公共機関が担う役割を定めています。災害時に私たちが避難<sup>ひなん</sup>したり、仮設住宅に入居したりすることができるのは、このような法制度に支えられているからです。その場合、資金は⑨税金によってまかなわれます。

- (6) 下線⑥について、次の㉔・㉕の問いに答えなさい。

- ㉔ 以下は、災害対策基本法の条文の一部です。文中の（ ）にあてはまる語句を漢字2字で答えなさい。

**第23条** 都道府県の地域について災害が発生し、又は災害が発生するおそれがある場合において、防災の推進を図るため必要があると認めるときは、都道府県（ ）は、都道府県地域防災計画の定めるところにより、都道府県災害対策本部を設置することができる。

- ④ 災害対策基本法は2021年に改正され、<sup>こうう</sup>豪雨などの災害のときに市町村が出す発令の種類が変更されました。次の図は、内閣府がそれを告知したポスターの一部です。あとの文章は、この変更の内容と理由を説明するものです。文章中の（ X ）・（ Y ）にあてはまる内容の組み合わせを、下のア～エから1つ選んで、記号で答えなさい。



(内閣府HPより引用)

以前は、災害で（ X ）が発令されている間、避難するかどうかを迷う人が多かった。そこで（ X ）の発令を廃止することで、この問題を解消し、（ Y ）が避難するタイミングを明確にした。

- |                           |        |
|---------------------------|--------|
| ア X：避難指示                  | Y：高齢者  |
| イ X：避難指示                  | Y：住民全員 |
| ウ X：避難 <sup>かんこく</sup> 勧告 | Y：高齢者  |
| エ X：避難勧告                  | Y：住民全員 |

(7) 下線⑦について、日本の行政機関のうち、国土の整備や、移動、防災を担当する省を何とといいますか。

(8) 下線⑧について、財産権は日本国憲法で保障される「経済活動の自由」の一つです。次の日本国憲法の条文ア～エから、「経済活動の自由」について述べたものを1つ選んで、記号で答えなさい。

ア 「すべて国民は、勤労の権利を有し、義務を負ふ。」

イ 「すべて国民は、健康で文化的な最低限度の生活を営む権利を有する。」

ウ 「集会、結社及び言論、出版その他一切の表現の自由は、これを保障する。」

エ 「何人も、公共の福祉に反しない限り、居住、移転及び職業選択の自由を有する。」

(9) 下線⑨について、税金のうち、個人の収入に課される国税を何とといいますか。

## D

司法も、私たちがリスクに立ち向かう手段の一つです。( 1 ) 裁判は、他人と交わした契約<sup>けいやく</sup>が守られないときなどに、争いの解決を求めて訴<sup>うった</sup>えることができる場です。刑事裁判は、社会に犯罪が広まらないよう、⑩罪を犯したとされる人を裁く場です。この2種類の裁判があることで、私たちはリスクから守られているといえるでしょう。

しかし、⑪立法・行政・司法という国の権力は、いずれかが暴走すると、国民を守るよりもかえっておびやかすことがあると指摘<sup>してき</sup>されています。3つの機関のいずれかに権力が集中するのを防ぐしくみは、( 2 ) とよばれ、多くの国の憲法で定められています。平穏<sup>へいおん</sup>な生活を守れるよう、政治のあり方を適切にコントロールしていく行動が、私たち自身に今日いっそう求められています。

(10) 文章中の ( 1 ) ・ ( 2 ) にあてはまる語句を答えなさい。

(11) 下線⑩について、罪を犯したとされる人は刑事裁判にかけられますが、冤罪<sup>えんざい</sup>を防ぐため、1つの事件について3回まで裁判を受けられるしくみがあります。このしくみを何といいますか。

(12) 下線⑪について、立法府である国会は、内閣総理大臣の指名をも行います。

これに関する㉔・㉕の問いに答えなさい。

㉔ 衆議院と参議院とで内閣総理大臣の指名が異なり、両院協議会を開いても意見が一致しない場合、衆議院の議決が国会の議決となります。このように、衆議院が参議院よりも強い権限を持つことを何といいますか。

㉕ 衆議院議員総選挙が行われた後、政党が連立して政権を作ることがあります。ある年に465議席をめぐって争われた衆議院議員総選挙で、各政党が表のような議席数を得たとします。このときA党は、表中のⅠ～Ⅲのどの方式で連立を組めば、確実に政権を獲得することができるでしょうか。あてはまる方式をすべて選んだ組み合わせとして正しいものを、下のア～キから1つ選んで、記号で答えなさい。ただし、連立を組む各党の議員はすべて、A党の党首を内閣総理大臣に指名するものとします。

政党	議席数	Ⅰ	Ⅱ	Ⅲ
A党	160	○	○	○
B党	120			
C党	70	○		
D党	60		○	○
E党	35		○	
F党	20			○

※○の付いた政党が、A党を中心に連立を組みます。

ア Ⅰのみ

イ Ⅱのみ

ウ Ⅲのみ

エ Ⅰ・Ⅱ

オ Ⅰ・Ⅲ

カ Ⅱ・Ⅲ

キ Ⅰ・Ⅱ・Ⅲ

社会解答用紙

教室記号	受験番号	氏名

※

1

(1)	(2)	(3)	(4)	(5)

(6)	(7)	(8)	(9)	(10)

(11)	(12)	(13)	(14)	(15)	(16)

(17)

(18)	(19)	(20)

※

※

2

(1)	(2)	(3)	(4)	(5)

(6)	(7)	(8)	(9)	(10)
				記号
				条約の名
				条約

(11)	(12)	(13)	(14)
		県	

※

3

(1)	(2)	(3)	(4)

(5)	(6)	(7)
	あ	い
制度		

(8)	(9)	(10)
		1
		2

(11)	(12)
	あ
	い

※