

1 約80年前、1941年12月8日の日本軍による真珠湾攻撃により太平洋戦争が始まりました。太平洋戦争での敗戦が日本社会を大きく変えるきっかけとなったように、戦争や戦乱が社会に及ぼす影響は非常に大きいものです。そこで、太郎さんは有名な戦争や戦乱を5つ選び、カードにまとめました。カードA～Eの文章を読み、あとの問いに答えなさい。

A 応仁の乱

a 当時の幕府の次の将軍をめぐる対立をきっかけに、全国の守護大名が東西陣営に分かれて争う応仁の乱が起きました。11年間もの長きにわたって戦場となった①は荒れ果て、幕府の権威は弱まりました。守護大名が①で戦いをくり返す間、大名の任地を代わりに守っていた守護代や国人と呼ばれる武士が次第に地方の実権を握るようになりました。

B 太平洋戦争

日本がハワイの真珠湾を攻撃し、日本とアメリカ合衆国・イギリスの間で太平洋戦争が始まりました。19世紀末から②での権益を狙うアメリカ合衆国に対して、第一次世界大戦中に「二十一ヶ条の要求」を突きつけるなど日本が②への野心をあらわにしたことが対立のきっかけです。そして、太平洋戦争開戦直前の日米交渉では、日本の②からの撤退が主題となりました。

C 島原・天草一揆

厳しいキリスト教取り締まりと年貢の取り立てに百姓たちが反発して、島原・天草一揆が起きました。一揆の中心となったのは当時16歳の③です。b 当時の幕府は12万人の兵力を動員してようやくこれを鎮圧し、この後キリスト教根絶のために様々な政策を実施しました。

D 元寇

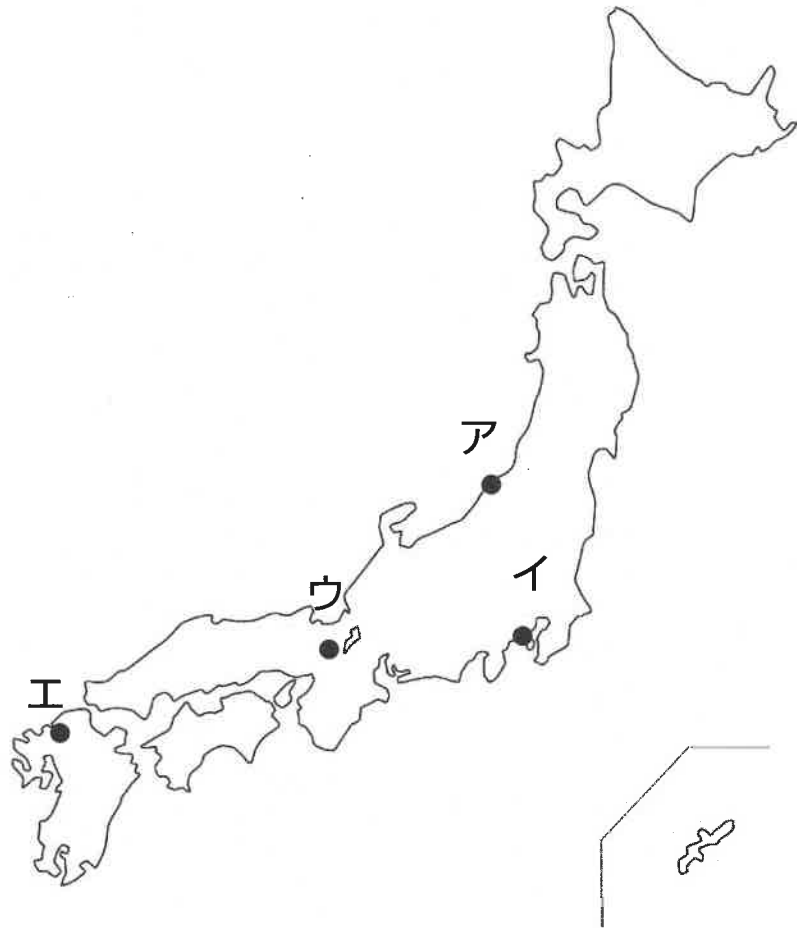
モンゴル人の国である元が日本に降伏を要求しましたが、当時の幕府がその要求を拒否したことにより、元軍が九州北部に2度押し寄せました。日本の武士は元軍の集団戦法や「てつはう」と呼ばれる火薬に苦戦しましたが、2度とも追い返すことに成功しました。一方、命がけで戦ったにもかかわらず、幕府から御恩を授かった武士はわずかで、幕府に不満を持つ者が増えました。

E 承久の乱

d 当時の幕府に反発した朝廷側が、幕府打倒のために起こした戦いを承久の乱とよびます。しかし、その結果は幕府側の圧勝で終わり、戦乱の中心になった3人の上皇は島流しとなりました。その後幕府は天皇の後継者決定にも介入するようになり、さらに幕府の力は強まっていきました。

問1 波線部a～dのうち2つは同じものを指しています。どれとどれが同じか記号で答えなさい。

問2 空らん ① には、ある場所が入ります。その場所として適切なものを次の地図中のア～エより1つ選び、記号で答えなさい。



問3 空らん ② には、ある地域が入ります。その地域に含まれている場所として適切なものを次のア～エより1つ選び、記号で答えなさい。

- ア シャンハイ イ ピョングヤン ウ ホンゴン エ タイペイ

問4 空らん ③ に入る人物の名前を漢字で答えなさい。

問5 下線部④「御恩」の具体的な説明として適切なものを、次のア～エより1つ選び、記号で答えなさい。

- ア 多額の金銀や財宝を授与してもらうこと
- イ 代々所有してきた土地の権利を認めてもらうこと
- ウ 配下の軍団の増員を許されること
- エ 幕府所在地に近い土地へ移住を命じられること

問6 下線部⑤「上皇」に関連して、次の百人一首の詠み手ア～エのうち、上皇になったことがあるのは誰ですか。適切なものを1つ選び、記号で答えなさい。



問7 カードA～Eを年代の古い順番に並べなさい。(最後はBになります。)

2 茶の歴史に関する次の文章を読み、あとの問いに答えなさい。

私たちがふだん何気なく飲んでいる「お茶」は、その歴史をたどってみると、単なる飲み物ではなく、時代によって異なる社会的な意味合いを持っていたということが分かります。

そもそも茶は中国発祥のもので、①遣唐使として中国に派遣された人々によって、日本に茶の文化が持ち込まれたと考えられています。9世紀初頭の記録が日本での茶に関する最初の記述とされていますが、当時茶は非常に貴重なもので、②貴族や僧などの極めて限定された人々しか口にすることができませんでした。

③鎌倉時代になると、栄西という僧が『喫茶養生記』を書き記し、茶の効能を人々に説きました。栄西は12世紀後半に中国で禅宗を学びましたが、そのとき中国の寺院では茶を飲むことが流行していたようです。鎌倉時代には、禅宗が日本の④に広く信仰されるようになりましたが、それとともに茶を飲む習慣が社交の道具として④に浸透しました。この頃から⑤駿河や伊勢など、日本でも茶が栽培されるようになりました。

⑥南北朝時代から室町時代にかけては、茶の宴会が流行するなど、茶は娯楽性の強いものになりました。一方、15世紀後半になると禅宗の作法を重んじ、質素さを追求した「侘び茶」という様式が生まれます。⑦豊臣秀吉に重用されたことでも知られる千利休がそれを完成させました。

江戸時代になると、日本全土で⑧交通・流通制度が整備され、茶が積極的に取り引きされるようになりました。その後、⑨明治時代中期までは大いに輸出されてきた茶でしたが、外国産の茶の台頭により、次第に輸出量は停滞しました。代わりに国内での消費量が増加し、昭和時代初期になると食卓で茶が飲まれることが一般化したと言われています。現在のように飲み物としてお茶が飲まれるようになったのは歴史的には最近のことなのです。


問1 下線部①「遣唐使」について説明した次のア～エの文のうち適切でないものはどれですか。1つ選び、記号で答えなさい。

- ア 日本の使者が持参した国書を見て皇帝の煬帝が立腹した。
- イ 9世紀末に菅原道真によってその停止が進言された。
- ウ 唐の政治制度を学ぶことが目的の1つだった。
- エ 日本の仏教の振興に大きな役割を果たした。

問2 下線部②に関連して、平安時代の文化はおもに貴族によって担われました。次の写真に示される、平等院鳳凰堂を建てさせた貴族の名を漢字4字で答えなさい。



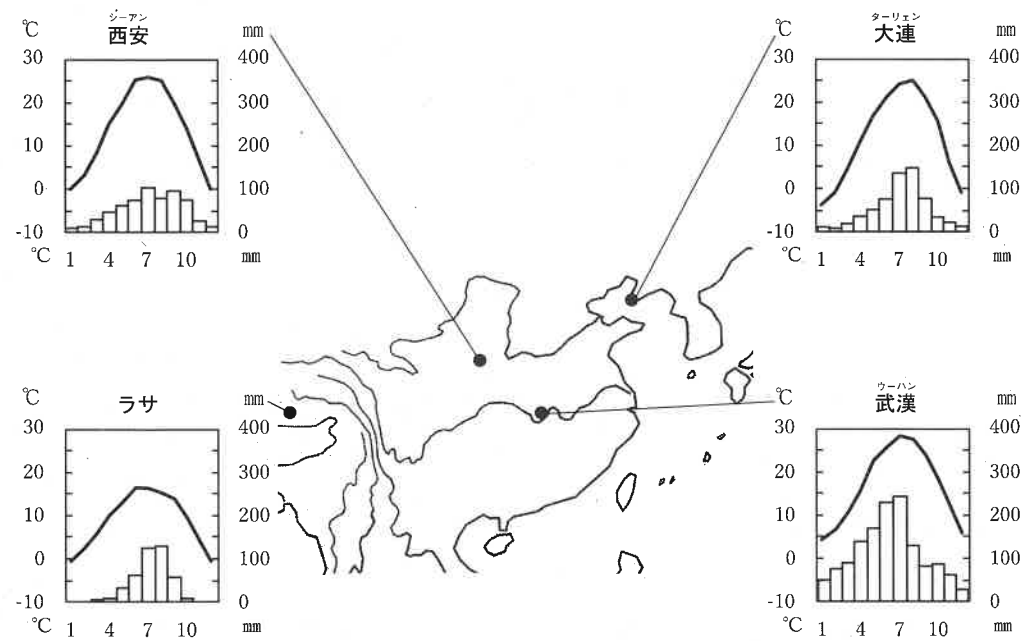
問3 下線部③に関連して、次の図は鎌倉時代の農民が書いたとされる文書です。ここに書かれた内容として適切なものはどれですか。下のア～エより1つ選び、記号で答えなさい。



- ア 防人のために東国から太宰府まで移動する大変さを訴えている。
- イ 地頭による乱暴な人づかひのため、年貢の納入が遅れたと訴えている。
- ウ 高利貸し業者の酒屋・土倉を襲撃し、借金の破棄を宣言している。
- エ 貴重な働き手である若い男子を軍隊に召集する徴兵令に反対している。

問4 空らん ④ には当時の支配階級が入ります。空らんには当てはまる語句を漢字2字で答えなさい。

問5 下線部⑤について、駿河や伊勢は茶の栽培に適した気候であったためと考えられます。日本で栽培される以前、中国で栽培がさかんであった地域に含まれるのは、下のア～エのうちどの地域ですか。4つの雨温図を参考に適切なものを1つ選び、記号で答えなさい。



『理科年表』により作成

- ア 現在の西安シーアン一帯の地域
- イ 現在のターリエン大連一帯の地域
- ウ 現在のラサ一帯の地域
- エ 現在のウーハン武漢一帯の地域

問6 下線部⑥に関連して、次の資料は南北朝時代直前のこんとん混沌とした世情をふうし風刺した「二条河原の落書」の一部とその解説文です。解説文中の空らんには当てはまる語句を漢字2字で答えなさい。

「二条河原の落書」

このころ 此比都ニハヤル物 夜討強盗謀綸旨…… (後略)

【解説文】

京都の二条河原にかかげられたといわれるこの落書は、 中心の政治を目指した建武の新政期に書かれたものです。この改革によって、今まで認められていた土地の所有権はすべて無効とされ、 の命令である綸旨によってのみ所有権を認めることとされました。その結果、綸旨を求める人々が京都に殺到し、その混乱にまぎ紛れてニセの綸旨が数多く作成されました。その混乱ぶりがリズムよくこの落書冒頭に描かれています。

問7 下線部⑦について、次の図P・Qは豊臣秀吉の政策と関係のあるものです。P・Qを説明した文の正誤の組み合わせとして適切なものを下のア～エより選び、記号で答えなさい。

P 全国的な検地の実施により、誰が年貢を負担するのか明確にした。



Q ^{ちんご}鎮護国家思想に基づき、大仏建立を目的として農民から刀を^{ちようしゆう}徴集した。



- ア P-正 Q-正 イ P-正 Q-誤
 ウ P-誤 Q-正 エ P-誤 Q-誤

問8 下線部⑧に関連して、次のア～エのうち、江戸時代に大坂から江戸に物資を輸送する上で利用しないと考えられる経路を1つ選び、記号で答えなさい。

- ア 中山道 イ 東海道 ウ 西廻り航路 エ 東廻り航路

問9 下線部⑨について、次の図は明治時代中期に起きたノルマントン号事件を示したものです。これについて説明した文X・Yの正誤の組み合わせとして適切なものを下のア～エより選び、記号で答えなさい。

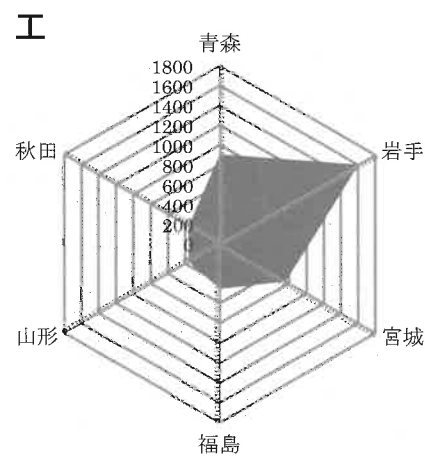
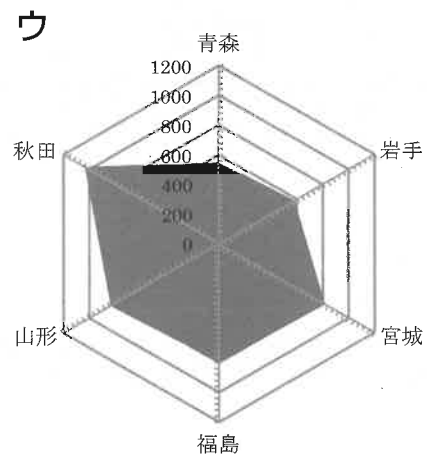
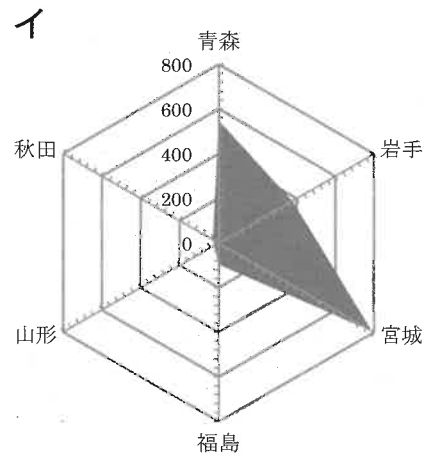
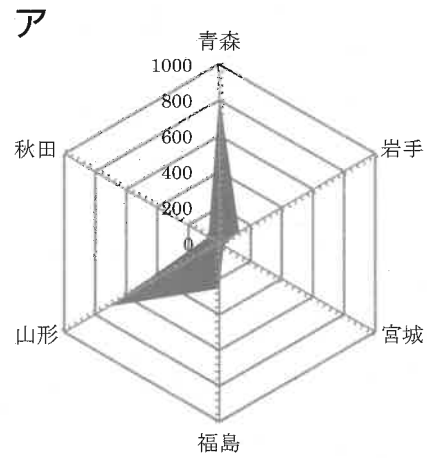


X この事件によって関税自主権の回復が日本国内で強く求められるようになった。
 Y この事件を受けて岩倉使節団が欧米に^{はけん}派遣されることになった。

- ア X-正 Y-正 イ X-正 Y-誤
 ウ X-誤 Y-正 エ X-誤 Y-誤

3 東北地方に関する次の各問いに答えなさい。

問1 次の図ア～エは東北6県の果実、漁業、米、畜産の産出額のいずれかを比較したものです。畜産の産出額にあたるものをア～エより1つ選び、記号で答えなさい。



数値の単位は億円。統計年次は2018年。
『日本国勢図会』により作成。

問2 東北6県はすべて海に面しています。解答らんにある山形県の図のうち、海岸線にあたる部分を実線でなぞりなさい。

問3 東北地方には、「富士」と呼ばれる山がいくつかあります。そのうち、次の図に示された岩木山を説明した文を下のア～エより1つ選び、記号で答えなさい。




- ア 猪苗代湖のある南側から見た姿が「会津富士」と形容され、民謡にもうたわれている。北側では噴火によって山が崩れ、岩くずにせき止められてできた色とりどりの湖が存在する。
- イ 山頂に雪が積もった姿から「出羽富士」と呼ばれる。東北地方で2番目に高い山で、夏でも溶けない万年雪が見られる。古くから信仰の対象であり、山伏の修業の場でもあった。
- ウ 「津軽富士」と呼ばれ、古くから信仰の対象にもなってきた。太宰治が「十二単を拵げたよう」と、その美しい山容をたたえている。
- エ 長いすそ野を引く形が富士山に似ているが、片側が削げたように見えることから、「南部片富士」と呼ばれる。石川啄木が「ふるさとの山」と詠み、宮沢賢治の作品にも登場する。

問4 東北地方では「東根さくらんぼ」「大鰐温泉もやし」など地理的表示（GI）保護制度に登録された食品の生産が見られます。次のア～エの、全国のGI登録食品と生産されている都道府県の組み合わせとして適切でないものを1つ選び、記号で答えなさい。


- ア 奥飛騨山之村寒干し大根 — 岐阜県
- イ 大山ブロッコリー — 石川県
- ウ 対州そば — 長崎県
- エ 但馬牛 — 兵庫県

問5 東北地方では、東北三大祭りをはじめとする祭りがさかんで、県外からも見物客が訪れます。全国にも有名な祭りがあり、次の図ア～エとその説明は、^{ぎおん}祇園祭、博多^{ぎおん}祇園山笠、仙台七夕まつり、長崎くんちのいずれかのものです。長崎くんちにあたるものをア～エより1つ選び、記号で答えなさい。

ア 伊達政宗が藩内で年中行事を^{すいしょう}推奨したことに始まるとされる。



イ 平安時代に始まり、応仁の乱で一時中断するも町衆が中心となり再興した。



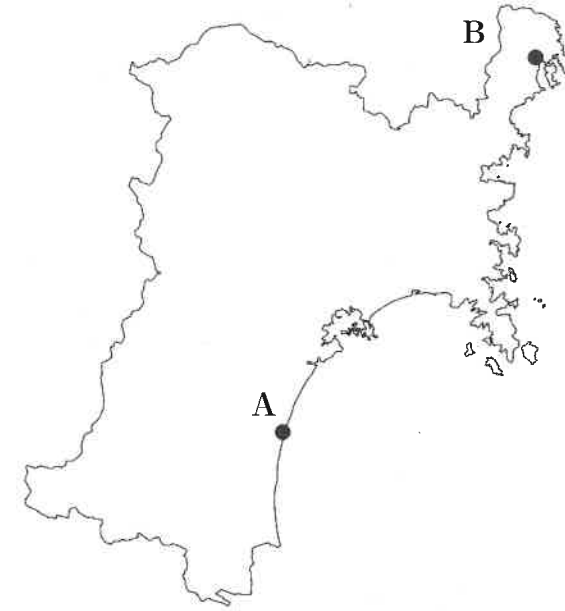
ウ はじめは「^{かざ}飾り山」の華美を競っていたが、担いでスピードを競う「追山」に変化した。



エ ^{すわ}諏訪大社の秋季大祭。奉納踊に異国趣味が取り入れられているのが特徴。



問6 東北地方太平洋沖地震で発生した津波に際しての、図中A・Bの地域での状況が下のア、イで述べられています。Bの地域のものをア、イより1つ選びなさい。また、そのようなことが起こった原因をA・B地域の地形に注目して説明しなさい。

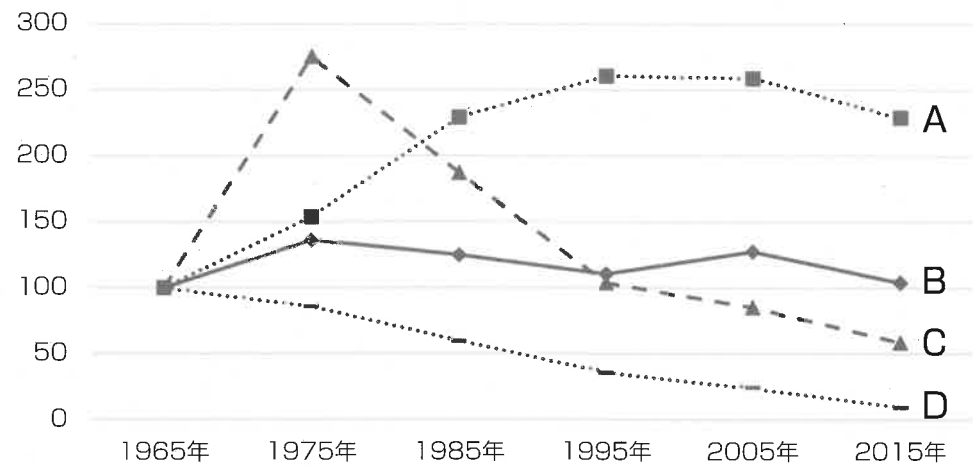


ア 津波は海岸から4km内陸にまでも達し、^{しんすい}広範囲が浸水被害を受けた。

イ 津波は20m近い高さとなって護岸を乗り越え、集落に大被害をもたらした。

4 1964年から約50年を経て、2021年には東京で2度目となるオリンピックが^{かいさい}開催されました。2度のオリンピックの間に起こった生活や社会の変化に関して、次の各問いに答えなさい。

問1 次の図は、1965年の値を100とした場合の生産量の推移を表したグラフです。A～Dは、生乳、茶、葉たばこ、みかんのいずれかです。また、下のア～エはそれぞれの推移の背景を説明した文です。グラフのAの説明を下のア～エより1つ選び、記号で答えなさい。



『日本の100年』などにより作成。

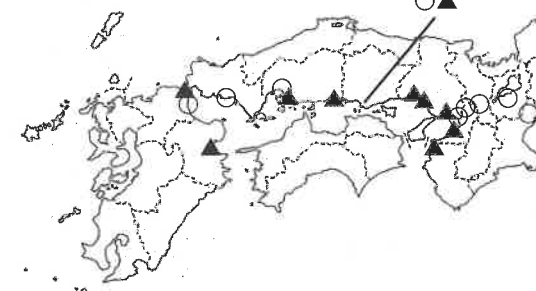
- ア オレンジと牛肉の輸入自由化以降消費量が減り、生産量も減っている。生産者の^{こうれい}高齢化と^{こうけい}後継者不足も深刻である。
- イ 暮らしが豊かになったことにより消費量がいったん増えたが、食生活の多様化によりやや減少した。健康志向の高まりと製品の流通により再び消費量が増えた。
- ウ 製品の輸入が多く、暮らしが豊かになっても国産の生産は増えなかった。健康志向の高まりと社会の変化により製品の消費量が減少している。
- エ 暮らしが豊かになり食生活が多様化したことで消費量が増えたが、生産者の高齢化と後継者不足に加え、生産費用の上昇により生産量が落ち込んでいる。

問2 1960年代に日本の工業は大きく成長をとげましたが、近年では他国の成長もあり厳しい競争にさらされている業種もあります。次のグラフ中のI・IIは、1965年の値を100とした場合の自動車生産台数（四輪車のみ）と、粗鋼生産高（単位：トン）の推移を表しており、図中のP・Qは西日本における自動車工場と製鉄所のいずれかの分布の変化を表しています。自動車にあたるグラフと分布の組み合わせとして適切なものを下のア～エより1つ選び、記号で答えなさい。



『日本国勢図会』により作成。

1975年



2020年



○：P
▲：Q

自動車・鉄鋼各社のホームページより作成。

- ア I - P イ I - Q ウ II - P エ II - Q

問3 2011年に発生した東日本大震災や、地球温暖化の問題により、「エネルギーシフト」に注目が集まっています。次の表ⅠとⅡは福井県と福島県いずれかの発電の内訳を表しており、表中のXとYには2016年か2020年のいずれかが当てはまります。福島県と2020年にあたるものの組み合わせとして適切なものを下のア～エより1つ選びなさい。

Ⅰ						Ⅱ (単位：百万kW時)					
	原子力	水力	風力	太陽光	その他(火力など)		原子力	水力	風力	太陽光	その他(火力など)
X	—	5,964	328	1,182	47,186	X	15,335	1,676	42	29	7,878
Y	—	5,084	360	183	48,564	Y	—	1,340	16	14	9,134

資源エネルギー庁の資料により作成。

ア I - X イ I - Y ウ II - X エ II - Y

問4 2000年代に入ると新しいメディアの普及により、新聞やテレビなどのマスメディアのあり方にも変化が生じています。この変化をもたらした、世界各地のコンピュータ同士を相互に結ぶ情報通信網のことを何とよぶか答えなさい。

問5 次の資料1を見ると、1965年から2019年の間に、稲作にかかる時間は大きく短縮されたことがわかります。資料2を参考にしてその要因を述べなさい。また、今後稲作にかかる時間がどうなっていくかを、資料3も参考にして予想し、答えなさい。

資料1 米の作業別労働時間の年ごとの比較 (10a当たり)

区分	種子播	本田耕起及び整地	基肥	田植	除草	かん排水	稲刈り及び脱穀	その他
1965年	0.6	14.4	5.6	24.3	17.4	12.0	47.9	123.3
1975年	0.5	9.2	3.5	12.2	8.4	9.9	21.8	66.8
1985年	0.5	6.8	2.3	7.3	4.3	9.2	11.2	43.1
1995年	0.5	5.0	1.3	5.7	2.0	7.7	6.6	29.6
2005年	0.4	3.9	1.0	4.1	1.6	6.8	4.3	22.6
2015年	0.2	3.3	0.7	3.1	1.3	6.0	3.0	17.9
2019年	0.2	3.2	0.7	2.8	1.1	5.7	2.7	16.7

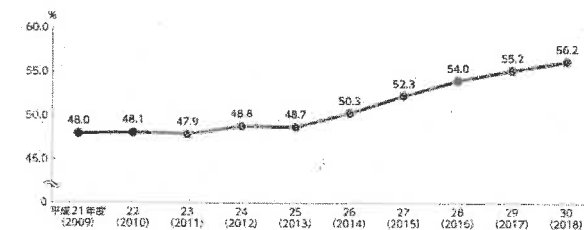
単位：時間

資料2 稲の生長と米づくりの様子



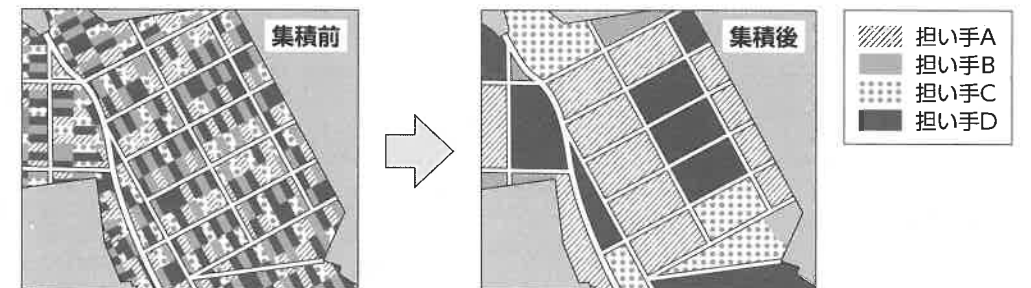
資料3 農地集積の動き

農地集積率の推移



農水省の資料より

農地集積の例



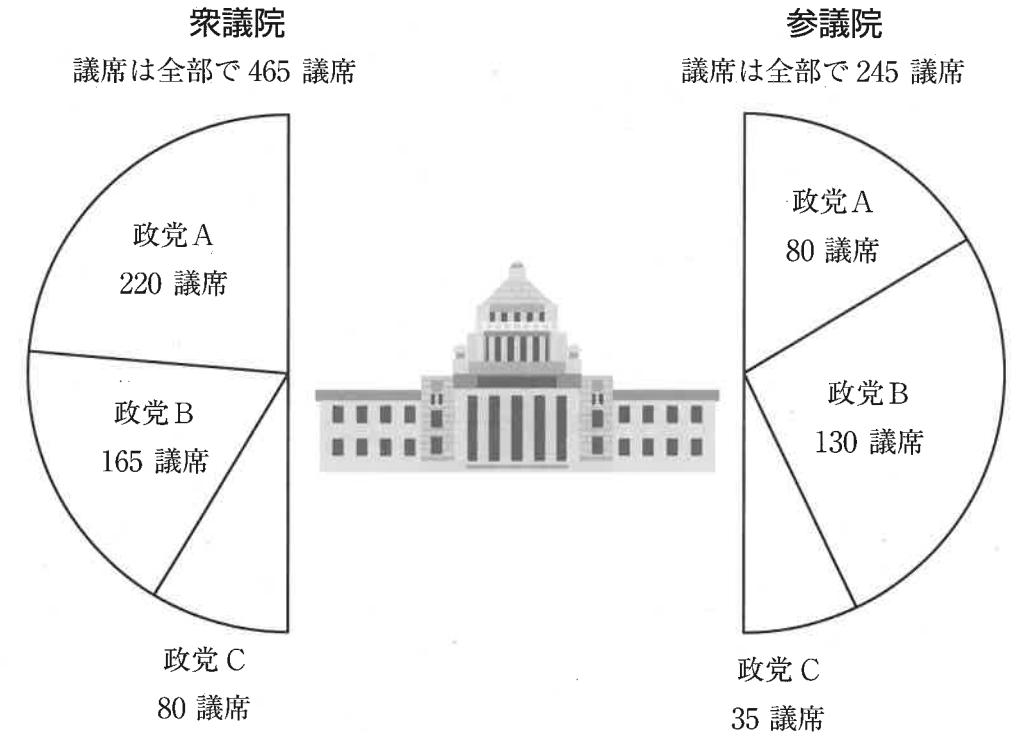
5 新型コロナウイルスに関する動きをまとめた次の表を見て、あとの問いに答えなさい。

年	月日	できごと
2020年	3月13日	① 新型インフルエンザ等対策特別措置法を新型コロナウイルス感染症へ適用対象拡大。
	4月7日	新型インフルエンザ等対策特別措置法の規定に基づき、新型コロナウイルス感染症に関する緊急事態を、当時の安倍晋三首相が宣言。③ 都道府県知事が住民に外出自粛を要請したり、施設・店舗の休業やイベントの中止を要請・指示したりできるようになる。
	4月30日	特別定額給付金のための補正④ 予算が成立。一律に1人あたり現金10万円を給付することが決まる。
2021年	1月13日	外国人の新規入国を停止。
	2月17日	医療従事者や高齢者などを対象に⑥ 新型コロナワクチン接種が開始。
	4月1日	新型コロナウイルス感染症まん延防止等重点措置に関する公示。

問1 下線部①に関連して、次のア～エより法律案や法律について述べた文として正しいものをすべて選び、記号で答えなさい。

- ア 法律案は参議院よりも衆議院に先に提出して、審議と議決を経なければならない。
- イ 法律案を国会に提出できるのは内閣と国会議員である。
- ウ 法律案が国会で可決されると、内閣の助言と承認により天皇が公布する。
- エ 法律は最高裁判所の判決によって、なくしたり変えたりできる。

問2 下線部②について、衆議院と参議院における政党ごとの議席数が次の図のようになっているとき、内閣総理大臣（首相）の指名に関して述べた文として適切なものを、下のア～エより1つ選び、記号で答えなさい。



- ア 首相指名で他の政党の協力を得なくても党首を首相にできるのは政党 A だけである。
- イ 首相指名で他の政党の協力を得なくても党首を首相にできるのは政党 B だけである。
- ウ 首相指名で政党 C は政党 A か政党 B の一方だけでも協力を得ると党首を首相にできる。
- エ 首相指名で政党 C だけは他の政党の協力を得ても党首を首相にできない。

問3 下線部③について、都道府県知事に関して述べた文として正しいものを次のア～エより1つ選び、記号で答えなさい。

- ア 都道府県知事は住民による選挙により選出され、立候補することができる年齢は満25歳以上である。
- イ 都道府県知事は、都道府県議会の議員を辞めさせる権限がある。
- ウ 都道府県知事は、解職を求める住民の署名が一定割合以上集まって選挙管理委員会に提出されると辞任しなければならない。
- エ 都道府県知事は、都道府県議会で不信任決議案が可決されると、その議会を解散することができる。

問4 下線部④に関連して、日本政府の予算や財政について述べた文として適切でないものをア～エより1つ選び、記号で答えなさい。

- ア 高所得の人からは高い税率で税金を集めることで、格差を小さくすることができる。
- イ 国債や株式を買ってその代金を世の中に広めることで、景気対策を行うことができる。
- ウ 税金を使って道路や施設をつくることで、国民に必要なものを供給することができる。
- エ 生活に困っている人にお金を出すことで、最低限度の生活が営めるようにすることができる。

問5 下線部⑤について、新型コロナウイルスのワクチンは、アメリカやイギリスで生産されたものを多く輸入しています。輸出や輸入に関して述べた文として適切でないものを次のア～エより1つ選び、記号で答えなさい。

- ア 1980年代にアメリカが、日本製の自動車の輸出を減らすように日本に要望したことがあった。
- イ 1980年代にアメリカが、アメリカ産の農産物の輸入を増やすように日本に要望したことがあった。
- ウ 2000年代に中国が、自国の農家を守るために日本から輸入している農産物の輸入を一時的に止めることがあった。
- エ 2000年代に中国は、アメリカに代わり日本にとっての最大の輸入相手国になった。

問6 新型コロナウイルスに関する情報を集め、ワクチン接種を促すなどの対策をしていた世界保健機関（WHO）は、国際連合の専門機関です。国際連合の専門機関であるものを、次のア～エより1つ選び、記号で答えなさい。

- ア 国際通貨基金
- イ 国境なき医師団
- ウ 青年海外協力隊
- エ 赤十字社

問7 新型コロナウイルスの感染者が増えるのを防ぐために、海外からの入国者は隔離され、外出が認められないこともありました。このように自由や権利を制約することを認めることは、憲法で規定している という考えに基づくとされています。空らんには当てはまる言葉を5文字で答えなさい。

↓ここにシールを張ってください↓

受験番号			

名前	
----	--

2022年度 須磨学園中学校 第1回入学試験解答用紙 社会

(※のらんには、何も記入してはいけません)


1

問1	と	問2		問3	
問4		問5		問6	
問7	→ → → →	B		※	

2

問1	問2	問3		
問4	問5	問6		※
問7	問8	問9		

3

問1	問2			
問3	問4	問5		
問6	状況			
	説明			
※				

4

問1	問2	問3	
問4			
問5			
※			

5

問1	問2	問3	問4
問5	問6	問7	

※

※