

問1 下線部①について、次のア～エの文は各時代の地方の政治を説明したものです。このうち、あやまりをふくむものを1つ選び、記号で答えなさい。

- ア 奈良時代、国ごとに置かれた国司は、おもに中央の貴族が派遣され、その地位についた。中には、地方に暮らす農民の貧しい生活を嘆き、歌に詠んだ国司もいた。
- イ 鎌倉時代の地頭は、農村で税の取り立てをおもな仕事とした。税を出さぬ者を、刀で鼻や耳をそぐと脅し、厳しく取り立てた。
- ウ 戦国時代、室町幕府から独立した守護大名や下克上でその地位に就いた戦国大名が各地を支配し、分国法にもとづいて領地を治めた。
- エ 江戸時代、地方を治める幕府や藩が、開墾による新田開発、草木灰や牛馬糞などの新技術の導入、楮・藍・紅花などの栽培により、農業生産を飛躍的にのばした。

問2 下線部②について、地方ではしばしば反乱や戦争が起きました。次のA～Dの内容を古い順に並べかえたとき、正しい組み合わせを下のア～オから選び、記号で答えなさい。

- A 下総の国では平将門が反乱を起こし、自らを「新皇」と名のる。
- B 加賀の国では、浄土真宗の信者による一揆がおき100年間にわたって自治が行われた。
- C 米価の高騰により生活苦に陥った主婦たちが立ち上がった暴動を、新聞が「越中女一揆」と報じると、全国に暴動がひろがった。
- D 上越戦争とは、新旧勢力の間で、鳥羽伏見の戦いから始まり、日本各地で戦われた戦争の一部である。

- ア A→B→D→C イ A→D→B→C
 ウ B→A→C→D エ B→A→D→C
 オ D→A→B→C

問3 下線部③について、越前国には日本を代表する寺院があり、今でも多くの僧侶が修行に取り組んでいます。次の表は、平安時代から鎌倉時代にかけて人々の間で信仰を集めた仏教をまとめたものです。表を見て下の各問いに答えなさい。

仏教の宗派	寺院	新しい宗派を開いた僧	
平安時代の密教	A	①	②
念仏をとらえる宗派	B	③	④
鎌倉時代の禅宗	C	⑤	⑥

(1) 表中のA～Cに入る寺院の正しい組み合わせを次のア～エから1つ選び、記号で答えなさい。

- ア A 延暦寺 B 四天王寺 C 平等院
 イ A 平等院 B 金剛峯寺 C 唐招提寺
 ウ A 永平寺 B 延暦寺 C 中尊寺
 エ A 金剛峯寺 B 本願寺 C 永平寺

(2) 表中の①～⑥に入る僧侶の正しい組み合わせを次のア～エから1つ選び、記号で答えなさい。

- ア ① 最澄 ③ 法然 イ ② 空海 ⑥ 最澄
 ウ ③ 空海 ⑤ 栄西 エ ⑤ 道元 ⑥ 親鸞

問4 下線部④について、右の写真の人物は「豊前」の中津藩の藩士の子どもとして生まれ、後に「天は人の上に人をつくらず、人の下に人をつくらず」の言葉からはじまる書物を出版しました。この人物名を漢字で答えなさい。



問5 文中の空らん [⑤] について、奈良時代の政治の特色を、国の名前から読み取り、空らんに入る文として、最も適しているものを次のア～エから1つ選び、記号で答えなさい。

- ア 朝廷が国に優劣の差をつくり、税制や自治権にも違いがある
- イ 都を中心に国が配置され、中央集権的な
- ウ 地方にも、かなりの自治権を分け与える
- エ 同じ文字が用いられた国がまとまり、連合して治める

問6 文中の空らん [⑥] に入る文として、最も適しているものを次のア～エから1つ選び、記号で答えなさい。

- ア この地を治める豪族に力を与えるため、広い領地をみとめた
- イ 納税が期待できないので、重要視されていなかった
- ウ 特産物を自由に交易するため、広大な土地に区切った
- エ 多くの役人を派遣するのが難しかったので、国を2つだけにした

問7 下線部⑦について、「近江国」には天智天皇により大津の宮が置かれました。次のA～Dは、その前後の時代に起きた出来事です。古い順に並べかえたとき、正しい組み合わせを下のア～エから選び、記号で答えなさい。

- A 大宝律令が制定される
- B 天智天皇が即位する
- C 墾田永年私財法が定められる
- D 白村江の戦いが起きる

- ア A→D→B→C
- イ B→D→A→C
- ウ C→A→D→B
- エ D→B→A→C

問8 下線部⑧について、明治になると隣国の中国と新たな外交が結ばれました。次のア～エの資料は、明治から戦後にかけての、日本と中国の外交関係に関するものです。古い順に並べかえたとき、3番目にくるものを選び、記号で答えなさい。

ア	<ul style="list-style-type: none"> ・中国政府は、ドイツがシャントン省に持っている、いっさいの権利を日本にゆずること。 ・日本の旅順・大連の租借の期限、南満州鉄道の利権の期限を99か年延長すること。
---	--

イ	<p>第一条 日本と清は友好を深め、たがいに領土を侵略することなく、永遠の安全を保証する。</p> <p>第二条 もし他国から不公平なあつかいを受けたときは、たがいに援助しあう。</p>
---	---

ウ	<p>第一条 両国は、主権および領土保全の相互尊重、相互不可侵、内政に関する相互不干渉、平等および互恵ならびに平和共存の諸原則の基礎の上に、両国間の平和友好条約を発展させるものとする。</p>
---	--

エ	<p>第一条 清は朝鮮が完全無欠な独立自主の国であることを確認する。</p> <p>第二条 清は次の土地の主権と、その地方にある城堡、兵器製造所および官有物を永遠に日本に分け与えるものとする。</p> <ul style="list-style-type: none"> 1 遼東半島 2 台湾全島およびその付属諸島 3 澎湖諸島
---	--

2 次の表は、おもな内閣総理大臣とその就任期間、その期間内に起きた重要なできごとを示しています。表を見て各問いに答えなさい。

内閣総理大臣	就任期間	重要なできごと
伊藤 博文	1885～1888	初代内閣総理大臣につく
黒田 清隆	1888～1889	①大日本帝国憲法が制定される
伊藤 博文	1892～1896	< F >
A	1918～1921	最初の本格的な政党内閣
B	1924～1926	②普通選挙法・< G >
C	1931～1932	五・一五事件
鈴木 貫太郎	1945	ポツダム宣言
D	1946～1947	< H >
佐藤 栄作	1964～1972	沖縄返還・< I >
E	1972～1974	日中共同声明
竹下 登	1987～1989	消費税の導入

問1 表中のA～Eに入る内閣総理大臣の正しい組み合わせをア～エから選び、記号で答えなさい。

- | | | | | |
|---|--------|--------|--------|--------|
| ア | A 大隈重信 | B 原 敬 | C 犬養毅 | D 細川護熙 |
| イ | A 原 敬 | B 加藤高明 | D 吉田茂 | E 田中角栄 |
| ウ | A 原 敬 | C 犬養毅 | D 田中角栄 | E 細川護熙 |
| エ | B 加藤高明 | C 東条英機 | D 近衛文磨 | E 吉田茂 |

問2 表中の< F >～< I >に入る語句の組み合わせとして正しいものをア～エから選び、記号で答えなさい。

- | | | |
|---|---------------|---------------|
| ア | F 第1回帝国議会の開催 | G 対華二十一箇条の要求 |
| | H 東京裁判の開催 | I 雑誌「青鞥」の創刊 |
| イ | F 日清戦争の開戦 | G 治安維持法の制定 |
| | H 日本国憲法の公布 | I 非核三原則 |
| ウ | F 自由民権運動の開始 | G 国家総動員法の制定 |
| | H 警察予備隊の設立 | I 東京オリンピックの開催 |
| エ | F 下関講和条約が結ばれる | G 日比谷焼きうち事件 |
| | H 日米安全保障条約の成立 | I 日韓基本条約の調印 |

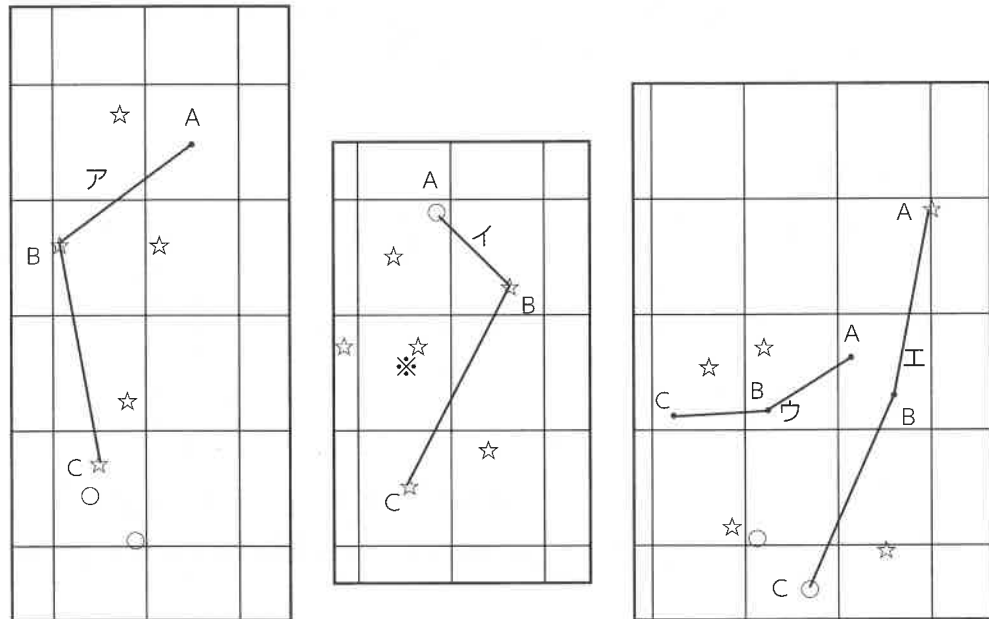
問3 表中の下線部①について、大日本帝国憲法は何という国の憲法を模範につくられましたか。その国名を答えなさい。当時の国名でも、現在の国名でもかまいません。

問4 表中の下線部②について、この法律の制定により選挙権はどのような人に与えられましたか。次のア～エから正しいものを1つ選び、記号で答えなさい。

- ア 満25歳以上のすべての国民に選挙権が与えられた。
- イ 満20歳以上の男子で直接国税15円以上を納める者に選挙権が認められた。
- ウ 満25歳以上で直接国税15円以上を納める者に選挙権が与えられた。
- エ 納税額の制限はなくなったが、女性には選挙権が与えられなかった。

3 次の各問いに答えなさい。

問1 次の図は、日本の3つの地方を緯線と経線（1°間隔）で示した地図です。☆と○は地方の中で人口が上位7位に入る都市を、・はその他の地点を表します。また、☆は県庁所在地、○はそうでない都市を表しています。



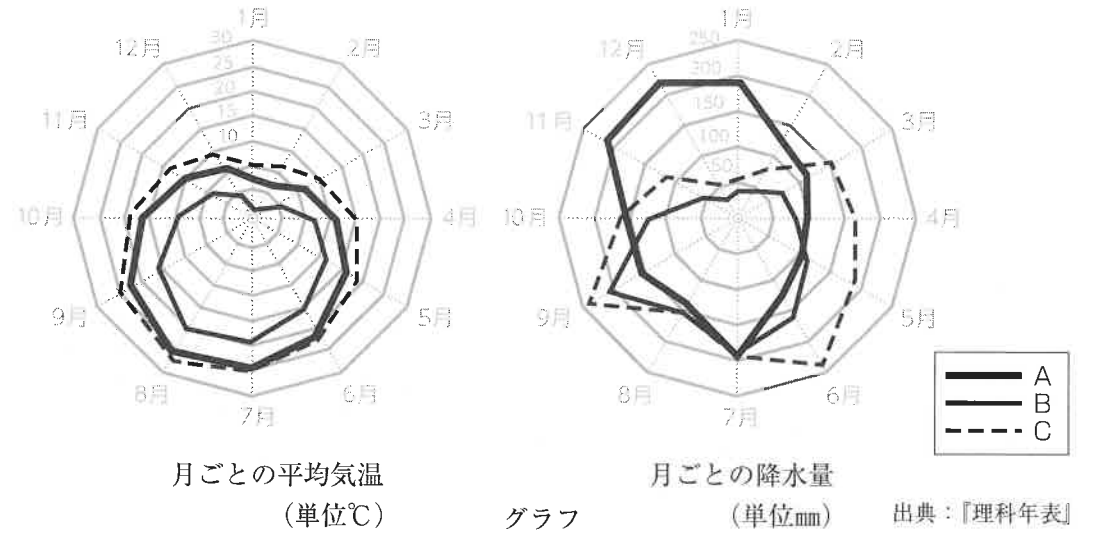
図

(1) 図中の※印に河口が位置する河川を次のア～エから選び、記号で答えなさい。

ア 紀ノ川 イ 球磨川 ウ 筑後川 エ 淀川

(2) 図で示された3つの地方のうち、1つは高速道路を利用して製品の輸送が可能のため、集積回路（IC）の工場が多く進出しています。このことから、この地方を何と呼んでいますか。

(3) 次の2つのグラフは、図中のいずれかの3都市の月ごとの平均気温と降水量を表しています。グラフで示したA～Cの都市の正しい組み合わせを、図中のア～エから選び、記号で答えなさい。



問2 次の表は、東京都の卸売市場おろしうりのかぼちゃと白菜の月別の仕入れ先の上位5位までを表しており、AとBにはかぼちゃか白菜のいずれか、XとYには1月か7月が当てはまります。

A		B	
X	Y	X	Y
茨城	長野	メキシコ	茨城
群馬	群馬	鹿児島	鹿児島
兵庫	茨城	北海道	神奈川
埼玉	北海道	沖縄	メキシコ
愛知	山梨	コロンビア	栃木

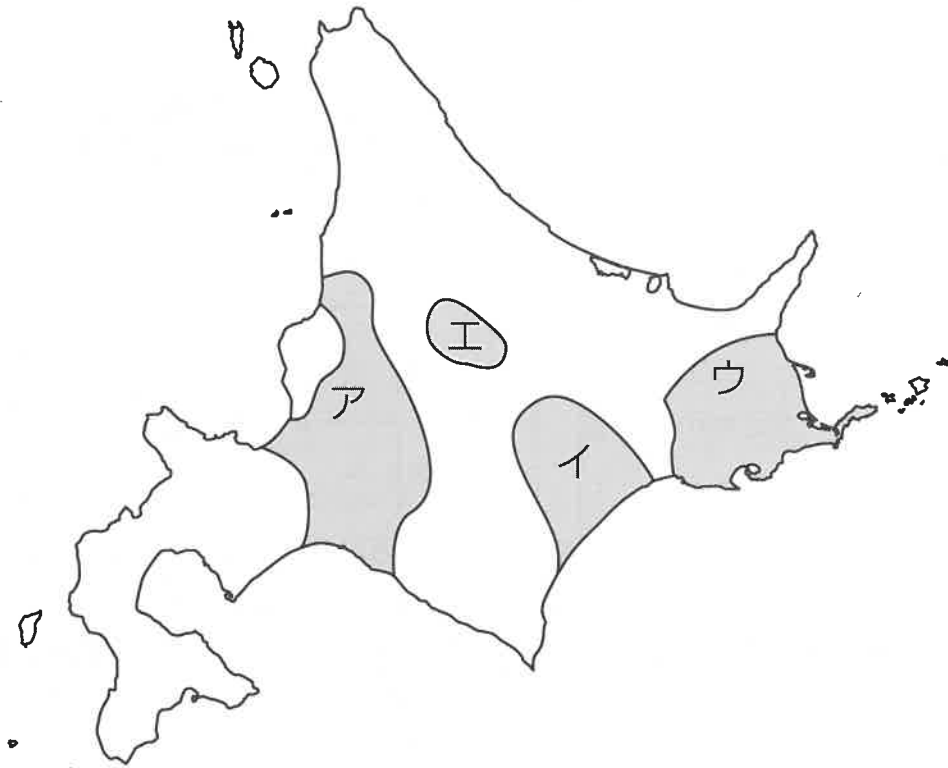
表

出典：『東京都卸売市場の資料』により作成

(1) 白菜の7月にあたる組合せを次のア～エから選び、記号で答えなさい。

ア A-X イ A-Y ウ B-X エ B-Y


(2) 表を見ると、A・Bの野菜は北海道でもさかんに栽培されているのが分かります。次の地図は、北海道で農業がさかんな地域を示しています。地図中のア～エのうち、野菜をはじめとする畑作がもっともさかんな場所を選び、記号で答えなさい。



(3) 表を見ると、茨城、群馬、兵庫、埼玉、神奈川など、大都市周辺で白菜やかぼちゃが栽培されていることが分かります。大都市周辺でおこなわれる野菜などを栽培する農業を特に何と言いますか。

問3 日本の発電に関する次の問いに答えなさい。

(1) 次のグラフは、日本の総発電量に占める水力発電・火力発電・原子力発電の割合を示したものです。各発電の正しい組み合わせを下のア～カから選び、記号で答えなさい。



	ア	イ	ウ	エ	オ	カ
水力発電	A	A	B	B	C	C
火力発電	B	C	A	C	A	B
原子力発電	C	B	C	A	B	A

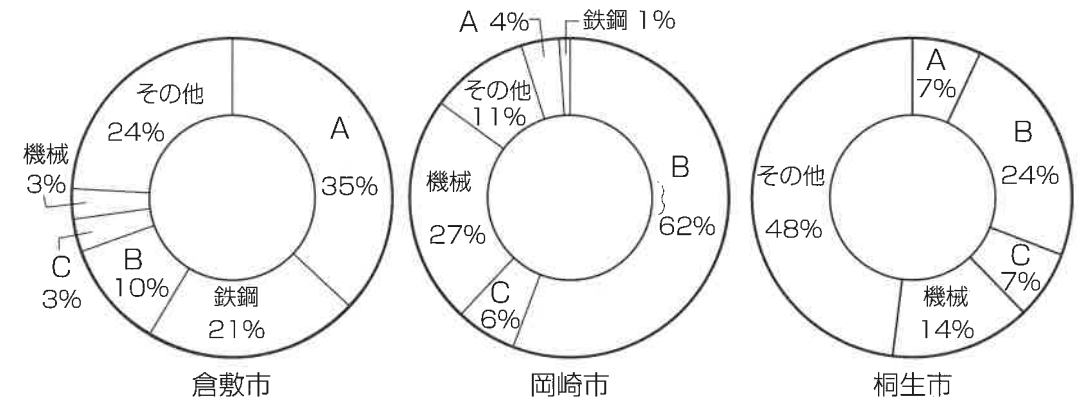
統計年：2017年
出典：『日本国勢図会』

(2) 次の図は、日本の風力発電所（3万kW以上）の分布を示したものです。この図によると、大規模な風力発電所の多くは、風をさえぎるものが少ない海沿いに立地していることが分かります。このこと以外で、立地場所として共通する特徴を説明しなさい。



問4 日本の産業に関する次の問いに答えなさい。

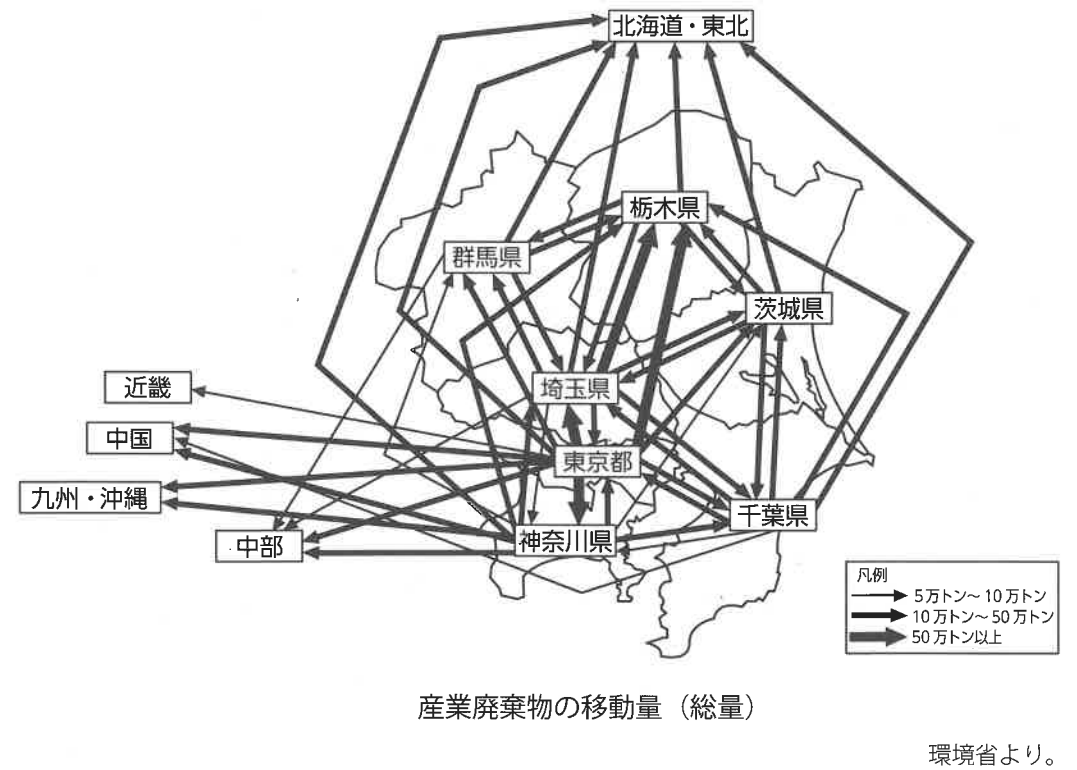
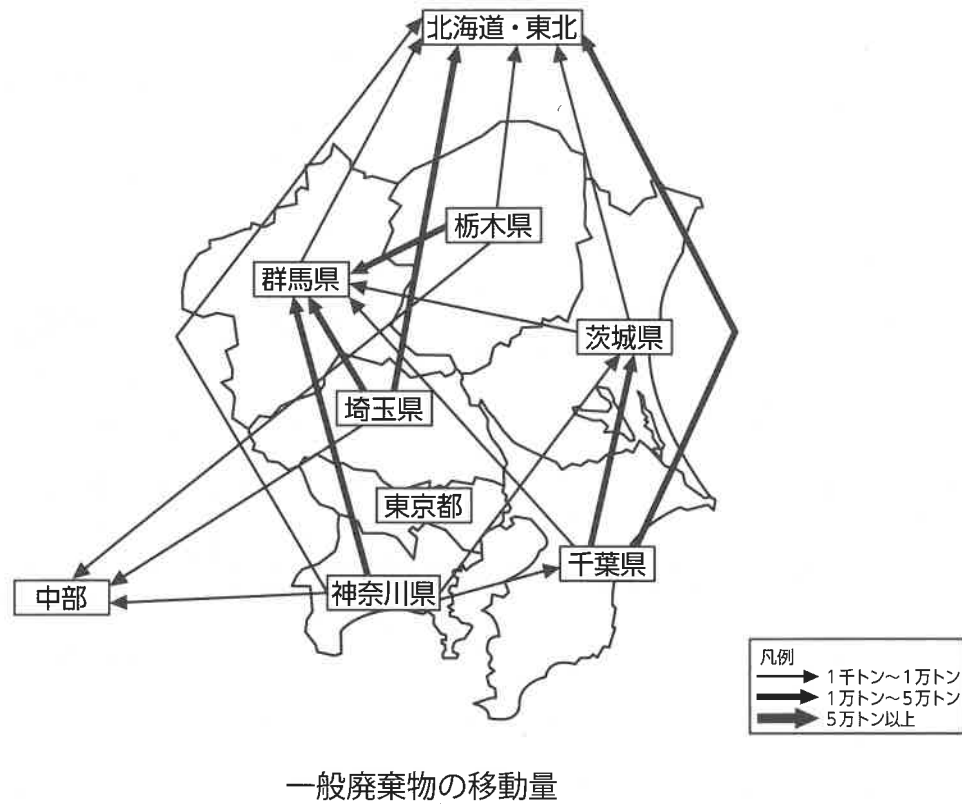
(1) 次のグラフは、倉敷市（岡山県）と、岡崎市（愛知県）、桐生市（群馬県）の製造品出荷額の内訳を表しています。グラフ中のA～Cには石油化学、せんい、輸送用機械のいずれかが入ります。正しい組合せを、あとのア～カから選びなさい。



統計年：2016年 出典『工業統計表市町村編』により作成

	ア	イ	ウ	エ	オ	カ
A	石油化学	石油化学	せんい	せんい	輸送用機械	輸送用機械
B	せんい	輸送用機械	石油化学	輸送用機械	石油化学	せんい
C	輸送用機械	せんい	輸送用機械	石油化学	せんい	石油化学

(2) 次の図は、関東地方の一般廃棄物と産業廃棄物の都道府県をこえての移動を表しています。次ページのア～エの文は、図の内容を説明するものです。このうちあやまりをふくむものを1つ選び、記号で答えなさい。



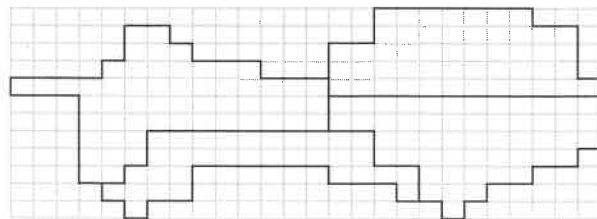
- ア 東京都の一般廃棄物の排出量は多いが、処理施設が整っているため、ほぼすべてを都内で処理できている。
- イ 東京都は他県の産業廃棄物の処理を行っているが、都から排出された産業廃棄物が他県で処理されている量の方が多い。
- ウ 関東地方から出た産業廃棄物を最も多く処理しているのは、関東地方内では栃木県となっている。
- エ 茨城県から搬出される産業廃棄物の総量は東京都から搬出される産業廃棄物の総量よりも多い。

問5 次の各資料は、四国地方の林業従事者に関するものです。資料と説明文に注意して最後の「問い」に答えなさい。

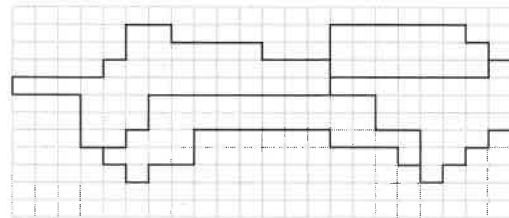
◎ 次の〔図Ⅰ〕は四国4県の地図であり、〔図Ⅱ〕は低地面積を、〔図Ⅲ〕は農林業就業者数を、その数値の大きさを面積で示した地図です。



〔図Ⅰ〕



〔図Ⅱ〕



〔図Ⅲ〕

◎ 次の写真は、林業従事者を育成するために、高知県が運営している「こうちフォレストスクール」の募集パンフレットの一部分です。



高知県HPより作成

◎ 次の表は、林業への就業を目指す人のために開かれた研修に参加した人数のうつりかわりを、4県別に表しています。

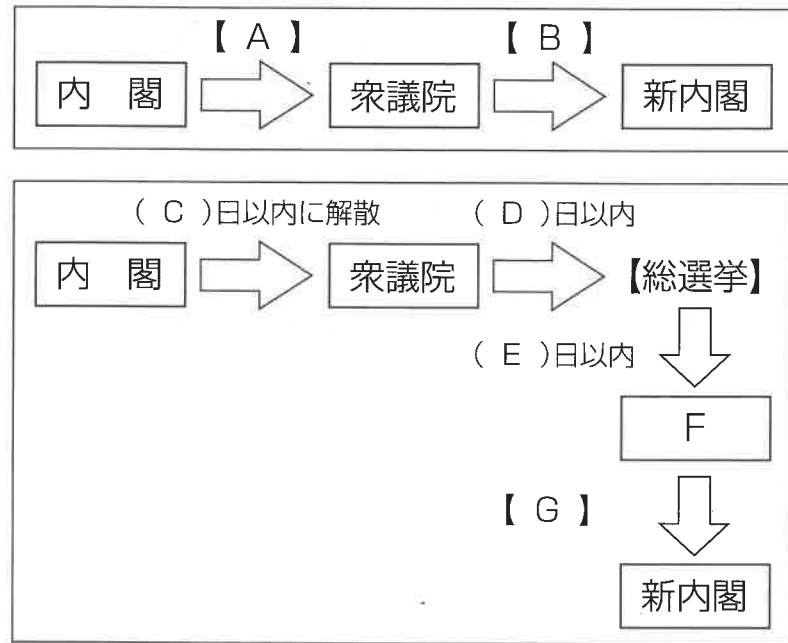
平成	H15	H16	H17	H18	H19	H20	H21	H22	H23	H24	H25	H26	H27	H28	H29
徳島県	56	57	28	10	16	16	12	16	8	22	11	12	15	11	22
香川県	0	10	4	3	5	2	5	5	0	5	4	5	4	4	4
愛媛県	42	42	23	22	47	34	60	43	45	44	14	13	28	25	36
高知県	88	103	57	43	63	104	98	136	95	64	40	52	50	35	52

「緑の雇用」RINGYOU.NETの資料より

問い 上の表を見ると、高知県の林業への新規就業者数がほかの3県より多くなっているのが読みとれます。その理由を考え説明しなさい。

4 次の各問いに答えなさい。

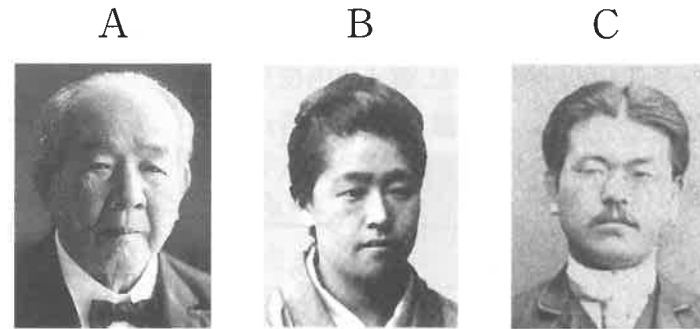
問1 衆議院で内閣不信任案が可決されたときに、内閣は次の図のように2つの方法をとることができます。図の説明としてあやまっているものを、下のア～エから1つ選び、記号で答えなさい。



- ア Aには「内閣の総辞職」、Bには「内閣総理大臣の指名」があてはまる。
- イ Cには「30」、Dには「40」、Eには「10」があてはまる。
- ウ Fには「特別国会」、Gには「内閣総理大臣の指名」があてはまる。
- エ この図は、国会と内閣が連帯して責任をおう議院内閣制度を表したものである。

問2 裁判所では、判決に不満があるときには最大3回まで裁判を受けることができます。このしくみを何といいますか。解答らんにあわせて漢字2字で答えなさい。

問3 次のA～Cの写真は、新しい紙幣の肖像に採用された人物です。各人物の名前を下のア～カから、功績を①～⑤から、それぞれ選び、記号で答えなさい。



産経ニュースより

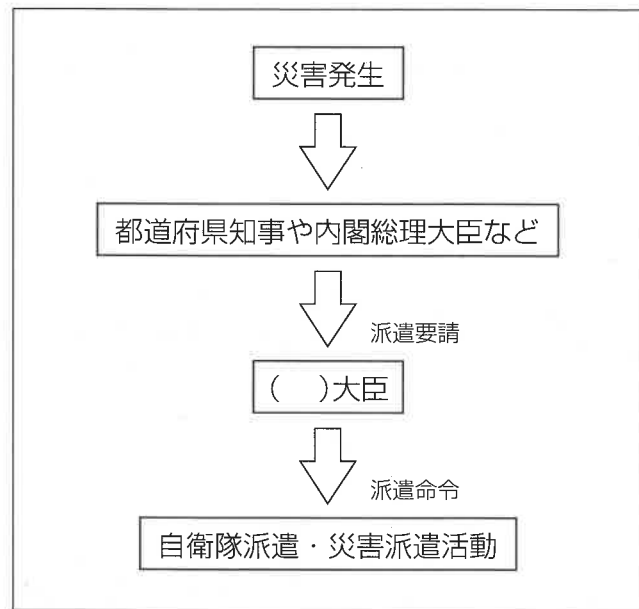
- ア 北里柴三郎
- イ 新渡戸稲造
- ウ 野口英世
- エ 樋口一葉
- オ 渋沢栄一
- カ 津田梅子

- ① 結核の予防や細菌学の研究をおこない、近代の医学を発展させた。
- ② 「君死にたまうことなかれ」という言葉をのこして、反戦運動をおこなった。
- ③ 岩倉使節団に参加して海外へ留学し、英語教育に貢献して大学を創立した。
- ④ 日本に資本主義を広めて、約500社の企業の設立にかかわった。
- ⑤ 世界の平和を主張して、国際連盟の事務次長をつとめた。

問4 自然災害に関する次の各問いに答えなさい。

(1) 災害が発生したときの国の対応を説明する次の文・図のうち、空らんにあてはまる言葉を答えなさい。

災害が発生した時に、自衛隊は()大臣の命令によって被災地に派遣されて、捜索や救助をおこなったり、救援物資を輸送して届けたりする活動をおこなっています。



(2) 次のア～エの文は、日本の自然災害への対策を説明するものです。このうちあやまりをふくむものを1つ選び、記号で答えなさい。

- ア 日本の予算のなかには、防災に関する費用がふくまれている。
防災に関する費用は、2018年に西日本で発生した豪雨の被害を受けて、増大している。
- イ 災害が発生したときに、災害用伝言ダイヤルを使うことができる。
災害用伝言ダイヤルは、災害で電話がつながりにくい場合に、声を録音・再生できるサービスである。
- ウ 災害への備えとして、都道府県や市区町村ではハザードマップを作成している。
ハザードマップには、災害のときに危険な場所とともに、避難する場所も記されている。
- エ 近年、災害への対策として、減災という考え方が注目されている。
減災とは、実際に災害が発生したあとに、その被害をできるだけ少なくするよう取り組むことである。

問5 次のア～エの文は、国がおこなう政治(国政)と地方自治体がおこなう政治(地方自治)の違いについて説明したものです。このうちあやまりをふくむものを1つ選び、記号で答えなさい。

- ア 国政は、国会・内閣・裁判所が権力を分立して、互いに抑制しあっている。地方自治は、首長と地方議会が権力を分立して、互いに抑制しあっている。
- イ 国政の首長である内閣総理大臣は、国民が間接的に選ぶことができる。地方自治体の首長は、住民の直接選挙によって選ぶことができる。
- ウ 国会で制定された法律は、裁判所の違憲審査で無効になることがある。
地方自治で制定された条例は、住民投票で無効になることがあるので、裁判所が無効にすることはできない。
- エ 国政で行うべき仕事の一部を、地方自治体が引き受けておこなっている。そのため、国は地方公共団体に補助金を交付している。

問6 2019年5月に、食品ロス削減法^{さくげん}が国会で成立しました。次の問いに答えなさい。

- (1) 食品ロスとは、どのようなことをいいあらわしますか。次の空らんにあてはまる内容を考えて答えなさい。

食品ロスとは、[] にもかかわらず、ごみとして廃棄^{はいき}される食品のこと。

- (2) 次のア～エの文は、「食品ロス」の問題点を説明するものです。このうちあやまりをふくむものを1つ選び、記号で答えなさい。

- ア 食品をごみとして廃棄することで、ごみ処理に多くの費用がかかってしまう。
イ 食品ロスを減らすと、国民の健康を害する可能性がある^{と心配されている}。
ウ 多くの食料を輸入に頼りながら多くの食品を廃棄することで、経済的な無駄^{むだ}が出てしまう。
エ 食品を燃やしたあとの灰を埋め立てることで、環境に悪い影響が出てしまう。

↓ここにシールを貼ってください↓

受験番号

氏名

2020年度 須磨学園中学校 第1回入学試験解答用紙 社会

(※の欄には、何も記入してはいけません)

1

問1		問2		問3 (1)		(2)	
問4				問5		問6	
問7		問8					

※

2

問1		問2		問3		問4	
----	--	----	--	----	--	----	--

※

3

問1	(1)		(2)		(3)	
問2	(1)		(2)		(3)	
問3	(1)		(2)			
問4	(1)		(2)			
問5						

※

4

問1		問2		制					
問3	A	名前	功績	B	名前	功績	C	名前	功績
問4	(1)				(2)				
問5									
問6	(1)				(2)				

※



※