


1 次の文を読み、後の各問いに答えなさい。


山がちで、雨の多い日本には川が多く、たくさんの橋が架けられています。橋は川をはさんだ2つの地域を結び、①人々の交流や理解を促進するものでした。同時に、②文化が交わり、産業が広がる道でもありました。一方で、橋の中には軍事上重要な意味を持つものがあります。③戦いの舞台となったり、④江戸時代、幕府が防衛上の理由で河川に橋をかけることを禁止した例もあります。また、橋は人の出会いや別れの場でもあり、数々の⑤伝説を生んできました。

今日の日本の国土を見ると、河川に架かる橋だけではなく、海峡をこえて島々を結ぶ巨大な橋が建設されています。

問1 下線部①について、右の写真の人物は、日本とアメリカの良好な外交関係に貢献しようと「太平洋の架け橋になる」と言って渡米した人物です。その名前を漢字で答えなさい。



問2 下線部②について、江戸時代に流行した浮世絵には橋がよく描かれています。右の写真は富士山をテーマにした「富嶽三十六景」という画集の一部です。その作者を次のア～エから選び、記号で答えなさい。




- ア 葛飾北斎 イ 歌川広重
- ウ 十返舎一九 エ 近松門左衛門

問3 下線部③について、戦いの舞台となった橋では、日中戦争のきっかけとなる事件がおきた北京郊外にある盧溝橋が有名です。次のア～エの文は、日中戦争・太平洋戦争のころの日本の様子を説明したものです。このうちまちがえているものを1つ選び、記号で答えなさい。

- ア 食料をはじめ生活物資が配給制となり、物不足により生活が苦しくなった。
- イ 都会から地方へ小学生が集団で疎開した。
- ウ 労働運動・差別撤廃運動・婦人解放運動など様々な社会運動がおきた。
- エ 軍人が政治家を弾圧し、軍国主義が国政に広がった。

問4 下線部④について、右の図は江戸時代の日本橋の様子を表しています。日本橋は五街道の起点となった場所です。



- (1) 五街道のうち、江戸と草津（現在の滋賀県）を結ぶ街道を何といいますか。漢字で答えなさい。
- (2) 江戸幕府は軍事上の目的で関所をつくり、江戸に出入りする人々を調べました。特に「入り鉄砲に出女」を厳しく取り締まりました。なぜ、江戸から出ていく女性を厳しく調べたのですか。その理由を説明しなさい。

問5 下線部⑤について、橋にまつわる伝説として、牛若丸^{うしわかまる}伝説があります。牛若丸(後の源義経)が京都の五条大橋で弁慶と対決する話です。次のア～エの文は、源義経が活躍^{かつやく}した時代を説明するものです。このうちまちがえているものを1つ選び、記号で答えなさい。

ア 牛若丸が幼少期^{くらま}を鞍馬寺で過ごしている間、平清盛は武士としてはじめて太政大臣についた。

イ 平清盛は、京から都を福原(現在の神戸市)に一時的にうつした。

ウ 義経は壇ノ浦の戦いで平家を滅ぼした後、兄頼朝に追われ奥州藤原氏に助けを求めた。

エ 平家滅亡後、源頼朝は1192年に征夷大將軍に就^つき、諸国に守護・地頭を置き地方の支配を広げた。

2 次の文を読み、後の各問いに答えなさい。

①北条政子が御家人たちを近くに招^{まね}いてこう言った。

「これが最後の言葉です。亡^なくなった(私の夫)頼朝が②平氏などをたおし、幕府を開いて以来、お前たち③御家人は出世し、豊かになったでしょう。その恩は山よりも高く、海よりも深いはずだ。感謝の気持ちは浅くはなからう。ところが、後鳥羽は悪い部下の言葉にのって理由もなく、義時を討^うてと命ぜられた。武士の名誉^{めいよ}を大事にする者は、④京都で後鳥羽にくついた連中を討ちとって、⑤三代將軍の築^きいてきた幕府の存在のために戦え。」

問1 この史料で北条政子が決起^{けつき}をうながした幕府と上皇との戦いを何といいますか。

問2 下線部①について、北条政子は、尼將軍とよばれ、幕府政治の実権を握りました。次のア～エの文は、女性の活躍や社会問題について説明したものです。このうち正しいものを1つ選び、記号で答えなさい。

ア 津田梅子はアメリカから帰国後、女子教育の普及^{ふきゅう}に力を注いだ。

イ 樋口一葉はロマン主義文学者で『舞姫』などの多くの名作を生んだ。

ウ 現在、女性の国会議員の数は増えて男女同数となっている。

エ 労働基準法の改正によりセクシャル・ハラスメント(セクハラ)の防止が義務化された。

問3 下線部②について、下の絵は、目の見えない僧が、伴奏に合わせて『平家物語』を語る様子を表しています。このような僧を何といますか。




問4 下線部③について、鎌倉時代の御家人の生活を表す絵を、次のア～エから1つ選び記号で答えなさい。


ア




イ



ウ



エ



問5 下線部④について、次の年表は京都に関係した出来事をまとめたものです。このうち、勘合貿易が始まったのは年表中のどの時期ですか。下のア～オから1つ選び、記号で答えなさい。

年代(西暦)	できごと
1338年	足利尊氏が征夷大將軍に就任する
	ア
1392年	南北朝が統一される
	イ
1398年	金閣が建立される
	ウ
1428年	正長の徳政一揆 <small>いっき</small> が起きる
	エ
1467年	応仁の乱がおきる
	オ
1573年	織田信長が足利義昭を京都から追放する

問6 下線部⑤について、次のア～オの人物は、鎌倉・室町・江戸幕府の将軍です。このうち三代将軍をつとめたものを1つ選び、記号で答えなさい。

- ア 足利義政 イ 源頼朝 ウ 徳川吉宗
エ 徳川家光 オ 足利尊氏

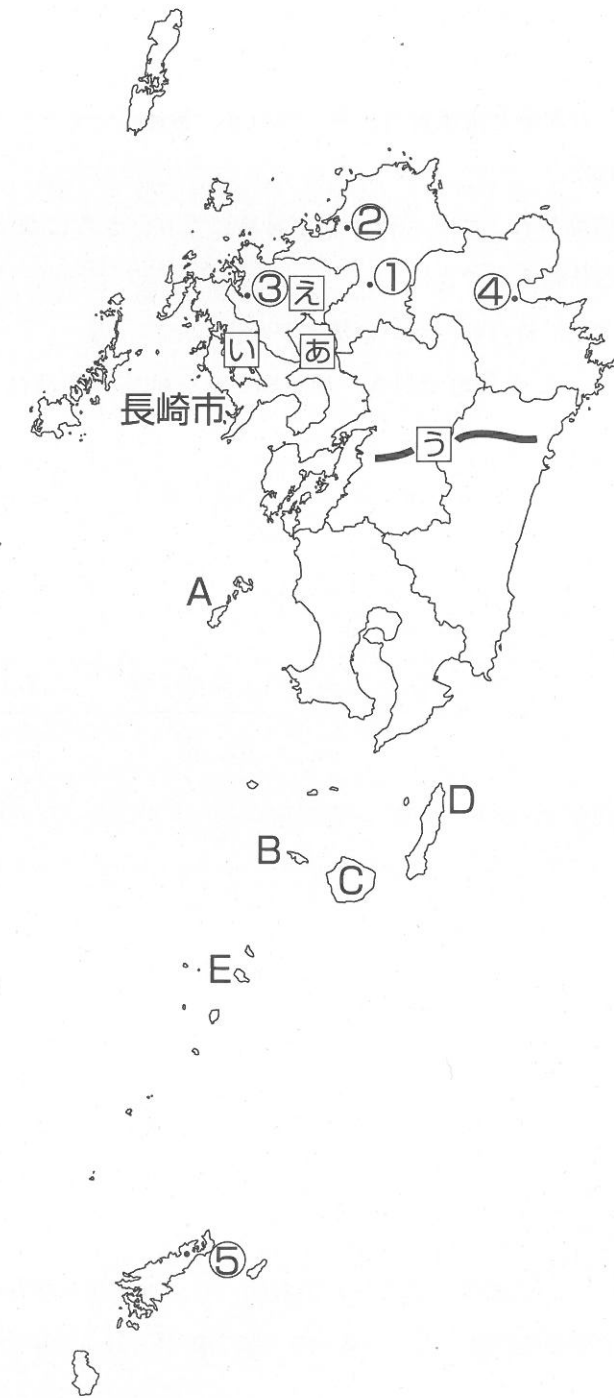
問7 次のア～エの文のうち、明らかに時代がちがうものがあります。その文を1つ選び、記号で答えなさい。

- ア 中国との貿易が盛んになり、明銭が大量に輸入された。
イ 鶴岡八幡宮を中心に、防備に適した地形をいかし都市が整備され、政治の中心地となった。
ウ 毎月3回、三斎市さいとよばれる定期市が開かれるようになった。
エ 草木灰の利用や西日本で二毛作など農業技術が飛躍的に高まった。

問8 次のア～エの文のうち、明らかに時代がちがうものがあります。その文を1つ選び、記号で答えなさい。

- ア キリスト教保護と南蛮貿易がすすめられ、各地にセミナリオと呼ばれる神学校が建てられた。
イ 関所が撤廃され、領地の行き来が容易になり、さらに都市では誰でも自由に商売できる仕組みができた。
ウ 鉄砲が大量に造られ、戦いの様式が変化した。
エ 一向宗のいっき一揆が各地で起き、加賀国でも一向宗の門徒による100年の自治がはじまった。

3 九州地方の地図を見て、後の各問いに答えなさい。



問1 地図中の①～⑤は、伝統工芸品の産地を示しています。次のア～オの組み合わせのうち、まちがえているものを1つ選び、記号で答えなさい。

- ア ①=久留米がすり イ ②=博多織 ウ ③=唐津焼
エ ④=鳴海しほり オ ⑤=本場大島つむぎ

問2 地図中の長崎市は、漁港でも有名です。長崎港の沖合に広い大陸棚をもつ海を何といいますか。

問3 今年度は、日本列島の各地で活発な火山活動が見られました。九州地方でも口永良部島の新岳で火山爆発が観測されています。地図中のA～Eから口永良部島を選び、記号で答えなさい。

問4 次のア～エの文は、地図中㊦～㊩の自然・産業を説明したものです。このうちまちがえているものを1つ選び、記号で答えなさい。

- ア ㊦の干満の差が大きい有明海では、明石海峡と同じくのりの養殖が盛んである。
イ ㊩のリアス式海岸が発達した大村湾では、しずかな海を利用して真珠の養殖が盛んである。
ウ ㊧の九州山地は、北部の筑紫山地より低くなだらかな山容だが、周囲に火山が多い。
エ ㊨の筑紫平野は稲作が盛んである。南部の柳川ではクリークと呼ばれる排水路を用いて低地での農業を行っている。

問5 次の表は、九州地方の中で人口の多い上位10都市を表しています。表中の①～③に入る都市の組み合わせとして正しいものを、下のア～エから選び、記号で答えなさい。

順位	都市名	人口 (人)
1	福岡	1,474,326
2	①	981,891
3	熊本	734,287
4	鹿児島	609,250
5	大分	478,794
6	長崎	439,318
7	②	405,890
8	那覇	322,486
9	久留米	305,656
10	③	262,093

	ア	イ	ウ	エ
①	北九州	佐賀	北九州	宮崎
②	宮崎	宮崎	佐賀	北九州
③	佐世保	北九州	佐世保	佐賀

統計年 2014年 出典『日本国勢図会2015/16』

問6 次のア～オの文は、沖縄を説明したものです。このうちまちがえているものを1つ選び、記号で答えなさい。

- ア 15世紀に尚氏により琉球王朝がつけられた。王朝の拠点であった首里城の一部が守礼門である。
- イ 第二次世界大戦の末期、上陸したアメリカ軍との激しい戦いがあり、多くの県民が亡くなった。
- ウ サンフランシスコ平和条約が結ばれた後もアメリカによる沖縄の占領は続き、日本に復帰したのは1972年である。
- エ 沖縄県には全国のアメリカ軍基地の約25%が集中し、米軍機や米兵による事件・事故が続き、大きな問題になっている。
- オ 市街地にある普天間基地を廃止し、辺野古の海を埋め立てる基地移転計画をめぐり、国と沖縄県の間で対立が続いている。

問7 農業に関する各問いに答えなさい。

(1) 次の表は4つの農作物の、九州地方の生産量とその全国に占める割合を表しています。表中の②が示すものを下のア～エから1つ選び、記号で答えなさい。

	九州地方の生産量 (t)	九州地方の生産が全国に占める割合
①	861,040	10.2%
②	117,712	13.8%
③	276,900	30.9%
④	11,860	6.3%

統計年 ①・② 2014年 ③・④ 2013年 出典『日本国勢図会2015/16』

- ア みかん
- イ 小麦
- ウ 米
- エ ぶどう

(2) 次の図は、〈統計テーマ〉の上位3位の都道府県が太枠を中心に隣り合うようにならべています。ただし、都道府県の並びは必ずしも統計上の順位とは一致しません。図中の A ~ D に入る都道府県の組み合わせとして正しいものをア~オから1つ選び、記号で答えなさい。

A	北海道	千葉	青森	B
宮崎				長野
埼玉				茨城
群馬				群馬
D	茨城	鳥取	千葉	C

〈統計テーマ〉

- ・肉牛の飼育頭数
- ・レタスの生産
- ・キャベツの生産
- ・リンゴの生産
- ・きゅうりの生産
- ・日本なしの生産
- ・はくさいの生産
- ・大根の生産

- ア 鹿児島・長野・新潟・北海道
- イ 群馬・愛知・長野・山形
- ウ 愛媛・鹿児島・山形・愛知
- エ 愛知・山形・鹿児島・長野
- オ 山形・鹿児島・静岡・愛媛

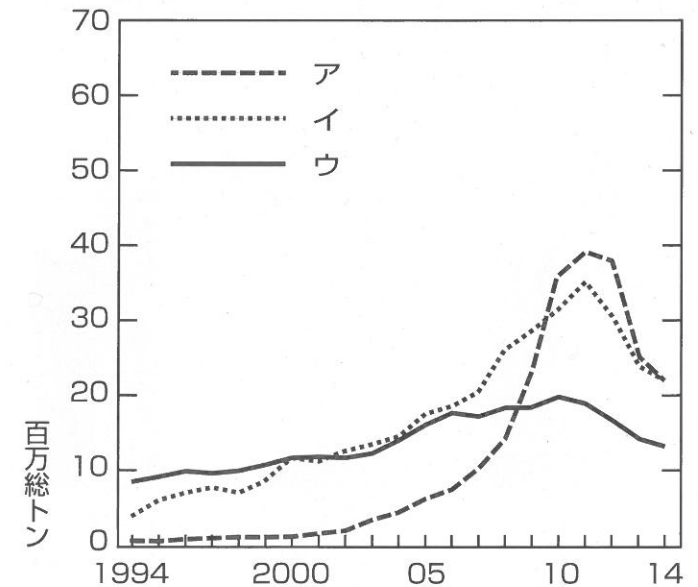
4 次の文を読み、後の各問いに答えなさい。

世界の海にはたくさんの船が行き来しています。船の建造には高度な科学技術といわれる職人技を持った技術者が必要です。そのため、①造船業が盛んな国にはかたよりのがあります。

第一次世界大戦が勃発し、欧米諸国が戦火を交えている間に、日本の造船業は飛躍的に伸び、「船なり金」と呼ばれる人々があらわれました。第二次世界大戦中には軍艦が多く造られると同時に、貨物船や客船が戦争に利用されました。


戦後、世界が平和になると各国で②貿易が盛んになりました。③海運業がますます発展し、④より高速で、より運賃の安い船が造られるようになりました。

問1 下線部①について、下のグラフは、造船業が盛んな日本・中国・韓国の竣工量の移りかわりを表したものです。このうち、日本を示すものをア~ウから1つ選び、記号で答えなさい。



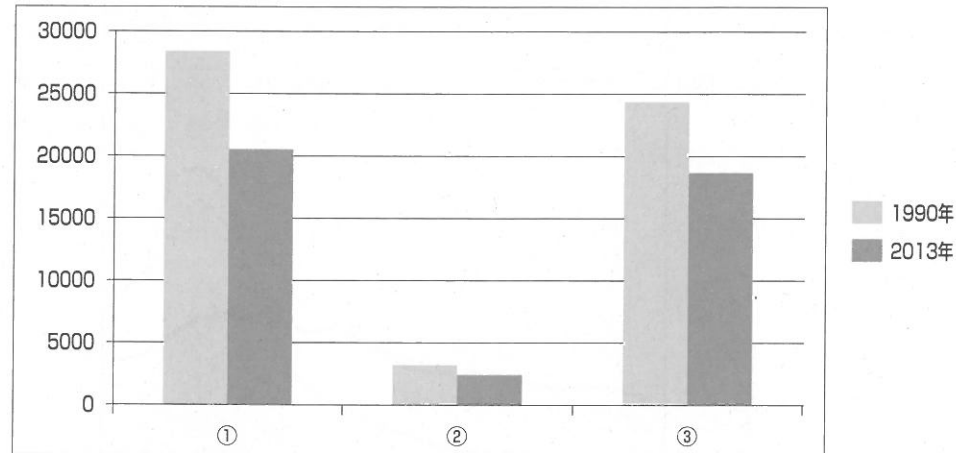
出典『日本国勢図会2015/16』

問2 下線部②について、次のグラフは日本の貿易品目の変化を表しており、グラフ中のア～エはそれぞれ、機械類、原油、せんい製品・せんい原料、鉄鋼・鉄鉱石のうちのいずれかです。このうち、鉄鋼・鉄鉱石にあたるものをア～エから1つ選び、記号で答えなさい。



出典『日本のすがた2015』

問3 下線部③について、次のグラフは、1990年と2013年の日本の貨物輸送を比較したものです。①～③は、自動車、海運、鉄道の輸送量（単位百万トンキロ）のいずれかを示しています。組み合わせとして正しいものを下の表中のア～カから1つ選び、記号で答えなさい。



	ア	イ	ウ	エ	オ	カ
自動車	①	①	②	②	③	③
海運	②	③	①	③	①	②
鉄道	③	②	③	①	②	①

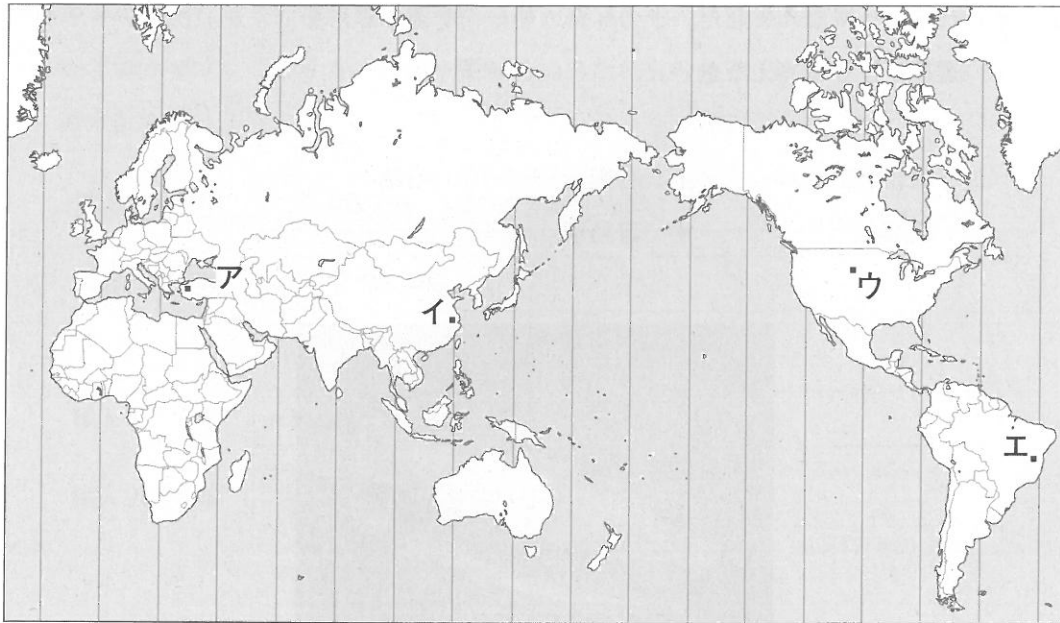
出典『日本国勢図会2015/16』

問4 下線部④について、より速く、より運賃を安くするため、特定の物を運ぶ専用船が造られるようになりました。下の写真の船は何を運ぶ専用船ですか。次のア～オから1つ選び、記号で答えなさい。

- ア 液化天然ガス
- イ 石炭
- ウ 石油
- エ 鉄鉱石
- オ 自動車



問5 次の世界地図は海図として古くから使用されたものです。後の各問いに答えなさい。



(1) この図法を何とといいますか。

(2) 次のア～エの文は、この図法を説明したものです。このうち、まちがえているものを1つ選び、記号で答えなさい。

ア この図法は、赤道付近より北極・南極に近づくほど、実際より面積が大きくなる。そのため、北極と南極付近は削られて表示されることが多い。

イ この図法は方位が必ずしも正しくない。日本から見た東は右下となり西は左下となる。ただし、南北は真上から真下へ伸びる直線で示される。

ウ 地図上のどの地点でも等角航路は直線となり、最短ルートを示す大圏航路はすべて曲線でしめされる。

エ すべての経線と緯線は直線でしめされ、必ず直角で交差する。

(3) 次の文中のAとBにあてはまる都市を地図中のア～エから、それぞれ選び記号で答えなさい。

都市Aで現地時間2月6日19:00開始の試合と、都市Bで現地時間2月6日10:00開始のレースが、日本ではちょうど同時刻にテレビで中継放送されます。スポーツ観戦好きのマナブさんは、どちらを見ようか迷っています。

5 次の憲法の条文を読み、後の各問いに答えなさい。

第1条 [天皇の地位・国民主権]

天皇は、日本国の [あ] であり日本国民統合の [あ] であって、この地位は、
①主権の存する日本国民の総意に基く。

第12条 [自由・権利の保持の責任とその濫用の禁止]

この憲法が国民に保障する自由及び権利は、国民の不断の努力によって、これを保持しなければならない。又、国民は、これを濫用してはならないのであって、常に [い] のためにこれを利用する責任を負う。

第25条 [生存権、国の社会的使命]

すべて国民は、②健康で文化的な最低限度の生活を営む権利を有する。

第79条 [最高裁判所の裁判官、国民審査、定年、報酬]

最高裁判所は、その長たる③裁判官及び法律の定める員数のその他の裁判官でこれを構成し、その長たる裁判官以外の裁判官は、[う] でこれを任命する。

第92条 [地方自治の基本原則]

地方公共団体の組織及び運営に関する事項は、④地方自治の本旨に基いて、法律でこれを定める。

問1 文中の [あ] ・ [い] ・ [う] にあてはまる語句を答えなさい。

問2 下線部①について、次のア～エの文のうち、まちがえているものを1つ選び、記号で答えなさい。ただし、まちがえているものがなければオと答えなさい。

- ア 大日本帝国憲法では天皇が主権者で、国民は天皇にしたが従うことからしんみん臣民と言われた。
- イ 大日本帝国憲法では天皇が軍を統率し、国民には兵役の義務があった。
- ウ 日本国憲法では国民主権・平和主義・基本的人権の尊重が三大原則として定められている。
- エ 日本国憲法では、公務員を選んだり、やめさせたりすることも国民の権利であるとされている。

問3 下線部②について、次のア～エの文は社会保障について説明したものです。このうち正しいものを1つ選び、記号で答えなさい。

- ア 年金の保険料は20歳以上の全国民がしはら支払う義務があり、60歳になると年金支給が始まる。
- イ 国家予算の支出で一番大きいのが防衛費で、次が社会保障関係費である。
- ウ 年金改革のために社会保険庁が解体されて、2010年に日本年金機構がきこうつくられた。
- エ 消費税率が5%から8%に上がったことによって、その増税分がすべて社会保障費にあてられている。

問4 下線部③について、2009年に「裁判員制度」が導入されました。この制度が導入された主な理由を簡単に説明しなさい。

受験番号			

氏名	
----	--

2016年度 須磨学園中学校 第1回入学試験解答用紙 社会

(※の欄には、何も記入してはいけません)

1

問1		問2		問3	
問4	(1)				
	(2)				
問5					

※

2

問1		問2	
問3		問4	
問5		問6	
問7		問8	

※

3

問1		問2		問3	
問4		問5		問6	
問7	(1)	(2)			

※

4

問1		問2		問3		問4	
問5	(1)				(2)		
	(3)	A		B			

※

5

問1	あ		い		う	
問2		問3				
問4						
問5						

※

※