

2015年度 須磨学園中学校入学試験

社 会

第 1 回

(注 意)

解答用紙は、この問題冊子の中央にはさんであります。まず、解答用紙を取り出して、受験番号と氏名を記入下さい。

1. すべての問題を解答下さい。
2. 解答はすべて解答用紙に記入下さい。
3. 試験終了後、解答用紙のみ提出し、問題冊子は持ち帰り下さい。

須磨学園中学校

1 次の文を読み、後の各問いに答えなさい。

海につき出た半島では、その支配をめくり対立がおきたり、戦争の舞台になることがありました。日本国内では1637年に①天草島と島原半島で、江戸幕府に対する反乱がおきた例があります。

アジアでは、②朝鮮半島の支配をめくり③日清戦争がおきました。また、④リアオトン半島の支配をめくりロシアと日本が対立し、それが日露戦争に発展しました。

ヨーロッパでおきた⑤第一次世界大戦も⑥バルカン半島に勢力をのばそうとするロシアとドイツ・オーストリアの間で始まりました。日本はこの戦争に参加し、アジアで戦いました。その主な戦場となったのも中国の⑦シャントン半島でした。


問1 文中の下線部①について、天草島原一揆を説明する文としてまちがっているものを1つ選び、記号で答えなさい。

- ア 江戸時代には五公五民や六公四民など重い税を農民は課せられた。この地方の大名も農民に重い負担をかけた。それが反乱がおきた原因の1つであった。
- イ 絵踏みなどで隠れキリシタンを発見し、改宗しない者を厳罰に処した幕府の政策に反発して一揆が起きた。
- ウ 原城に立てこもった反乱軍に対し、幕府はオランダの軍艦に援助をもとめ、陸と海から攻め鎮圧することができた。
- エ この反乱をきっかけに、幕府のキリスト教に対する取り締まりはゆるめられたが、鎖国政策は続けられた。

問2 文中の下線部②について、朝鮮半島の歴史を見ても、戦争はしばしば起きています。

(1) 右の写真は、朝鮮半島にある戦争に関する石碑です。この石碑を説明する文として正しいものを1つ選び、記号で答えなさい。

- ア 唐と新羅の連合軍が日本と百済に勝利した記念にたてられた。
- イ 朝鮮半島に進出した日本を高句麗が打ち破り、領土を広めた記念にたてられた。
- ウ 朝鮮戦争の時、犠牲者をとむらうためにたてられた。
- エ 統一国家の成立を記念してたてられた。



(2) 朝鮮半島を最初に統一した国家の名前を答えなさい。

問3 下線部③について、下の絵は日清戦争の講和会議の様子です。この会議に出席した人物の組み合わせとして正しいものをア～エから選び、記号で答えなさい。

	中国代表	日本の首相	日本の外務大臣
ア	李鴻章	伊藤博文	陸奥宗光
イ	毛沢東	黒田清隆	小村寿太郎
ウ	孫文	伊藤博文	小村寿太郎
エ	安重根	原敬	西園寺公望

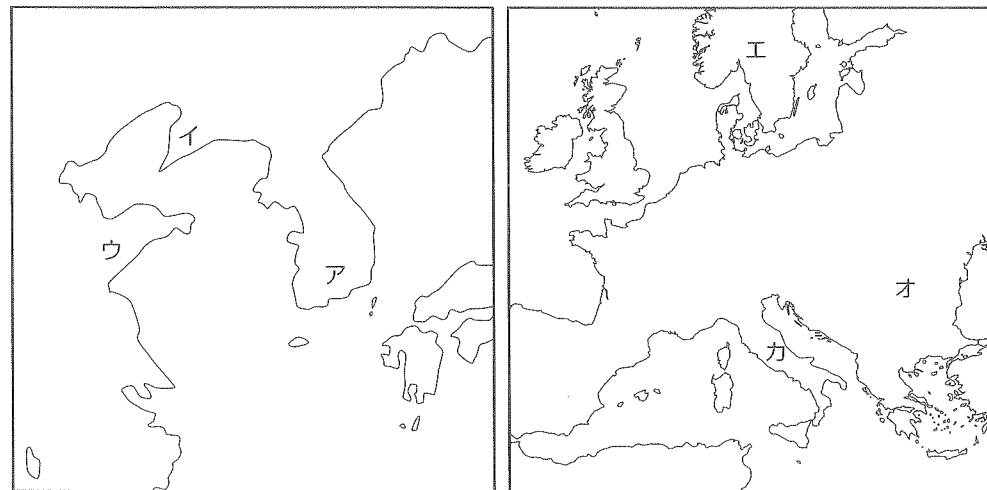


問4 文中の下線部③について、リアオトン半島を説明する次の文の空らんに入る語句を下から選び、それぞれ記号で答えなさい。

日本は日清戦争に勝利しこの半島を得た。しかし、ロシア・フランス・(あ)による三国干渉で、半島は清へ返還された。その後、ロシアとの対立が深まる中、政府は国民に軍事拡張のための重税を課した。国民は(い)をととなえ、これに耐えた。

- ア オランダ イ ドイツ ウ イギリス エ 韓国
 オ 清 カ 臥薪嘗胆 キ 欲しがりません勝つまでは
 ク 富国強兵 ケ 一身独立

問5 文中の下線部①～③の半島を次の白地図内のア～カから選び、それぞれ記号で答えなさい。



問6 文中の下線部④について、

- (1) 第一次世界大戦のきっかけとなった、オーストリア皇太子暗殺事件を何と言いますか。
 (2) 第一次世界大戦後に開かれたパリ講和会議を受け、朝鮮半島でおきた日本の支配に反対する暴動を次から1つ選び、記号で答えなさい。

- ア 甲午農民戦争 イ 五・四排日運動 ウ 三・一独立運動
 エ 義和団の乱

2 次の表は、日本の歴史を元号でまとめたものです。

元号	西暦	できごと
A	645～650	中大兄皇子らが新しい政治を始める
大宝	701～704	大宝律令がつくられる
天平	729～749	仏教文化がさかえる
保元	1156～1159	B
平治	1159～1160	
承久	1219～1222	C
文永	1264～1275	
永仁	1293～1299	
元弘	1331～1334	
建武	1334～1336	D
文禄	1592～1596	秀吉の朝鮮出兵
元禄	1688～1704	元禄文化がさかえる
E	1716～1736	徳川吉宗の政治改革
安政	1854～1860	F
明治	1868～1912	武士の世の中が終わる

問1 年表中Aに入る元号を漢字で答えなさい。

問2 年表中Bについて、この時代よりも後におきた出来事を、次からすべて選び、記号で答えなさい。

- ア 平等院鳳凰堂の建立 イ 平将門の乱
ウ 平清盛が太政大臣になる エ 壇ノ浦の戦い

問3 年表中Cについて、4つの元号は全て鎌倉時代のものです。次は各元号でおきた出来事です。このうち「元弘」の時代におきたものを選び、記号で答えなさい。

- ア 後醍醐天皇が隠岐へ流刑となる イ 徳政令が定められる
ウ 六波羅探題が設置される エ 竹崎季長が活やくする

問4 年表中Dについて、この時代とかかわりの深い史料を次から1つ選び、記号で答えなさい。

- ア 「わたしの祖父や父は、もとはみなと同じ大名だったので、將軍になってからも、みなを……」
イ 「このごろ都ではやるもの、夜討ち、強盗、にせ繪^{りんじ}旨……」
ウ 「どうしてこんなに貧しいのだろうか、綿もなく、海草のようにたれ下がったぼろの着物を着て、……」
エ 「わたしは、仏教の力で国じゅうが幸せになることを願っている。そこで、国じゅうの銅を集めて……」

問5 年表中Eに入る元号を次から選び、記号で答えなさい。

- ア 享保 イ 寛政 ウ 天保 エ 天明

問6 年表中Fの時代におきた出来事を次から1つ選び、記号で答えなさい。

- ア 桜田門外の変 イ 大塩平八郎の乱 ウ 大政奉還
エ ラクスマンの来日

3 次の文を読み、後の各問いに答えなさい。

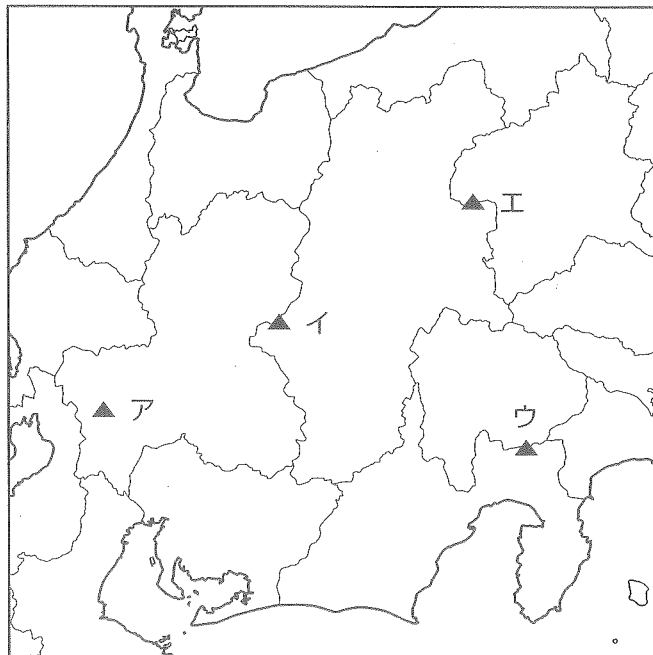
日本の歴史をふり返ると、しばしば①自然災害に見舞われ、社会や人々の生活に大きな影響をあたえたことがわかります。

例えば、江戸時代に②浅間山が噴火すると、上空にまった火山灰により農作物が不作となり、食料不足が続きました。また、昭和初期の関東大震災は、後におこる③世界恐慌とあいまって日本経済にとって大打撃をあたえました。しかし、日本人は、その都度力強く④復興をとげてきたことも忘れてはなりません。

問1 下線部①について、自然災害や紛争の被災地での医療活動がみとめられ、「国境無き医師団」は1999年にノーベル平和賞を受賞しました。このようなどこの国にも属さない機関を何といいますか。次から選び記号で答えなさい。

ア NPO イ NGO ウ PKO エ ODA

問2 下線部②について、昨年の火山噴火で多くの犠牲者をだした御嶽山と浅間山の位置を次の地図から選び、それぞれ記号で答えなさい。



問3 下線部③について、世界恐慌とその影響を説明する文としてまちがっているものを次から1つ選び、記号で答えなさい。

ア 1929年アメリカのニューヨークの株価暴落に端を発し、世界中の国々が不景気になった。

イ アメリカはニューディール政策のもと、ダム建設などの公共事業を増やし、景気回復につとめた。

ウ 日本経済は大きく落ち込み、軍部は「満州は日本の生命線」と唱え、大陸進出を主張した。

エ 不景気を乗り越える力の無いイギリスやフランスは、周辺国を侵略した。これが第二次世界大戦の原因の1つとなった。

問4 下線部④について、東日本大震災でも見られたように、災害復興で自衛隊は大きな役割を担っています。自衛隊が警察予備隊として創設されるきっかけとなった出来事を次から選び、記号で答えなさい。

ア サンフランシスコ講和条約

イ ポツダム宣言

ウ 第四次中東戦争

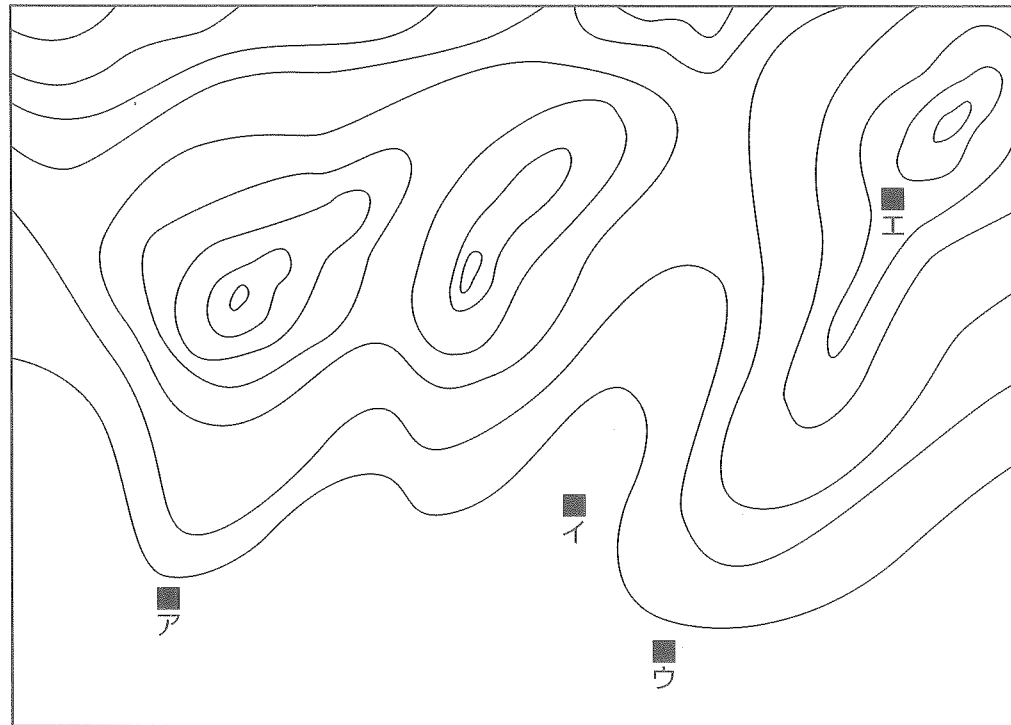
エ 朝鮮戦争

問5 近年、局地的な豪雨が、土石流や洪水などをもたらし、大きな脅威になっています。

(1) このような局地的な豪雨は、突然降りだすことから何とされていますか。解答らんにあわせて3字で答えなさい。

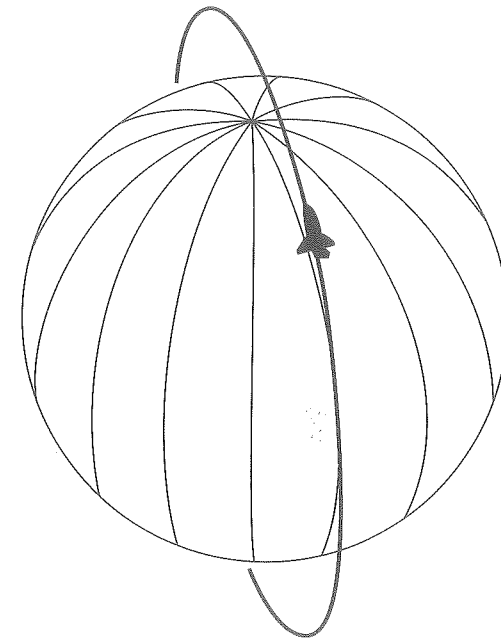
			豪 雨
--	--	--	-----

(2) 次の地図の地域に豪雨が降ったとき、土石流の被害が最も心配される場所をア～エから1つ選び、記号で答えなさい。



4 次の各問いに答えなさい。

問1 下の【図I】は宇宙船が同じ軌道で地球を回っている様子を表しています。この宇宙船は2時間で地球を一周します。今、西経75度の経線上を通過したところです。この宇宙船が東経135度の日本上空を飛ぶのは何時間後ですか。下のア～エから選び、記号で答えなさい。



【図I】

- | | |
|----------|----------|
| ア. 4時間後 | イ. 8時間後 |
| ウ. 10時間後 | エ. 14時間後 |

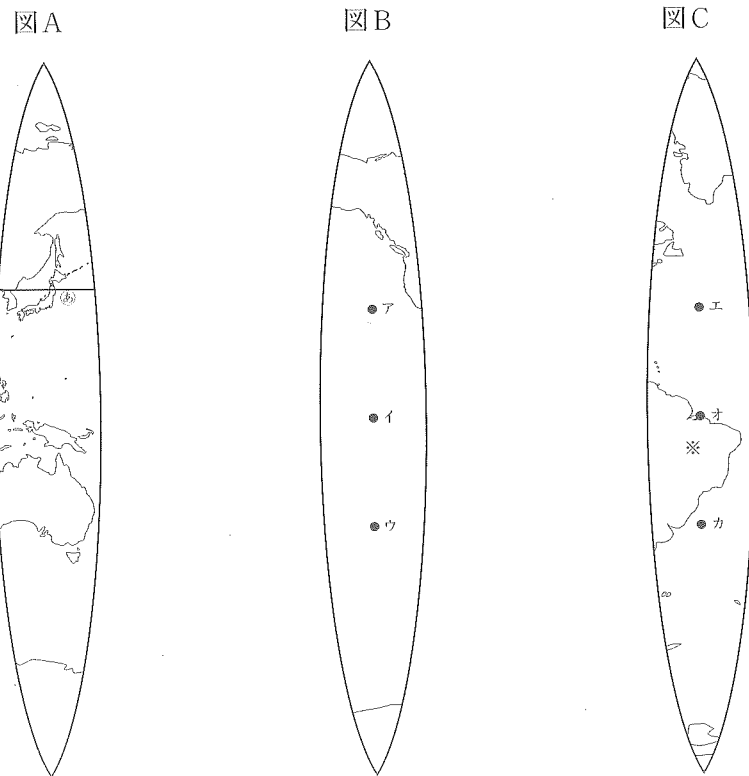
問2 下の【図Ⅱ】は、地球儀の表面を経線にそってはぎ取ったものです。図Aは東経125～155度にはさまれた地域で、ちょうど日本列島が含まれています。

(1) 図A中の線㉔は何を示していますか。次から選び、記号で答えなさい。

- ア 南緯20度 イ 緯度0度 ウ 北緯20度 エ 北緯30度
オ 北緯40度

(2) 図Bは日本からほぼ90度東に移動した西経120～150度にはさまれた地域です。また、図Cは日本の裏側にあたる西経30～60度の地域です。日本から真東に移動した時、図B・C上で通過する地点をア～カから選び、それぞれ記号で答えなさい。

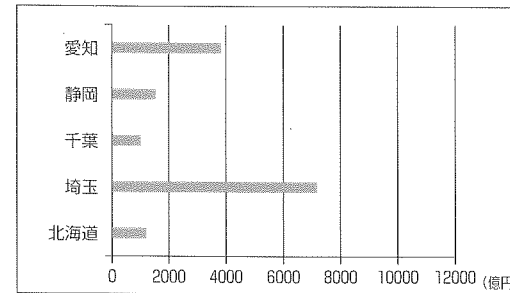
(3) 図C中の※の国名を答えなさい。



【図Ⅱ】

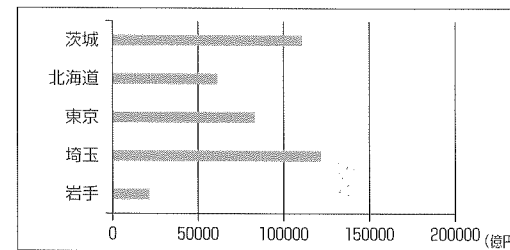
5 次のグラフはある統計項目について、5つの都道府県を比較したものです。それぞれの統計項目を下のア～オから1つ選び、記号で答えなさい。

◎グラフ1



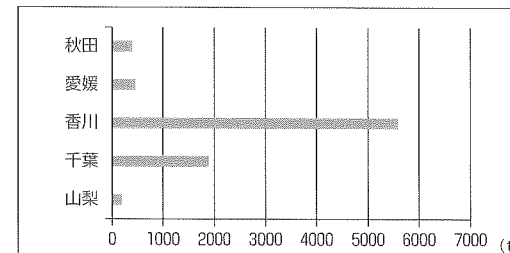
- ア 輸送用機械の出荷額 イ 鉄鋼業の出荷額 ウ 化学工業の出荷額
エ 印刷・関連業の出荷額 オ 食料品工業の出荷額

◎グラフ2



- ア 工業生産額 イ 農業生産額 ウ 人口 エ 面積
オ 海面漁業出荷額

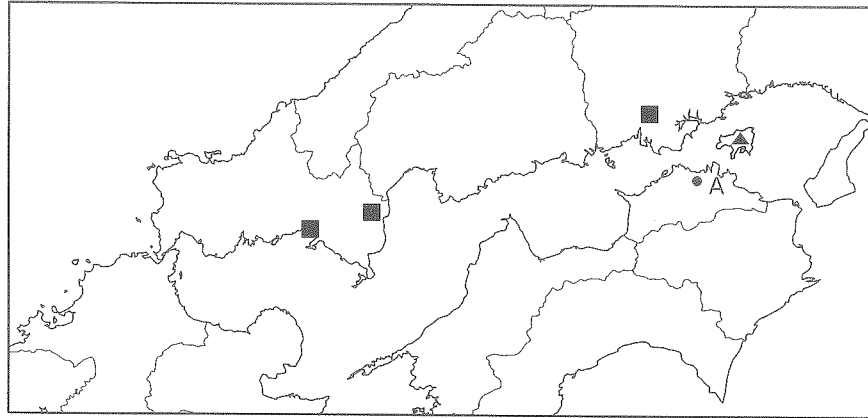
◎グラフ3



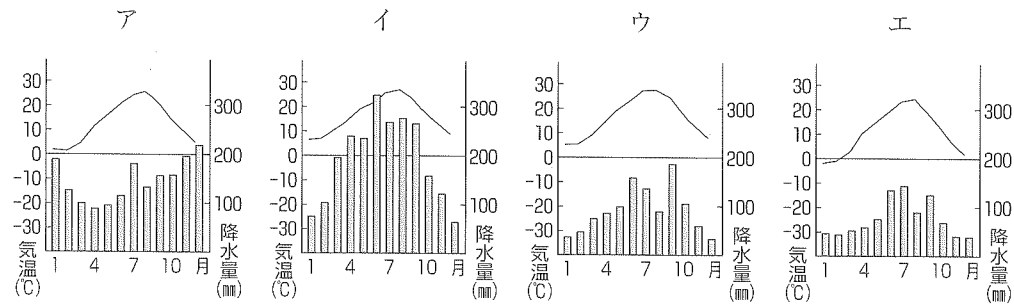
- ア 米の生産量 イ 小麦の生産量 ウ ぶどうの生産量
エ みかんの生産量 オ ももの生産量

出典『日本国勢図会 2014/15』から作成
統計 グラフ1・2 2014年度, グラフ3 2013年度

6 次の瀬戸内地方の地図を見て、後の各問いに答えなさい。



問1 地図中の都市Aの雨温図を次のア～エから選び、記号で答えなさい。



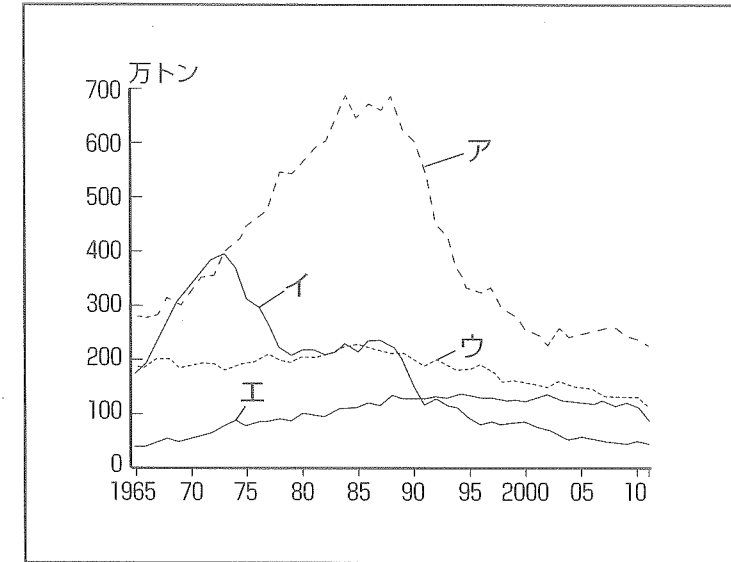
問2 地図中の■の都市で共通して発達している工業種類を次から選び、記号で答えなさい。

- ア 鉄鋼業 イ 石油化学工業 ウ 製紙パルプ工業
エ 自動車工業

問3 ▲の島では、ある農作物の栽培がさかんです。その農作物を次から1つ選び、記号で答えなさい。

- ア オリーブ イ パイナップル ウ マンゴー
エ サトウキビ

問4 瀬戸内海では養殖業がさかんです。下のグラフは日本の漁業種類別の生産量の推移を表しています。このうち、海面養殖業を示すものを選び、記号で答えなさい。




出展『日本国勢図会2014/15』

7 次の各問いに答えなさい。

問1 天皇の国事行為にあてはまらないものをすべて選び、記号で答えなさい。

- ア 憲法改正の公布
- イ 国会の召集
- ウ 栄典を授与する
- エ 内閣総理大臣の指名
- オ 条約を承認する
- カ 最高裁判所長官の指名

問2 右の写真は、内閣総理大臣と国務大臣が集まり、国政を議論する会議の様子です。このような会議を何といいますか。



問3 現在、国際社会の平和維持に大きく貢献している機関に国際連合があります。次の国際連合を説明する文の空らんに入る数字の組み合わせとして正しいものをア～カから選び、記号で答えなさい。

国際連合は、世界平和の実現のため（ A ）年に設立された。設立当時の加盟国は（ B ）カ国であった。日本は（ C ）年に加盟が許された。現在の加盟国は（ D ）カ国になっている。

	A	B	C	D
ア	1925	51	1946	183
イ	1925	26	1956	193
ウ	1940	51	1961	203
エ	1940	26	1946	183
オ	1945	51	1956	193
カ	1945	26	1961	203

問4 裁判制度を説明する次の文のうち、まちがっているものを1つ選び、記号で答えなさい。

- ア 利害の対立を解決する裁判を民事裁判と言う。民事裁判では両者の意見を調整するのが目的である。
- イ 犯罪行為を犯した人を裁く裁判では、検察官が裁判所に訴える。この裁判では有罪か無罪かを決め、有罪の場合はその量刑を決める。
- ウ 第一審裁判所は、内容により家庭裁判所・簡易裁判所・地方裁判所に分けられる。第二審は高等裁判所で開かれるが、内容によっては地方裁判所が担当することもある。
- エ 三審制の中で、最高裁判所は終審裁判所と呼ばれ最終判決を下す。それ以降、判決が変更されることはない。

問5 衆議院と参議院で意見が対立したとき、両院の代表者が集まり意見を調整する機関を答えなさい。

受験番号			

氏名	
----	--

2015年度 須磨学園中学校 第1回入学試験解答用紙 社会

(※の欄には、何も記入してはいけません)

1

問1		問2	(1)		(2)		問3				
問4	あ		い		問5	Ⓐ		Ⓑ		Ⓒ	
問6	(1)	事件				(2)		※			

2

問1		問2		問3		問4	
問5		問6		※			

3

問1		問2	御嶽山		問3				
問4		問5	(1)			豪雨	(2)		※

4

問1		問2	(1)		(2)	Ⓐ		Ⓑ		(3)	
※											

5

1		2		3							
※											

6

問1		問2		問3		問4	
※							

7

問1		問2		問3	
問4		問5		※	
※					