

2014年度 須磨学園中学校入学試験

社 会

第 1 回

(注 意)

解答用紙は、この問題冊子の中央にはさんであります。まず、解答用紙を取り出して、受験番号と氏名を記入しなさい。

1. すべての問題を解答しなさい。
2. 解答はすべて解答用紙に記入しなさい。
3. 試験終了後、解答用紙のみ提出し、問題冊子は持ち帰りなさい。


須磨学園中学校

1 次の文を読み、後の各問いに答えなさい。

江戸時代、日本は外国との関係を閉ざす鎖国をおこなっていました。しかし、①一部の国とは交易や②文化交流をおこない、日本の文化や学問に大きな影響を与えました。


明治になると、日本は広く③外国に開かれた政策に轉換し、外国の文化・④技術・製品・社会や政治のしくみを積極的に取り入れました。その結果、江戸時代には、將軍や大名により決められていた政治が、明治になると、⑤政治に参加する権利が、国民に認められるようになりました。一方、諸外国との関係が深まると、⑥様々な問題も発生し、日本は外国と戦争をするようになりました。

問1 下線部①について、【図1】は、江戸時代に長崎で外国との交易をおこなっていた島です。この島を何とよぶか答えなさい。



【図1】

問2 下線部②について、【図2】は、江戸幕府の將軍が代わるたびに日本を訪れ、各地で文化交流をおこなった朝鮮からの使節です。この使節の名前を答えなさい。



【図2】

問3 下線部③について、明治になり日本人は西洋の文物を取り入れ、それまでの生活や価値観までが変わりました。このことを何とよみますか。漢字4文字で答えなさい。

問4 下線部④について、明治時代に外国からもたらされたものとして、まちがっているものを1つ選び、記号で答えなさい。

ア ガス灯 イ 鉄道 ウ 電信 エ ラジオ オ 郵便

問5 下線部⑤について、1890年に、はじめて選挙がおこなわれました。次の文は、この時の参政権の条件を説明したものです。空らんに入力し、文を完成させなさい。

満（ア）歳以上で、直接国税（イ）円以上を納めている男子

問6 下線部⑥について、【図3】はノルマントン号事件をあらわしたものです。この事件の影響として正しいものを1つ選び、記号で答えなさい。




【図3】

- ア イギリス政府に対する不満から、日比谷焼き討ち事件が起きた。
- イ ロシアとの対立が深まり、臥薪嘗胆をとなえ、戦争の準備をすすめた。
- ウ 外国との不平等条約の改正を求める声が高まった。
- エ 富国強兵がとなえられ、富岡製糸場が創業された。

2 次の文を読み、後の各問いに答えなさい。


2000年以上前に、大陸から日本に伝えられた稲作は、またたく間に各地へ広がりました。そして、今日にいたるまで米は①日本人の主食となっています。もともと温かい地方に適した稲は、②栽培方法の工夫や（③）をおこなうことで、④様々な環境に適合し広い範囲で栽培できるようになりました。しかし、食生活の変化などで、米の生産量は1990年代をピークに、現在では⑤生産量・消費量とも減少しています。

問1 下線部①について、次の図は、江戸時代のききんや米価の値上がりにより、米が手に入らなくなった庶民が米屋を襲っている様子です。このような暴動を何というか答えなさい。



問2 下線部②について、次の図ア～エは、米作りに必要な作業です。作業を順番に並べかえ、記号で答えなさい。


ア




イ



ウ



エ

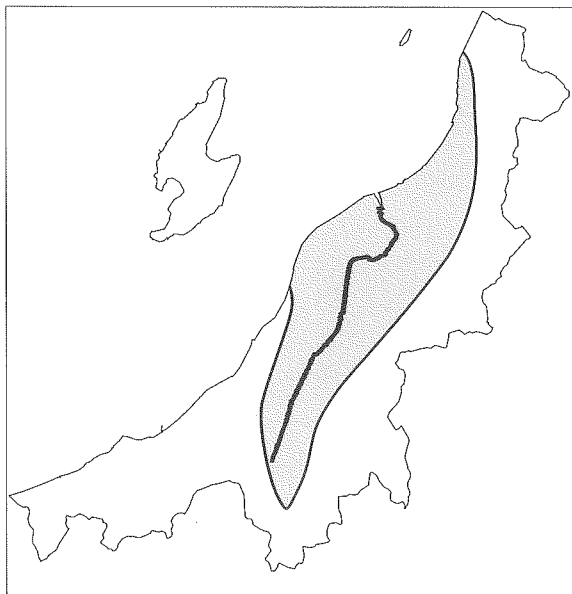


問3 文中の(③)には、稲の長所を組み合わせ、よりおいしい米、よりじょうぶな米をつくる工夫が入ります。この工夫を何というか答えなさい。

問4 下線部④について、日本では、環境に応じた工夫をおこない、米作りを広げてきました。次のア～エから、自然環境と米作りの工夫としてまちがっているものを1つ選び、記号で答えなさい。

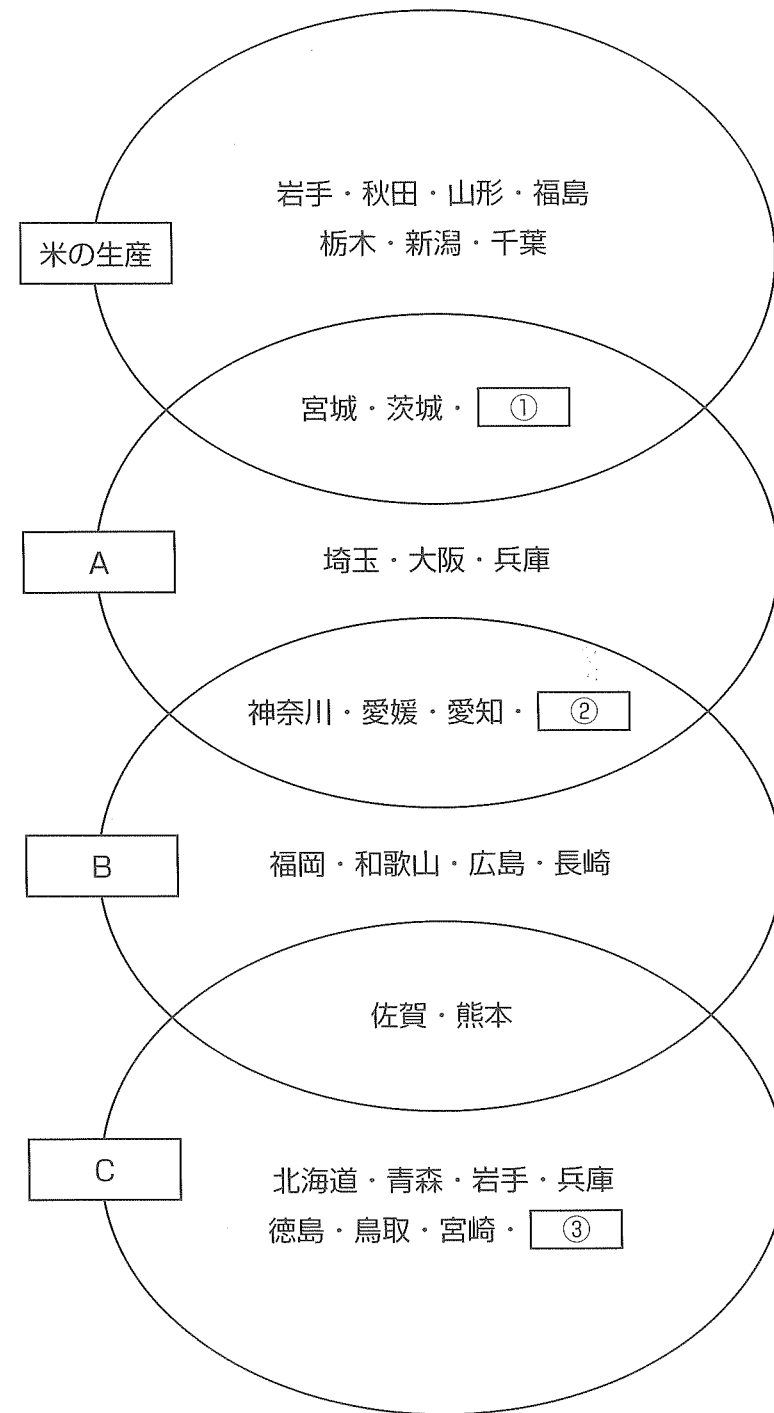
- ア 降雪地：水田の温度を上げるためビニルハウスを用いている。
- イ 山間部：斜面を階段状に整備した棚田で栽培する。
- ウ 低湿地：余分な水分を流し捨てるため、地下に暗渠排水を設置する。
- エ 高冷地：水田に入れる水を温めるため、ぬるめ・まわし水を用いる。

問5 次の地図は、米の生産がもっとも多い新潟県の平野と川をあらわしています。この平野と川の名前を答えなさい。



問6 加盟国内で貿易品にかかる関税を0（ゼロ）にするTPP（環太平洋戦略的経済連携協定）への加盟をめくり賛否両論があります。その中で、多くの農家が、日本の農業を守るためにTPP加盟に反対を表明しています。その理由を説明しなさい。

3 次の図は、いくつかの項目で上位（全国10位内）の都道府県をグループにまとめたものです。図を見て、後の各問いに答えなさい。



統計年度
 ・米の生産 2012年
 ・B 2011年
 ・A・C 2010年

出典
 『日本図勢図会 2013/14』
 『データブックオブザワールド 2013』

問1 図中の A ~ C に入る項目の組み合わせをア～カから選び、記号で答えなさい。

	ア	イ	ウ	エ	オ	カ
A	石油化学工業の生産	石油化学工業の生産	自動車の生産	自動車の生産	パルプ・紙の生産	パルプ・紙の生産
B	ミカンの生産	リンゴの生産	リンゴの生産	おうとうの生産	ミカンの生産	おうとうの生産
C	リンゴの生産	ぶたの飼育	ブロイラーの飼育	肉用牛の飼育	ブロイラーの飼育	肉用牛の飼育

問2 図中の ① ~ ③ に入る都道府県の組み合わせをア～カから1つ選び、記号で答えなさい。

	ア	イ	ウ	エ	オ	カ
①	北海道	北海道	富山	富山	福岡	福岡
②	東京	静岡	静岡	奈良	静岡	奈良
③	大阪	鹿児島	高知	岡山	鹿児島	高知

4 須磨学園では、和歌山県の高野山でサマーキャンプを実施しています。次のA～Cの文は、サマーキャンプを終えた生徒が記した作文の一部です。それぞれの文を読み、後の各問いに答えなさい。


A 私たちを乗せたバスは①湊川神社を出発した。大阪市内をぬけ、堺市に入ると右手に大きな②工業地域が見えてきた。バスはやがて和歌山県に入った。紀ノ川を渡ると山道になり、バスはどんどん高度を上げていった。

B 高野山に到着し、僕たちは「奥の院」を散策した。杉木立の中を細い参道がまっすぐに伸びていて、参道の両側には墓がびっしりと並んでいた。僕はその中から③戦国大名の墓を見つけた。参道の奥には、高野山を開いた僧である（④）の御廟ごひょうがあった。

C サマーキャンプ2日目はグループに分かれて高野山の世界遺産めぐりをした。私たちは、金剛峯寺や⑤徳川家霊台れいだいをめぐった。

問1 下線部①について、湊川神社には、鎌倉幕府を倒すのに活躍した楠木正成がまつられています。鎌倉幕府滅亡後に「建武の新政」をおこなった天皇を答えなさい。

問2 下線部②について、次のグラフは7つの工業地帯・地域の工業製品出荷額とその内訳を示しています。このうち、阪神工業地帯を示しているものをA～Gから選び、記号で答えなさい。



グラフ内の数字は%をあらわしています。

統計年度 2010年
出典『日本国勢図会2013/14』

問3 下線部③について、次の戦国大名を説明する文のうち、まちがっているものを1つ選び、記号で答えなさい。

- ア 尾張の織田信長は、桶狭間の戦いで今川義元を倒した。その後、天下統一を目指し琵琶湖のほとりに安土城を築いた。
- イ 甲斐の武田信玄は、京都に向かう途中、信長と長篠で戦った。武田軍の騎馬隊は信長の鉄砲隊に敗れた。
- ウ 豊臣秀吉は、本能寺の変の後に明智光秀を倒し、信長の天下統一を引き継いだ。1590年小田原の北条氏を倒し、天下統一をはたした。
- エ 三河出身の徳川家康は、秀吉が亡くなった後、石田三成を関ヶ原の戦いで倒し、権力を握った。

問4 文中の(④)にあてはまる僧の名前を答えなさい。

問5 下線部⑤について、徳川家霊台は、3代将軍徳川家光がつくりました。次のア～エは、初代家康から3代家光の期間におこったできごとです。古い順に記号を並べかえなさい。

- ア 鎖国を完成させる。
- イ 島原・天草一揆がおこる。
- ウ 大阪の陣がおこる。
- エ 江戸に幕府が開かれる。

5 次は、一郎君と由香さん、先生の会話の一部です。文を読み、後の各問いに答えなさい。

一郎 新聞で読んだけど、JR東海が来年度、①リニア中央新幹線建設工事をはじめらしいよ。

由香 最高速度は時速500kmでしょ。実現すれば、東京から名古屋へたった40分で
行けるらしいよ。早く乗ってみたいなあ。

一郎 建設のための費用はどうするんだろ。

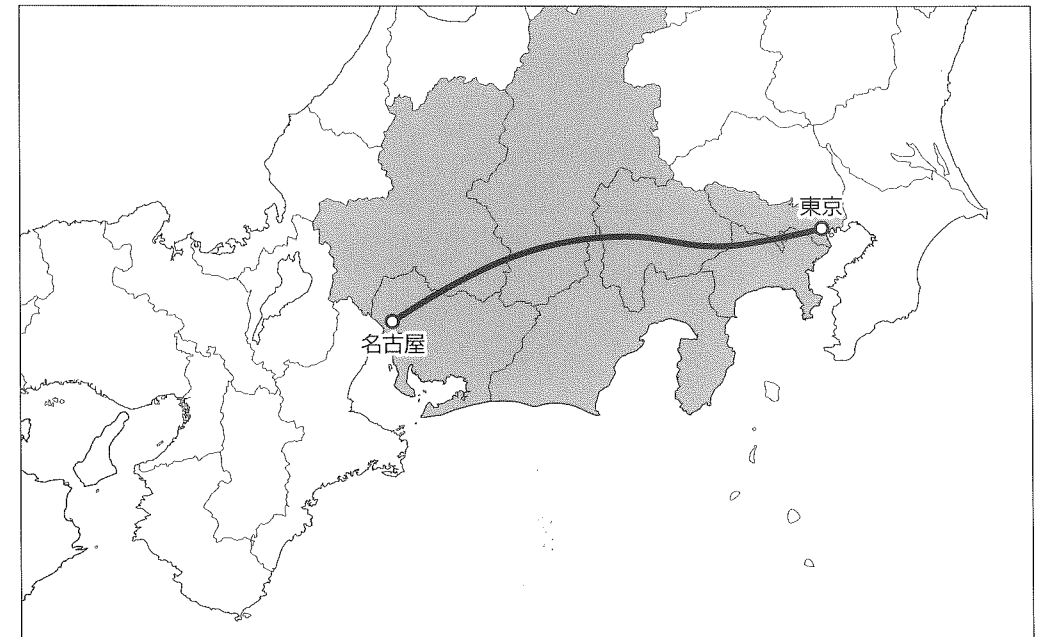
由香 運賃は高いのかなあ。

先生 建設事業費は国・②地方自治体・民間会社であるJR東海が負担する計画だよ。運賃はどうだろうね。新幹線の運賃は、電気やガス、水道などと同じ(③)料
金で、政府が認可することになっているんだよ。

由香 それにしても、④交通手段の発達はすごいわね。これから私たちの生活は、
ますます便利になっていくんでしょうね。

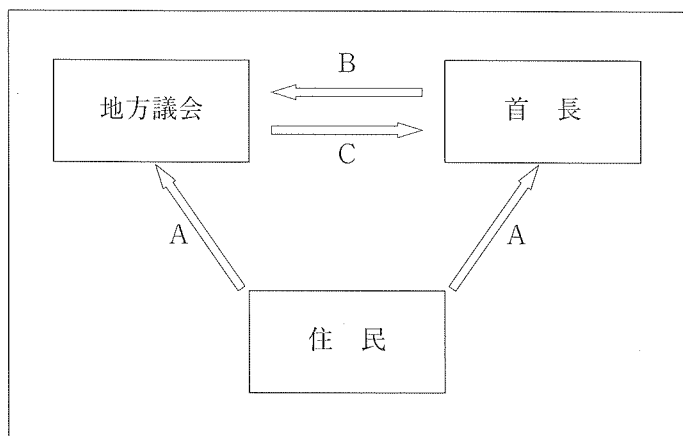
先生 そうだね。交通手段の発達によって、日本の社会は大きく変化してきたんだよ。

問1 下線部①について、次の地図は、東京～名古屋を結ぶリニア中央新幹線の現在の計画ルートと通過する都道府県を示しています。従来の東海道新幹線は通過しなかったが、リニア中央新幹線が新たに通過する都道府県はいくつありますか。算用数字で答えなさい。



問2 下線部②について、次の各問いに答えなさい。

(1) 下の図は地方自治のしくみを表しています。図中のA～Cにあてはまる語句の組み合わせが正しいものをア～カから選び、記号で答えなさい。

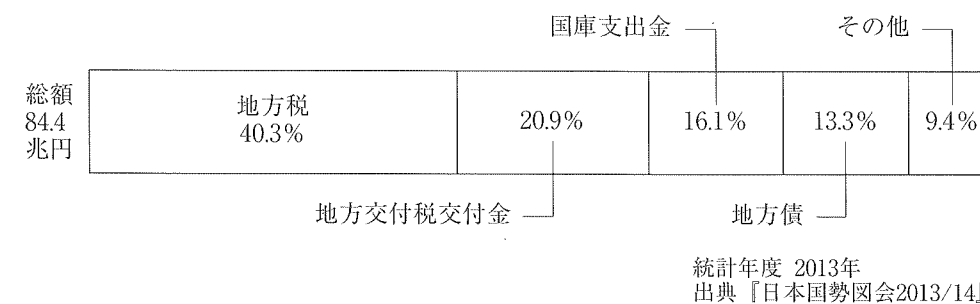


	A	B	C
ア	選挙	指名	任命
イ	選挙	解散	不信任決議
ウ	選挙	解散	指名
エ	指名	任命	不信任決議
オ	指名	違憲審査	指名
カ	選挙	解散	違憲審査

(2) 地方自治体は、法律の範囲内でその地方自治体だけに適用される決まりをつくることができます。この決まりのことを何といいますか。漢字で答えなさい。

(3) 次のグラフは地方自治体の歳入を示したものです。このグラフで国からの補助は何%だと考えられますか。次のア～オから選び、記号で答えなさい。

ア 約14% イ 約20% ウ 約35% エ 約45% オ 約60%




問3 文中の(③)にあてはまる語句を次のア～エから1つ選び、記号で答えなさい。

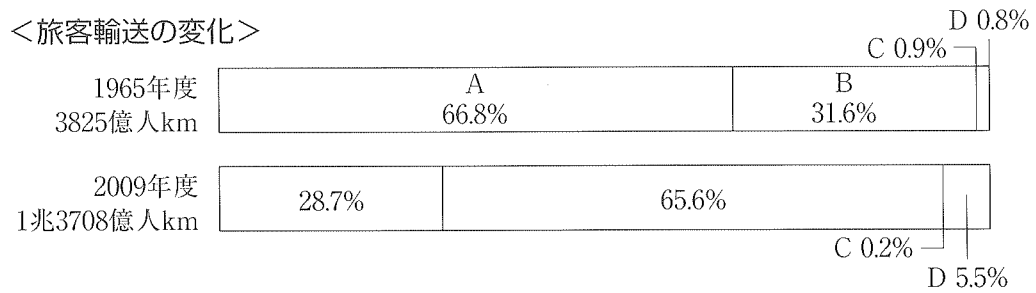
ア 交通 イ 公共 ウ 生活 エ 社会施設

問4 下線部④について、次のグラフは、国内の交通機関別の貨物輸送と旅客輸送の変化を示したものです。グラフ中のA～Dにあてはまる交通機関の組み合わせとして正しいものをア～オから選び、記号で答えなさい。

<貨物輸送の変化>



<旅客輸送の変化>



出典『日本国勢図会2013/14』

(余 白)

	ア	イ	ウ	エ	オ
A	自動車	鉄 道	船 舶	鉄 道	鉄 道
B	船 舶	船 舶	鉄 道	自動車	自動車
C	鉄 道	自動車	自動車	船 舶	航空機
D	航空機	航空機	航空機	航空機	船 舶

問5 右のマークは、国土交通省がつくったエコレールマークです。

国土交通省は、環境にやさしい輸送機関として、鉄道の利用促進をはかっています。鉄道輸送が環境にやさしいとされる理由を書きなさい。



受験番号			

氏名	
----	--

2014年度 須磨学園中学校 第1回入学試験解答用紙 社会

(※の欄には、何も記入してはいけません)

1

問1		問2		問3	
問4		問5	ア	イ	問6

※

2

問1		問2	→ → →	問3	
問4		問5	平野		川
問6	<hr style="border-top: 1px dashed black;"/> <hr style="border-top: 1px dashed black;"/>				

※

3

問1		問2	
----	--	----	--

※

4

問1		問2		問3	
問4		問5	→ → →		

※

5

問1		問2	(1)	(2)	(3)
問3		問4			
問5	<hr style="border-top: 1px dashed black;"/> <hr style="border-top: 1px dashed black;"/>				

※

※
