

1 次の文を読み、あとの各問いに答えなさい。

戦前、①日本の工業は、生糸や輸入綿花を加工した織物などを生産する②せんい工業がさかんでしたが、戦後の1950年代半ばから1970年代にかけて状況が変化しました。まず、③エネルギーの中心が石炭から石油に変わり、太平洋沿岸には④石油化学コンビナートが立ちならぶようになりました。また、重化学工業（金属工業・機械工業・化学工業など）が発展し、日本の工業の中心になりました。この時期は高度成長期とよばれています。1970年代は二度にわたる⑤石油危機（オイルショック）により、石油や原料の価格が急に値上がりし、日本の工業は大きな影響を受けました。これをきっかけに、日本の会社は省エネルギーや新しい技術の開発に積極的に取り組み、「ものづくり大国」「技術大国」として世界をリードするようになりました。しかし、1980年代に円高の進行により、⑥日本の会社は、アジア諸国など海外に多くの工場を移し、国内産業が衰退し始めました。2000年代には、自動車やコンピュータの中に組みこまれる電子部品の生産がさかんになりました。しかし、新興工業国の技術向上や歴史的な円高で海外での競争力は低下しています。

問1 下線部①について、次の(1)、(2)の問いに答えなさい。

(1) 次の①～③の条件を満たす工業地帯・地域を下のア～カから1つ選び、記号で答えなさい。

- ① 太平洋に面していない。
- ② 工業生産額が12兆3814億円で、下のア～カの工業地帯・地域の中では第5位である。
- ③ 工業生産額の内訳は次のグラフのようになっている。

金属	機械	化学	食料品	その他
20.6%	13.4%	43.5%	13.2%	9.3%

〈統計年度2009年：出典『日本国勢図会2011/2012』〉

- ア 関東内陸工業地域
- イ 京浜工業地帯
- ウ 京葉工業地域
- エ 中京工業地帯
- オ 阪神工業地帯
- カ 北九州工業地帯

(2) 日本の工業の歴史について説明した文を古い順にならべかえ、記号で答えなさい。

- ア 造船業や海運業が急激にのび、「船成金」と呼ばれる人が現れ、後に財閥として発達した。
- イ 厳しい身分制度のもと、職人が手作業で生活必需品をつくっていた。
- ウ 軍需工業がさかんになり、労働力不足を補うため学徒動員により学生たちまでも工場で働いた。
- エ 戦争による賠償金をもとに工場が建設され、日本に第一次産業革命が起きた。

問2 下線部②について、現在の日本は、自動車・精密機械・コンピューターなどを国内で生産し、海外へ輸出しています。反対に、せんい製品は海外でつくられたものを輸入しています。なぜ、そのような違いが生じるのですか。円高以外の原因を1つ説明しなさい。

問3 下線部③について、次の(1)、(2)の問いに答えなさい。

(1) 次の4つの表は、石炭と石油の国内生産量・輸入量・自給率のうつりかわりとわが国の火力発電量と総発電量のうつりかわり、石炭・石油の輸入相手国を表しています。4つの表を見て、次の語句から始まる文章を完成させなさい。

①石炭の消費が増えているのは、
②石油が石炭ほど輸入が増えないのは、

	国内産出量 (千t)	輸入量 (千t)	自給率 (%)
1980年	18095	72711	19.9
1990年	7980	104835	7.1
2000年	3126	145278	2.1
2009年	1281	161811	0.8

	国内産出量 (千kl)	輸入量 (千kl)	自給率 (%)
1980年	503	256833	0.2
1990年	632	228760	0.3
2000年	740	250578	0.3
2009年	921	211863	0.4

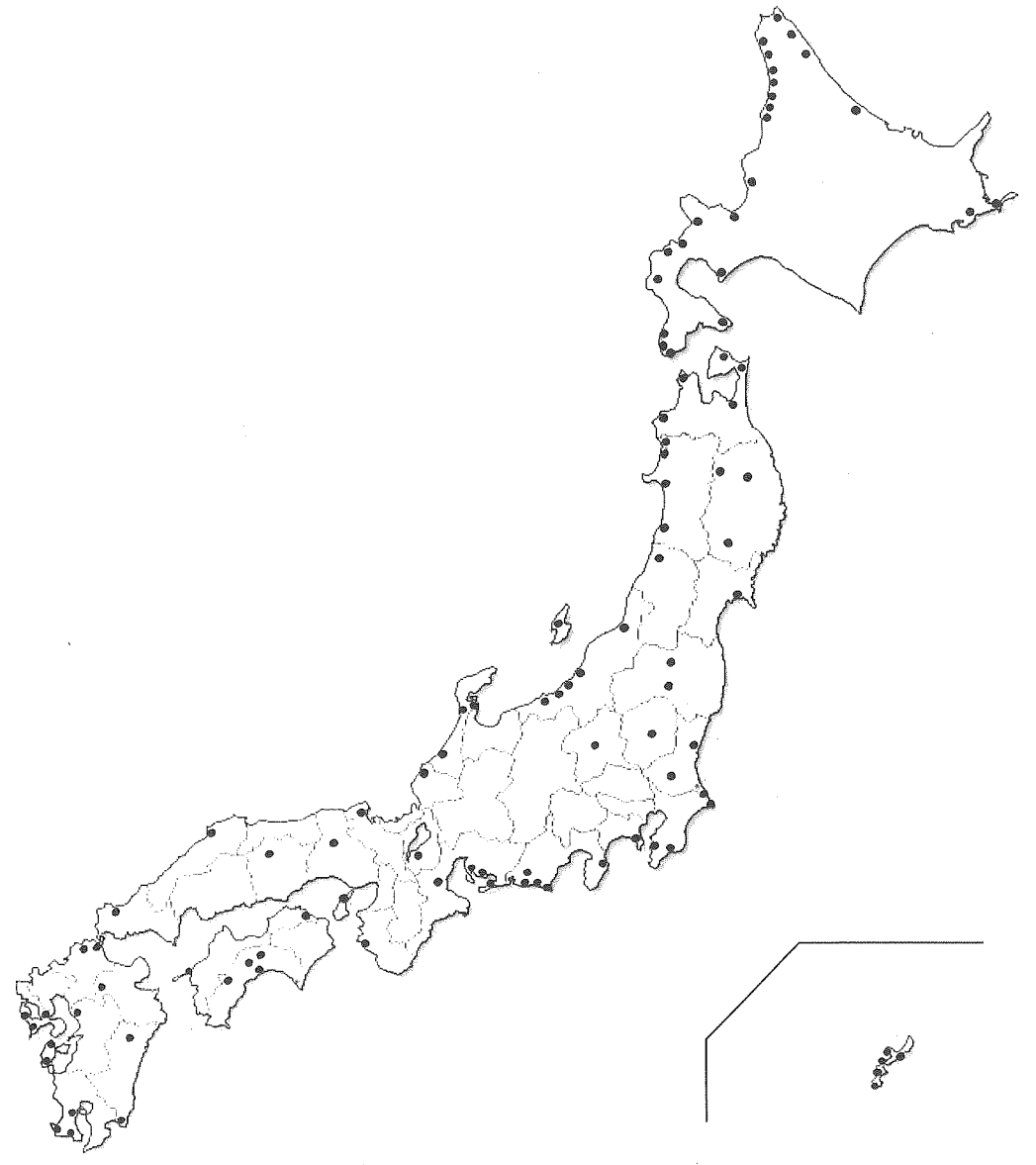
	火力発電量 (百万kwh)	総発電量 (百万kwh)
1980年	401967	577521
1990年	557423	857272
2000年	669177	1091500
2009年	742522	1112622

	石 炭	石 油
1位	オーストラリア (63.7)	サウジアラビア (30.3)
2位	インドネシア (18.3)	アラブ首長国連邦 (20.6)
3位	ロシア (5.8)	カタール (11.8)
4位	カナダ (5.7)	イラン (9.8)
5位	中国 (3.4)	クウェート (7.5)

〈統計年度2010年：出典『日本国勢図会2011/2012』〉

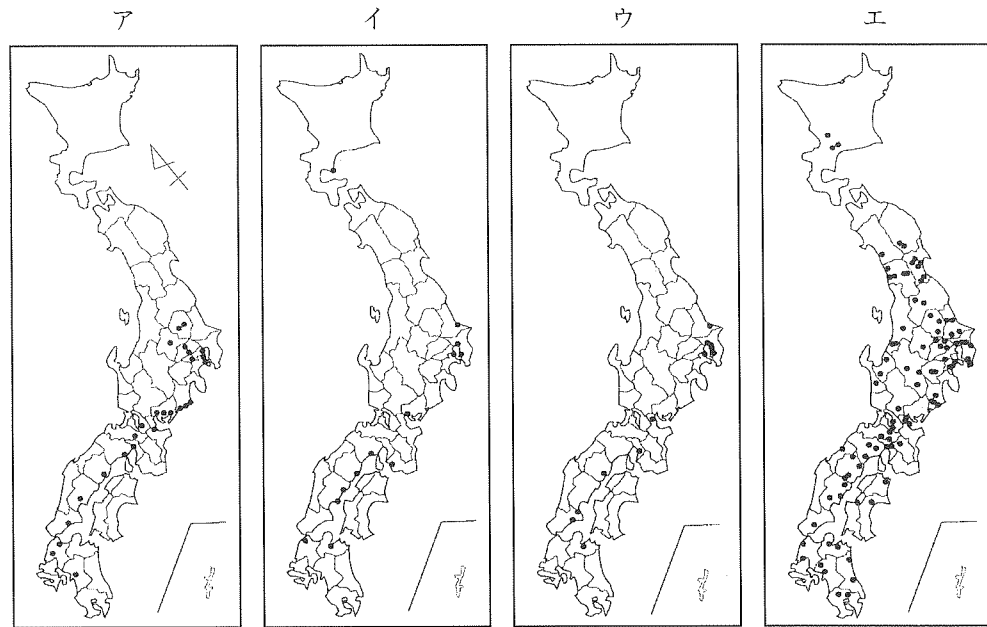
(2) 近年、クリーンエネルギーが注目されています。下の地図は、あるクリーンエネルギーによる発電施設(10キロワット以上)の分布を示しています。あるクリーンエネルギーとは何ですか。次から選び、記号で答えなさい。

- ア 水力 イ 原子力 ウ 風力 エ 地熱



〈2002年度末 資源エネルギー庁資料より作成〉

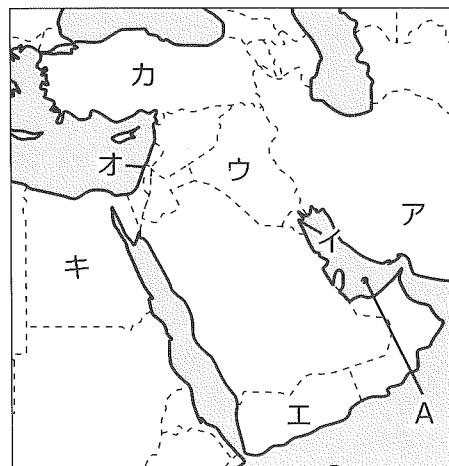
問4 下線部④について、石油化学コンビナートの分布を示している図を次から選び、記号で答えなさい。



〈出典『日本国勢図会2011/2012』〉

問5 下線部⑤について、次の(1)、(2)の問いに答えなさい。

(1) 第一次石油危機(オイルショック)は、1973年に発生した第四次中東戦争をきっかけにおこりました。中東戦争は、アラブ諸国とユダヤ人国家との戦争です。そのユダヤ人国家の名前を答え、位置を右の地図中のア～キから選び、記号で答えなさい。

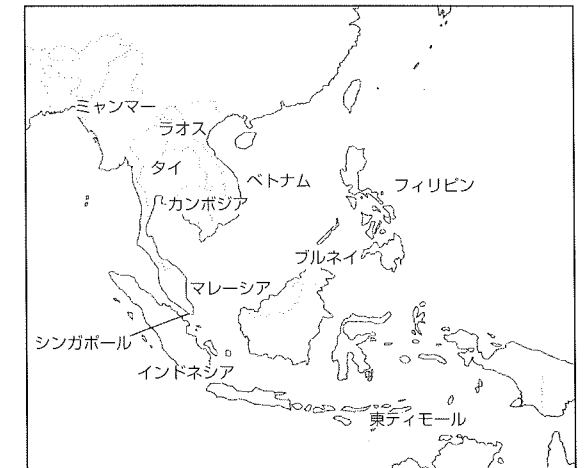


(2) 地図中のAの湾の沿岸には油田が多く分布しています。この湾の名前を答えなさい。

問6 下線部⑥について、このような現象を何といいますか。

2 須磨学園中学校では、2年生でアジア研修旅行を実施しています。下の表は、ある年のアジア研修旅行の日程表です。この表と地図を見て、あとの各問いに答えなさい。

日程	コース
1日目	関西空港→台湾
2日目	台湾→香港→ベトナム
3日目	ベトナム
4日目	ベトナム→マレーシア
5日目	マレーシア→シンガポール
6日目	シンガポール→香港
7日目	香港→関西空港




問1 下の表は、日本国内の空港で旅客数が多い空港の国内線・国際線の利用者数を示したものです。

表中の①～④の空港は、関西国際空港、中部国際空港、東京国際(羽田)空港、成田国際空港のいずれかにあてはまります。正しい組み合わせをア～キから選び、記号で答えなさい。

				(単位 人)				
空港	合計	国内線	国際線	①	②	③	④	
①	65,595,458	63,157,057	2,438,401	ア	関西	中部	東京	成田
②	29,572,398	1,134,137	28,438,261	イ	東京	成田	中部	関西
新千歳	17,303,843	16,515,280	788,563	ウ	成田	東京	関西	中部
福岡	16,817,358	14,775,647	2,041,711	エ	東京	成田	関西	中部
大阪	15,382,431	15,382,431	0	オ	東京	関西	成田	中部
③	15,097,637	5,219,343	9,878,294	カ	成田	東京	中部	関西
那覇	14,907,178	14,600,692	306,486	キ	成田	関西	東京	中部
④	10,585,047	5,832,917	4,752,130					

〈統計年度2008年 出典「国土交通省航空局HP 暦年・年度別空港管理状況調査」〉

問2 最初に訪問する台湾について、日清戦争後、日本は台湾を植民地にし産業の発達を進めました。右の人物は特に台湾の製糖工業の発展に努力した人物です。また、後に国際連盟が設立されると事務局次長を務めました。この人物の名前を漢字で答えなさい。



問3 2日目に訪問する香港について、香港は1997年にイギリスから中国に返還されました。香港が長い間イギリス領になったのはある戦争がきっかけでした。その戦争の日本への影響として正しいものを次から1つ選び、記号で答えなさい。

- ア この戦争の後、日本が得た大陸の半島を三国干渉により返さざるをえなくなった。
- イ 異国船打ち払い令にかわり、外国船に対して燃料の薪や水を与えるよう命令が出された。
- ウ この戦争がおきると、日本はドイツ・イタリアと軍事同盟をむすんだ。
- エ イギリス・アメリカ・日本など主要国は、中国の各地を植民地として支配するようになった。

問4 3日目に訪問するベトナムについて、次の(1)、(2)の問いに答えなさい。

- (1) かつてベトナムは、1258年、1285年、1287年の3回にわたって中国の侵攻を受けました。ちょうど同じ頃、日本も中国から2度にわたり侵攻を受けました。当時の中国の国名を答えなさい。
- (2) ベトナムは稲作がさかんです。日本に稲作が伝わった頃の様子を説明する文を次から1つ選び、記号で答えなさい。
 - ア 稲作が大陸から伝わったように、たくさんの人や動物が移り住んだ。
 - イ 鉄器や青銅器などの金属器が伝わり、このころから始まった戦争にも利用されるようになった。
 - ウ 仏教が伝わり、豪族の間で仏教をめぐる対立が起きた。
 - エ 邪馬台国が30カ国を従えて大きな勢力を持っていた。

問5 4・5日目に訪問するマレーシア、シンガポールなどの東南アジア諸国について、次の(1)、(2)の問いに答えなさい。

- (1) 17世紀前半、日本と東南アジア諸国との貿易が発展し、東南アジア各地に日本町がつくられました。その一つに山田長政が活躍したアユタヤがあります。アユタヤは現在の何という国にありますか。次から1つ選び、記号で答えなさい。
 - ア ベトナム イ カンボジア ウ インドネシア エ タイ
- (2) 東南アジアの国々は1967年に東南アジア諸国連合を結成し、経済や政治などの分野で地域協力をおこなっています。この東南アジア諸国連合の略称を次から1つ選び、記号で答えなさい。
 - ア ASEAN イ APEC ウ OPEC
 - エ NIES オ TPP

3 次の文を読み、あとの各問いに答えなさい。

最近、「社会保障と税の一体改革」という言葉を耳にします。少子高齢化や核家族化などの社会の変化が急速に進むなかで、日本の①社会保障制度に様々な問題がおこってきました。そこで、社会保障制度の見直しに加え、その財源確保のため、税制改革も同時に進めようというのが「社会保障と税の一体改革」です。

そのひとつとして考えられたのが②消費税の引き上げです。消費税増税法は、今年の8月10日に③参議院本会議で採決され、民主、自民、公明3党などの賛成多数で可決、成立しました。これによって、現行5%の消費税率は平成26年4月に8%、27年10月に10%へ2段階で引き上げられることになりました。

問1 下線部①について、次の(1)、(2)の問いに答えなさい。

(1) 社会保障制度は、日本国憲法が定めている「すべての国民が健康で文化的な生活を送ることができる権利」を国が保障する制度です。憲法が保障するこの権利は、次のどの基本的人権に含まれますか。1つ選び、記号で答えなさい。

ア 自由権 イ 平等権 ウ 社会権 エ 参政権

(2) 次の文のうち、社会保障制度に関係のないものを1つ選び、記号で答えなさい。

ア 定年退職後にも生活できるように、年金を受け取ることができる。
イ 病院にかかったとき、医療費は自己負担分を支払う。
ウ 失業したときに、一定期間の生活費を受け取ることができる。
エ 病気や事故にあっても困らないように、生命保険をかける。

問2 下線部②について、次のア～オの税の中から、消費税と同じ間接税にあたるものを1つ選び、記号で答えなさい。

ア 所得税 イ 酒税 ウ 法人税 エ 相続税
オ 市町村民税

問3 下線部③について、次の文は参議院について述べたものです。正しいものを1つ選び、記号で答えなさい。

ア 参議院議員の被選挙権は25歳以上で、任期は6年である。
イ 衆議院と参議院の議決が異なったときは、参議院の議決が優先される。
ウ 参議院議員選挙は小選挙区制と比例代表制によっておこなわれる。
エ 参議院は内閣不信任決議をすることができない。
オ 参議院は任期の途中でも解散することがある。

問4 わが国の税の歴史について、次の(1)～(4)の問いに答えなさい。

(1) 次の資料には奈良時代の税の負担に苦しむ農民の姿が描かれています。この資料がおさめられている奈良時代の歌集名と資料中の()にあてはまる語句を答えなさい。


たまたま人間として生まれ、人並みに働いているのに、綿も入っていない麻のそでなしの、しかも海松のように破れて垂れ下がり、ほろほろになったものばかりを肩にかけて、低くつぶれかけた家、曲がって傾いた家の中には、地べたにじかに藁を解き敷いて、父母は枕の方に、妻子は足の方に、自分を囲むようにして、悲しんだりうめいたりしており、かまどには火の気もなく、甕には蜘蛛の巣がはって、飯を炊くことも忘れたふうで、かほそい力のない声でせがんでいるのに、「短いものの端を切る」ということわざと同じように、鞭を持った()の呼ぶ声が寝室にまで聞こえてくる。世間を生きてゆくということはこれほどどうしようもないものなのだろうか。この世の中をつらく身も痩せるように耐え難く思うけれども、飛んで行ってしまふこともできない。鳥ではないのだから……。 (現代語訳)

(2) 次の文は、奈良時代の税のしくみについて述べたものです。正しいものを1つ選び、記号で答えなさい。

- ア 口分田を支給されたすべての農民は、地方の特産物を納める調という税も納めなければならなかった。
- イ 成年男子は、租・庸・調という税を都まで運ばなければならなかった。
- ウ 女子にも男子の3分の2の口分田が与えられ、税を納めなければならなかった。
- エ 成年男子には庸という税が課せられ、年間60日を都で働かなければならなかった。

(3) 右の図は、明治政府が1873年に税制の改革をおこなったときに、土地の所有を認めるために発行した証明書です。

この税制改革のことを何といますか。
漢字で答えなさい。



(余 白)

(4) (3) の改革が行われた1873年には、満20歳以上の男子に3年間の兵役を課す命令がくだされました。これを何と言いますか。漢字で答えなさい。

問5 2012年、新たに設置された省庁として正しいものを1つ選び、記号で答えなさい。

- ア 消費者庁
- イ 社会保険庁
- ウ 海上保安庁
- エ 復興庁

受	験	番	号

氏名	
----	--

2013年度 須磨学園中学校 第1回入学試験解答用紙 社会

(※の欄には、何も記入してはいけません)

1

問1	(1)		(2)	→	→	→
問2						
問3	(1)	①石炭の消費量が増えているのは、				
	(2)	②石油が石炭ほど輸入が増えないのは、				
問4		問5	(1)	国名	位置	(2) 湾
問6						※

2

問1		問2		問3		
問4	(1)	(2)		問5	(1)	(2)
						※

3

問1	(1)	(2)		問2		問3	
問4	(1)	歌集		語句		(2)	
	(3)		(4)		問5		
							※
							※