

1 次の文を読み、あとの各問いに答えなさい。

日本人は昔から、自然の美しさ、生活のようす、感情を歌にして表現してきました。奈良時代につくられた万葉集には天皇から庶民にいたるさまざまな人びとの約4500首の歌がまとめられました。万葉集におさめられた歌をいくつかあげてみましょう。

あおによし 奈良の都は 咲く花の におうがごとく ①今さかりなり

これは、新しく造られた都をたたえた歌です。都のはなやかさや、そこでくらす人々の気持ちまで感じ取れます。しかし、その一方で庶民の貧しい生活のようすをうたったものもあります。

わたしは、ほかの人と同じように耕作しているのに、ほろほろの着物を着て、かたむいた家の中に住んでいる。地面にじかにわらをしき、わたしのまくらべには父母が、足もとには妻子たちが、……生活を切りつめて生きているのに、(②)は、むちを片手に戸口までやってきて、おどして税を取ろうとする。  
…………… (現代語訳、一部)

同じ時代につくられた2つの歌を読みくらべると、社会のようすがよく分かります。また、このような歌もあります。

天の原 ③ふりさけ見れば 春日なる 三笠の山に いでし月かも

星空を見あげて、自分の心情をあらわした歌です。このように人々はどういうふうにつけ、悲しいにつけ、自分の気持ちを歌によみました。

次の平安時代になっても、さかんに歌がよまれ、歌集などが残されています。平安時代によまれた歌で最も有名なものが次にあげる藤原道長の歌ではないでしょうか。

④この世をば わが世とぞ思う 望月の かけたる事も なしと思えば

江戸時代になると、政治や社会を皮肉った歌がよまれました。

⑤白河の 清きに魚も すみかねて もとの濁りの 田沼こいしき

この歌は、ワイロがはびこる政治を終わらせ、新たにはじまった政治改革を批判的によんだ歌です。歌にすることにより、庶民が幕府権力への不満をはらしているのかもしれない。

日本人はしばしば辞世の句といって、死のまぎわになり、人生をふりかえり、あるいは死に直面し、その時の感情を歌にして残しています。次の歌は豊臣秀吉の辞世の句です。天下を統一した秀吉ですが、自分の命は露のように短くはかなく消えるものであり、天下統一もひと夜の夢のようだと人生を振り返っています。

露と落ち 露と消えにし わが身かな ⑥浪速のことも ゆめのまたゆめ

次の句は江戸時代の末期、長州藩の奇兵隊を率いて倒幕運動に活躍した高杉晋作の辞世の句です。⑦高杉晋作の生きかたや、短い人生に満足している気持ちがうかがえます。

おもしろき ことも無き世を おもしろく

このように、日本人は短い文章の中に、さまざまな気持ちを込めてきました。このような文化を今後も残していきたいものです。

問1 下線部①について、下線部の「今」がしめす奈良時代のできごとを次のア～カから3つ選び、記号を古い順に並べかえなさい。

- ア 遣唐使が廃止になる      イ 国分寺・国分尼寺を<sup>こんりゅう</sup>建立する命令がくだる  
ウ 大宝律令<sup>たいほうりつりょう</sup>がつくられる      エ 東大寺の大仏が完成する  
オ 壬申<sup>じんしん</sup>の乱が起きる      カ 古事記がつくられる

問2 空らん( ② )に入る語句を答えなさい。

問3 下線部③について、「ふりさけ見れば(ふりかえって見れば)」とありますが、この歌の作者はどこでそうしましたか。次から1つ選び、記号で答えなさい。

- ア 平安京周辺      イ 平城京周辺      ウ 国内のその他の場所      エ 外国

問4 下線部④について、「この世」とはどのような政治がおこなわれている世の中をあらわしていますか。次から1つ選び、記号で答えなさい。

- ア 執権<sup>しつけん</sup>政治      イ 摂関<sup>せつかん</sup>政治      ウ 院政      エ 幕藩<sup>ばくはん</sup>政治

問5 下線部⑤について、「白河」は政治改革を行った白河藩出身の人物とその政治を表しています。この人物と政治を説明する文を次から1つ選び、記号で答えなさい。

- ア 朱子学者であるこの人物は、生類あわれみの令の廃止など、それまでの政治をあらためた。  
イ 目安箱の設置や漢訳洋書の輸入を許可<sup>きょか</sup>するなど、新しい政治を導入した。  
ウ 朱子学以外の学問を禁じる命令<sup>しよみん</sup>や庶民の生活上のぜいたくを禁止する命令をだした。  
エ 武家諸法度の制定や参勤交代など、幕府の権力を強化する政策をすすめた。

問6 下線部⑥について、「浪速」とは現在の大阪です。大阪の歴史として正しいものを次から1つ選び、記号で答えなさい。

- ア 聖徳太子は奈良に法隆寺を建立した後、大阪湾を見下ろせる丘陵地の上に四天王寺を建立した。  
イ 室町時代の朱印船貿易で大阪の堺が発展し、鉄砲の生産などを通じて、町の人々が力を持ち、自治がおこなわれていた。  
ウ 大阪の地に栄えた石山本願寺を信長が倒した後、秀吉により大阪城が築かれた。大阪城はその後、大阪夏の陣で家康<sup>ひさ</sup>が率いる軍に包囲され落城した。  
エ 江戸時代、大阪は幕府の直轄領<sup>かつかつ</sup>である天領となり、税などが軽減されたことで、商業が発達し、「天下の台所」と言われる日本最大の人口都市に発達した。

問7 下線部⑦について、下の写真の人物は、山口県萩の松下村塾で、幕末から明治維新にかけて活躍した高杉晋作や伊藤博文などを教えました。この人物の名前を漢字で答えなさい。



2 次の文を読み、あとの各問いに答えなさい。

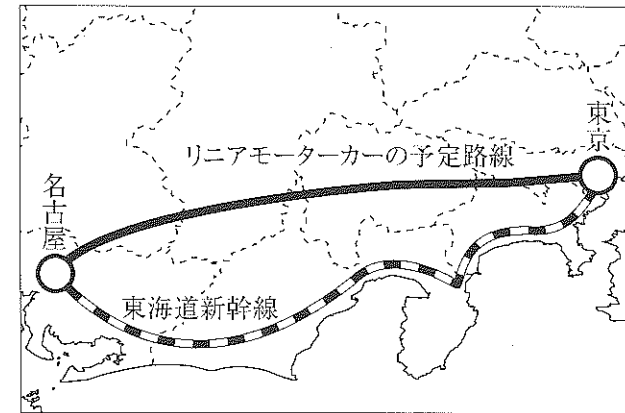
昨年日本は、火山噴火や地震、台風など多くの自然災害に見舞われました。なかでも、3月に起こった東日本太平洋沖地震では、①東北地方の太平洋沿岸を巨大津波がおそい、2万人近い死者・行方不明者が出ました。②交通機関が寸断されたり、③漁業や農業などの産業も大きな打撃を受けました。④国宝や重要文化財など数々の文化財にも損傷・倒壊したのもありました。さらに、⑤福島第一原子力発電所事故が発生し、放射能汚染の問題が深刻化しています。それに対して、政府は一刻も早い復興のために必要な法律をつくり、⑥財源の確保につとめています。ひとたび自然災害が発生すれば、人命や建築物に大きな被害をおよぼします。自然災害の発生をくいとめることはできませんが、観測や調査をおこなうことにより、⑦自然災害の発生を予知し、被害を減らすことが大切です。

問1 下線部①について、東北地方の太平洋岸をおそった津波の被害が大きくなったことの原因の1つに、リアス式海岸であったことがあげられます。同じリアス式海岸が見られる地域を次から1つ選び、記号で答えなさい。

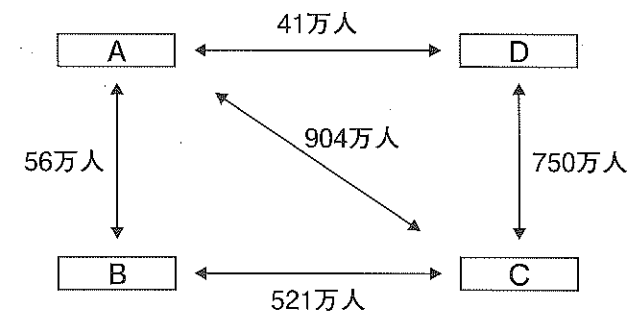
- ア 千葉県チバケンの房総半島
- イ 北海道ホッカイドの根釧台地こんせん付近
- ウ 新潟県ニガタケンの信濃川河口付近
- エ 愛媛県エヒメケンの西部の海岸

問2 下線部②について、次の問いに答えなさい。

(1) 日本では2045年を目標に東京－大阪間にリニアモーターカーを建設する計画が進んでいます。下の図は現在の新幹線と、リニアモーターカーが予定されている路線図です。新幹線と比べて、リニアモーターカーの路線はどのような特徴がありますか。またその理由をあわせて答えなさい。



(2) 次の図は大阪国際空港（大阪府）、新千歳空港（北海道）、羽田空港（東京都）、福岡空港（福岡県）の各都市の間を結ぶ航空路線の1年間の旅客数を示しています。A～Dに当てはまる空港の正しい組み合わせを、下の表中のA～カから選び、記号で答えなさい。



〔出典：平成22年 航空輸送統計年報〕

	ア	イ	ウ	エ	オ	カ
A	福岡	新千歳	大阪国際	新千歳	羽田	福岡
B	大阪国際	福岡	福岡	大阪国際	新千歳	羽田
C	羽田	羽田	羽田	羽田	大阪国際	大阪国際
D	新千歳	大阪国際	新千歳	福岡	福岡	新千歳

問3 下線部③について、東北地方はさまざまな産業が発達しています。産業に関する次の各問いに答えなさい。

(1) 東北地方の太平洋沖には暖流と寒流がぶつかる潮目が位置し、好漁場になっています。次のア～エのうち、寒流にすむ魚の組み合わせとして正しいものを1つ選び、記号で答えなさい。

- ア さけ・ほっけ      イ かつお・あじ      ウ ほっけ・まぐろ  
エ さば・かつお


(2) 東北地方の各地にはさまざまな伝統工芸品が伝わっています。次のア～エのうち、伝統工芸品と関係の深い都道府県の組み合わせとして正しいものを1つ選び、記号で答えなさい。

- ア 赤間すずり・岡山県      イ 大島つむぎ・沖縄県  
ウ 砥部焼・愛媛県      エ 輪島塗・新潟県


問4 下線部④について、昨年6月、東北地方の文化財の中で、平泉の建築物や庭園などがユネスコの世界文化遺産に登録されました。次のア～エの世界文化遺産と関係の深い人物との組み合わせのうち、まちがっているものを1つ選び、記号で答えなさい。




足利義満



運慶・快慶



徳川吉宗



平清盛

問5 下線部⑤について、福島第一原子力発電所の事故では、国際原子力機関の調査団が日本を訪れ、事故調査を行いました。原子力の平和利用を促進する国際原子力機関の略称を次から1つ選び、記号で答えなさい。

- ア IOC      イ INF      ウ IAEA      エ ISO

問6 下線部⑥について、昨年6月、東日本大震災復興基本法が成立し復興が進められることになりました。被災地の復興に必要な費用の一部は、国が国民などからお金を借り入れてまかさないです。この借り入れのために発行するものを何と言いますか。漢字2字で答えなさい。

問7 下線部⑦について、日本は自然災害の多い国です。日本人は昔から被害を避けるために様々な工夫をおこなってきました。次のア～エは各地に見られる工夫を説明しています。正しいものを1つ選び、記号で答えなさい。

ア 関東地方では、からっ風と呼ばれる乾燥した冬の季節風から田畑や家屋を守るため、田畑や家屋の南東方向に防風林を植えている。

イ 濃尾平野西部の木曾川や揖斐川が合流する低地では、洪水の被害を避けるため石垣の上に建てられた水屋と呼ばれる小屋で生活している。

ウ 沖縄の伝統的な家屋は、台風の被害を避けるため屋根を高くし、その周辺を石垣や「ふくぎ」とよばれる防風林でかこんでいる。

エ 豪雪地域では、屋根の傾斜を急にしたり、流雪溝と呼ばれる雪を川に流してすてる設備がある。

3 次の文を読み、あとの各問いに答えなさい。

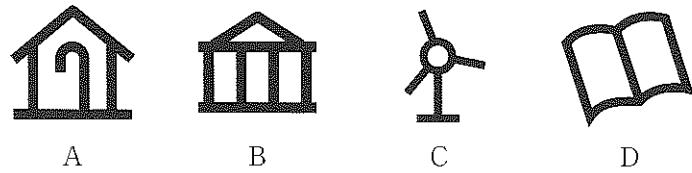
私たちの身のまわりには、たくさんのマークがあふれています。マークとは、人間により作られた①記号、符号、しるし、標章、図案などのことです。マークはそれぞれ何かの意味やイメージを示すために用いられます。私たちは日常生活において、文字を読まずとも、マークを見ただけでその意味を理解したり、そのマークをシンボルとする会社や団体を連想したりしています。マークが普及することによって私たちの日常生活は大変便利なものになっているのです。

日本に昔からあるマークの1つに②家紋があります。家紋は自らの家系や家柄、地位などを表すために用いられました。戦国時代に入ると、同族どうしでの争いが増えたことから、敵味方を区別するために家紋がもちいられ、急激に家紋の種類が増えたといわれています。

また、都道府県の③県章もマークの1つです。県章のデザインは各都道府県の風土・歴史・文化などが象徴的に表現されていて、マークから県が連想されるように工夫されています。

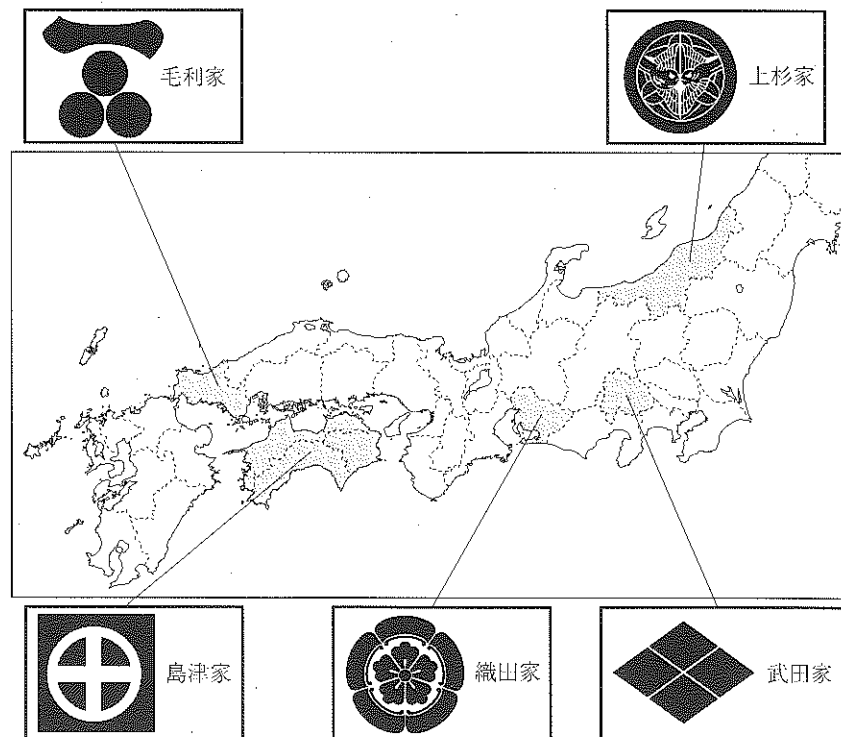
また、私たちの身近で最近良く目にするマークに④エコマークや環境ラベルがあります。エコマークや環境ラベルは、私たち消費者が暮らしと環境の関係について考えたり、環境に配慮された商品を選んだりするための目安として役立てられています。

問1 下線部①について、次の地図記号A～Dは何を表していますか。その組み合わせとして、正しいものを下の表中のA～オから選び、記号で答えなさい。

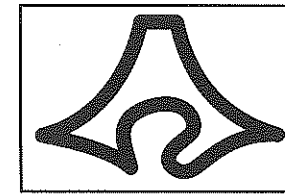


	ア	イ	ウ	エ	オ
A	老人ホーム	老人ホーム	福祉施設	老人ホーム	福祉施設
B	文化遺産	博物館	文化財	博物館	会議所
C	風力発電	風力発電	鉄塔	風力発電	鉄塔
D	図書館	図書館	大学	大学	専門学校

問2 下線部②について、次の地図は戦国大名の領地と家紋・名前を表しています。まちがっているものを1つ選び、大名の名前を答えなさい。




問3 下線部③について、次の県章があらわす都道府県を説明する文をア～エから1つ選び、記号で答えなさい。




- ア 工業生産額が全国1位で、主に自動車などの機械工業が発達しています。また、南部の温暖な半島では、電照菊の栽培もさかんです。
- イ 日本アルプスと呼ばれる高い山脈が見られ、冬には豪雪地帯となります。そのため、各地に合掌造りの家屋が見られ、世界遺産に登録されています。
- ウ 浅間山のふもとでは、高原の涼しい気候を利用した野菜栽培が見られます。また、自動車の組み立て工場なども立地し、近年は工業が発達しています。
- エ 新幹線などの交通の便のよさもあり、工業が発達しています。特に、自動車・オートバイなどの生産がさかんです。また、台地では茶の栽培もさかんです。

問4 下線部④について、次のうち環境に関係のないマークを1つ選び、記号で答えなさい。

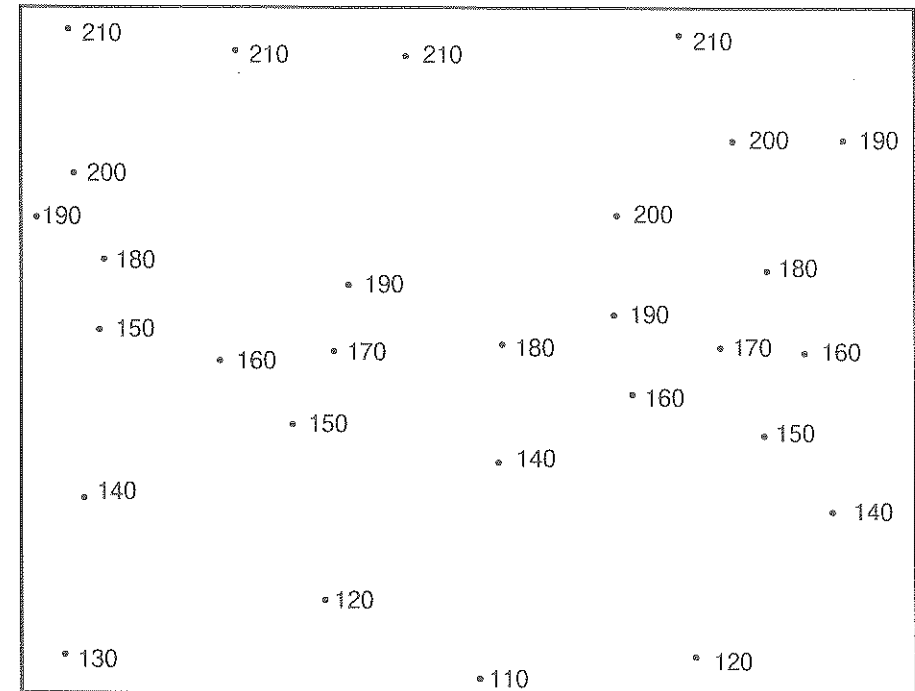


問5 次の写真は目の不自由な方が、手でさわって理解できるように工夫されている製品の例です。このように、国籍や老若男女といった違いや、障害の有無を問わずに利用することができる施設や製品のデザインを何といいますか。次から1つ選び、記号で答えなさい。



- ア バリアフリーデザイン      イ ユニバーサルデザイン
- ウ ユビキタスデザイン      エ ホスピタリティーデザイン

4 次の図は、ある地域の標高を数値で表したものです。この図で表している景色として正しいものを1つ選び、記号で答えなさい。



- ア 低くなだらかな2つの山にはさまれた谷は、河川によりけずられたV字谷がみられる。
- イ 台地上を流れた河川が、けわしいがけで滝となっている。滝の下からは平地をゆるやかに流れている。
- ウ 山地から河川が流れ出るところに扇状地<sup>せんじょうち</sup>ができ、扇状地の斜面ではくだもの畑が広がっている。
- エ 山にはさまれた狭い平地は、河川によりけずられ階段状になった河岸段丘<sup>かかんだんきゅう</sup>が見られる。

受験番号			

氏名	
----	--

2012年度 須磨学園中学校 第1回入学試験解答用紙 社会

(※の欄には、何も記入してはいけません)

1

問1	→	→	問2		問3		
問4		問5		問6		問7	

※
---

2

問1	
問2	(1)
	(2)
問3	(1)
問4	(2)
問5	
問6	
問7	

※
---

3

問1		問2		家	問3		問4	
問5								

※
---

4

--

※
---

※
---