

1 次の文を読み、あとの各問いに答えなさい。

「月日は永遠に旅を続ける旅客であり、毎年あらたまる年もまた旅人である。舟に乗って一生を過ごし、馬のくつわを取って老いてしまう者は、毎日の生活が旅であって、旅を自分の住む場所としているのである。」

これは、松尾芭蕉が記した『奥の細道』の冒頭文です。松尾芭蕉は1689年に東北地方への旅に出て、各地で様々な俳句をよみました。次の文はその一部です。

4月1日に日光の御山に参詣した。昔、この山は二荒山と書いていたのを空海が寺を建て、日光と名前をあらためた。それは1000年後の今日、①日光東照宮のご威光が天下にかがやき、そのおかげで②四民が安心して暮らしていけることをお見通しであったかのようだ。

あらたうと青葉若葉の日の光

なんとなく気持ちが落ち着かないまま、旅の日々が経ってゆくうちに、とうとう③白河の関までやって来た。ようやく旅に気持ちもおちついてきた。・・・この白河の関は東国三関の1つに数えられ、昔から様々な人が心をよせ、詩歌をよんだところだ。

卯の花をかざしに関の晴着かな

④松島から平泉までの距離は二十余里ほどと思われた。⑤藤原氏三代の栄華も、一眠りの夢のようにはかなく消えて、昔の表門の跡は一里ほども手前にある。秀衡の館の跡は田や野原となってしまっていて金鶏山だけが昔の形を残している。

夏草や兵どもが夢の跡

最上川は陸奥から流れ出て、・・・酒田で海に注ぐ。川の兩岸には山がおおいかぶさるようにせまり、樹木の茂っている中を船を下すのである。その⑥船に稲を積んだのを稲船というのであろうか。白糸の滝は青葉のあいだを流れ落ち、⑦水がみなぎりあふれ、舟は今にもしずみそうだ。仙人堂は川岸に

五月雨をあつめて早し最上川

問1 下線部①について、「日光東照宮」はある人物のことを指しています。その人物名を漢字で答えなさい。

問2 下線部②について、江戸時代の身分制度やそれぞれの身分について述べた次の文のうち、まちがえているものをア～オから1つ選び、記号で答えなさい。

ア 豊臣秀吉の刀狩令により兵農分離がおり、その後江戸時代に士農工商の身分制度が確立した。

イ 全体の7%にしか過ぎない武士はおもに城下町に住み、様々な特権を認められ、政治を担当していた。

ウ 農村では村方三役とよばれた役人による自治が行われたが、農民は五人組の制など連帯責任を負わされていた。

エ 士農工商のうち、工商は町にすんだことから「町人」と呼ばれた。江戸時代に栄えた元禄文化や化政文化はこれら町人が中心となった文化であった。

オ 農民は重い税をかせられていたが、住居を移ったり、田畑の売買の自由は認められていた。

問3 下線部③について、白河の関は大化の改新が行われた頃に設置されたと考えられています。このころの出来事を説明する文として正しいものを次のア～エから1つ選び、記号で答えなさい。

ア 大化の改新の直後、近江大津の宮へ都を移し、改新の詔や庚午年籍などが発表された。

イ 隋に渡った人々が、隋の制度を日本に導入し、班田収授などの制度が行われた。

ウ 白村江の戦いで、新羅と唐の軍に敗れた日本は北九州を守る衛士とよばれる兵を置いた。

エ 天智天皇が亡くなると、皇位をめぐり弟と息子が争う壬申の乱がおきた。その結果勝利した弟が即位して天武天皇となった。


問4 下線部④について、松尾芭蕉は松島から平泉に着くあいだ、道に迷いながら現在漁港で有名な石巻に立ち寄っています。次の表中のA～Dは石巻・釧路・焼津・境港の水揚げ量の多い魚とその割合をあらわしています。正しい組合せを下のア～キから1つ選び、記号で答えなさい。

	水揚げ量の多い魚とその割合
A	かつお(65.4%)・まぐろ(22.1%)
B	かつお(30.3%)・さば(27.1%)
C	たら(48.5%)・さんま(24.6%)
D	あじ(30.6%)・いわし(20.0%)

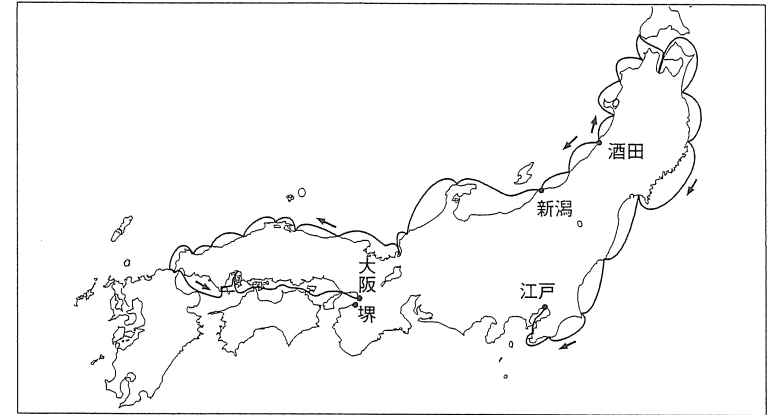
	ア	イ	ウ	エ	オ	カ	キ
A	焼津	焼津	焼津	石巻	石巻	境	境
B	石巻	石巻	釧路	焼津	釧路	石巻	焼津
C	境	釧路	石巻	釧路	焼津	釧路	釧路
D	釧路	境	境	境	境	焼津	石巻

[統計年度：2005年 出典：『データブックオブザワールド2009』より]

問5 下線部⑤について、下の写真は奥州藤原氏が平泉に建てた寺院の一部です。この写真の建てものを漢字6文字で答えなさい。

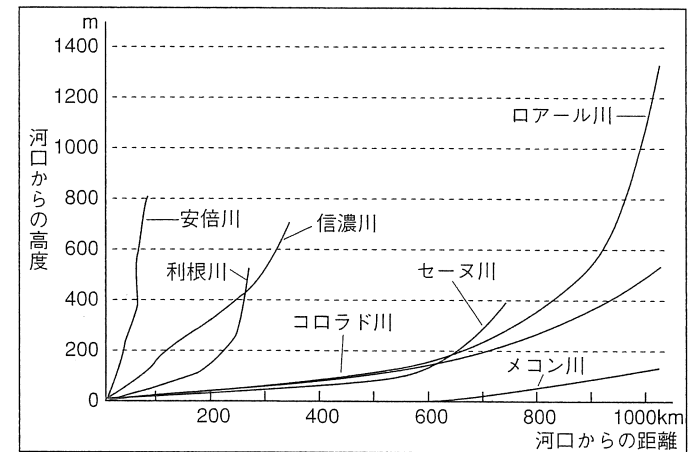


問6 下線部⑥について、最上川流域は江戸時代、最も米の生産が多い地域でした。ここで取れた米は稲船で酒田まで運ばれ、そこから江戸や大阪に運ばれました。下の図はその航路を示しています。この航路を開いた人物として正しいものを次のア～エから1つ選び、記号で答えなさい。



ア 河村瑞賢      イ 二宮尊徳      ウ 宮崎安貞      エ 間宮林蔵

問7 下線部⑦について、次の図は日本と外国の河川の長ささと勾配を示したものです。説明文のうち、まちがえているものを下のア～エから1つ選び、記号で答えなさい。



ア 日本列島は細長く、山がちなため川の水がすぐに海へ流れ出るので、降水量が多  
くても水資源としては使いにくい。  
イ 日本の河川の流量は外国に比べると季節ごとの変動が大きい。  
ウ 日本の河川は流れが急で、比較的短いのが特色である。  
エ 外国の河川は勾配が緩やかなので、水力発電は日本ほどさかんではない。

2 人口重心についての次の文を読み、あとの各問いに答えなさい。

人口重心とは1人1人が同じ重さとして、その地域内の人口が、全体としてつり合いを保つことができる点をいいます。①総務省の統計局がおこなう全国的な調査で明らかにされています。平成17年の日本全体の人口重心は岐阜県の②関市にあります。③重心は統計をはじめた昭和40年から昭和45年までに東へ8.3kmも移動しました。これは統計をとりはじめて以来、5年間という期間の移動としてはもっとも長いものです。その後も約1～3km、およそ東の方角に移動しています。

都道府県別に人口重心がどこにあるかという調査結果もあります。それを見るとおもしろい発見があります。都道府県のなかでも人口重心が海の上にある県が2つあります。沖縄県と□です。また、人口重心が県庁所在地にある都道府県は意外と少ないです。たとえば近畿地方では、兵庫県は④三木市に、⑤奈良県は磯城郡川西町に人口重心があります。また、⑥都道府県別に平成12年から平成17年までに人口重心がどの方角に移動したかという統計もあります。

問1 □にあてはまる県名を答えなさい。

問2 下線部①のなかにある庁として正しいものを次のア～エから1つ選び、記号で答えなさい。

- ア 気象庁      イ 社会保険庁      ウ 消防庁      エ 宮内庁

問3 次の下線部②についてのデータを見て、次の設問(1)(2)に答えなさい。

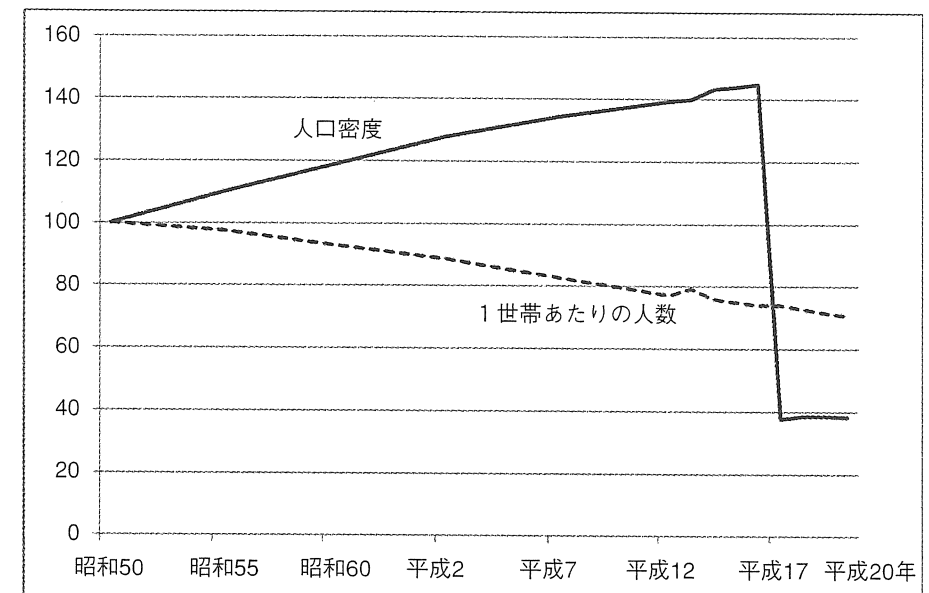
(1) 次の表はこの市の人口に関するデータです。1km<sup>2</sup>あたりの人口密度として、もっとも近いものを下のア～エから1つ選び、記号で答えなさい。

	世帯総数	男性人口	女性人口	面積
平成20年	33,436	46,174人	48,536人	472.84km <sup>2</sup>

[出典：関市市勢要覧より]

- ア 20人      イ 70人      ウ 200人      エ 700人

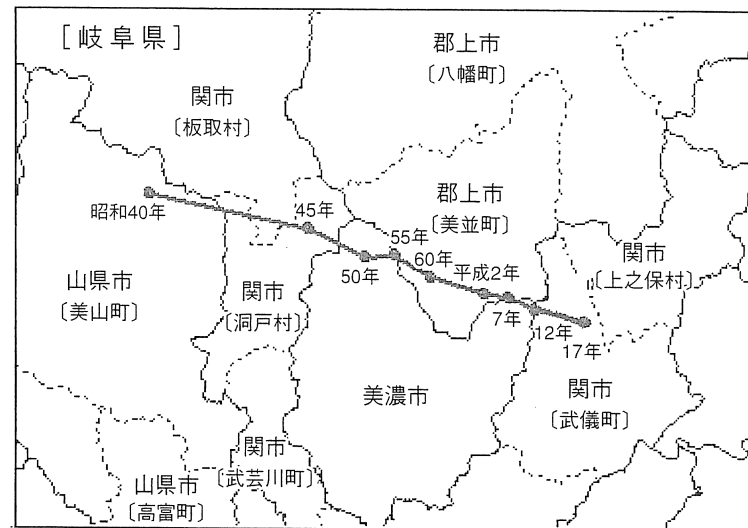
(2) 次のグラフはこの市の1km<sup>2</sup>あたりの人口密度と1世帯あたりの人数について、昭和50年を100としてあらわしたものです。グラフを見ると平成17年に人口密度が急げきに小さくなっています。その原因として正しいものを下のア～エから1つ選び、記号で答えなさい。



[関市市勢要覧より作成]

- ア 自然災害で多くの人々が亡くなった。  
 イ 過疎の村と市町村合併をした。  
 ウ とんりの市へ多くの人々が転出した。  
 エ 市が補助金を出し、出生率が急増した。

問4 下の地図は下線部③をあらわしたものです。人口重心は東に移動しています。特に昭和40年から昭和45年までがもっとも長く移動しています。それらの理由を答えなさい。



[出典：総務省統計局ホームページより]

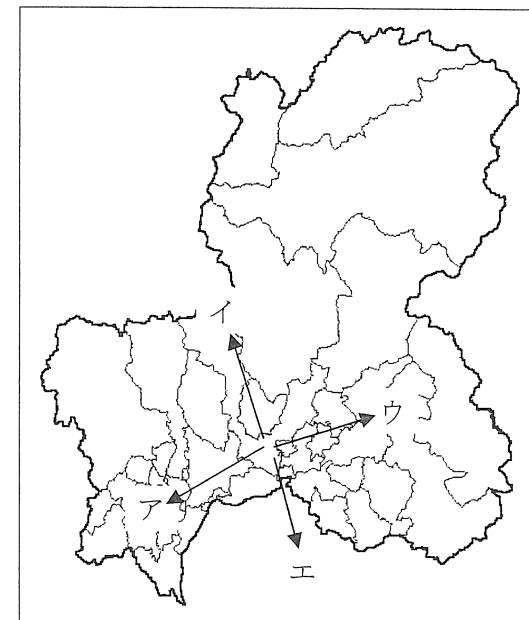
問5 下線部④では刃物が伝統的工芸品に指定されています。伝統的工芸品について説明した次の文のうち、まちがえているものをア～エから1つ選び、記号で答えなさい。

- ア 50年以上作り続けているものをさす。
- イ おもに手作りであることが条件である。
- ウ 都道府県別では京都府がもっとも多くの指定を受けている。
- エ 法律にもとづいて、経済産業大臣が指定する。

問6 下線部⑤について、奈良時代について説明した次の文のうち、正しいものを次のア～エから1つ選び、記号で答えなさい。

- ア 桓武天皇の時代に平城京は唐の長安にならってつくられた。
- イ 聖武天皇は国ごとに国分寺と国分尼寺を建てさせ、奈良には大仏をまつる正倉院を建てた。
- ウ この時代の農民は租庸調の税や防人などの兵役が課せられ、大変苦しい生活をしてた。
- エ この時代には天皇の歌などを集めた、わが国初の和歌集である『古事記』がつくられた。

問7 下線部⑥について、岐阜県の人口重心の移動した方角について、下の資料を参考にして、正しいものを地図中のア～エから1つ選び、記号で答えなさい。ただし、矢印の長さは関係ないものとする。



(資料) 3大工業地帯の工業製品出荷額 (単位は十億円)

	京浜工業地帯	中京工業地帯	阪神工業地帯
1990 (平成2)年	51,591	44,503	40,573
2006 (平成18)年	30,861	54,734	31,408

[出典：『日本国勢図会2009/2010』より]

3 次の文を読んで、あとの問いに答えなさい。

2009年の大河ドラマ『天地人』は新潟を領地としていた戦国大名①上杉景勝<sup>うえすぎかげかつ</sup>の家臣であった直江兼統<sup>なおえかねつぐ</sup>が主人公でした。②新潟県は、面積が5番目に大きい都道府県です。中部地方に属しますが、さらにこまかく富山県・石川県・福井県とともに北陸地方に区分けされたり、③( A ) 県・( B ) 県とともに甲信越<sup>こうしんえつ</sup>地方に区分けされたりします。

新潟県の伝統産業としては、農家の副業だった「④( C ) ちぢみ」がよく知られており、国の重要無形文化財および⑤ユネスコ無形文化遺産<sup>いざん</sup>に指定されています。

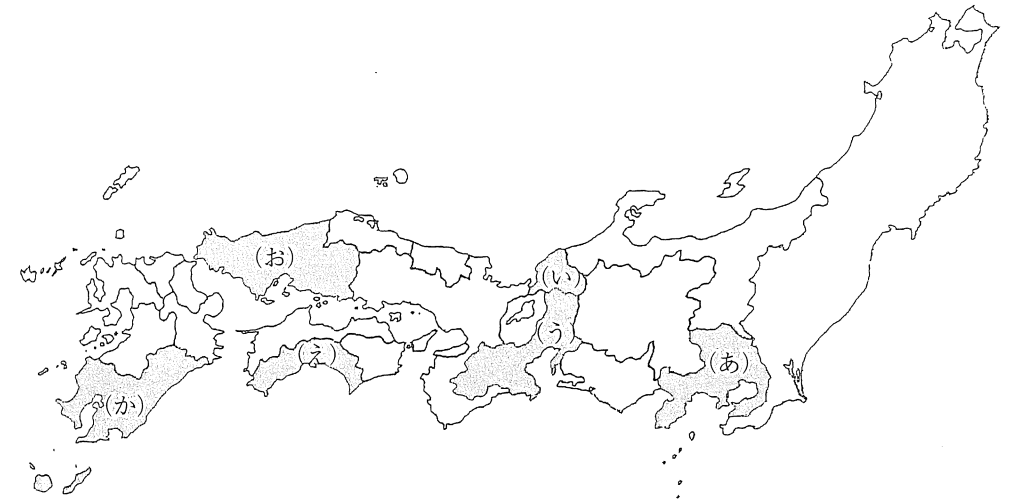
⑥新潟県の県庁所在地は、新幹線を利用すると東京から2時間ほどの距離に位置しています。また、関西圏<sup>かんさいけん</sup>とも⑦特急列車や高速バス・⑧航空路線で結ばれており、日本海側の重要都市として発展<sup>はってん</sup>を続けています。

問1 下線部①について、次の設問(1)～(3)に答えなさい。

(1) 上杉謙信<sup>けんしん</sup>と川中島の戦いで5回にわたり交戦した戦国大名は誰<sup>だれ</sup>ですか。次のア～エから1つ選び、記号で答えなさい。

- ア 織田信長      イ 今川義元      ウ 伊達政宗<sup>だてまさむね</sup>      エ 武田信玄<sup>しんげん</sup>

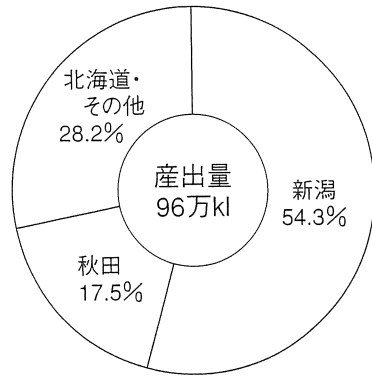
(2) 次の地図は、1560年ごろの戦国大名の勢力範囲を示したものです。戦国大名と領国の正しい組み合わせを、下の表のア～カからすべて選び、記号で答えなさい。



	大名	場所
ア	島津氏 <sup>しまづ</sup>	か
イ	毛利氏	え
ウ	織田氏	お
エ	北条氏	い
オ	伊達氏	あ
カ	朝倉氏	う

(3) 上杉氏は江戸時代には外様大名となりました。大名のうち、親藩<sup>しんぱん</sup>とは、徳川氏の親せきの大名ですが、譜代大名<sup>ふだい</sup>と外様大名はどのような違いがありますか。違いについて説明しなさい。

問2 下線部②について、下のグラフは、ある資源について国内生産割合を示したものです。この資源は、国内消費のほとんどを輸入にたよっています。この資源は何か、答えなさい。



[統計年度：2007年 出典：『日本のすがた』より]

問3 下線部③について、本文中の ( A ) ・ ( B ) に入る県名の組み合わせとして正しいものを、次のア～カより1つ選び、記号で答えなさい。

- |         |         |         |
|---------|---------|---------|
| ア 長野・岐阜 | イ 岐阜・静岡 | ウ 長野・山梨 |
| エ 岐阜・山梨 | オ 富山・岐阜 | カ 富山・長野 |

問4 下線部④について、本文中の ( C ) に入る地名を、次のア～エより1つ選び、記号で答えなさい。

- |                          |       |       |                          |
|--------------------------|-------|-------|--------------------------|
| ア 西陣 <small>にしじん</small> | イ 十日町 | ウ 小千谷 | エ 桐生 <small>きりゅう</small> |
|--------------------------|-------|-------|--------------------------|

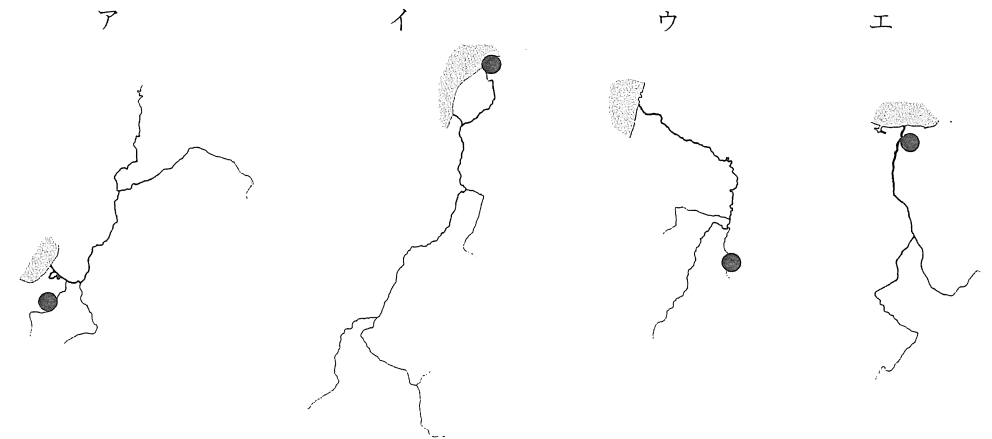
問5 下線部⑤について、この機関は国際連合のなかにあります。国際連合の現在の事務総長は誰ですか。カタカナで答えなさい。

問6 下線部⑥について、次の設問 (1)、(2) に答えなさい。

(1) 新潟県の県庁所在地である新潟市についての説明文としてまちがえているものを、次のア～エより1つ選び、記号で答えなさい。

- ア 新潟市は本州の日本海側で人口が最大の都市である。
- イ 新潟市は大陸の国々と飛行機や船の航路が結ばれている国際都市である。
- ウ 新潟市は日本一の長さの信濃川が海に注ぐ河口に位置している。
- エ 新潟市は1858年にむすばれた日米和親条約による日本海側でただ1つの開港地である。

(2) 次のア～エは河川と県庁所在地についてあらわしたものです。●は県庁所在地のおおよその位置を、■の部分は海をあらわしています。新潟市にあてはまるものを1つ選び、記号で答えなさい。



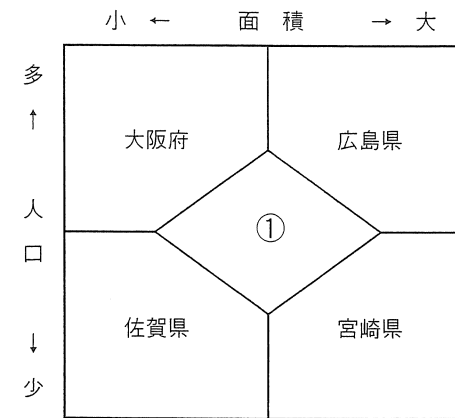
問7 下線部⑦に関して、目的地まで直接自動車で運んでいたものを、排気ガスを減らすために、自動車と鉄道などを組み合わせて運ぶ方法を何というか。カタカナで答えなさい。

問8 下線部⑧について、下の写真は韓国の仁川(インチョン)国際空港です。この空港のように、ある地域の航空路線網の中心となっていて、乗換えが便利な空港を何というか。解答らんにつくように答えなさい。

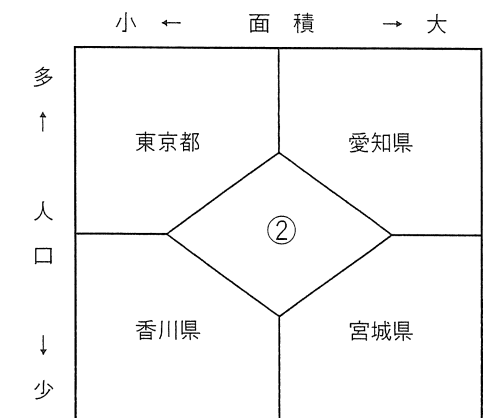


4 図1～図4についてのあとの各問いに答えなさい。

次の図1・図2は、都道府県の面積と人口を比較したものです。中心のひし形に入る都道府県よりも面積が大きいものは右側に、小さいものは左側に書かれています。また、人口が多いものは上側に、少ないものは下側に書かれています。



【 図 1 】



【 図 2 】

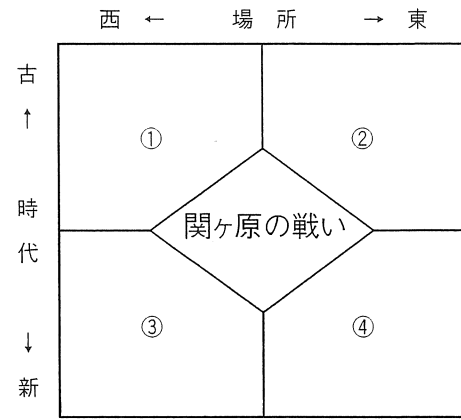
問1 図1中の①に入る都道府県を次のア～エから1つ選び、記号で答えなさい。

ア 北海道      イ 秋田県      ウ 京都府      エ 高知県

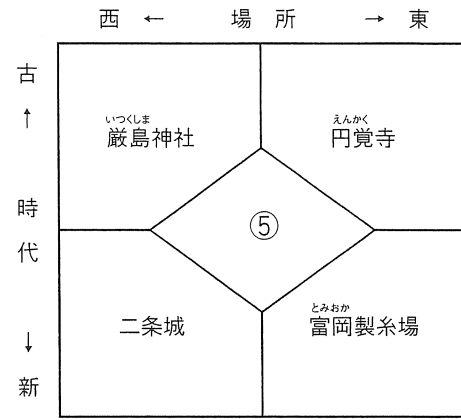
問2 図2中の②に入る都道府県としてまちがえているものを次のア～エから1つ選び、記号で答えなさい。

ア 岩手県      イ 埼玉県      ウ 福岡県      エ 千葉県

次の図3は歴史上の戦いについて、図4は歴史上有名な場所をあらわしたものです。中心のひし形に入っているものよりも東に位置するものは右側に、西に位置するものは左側に書かれています。また、時代が古いものは上側に、新しいものは下側に書かれています。



【 図 3 】



【 図 4 】

問3 図3中の①～④に入る戦いの組み合わせとして正しいものを次のア～オから1つ選び、記号で答えなさい。

	①	②	③	④
ア	壬申の乱	富士川の戦い	西南戦争	ながしの 長篠の戦い
イ	壬申の乱	長篠の戦い	島原の乱	西南戦争
ウ	おうにん 応仁の乱	長篠の戦い	西南戦争	ごりようかく 五稜郭の戦い
エ	応仁の乱	壬申の乱	島原の乱	五稜郭の戦い
オ	長篠の戦い	応仁の乱	西南戦争	ふし み 鳥羽伏見の戦い

( 余 白 )

問4 図4中の⑤に入る場所として正しいものを次のア～オから1つ選び、記号で答えなさい。

- ア 姫路城      イ あづちじょう 安土城      ウ や は た 八幡製鉄所      エ 日光東照宮  
 オ ひ えいざんえんりやくじ 比叡山延暦寺

受験番号			
------	--	--	--

氏名	
----	--

## 2010年度 須磨学園中学校 第1回入学試験解答用紙 社会

(※の欄には、何も記入してはいけません)

**1**

問 1	問 2	問 3	
問 4	問 5	問 6	
問 7			※

**2**

問 1	問 2		
問 3	(1)	(2)	
問 4	-----		
問 5	問 6	問 7	

**3**

(1)	(2)		
問 1	(3)		
問 2	問 3	問 4	
問 5	問 6	(1)	(2)
問 7	問 8	空港	

**4**

問 1	問 2	問 3	
問 4			※

※
---