

1 次の会話文を読んで、下の問いに答えなさい。

先生 「みなさんはどのような魚を食べますか。」
 花子 「私はさし身が好きです。夏休みに祖母の家に行ったとき、初めてカツオのさし身を食べたら、大好きになりました。おすしではイクラとイカが好きです。」
 良太 「ぼくは生で食べるよりも焼き魚が好きです。アジやサンマ、サケが好きです。」
 正子 「私の家ではよくイワシやサバを煮て食べています。」
 恵子 「昨日は弟の誕生日でした。それで、弟の大好きなカキフライを食べました。」
 先生 「どれもおいしそうですね。ところで、それらの魚や貝はどこでとれるのでしょうか。教科書や地図帳を使って調べてみましょう。」
 花子 「日本で最も水あげ量が多いのは (1) 港です*1。そこでは、サバやイワシなどがよくとれるそうです。」
 先生 「暖流と寒流のぶつかる場所は (2) とよばれ、よい漁場となります。なぜなら、(2) には①魚のえさとなるプランクトンが多いし、暖流と寒流の両方に乗って魚が集まるからです。」
 良太 「2番目に水あげ量が多いのは (3) 港ですね*1。水あげ額では (1) 港を上回るようです。②水あげされる魚の種類が場所によって違うということなのかな。」
 正子 「日本海側で水あげ量が多いのは (4) 港のようです。たしか、まんが家の水木しげるさんが育ったのはそのあたりでしたよね。」
 良太 「ぼく、行ったことがあるよ。もよりの空港の名前には『鬼太郎』がつけられているんだ。日本で5番目に大きい湖である中海にも近いところだよ。」
 先生 「よい漁場かどうかには、海流だけでなく、海底の地形も関係します。(5) とよばれる、水深200メートルくらいまでの比較的浅い海では、プランクトンがよく育ち、よい漁場となるそうですよ。」
 恵子 「でも先生、日本は魚介類の輸入もたくさんしていますよね。スーパーマーケットに行くと、チリ産のサケや、ロシア産のイクラなどを見かけます。③日本の食料自給率は全体的に下がっていると聞きました。」
 先生 「よく知っていますね。」
 良太 「先生、そういえば、ぼくたちは魚や貝だけでなく、海そうもよく食べます。例えば、今日の給食には④ノリが出ました。」
 先生 「よいところに気がつきましたね。ノリはほとんどが養しよくされたものですね。」
 恵子 「昨日家で食べたカキフライのカキも養しよくものだと母が言っていました。たしか、最も収かく量の多い (6) 県のものと言っていたかな*2。」
 正子 「カキの養しよくといえば、おもしろい記事を読みました。カキの養しよくをしている漁師さんたちが、養しよくをしている海の上流の山に木を植えている、という内容です。」
 [A]
 花子 「一見関係ないように見えても、⑤森林と海はつながっているのですね。」

*1 2014年 *2 2012年

問1 (1) ~ (6) に最も適当な語句を入れなさい。ただし、(1) (3) (4) には港名が入ります。また、(6) は漢字で答えなさい。


問2 (1) 港・(3) 港・(4) 港のある都道府県をそれぞれ漢字で答えなさい。なお、「都」「道」「府」「県」まで答えること。

問3 下線部①について、季節によって、えさのある場所や卵を産む場所へ移動する魚を何といいますか。漢字3字で答えなさい。

問4 下線部②について、(3) 港ではある魚が全国で最も多く水あげされています〔2011年現在〕。その魚はどれですか。次のア~エのうちから1つ選び、記号で答えなさい。

ア. カツオ イ. サンマ ウ. サケ エ. イワシ

問5 下線部③について、右のグラフは、日本の「米」「野菜」「肉類」「魚介類」の自給率を1960年と2014年で比べたものです。「魚介類」を示すグラフをア~エのうちから1つ選び、記号で答えなさい。



(食料需給表 平成26年版 より作成)

〔注意〕100%をこえる場合は、国内での生産量が、国内で食べられている量よりも多いことを意味します。

問6 下線部④について、次のア~エの中でノリの収かく量が最も多い県はどれですか〔2012年現在〕。記号で答えなさい。
 ア. 和歌山県 イ. 青森県
 ウ. 兵庫県 エ. 福井県

問7 [A] には、なぜ木を植えることでよいカキが育つのかを説明する文が入ります。森林の働きに注目して、[A] に入る説明を簡潔な文で答えなさい。

問8 下線部⑤について、次の問いに答えなさい。
 1) 日本の国土全体のうち、森林がしめる割合はどのくらいですか。最も近いものを次のア~エのうちから1つ選び、記号で答えなさい。

ア. 2分の1 イ. 3分の1 ウ. 3分の2 エ. 5分の2

2) 森林の働きのひとつに、木材とするための木を育てることがあります。スギやヒノキの場合、なえを植えてから木材として利用できるまでには数十年育てる必要があります。その間に行う手入れで、弱った木や雑木を切って日当たりをよくする作業を何といいますか。

3) 2) の作業で切られた木材や、製材工場から出る廃材などを、ボイラーや発電機などの燃料として利用する取り組みが始まっています。このように、木材に由来する再生可能な資源のことを「木質【 】」といいます。【 】にあてはまる語句をカタカナ5字で答えなさい。

4) 森林の働きのひとつに、災害を防ぐ役割があります。その中で、なだれやふぶきから鉄道や道路などを守るための森林を特に何といいますか。漢字で答えなさい。

2 次の「2019年前半の出来事」(以下「出来事」と示します)を見て、下の問いに答えなさい。

2019年前半の出来事	
1月5日～2月1日	①サッカーアジアカップ*1がアラブ首長国連邦で開催され、日本が準優勝
4月9日	新しい②紙幣(日本銀行券)の図柄が発表される
4月30日 5月1日	天皇が退位 新天皇が即位し、平成から③令和に改元される
5月25日～28日	④アメリカ合衆国のトランプ大統領が来日

*1 AFC(アジアサッカー連盟)が主催するサッカーの国際選手権大会のこと。予選を勝ち抜いたアジア各国(オーストラリアを含む)の代表チームが出場します。

問1 下の表は、「出来事」中の下線部①のグループステージ(予選リーグのこと)のグループAとグループFの組み合わせ、および各グループで行われた試合の一部です。

表	
グループA	グループF
① アラブ首長国連邦 ② タイ ③ バーレーン ④ インド	⑤ ウズベキスタン ⑥ オマーン ⑦ トルクメニスタン 日本
【試合1】 1月14日 アラブ首長国連邦 対 タイ キックオフ 20:00	【試合2】 1月17日 日本 対 ウズベキスタン キックオフ 17:30

(JFA [日本サッカー協会] ホームページを参考に作成)


次の条件のもとで、以下の問いに答えなさい。


- キックオフ(試合開始)の時刻は、大会開催国の現地時間で示しています。
- 地球は完全な球体で、正確に24時間で一回転するものとします。
- 国や地域の時刻は、現地の標準時で示されています。
- 標準時は、各国が定める標準時子午線が基準になっているものとします。
- アラブ首長国連邦の標準時は、東経60度を標準時子午線として定められているものとします。
- サマータイムは考えません。

1) 【試合1】がキックオフされた時刻、タイの現地時間は1月14日23時でした。タイの標準時子午線は東経何度ですか。

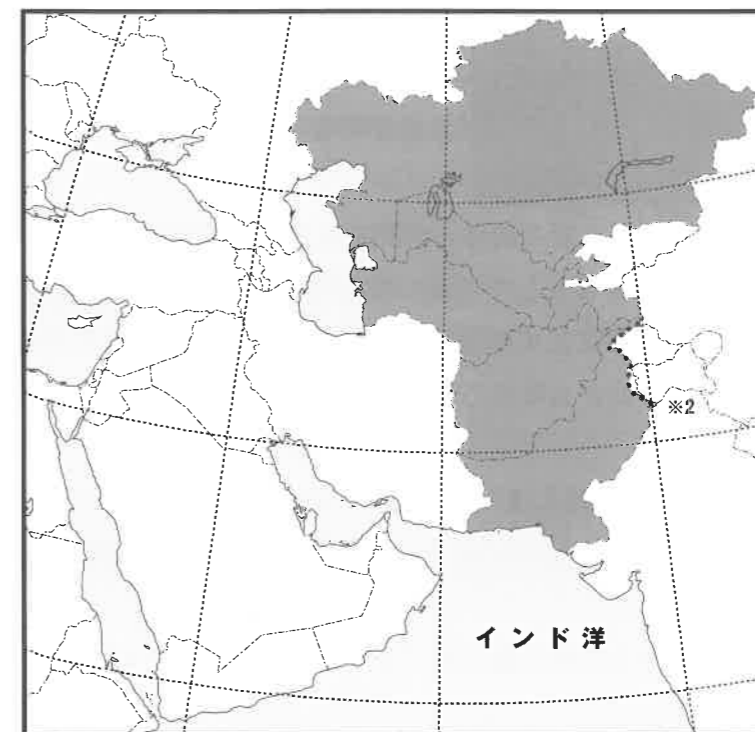
2) 【試合2】がキックオフされた時刻は、日本時間の1月17日の何時ですか。正確な時刻を24時間制で答えなさい。ただし日本の標準時子午線は、兵庫県明石市を通るものとします。

3) 下の地図を見て、次の問いに答えなさい。

(1) アジアカップの表に書かれているグループAとグループFの①～⑦のうちから、地図中の  にある国をすべて選び、記号で答えなさい。

(2) インド洋に流れ込む川のうち、 に河口があるものを次のア～エのうちから1つ選び、記号で答えなさい。

- ア. メコン川
- イ. ユーフラテス川
- ウ. ガンジス川
- エ. インダス川



*2.....は、国境が定まっていないところです。

問2 次のA～Eは、1984年から現在までに「出来事」中の下線部②に肖像としてえがかれた人物、あるいは2024年からえがかれる予定の人物について書かれています。よく読んで、下の問いに答えなさい。

- A. この人物は、1920年に発足した（ 1 ）で事務局次長となり、世界平和の実現に努力しました。しかし、皮肉にも日本が（ 1 ）を脱退する1933年にこの世を去りました。
- B. この人物は、日本で最初につくられた銀行である第一国立銀行を設立したほか、500以上の会社の設立にもたずさわって、日本の経済発展に力を尽くしました。また教育や社会福祉にも熱心に取り組みました。
- C. この人物は、アメリカのロックフェラー研究所の研究者として、梅毒の研究で世界的に注目を浴びました。1928年、現在のガーナで（ 2 ）病の調査中、自分も感染して亡くなりました。
- D. この人物は、満6才の時、（ 3 ）を大使とする使節団に留学生として同行しました。11年におよんだアメリカ留学からいったん帰国したのち、再びアメリカに留学しましたが、この時に一生を日本の新しい女子教育にささげる決意をしました。のちに女子英学塾をつくり、女性の英語教師の育成に力を注ぎました。
- E. この人物は、長崎や大阪で西洋の学問を勉強し、開国後には欧米に渡りました。帰国後は、思想家・教育者として活躍しました。1872年に出版された『（ 4 ）』では、人間は生まれながらにして平等であること、国の独立は個人の独立にもとづくこと、個人の独立には学問が必要なことなどを説いています。

1) (1)～(4)に最も適当な語句を入れなさい。ただし、(3)は姓名を漢字で答えなさい。

2) A～Eに書かれているこの人物は誰ですか。姓名をそれぞれ漢字で答えなさい。

3) 上の文章中の下線部は、神戸女学院が神戸市から西宮市岡田山に移転した年です。この年より後におこった出来事を、次のA～Eのうちから1つ選び、記号で答えなさい。ただし、あてはまるものがない場合は×を書きなさい。

- ア. 満州事変がおこった。 イ. 五・一五事件がおこった。
ウ. 二・二六事件がおこった。 エ. 治安維持法が定められた。

問3 「出来事」中の下線部③の由来となった『万葉集』には、さまざまな立場の人々の歌が数多く収められています。収められている歌の内容としてあてはまるものを、次のA～Eのうちから1つ選び、記号で答えなさい。

- ア. 春は夜明けのころがよい。だんだんと白くなっていく空の、山に近い辺りが少し明るくなって、紫がかかった雲が細く横に長く引いているのがよい。
- イ. 着物のすそに取りすがって泣く子をおいてきてしまった。母もいないのに、今頃どうしているのだろうか。
- ウ. この世の中は、自分のためにあるようだ。満月に欠けたところがないように、私には何一つ満ち足りないと思うことがないのだから。
- エ. もともと、女性は太陽であった。しかし今、女性は月である。(中略) 私たちは、かくれてしまった私たちの太陽を取りもどさなければならない。

問4 「出来事」中の下線部④について、次の問いに答えなさい。

1) 右の図は、この国の艦隊が1854年に日本に来航した時の様子をえがいています。この艦隊の司令官は誰ですか。



2) 1)で答えた人物は、その前年に初めて日本に来航しました。この時、彼が率いた艦隊がアメリカから日本に来る途中に立ち寄った場所として正しいものを、次のA～Eのうちから1つ選び、記号で答えなさい。ただし、あてはまるものがない場合は×を書きなさい。

- ア. ホノルル イ. ロンドン
ウ. シンガポール エ. サンフランシスコ

3 花子さんのクラスでは社会科の授業で、「兵庫県にゆかりのある歴史上の人物」を1人選び、その人物について調べて発表することになりました。以下は、花子さんの班の話し合いの様子です。よく読んで、下の問いに答えなさい。なお、以下に示された**彼**は、花子さんの班が選んだ人物です。

花子 「**彼**は、①1841年に農民の子として生まれました。現在の山口県出身ですが、初代兵庫県知事に任命されています。」

良子 「どうして、**彼**が兵庫県の知事になったのかしら。」

花子 「神戸事件の解決に関係したことをはじめ、開港地である神戸の行政に関わったことが、理由ではないかといわれています。三宮神社（神戸市）の境内には、『史蹟 神戸事件発生地』の石碑がたっています。」

正子 「神戸事件とは、どんな事件だったのかしら。」

恵子 「神戸事件とは、1868年に神戸で②外国人と日本人が衝突した事件です。三宮神社の前を通過中であった③岡山藩兵の隊列を外国人が横切りました。その行動を無礼だと思った岡山藩兵は、外国人に向けて発砲し外国人を負傷させました。この事件の解決を図った人物の一人が**彼**でした。」

正子 「神戸の旧外国人居留地には、**彼**の名前にちなんでつけられた町名がありますよね。旧居留地を南に抜けると、『史蹟 旧海軍操練所跡』の碑があります。④神戸に海軍操練所をつくることを幕府に提案した人物は、坂本龍馬と師弟関係にあったそうですよ。」

良子 「**彼**のことに話を戻しましょう。湊川神社（神戸市）の境内には、かつて**彼**の銅像がたっていたようです。1904年に除幕式が行われました。」

花子 「湊川神社は、⑤14世紀ごろに活躍した楠木正成をまつている神社です。境内には、⑥徳川光圀が建立したとされる楠木正成の墓碑があります。」

正子 「その湊川神社に、どうして**彼**の銅像がたてられたのかしら。」

恵子 「湊川神社と縁があったのでしょうか。湊川神社の建設許可を願い出た人々のうちの一人ですし、湊川神社に灯籠を奉納しています。でも、現在は**彼**の銅像を湊川神社で見ることができません。」

正子 「どうしてかしら。」

良子 「⑦1905年、政府の政策に不満を持った人々が、銅像を引き倒してしまったからです。**彼**の死後、現在の大倉山公園（神戸市）に新しい銅像がたてられました。ところが、銅像本体は太平洋戦争中に金属資源として回収されたため、現在は台座のみが残っています。」

恵子 「国会議事堂の中央広間には、板垣退助、⑧大隈重信とともに**彼**の銅像があります。銅像は1938年につくられました。⑨三人が議会政治の基礎をつくるのに努力したことをたたえてつくられたものです。**彼**は、明治天皇から初代の内閣総理大臣に任じられて⑩大日本帝国憲法をつくる仕事に力を注ぎました。」

花子 「**彼**は外国に行き、各国の憲法や政治のしくみを調べました。次回は、大日本帝国憲法発布後から亡くなるまでに、**彼**がどんな仕事をしたのかについて話し合しましょう。」

問1 下線部①について、**彼**が生まれたところに活躍した人物は誰ですか。次のア～エのうちから最も適当なものを選び、記号で答えなさい。

ア. 歌川（安藤）広重 イ. 近松門左衛門 ウ. 市川房枝 エ. 正岡子規

問2 下線部②について、明治時代、各分野で、外国から技術者や学者などを招き、進んだ技術や知識を教わりました。製糸業の機械化を指導し、富岡製糸場の建設にも関わったフランスの技術者は誰ですか。次のア～エのうちから最も適当なものを選び、記号で答えなさい。

ア. モース イ. ブリュナ ウ. コンドル エ. フェノロサ

問3 下線部③で渋染一揆がおこった時期はいつですか。次のア～エのうちから最も適当なものを選び、記号で答えなさい。

ア. 13世紀 イ. 15世紀 ウ. 17世紀 エ. 19世紀

問4 下線部④の人物は誰ですか。この人物は、咸臨丸でアメリカへ行きました。また、新政府軍の西郷隆盛と交渉し、幕府軍が戦わずに江戸城を明けわたすことを申し入れたことでも知られています。姓名を漢字で答えなさい。

問5 下線部⑤について、14世紀におこった出来事はどれですか。次のア～エのうちから最も適切なものを選び、記号で答えなさい。

- ア. 北条政子が源頼朝の御恩を御家人たちに説いた。
- イ. 足利義政が銀閣をたてた。
- ウ. 鎌倉幕府がほろんだ。
- エ. 紫式部が『源氏物語』を完成させた。

問6 下線部⑥について、徳川光圀が藩主（大名）をつとめたのは水戸藩です。水戸藩の藩校として正しいものを次のア～エのうちから1つ選び、記号で答えなさい。

- ア. 適塾
- イ. 鳴滝塾
- ウ. 時習館
- エ. 弘道館

問7 下線部⑦について、この年の日本の動きとして最も適切なものを次のア～エのうちから選び、記号で答えなさい。

- ア. 日本は、イギリスとの条約改正交渉で治外法権を廃止できなかった。
- イ. 日本は、アメリカのなかだちで、ロシアとの講和条約を結んだ。
- ウ. 日本は、清から賠償金をとることができなかった。
- エ. 日本は、第一次世界大戦に加わることを決めた。

問8 下線部⑧について、大隈重信の説明として適当でないものを次のア～エのうちから1つ選び、記号で答えなさい。

- ア. 現在の佐賀県出身である。
- イ. 立憲改進黨をつくった。
- ウ. 江戸幕府をたおす運動に参加した。
- エ. 関東大震災で亡くなった。

問9 下線部⑨について、彼が活躍したころの帝国議会やその選挙の説明として最も適切なものを次のア～エのうちから選び、記号で答えなさい。

- ア. 第1回帝国議会が開かれたのは、ノルマントン号事件がおこった後である。
- イ. 第1回帝国議会の議員を選ぶ選挙において、北海道の人々の投票率は80%を超えた。
- ウ. 選挙権を持つ人は、一定の金額以上の税金を納めた20才以上の男子のみであった。
- エ. 貴族院議員は、皇族の中から国民によって選挙で選ばれた。

問10 下線部⑩について、次の問いに答えなさい。

1) 大日本帝国憲法は、どこの憲法を手本にしましたか。次のア～エのうちから最も適切なものを選び、記号で答えなさい。

- ア. イギリス
- イ. フランス
- ウ. ドイツ
- エ. アメリカ

2) 大日本帝国憲法の内容として、適当でないものを次のア～エのうちから1つ選び、記号で答えなさい。

- ア. 天皇は、陸海空軍を統率する。
- イ. 天皇は、戦争を宣言することができる。
- ウ. 天皇は神のように尊い存在であり、けがしてはならない。
- エ. 国民は、法律に定められた範囲内で、言論・著作・出版・集会・団体をつくること
の自由を持つ。

問11 彼とは誰ですか。姓名を漢字で答えなさい。

4 都道府県 **A** ~ **D** に関連のある歴史上の人物やことごとについて述べた次の文章を読み、下の問いに答えなさい。

都道府県 **A**

- **A** にある平等院の(1)堂は、正面から見た姿が翼を広げた鳥のように見えることと、屋根に一對の鳳凰が配されていることから、鳳凰堂と呼ばれています。この建物がつくられたころ、世の中に対する不安から(1)仏などがいるとされる苦しみのない世界(極楽浄土)へのあこがれが強まり、それ以降全国に多くの(1)堂がつくられるようになりました。現在の(2)にある(3)金色堂もその一つです。金色堂が建てられて500年以上過ぎてから、この地を訪れた俳人の(4)は「五月雨の降り残してや光堂」とよんでいます。
- 1922年、**A** にある岡崎公会堂で(5)の創立大会が開かれました。公会堂には、就職や結婚などで差別され、苦しめられてきた人々が集まりました。人間を差別する言動は一切許さないという思いが結実した宣言は、「人の世に熱あれ、人間に光あれ」という言葉で結ばれています。

都道府県 **B**

- 現在の**B** に生まれた雨森芳洲は対馬藩に仕え、(6)を接待する役につきました。(6)は約300~500人で構成された使節団で、17~19世紀の間に12回来日し、江戸へ向かう途中の各地で交流が行われました。
- **a** 世紀には全国各地で災害や反乱が次々とおこり、天皇は政治を安定させるために都を次々と移しました。現在の**B** にも①紫香楽宮がおかれていた時期があります。

都道府県 **C**

- 現在の**C** 北部に位置した中津藩の医者(7)と友人の医者(8)は、(9)語で書かれた医学書を手に入れ、苦勞の末に翻訳を完成させて、『(10)』として出版しました。翻訳の苦勞については(8)が書き記した『蘭学事始』から知ることができます。
- 現在の**C** の多くの地域は、昔は豊後と呼ばれていました。中国から伝えられた水墨画(すみ絵)を芸術として大成させたことで知られる(11)は、周防で多くの作品を手がけましたが、ほかにも豊後や石見をめぐり、大自然の雄大さをえがきました。(11)の作品として特に有名なものに、国宝②「天橋立図」があります。

都道府県 **D**

- **b** 世紀になると、古くからの日本人の考え方を知ろうとする国学という学問が広がってきました。現在の**D** に生まれた医者(12)は、『古事記』の研究を進め、35年かけて44巻にのぼる『古事記伝』を書き上げました。
- 現在の**D** から江戸に出た三井家は、呉服店**c** を営みました。この店は現金売りで「掛け値なし」という新商法により、大いに栄えました。

問1 (1)~(12)に入る最も適切な語句を答えなさい。ただし、以下の注意にしたがうこと。

【注意】

- * (2)は、あてはまる都道府県を漢字で答えなさい。なお、「都」「道」「府」「県」まで答えること。
- * (3)(6)は解答欄にしたがって漢字で答えなさい。
- * (4)(7)(8)(11)(12)は解答欄にしたがって漢字で人名を答えなさい。
- * (9)は解答欄にしたがってカタカナで答えなさい。

問2 **a** に入る数字はどれですか。次の**A**~**E**のうちから最も適切なものを選び、記号で答えなさい。

A. 6 **イ.** 7 **ウ.** 8 **E.** 9

問3 **b** に入る数字はどれですか。次の**A**~**E**のうちから最も適切なものを選び、記号で答えなさい。

A. 12 **イ.** 14 **ウ.** 16 **E.** 18

問4 **c** に入るのはどれですか。次の**A**~**E**のうちから最も適切なものを選び、記号で答えなさい。

A. 加賀屋 **イ.** 越後屋 **ウ.** 備前屋 **E.** 紀伊国屋

問5 下線部①に遷される直前に都が置かれていたのはどこですか。現在の都道府県を漢字で答えなさい。なお、「都」「道」「府」「県」まで答えること。

問6 下線部②について、天橋立は現在「日本三景」の一つとされています。日本三景のうち「松島」があるのはどこですか。都道府県を漢字で答えなさい。なお、「都」「道」「府」「県」まで答えること。

問7 **A** **B** **C** **D** はどこですか。漢字で答えなさい。なお、「都」「道」「府」「県」まで答えること。

5 次のA～Jにおいて、最も適当な組み合わせを下の【組み合わせ欄】から選び、1～4の番号で答えなさい。なお、国会、内閣、裁判所は現在の制度のものをさします。

【組み合わせ欄】

アとイの両方とも正しい場合…………… 1	アが正しく、イが誤っている場合…………… 2
アが誤っていて、イが正しい場合…………… 3	アとイの両方とも誤っている場合…………… 4

A	ア 国会は予算案や法律案を作って内閣に提出し、内閣が最終的に議決する。
	イ 国会が最高裁判所の長官を指名し、内閣がその他の裁判官を任命する。

B	ア 国会議員は、20才以上の国民により選挙によって選ばれる。
	イ 国民は、25才になると参議院議員に立候補できる。

C	ア ハンセン病にかかった人々は、法律によって強制的に療養所に入れられ、長い間、社会から切り離されてきた。治療によって完全に治ることがわかってからも、こうした国の政策は見直されなかった。1990年代半ばに、その法律は廃止されたが、そうした政策が間違っていたことを政府が認めたのは、今世紀に入ってからだった。
	イ アイヌの人々は、その固有の文化を否定されてきたが、今世紀に入り、世界の先住民族の権利を守ることを目指す宣言を国際連合が採択したのを受け、日本でも国会でアイヌ文化振興法が制定された。

D	ア 子どもの権利条約は、前文と本文54条から成り、子どものもっている権利と、それを守るために人々がすべきことが記されている。この条約は、1989年の国連総会で採択され、その数年後に日本もこの条約を認めた。
	イ ユニセフ（国連児童基金）は、国際連合の機関の一つである。ユニセフは、飢えや病気で困っている人たちに食料や薬品を送ったり、世界の子どもたちが予防接種を受けられるようにするため、募金活動を行ったりしている。

E	ア 大日本帝国憲法で主権者であった天皇は、日本国憲法においては、日本の国や国民のまことの象徴であると定められている。
	イ 日本国憲法において、天皇は国の政治に関する権限がなく、内閣の助言と承認に基づいて国事行為を行うと定められている。

F	ア 裁判員制度は、市民感覚を裁判に取り入れ、裁判に対する国民の理解と信頼を深めるため、2009年に始まった。これは、国民の中からくじで選ばれた裁判員が、裁判官とは別に有罪か無罪かを判断する制度である。
	イ 国民は、すべての裁判所の裁判官について国民審査を行う。また、国会はすべての裁判所の裁判官をやめさせるかどうかの裁判をする。

G	ア 裁判所は、人々の間で争いごとや犯罪が起きたときに、憲法や法律にもとづいて問題の解決を図り、国民の権利を守るはたらきをしている。
	イ 裁判所は、国会や内閣と協力しながら、法律や政治が憲法に違反していないかどうかを判断する。

H	ア 内閣総理大臣は首相とも呼ばれる。内閣の最高責任者が内閣総理大臣であり、国务大臣が閣議の中で内閣総理大臣を選ぶ。
	イ 内閣のもとには、さまざまな府・省・庁が置かれ、仕事を分担して進めている。ほとんどの国务大臣は、各省庁の大臣を務めている。

I	ア 日本では人口に占める子どもの割合が減り、一方で高齢者は年々増え、「少子化」「高齢化」が進んでいる。
	イ 核家族とは、夫婦だけ、あるいは親と子どもだけで構成される世帯をさす。核家族の世帯は、現在では日本全体で約60%をしめている。

J	ア 5月3日は、日本国憲法の公布を記念する「憲法記念日」として、「国民の祝日に関する法律」に定められている。
	イ 8月11日は、海のめぐみに感謝するとともに、海洋国日本の繁栄を願う「海の日」として、「国民の祝日に関する法律」に定められている。

解答用紙

1

問1	1	港	2	3	港	4	港
	5		6	県			
問2	1		3		4		
問3			問4		問5		問6
問7							
問8	1)		2)		3)		4)

2

問1	1)	東経	度	2)					
	3)	(1)		(2)					
問2	1)	1		2		3		4	
	2)	A		B		C			
		D		E		3)			
問3			問4	1)		2)			

3

問1		問2		問3		問4		
問5		問6		問7		問8		問9
問10	1)		2)		問11			

4

問1	1		2		3		寺	4		
	5		6		7					
	8		9		10			11		
	12									
問2			問3		問4					
問5			問6							
問7	A		B		C		D			

5

A		B		C		D		E	
F		G		H		I		J	