

— このページは余白です。 —

1 次の文章を読んで、問いに答えなさい。

①庄内平野は、日本有数の②米づくりのさかんな地域です。

庄内平野では、米づくりをするのに必要な条件がそろっています。まず、水田には大量の水が必要です。この③水を得られる複数の川が庄内平野には流れています。次に、米づくりには気温も大きく関係します。夏の平均気温を岩手県宮古市と比較した場合、庄内平野のほうが高いといえます。さらに、④庄内平野の稲の葉はぬれてもかわきやすく、病気になりにくく、日光が十分に当たるため、稲がじょうぶに育ちます。

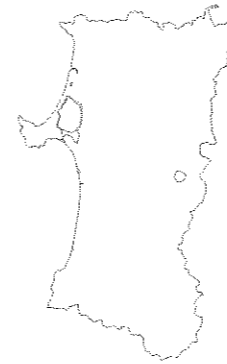
⑤庄内平野の水田は、50年ほど前から田の形を長方形にそろえ、用水路や排水路、農道等を整えてきました。

庄内平野には、⑥地域の農家から運び込まれた米をもみのまま乾燥して、必要なときに出荷する大型の施設が多数あります。

問1 下線部①について、次の問いに答えなさい。

- 1) 庄内平野はどこにありますか。都道府県名を答えなさい。なお、「都」「道」「府」「県」まで答えること。
- 2) 1) で答えた都道府県は、次の地図ア～エのどれですか。記号で答えなさい。ただし地図は、それぞれ異なる縮尺で描いています。

ア.



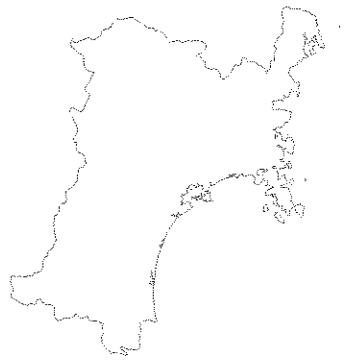
イ.



ウ.



エ.



- 3) 1) で答えた都道府県に隣接している都道府県は全部で四つあります。その四つの都道府県名を五十音順に漢字で答えなさい。なお、「都」「道」「府」「県」まで答えること。

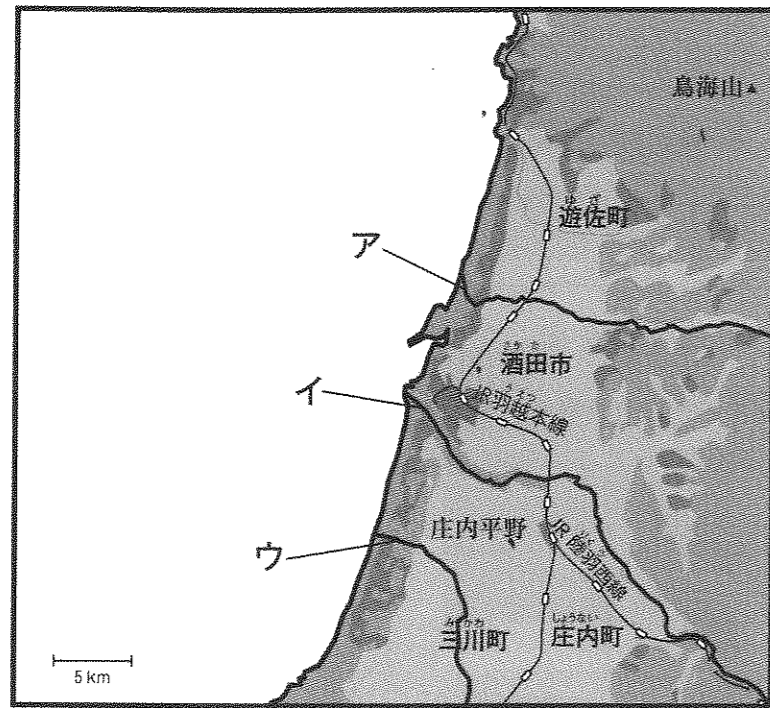
問2 下線部②について、次の問いに答えなさい。

1) 米ができるまでの過程を表した次のア～エのうち、最も適当なものを一つ選び、記号で答えなさい。

- ア. 代かき → 田植え → 田起こし → 稲かり → 農薬散布
- イ. 田起こし → 代かき → 田植え → 農薬散布 → 稲かり
- ウ. 代かき → 田起こし → 田植え → 稲かり → 農薬散布
- エ. 田起こし → 田植え → 代かき → 農薬散布 → 稲かり

2) 庄内平野でつくられている米のうち、作付面積が最も大きい品種を答えなさい。(2012年)

問3 下線部③について、地図上のア～ウの川の名前を答えなさい。



問4 下線部④について、庄内平野の稲の葉がかわきやすく、日光が十分に当たる理由を10字以内で答えなさい。ただし、句読点は不要です。

問5 下線部⑤について、これを何といいますか。

問6 下線部⑥について、この施設を何といいますか。カタカナで答えなさい。

2 次の文章ア～ウを読んで、問いに答えなさい。

ア	1922年頃から、(1) 県を流れる①川の下流で、②骨がもろくなって折れやすくなり、激しい痛みを訴える人が出始めました。
イ	1956年、(2) 県のある市で、③公害病が確認されました。この公害病は、工場の排水に含まれていた有害な物質が原因で起こりました。その有害な物質におかされて重い障害が体に残り、その障害に苦しむ人が後を絶ちませんでした。また、命を落とす人もたくさんいました。
ウ	1959年、(3) 県のある市で、④石油化学コンビナートでの生産が本格的に始まりました。すると、のどの痛みを訴え、息を吸うのも吐くのも苦しくなる発作に見舞われる人が増えました。

問1 上の文章の(1)～(3)にあてはまる県名をそれぞれ答えなさい。

問2 下線部①の川の名前を答えなさい。

問3 下線部②について、その原因となった有害物質は何ですか。

問4 下線部③の公害病と同様の病気が、1964年頃から別の県のある川の下流で起こりました。その川の名前を答えなさい。

問5 下線部④について、そのようなことが起こった原因を答えなさい。なお、解答欄の1マスに漢字1字を入れること。

問6 下の枠内のできごとについて、次の問いに答えなさい。

1992年	「【 A 】づくり宣言」を出す
1996年	主な患者団体と工場との間の和解が成立する

1) ア～ウのいずれに関係が深いですか。記号で答えなさい。

2) 【 A 】にあてはまる、最も適当な語句を答えなさい。

問7 上の文章ア～ウで説明されている、公害病の名前をそれぞれ答えなさい。

3 次の文章を読んで、各問いの選択肢から最も適当なものを一つ選び、記号で答えなさい。

2016年10月のある日、神戸女学院中学部2年生は、遠足で法隆寺に行きました。

法隆寺は、①1993年、日本で最初に②世界遺産に登録されました。

法隆寺は、③聖徳太子が建てた寺としてよく知られています。④金堂の一つの仏像の光背に、「⑤ 天明天皇（聖徳太子の父）が、病気が治るように祈って寺と薬師如来像をつくることを決意したが、死去したので、（A）天皇と聖徳太子が、⑤7世紀初めに創立した」という意味のことが書かれています。聖徳太子は、⑥蘇我氏の（B）とともに（A）天皇を助けて政治にたずさわりました。

しかし、その十数年後に聖徳太子は亡くなり、太子の子、山背大兄王も蘇我氏に滅ぼされて、上宮王家（聖徳太子の家族）は滅亡してしまいました。この後、⑦蘇我（C）は、中大兄皇子や中臣鎌足に殺され、蘇我氏本家は滅びることになります。

ところで、『日本書紀』には、7世紀の後半のできごととして、「夜明けの頃、法隆寺で火災があり、一つの建物も残ることがなかった」とあり、おそらく法隆寺は、落雷により全焼したと思われます。

この記事によって、近代になってから、法隆寺は再建されたのか否かが論争されてきました。この論争は、⑧1939年に、「若草伽藍跡」という、より古い建物の跡が見つかり、再建されたということで決着がつけました。

では、新しい法隆寺、つまり現在に至るまで残っている法隆寺は、いつごろ完成したのでしょうか。それは、8世紀の前半のことだと考えられています。新しく建て直されたと言っても、主な建造物が実に1300年の風雪に耐えてきたのですから、他の古い寺院と比べてみても、それは奇跡的なことです。

さて、法隆寺は、大きく東西のエリアに分かれています。ここまでは「西のエリア（西院伽藍）」のお話でした。「東のエリア」は、もともと聖徳太子と上宮王家の住まいがあったところです。上宮王家が滅んだとき、そこは焼き払われてしまいましたが、⑨行信という僧が、夢殿を中心とする寺を建てました。これも8世紀前半のことです。後に、それが法隆寺に属するようになって「東院伽藍」と呼ばれるようになりました。

明治時代に入って、政府の宗教政策や文明開化により、仏教や仏教美術が危機に陥りましたが、（D）らは日本美術の行く末を憂い、文化財の調査を進めました。（D）は、1884年に法隆寺の宝物も調査し、夢殿で秘仏の救世観音を拝した時には、「一生の最盛事なりというべし」と語ったといひます。

⑩平安時代に入ると、聖徳太子信仰が高まって、さまざまな人が法隆寺を訪れました。⑪藤原道長もその中の一人です。

鎌倉幕府を開いた源頼朝は、法隆寺に行ったことはありませんでしたが、舞楽用の舞台や太鼓を寄進しています。頼朝については、法隆寺に興味深い文書が伝わっているとのこと。すなわち、頼朝と⑫義経が不和になってからのこと、鎌倉幕府は法隆寺に「義経が名を変えて法隆寺に隠れているのではないか」と問いただしたのだそうです。

法隆寺が1300年続いたと言っても、一部には焼失した建物もあり、全体として傷んでもきますから、増改築や修理もありました。その中で、法隆寺全体にわたる大修理として知られるのが、豊臣秀吉の子の秀頼による「⑬慶長の大修理」、そして⑭將軍徳川綱吉とその生母である桂昌院による「元禄の大修理」です。

ちなみに秀吉の⑮検地によって、法隆寺の寺領は1000石に定められ、それ以前より減らされてしまったということです。

時を経て、⑯1934年から始まった修理は、「昭和の大修理」と呼ばれ、完了したのが1985年です。50年にわたるその間、法隆寺は戦災を免れましたが、戦後すぐ、金堂での出火で壁画を焼損したことは、本当に悔やまれます。

お話はもとにもどって、法隆寺が世界遺産に登録される前の年、金堂の仏像の台座が調査された折、阿彌陀如来像の台座の内側に、下の左図のような人物画が発見されました。調査の結果、服装から、これは下の⑰地図のαの人であることが判明しました。この人は、法隆寺とどのような関わりがあったのでしょうか。遠い昔に、海を越えてはるばるやって来た人々のことがしのべられます。



この地図は7世紀初めの頃のもので

- 問1 下線部①について、開催された年が、1993年に最も近いものを選びなさい。
 ア. 日韓共催のサッカーワールドカップ イ. オリンピック東京大会
 ウ. 冬季オリンピック長野大会 エ. 冬季オリンピック札幌大会
- 問2 下線部②について、次に挙げた文化財のうち、世界遺産に指定されているものはいくつありますか。（2016年12月31日現在）

さんないまやま 三内丸山遺跡	ちゅうそんじ 中尊寺金色堂	りょうあん 龍安寺石庭	ひろしま ぼく 広島原爆ドーム
-------------------	------------------	----------------	--------------------

- ア. 一つ イ. 二つ ウ. 三つ エ. 四つ
- 問3 下線部③について、聖徳太子の定めた冠位十二階の最高位の名称と冠の色の組み合わせとして、正しいものを選びなさい。
 ア. 大徳 — 黄色 イ. 大仁 — 紫 ウ. 大仁 — 黄色 エ. 大徳 — 紫
- 問4 下線部④について、聖徳太子の定めた十七条の憲法の第一条に書かれていることを選びなさい。
 ア. 仏教をあつく信仰せよ イ. 人と争わないようにせよ
 ウ. 役人たちは礼儀正しくせよ エ. 天皇の命令には必ず従え

問5 下線部④について、法隆寺金堂についての説明として、誤っているものを選びなさい。
 ア. 五重塔と並んでいる イ. 飛鳥大仏が置かれている
 ウ. 外から見ると二層構造に見える エ. 現存する世界最古の木造建築物である

問6 (A) 天皇についての説明として、正しいものを選びなさい。
 ア. (A) 天皇は持統天皇である
 イ. (A) 天皇は聖徳太子のおばである
 ウ. 蘇我氏の (B) は (A) 天皇の摂政である
 エ. (A) 天皇は高松塚古墳に葬られている

問7 下線部⑤について、7世紀のできごとを選びなさい。
 ア. 最初の遣唐使が送られた イ. 銅鐸がさかんにつくられた
 ウ. 大山古墳(仁徳陵古墳)が築かれた エ. 渡来人が日本に移り住み始めた

問8 下線部⑥について、蘇我氏に関する説明として、正しいものを選びなさい。
 ア. もともと聖徳太子と対立していた イ. 飛鳥寺を建てた
 ウ. その勢力範囲は三輪山の周辺であった エ. 初めて戸籍をつくった

問9 (B) と (C) の組み合わせとして正しいものを選びなさい。

	ア	イ	ウ	エ
B	馬子	入鹿	蝦夷	入鹿
C	入鹿	蝦夷	入鹿	馬子

問10 下線部⑦について、中大兄皇子らによって蘇我 (C) が殺された場所を選びなさい。
 ア. 飛鳥 イ. 奈良(現在の奈良市内) ウ. 吉野 エ. 斑鳩

問11 下線部⑦について、この事件の後の中大兄皇子と彼が中心となって行った政治の説明として、正しいものを選びなさい。
 ア. 中大兄皇子は天武天皇となった
 イ. 豪族連合の政治体制をたてなおした
 ウ. 最初の本格的な都である藤原京をつくった
 エ. 中国から帰国した留学生を用いた

問12 下線部⑧について、この年に起こったことを選びなさい。
 ア. 日本とアメリカが戦争を始める イ. ドイツとイギリスが戦争を始める
 ウ. 日本とソ連が戦争を始める エ. ドイツとソ連が戦争を始める

問13 下線部⑨について、行信と同時代の人物を選びなさい。
 ア. 雪舟 イ. フランシスコ=ザビエル ウ. 卑弥呼 エ. 行基

問14 (D) に入る人物を次から選びなさい。
 ア. 柳宗悦 イ. 棚田嘉十郎 ウ. 西岡常一 エ. 岡倉天心

問15 下線部⑩について、平安時代の仏教と最も関係の深いものを選びなさい。
 ア. 末法思想・阿弥陀仏 イ. 国分寺・鎮護国家
 ウ. 寺請制度・絵ふみ エ. 銀閣・書院造

問16 下線部⑪について、藤原道長についての説明のうち、誤っているものを選びなさい。
 ア. むすめを次々に天皇のきさきにして権力を握った
 イ. 強い権力をもったのは、11世紀である
 ウ. 自分は太陽、天皇は月という意味の歌を詠んだ
 エ. 中臣鎌足の子孫である

問17 下線部⑫について、源義経が直接関わっていない戦いを選びなさい。
 ア. 屋島の戦い イ. 倶利伽羅峠の戦い ウ. 壇ノ浦の戦い エ. 一ノ谷の戦い

問18 下線部⑬について、「慶長」というのはこの頃の元号ですが、この元号のときに起こった海外出兵と関係の深いものを選びなさい。
 ア. 明 イ. 元 ウ. 宋 エ. 清

問19 下線部⑭について、綱吉が将軍だったのは、1680年～1709年のことです。その時代に活躍した人物を選びなさい。
 ア. 杉田玄白 イ. 松尾芭蕉 ウ. 大塩平八郎 エ. 天草四郎

問20 下線部⑮について、検地についての説明のうち、誤っているものを選びなさい。
 ア. ものさしやますを全国共通のものにした
 イ. 検地帳には田畑のよしあしも記された
 ウ. 農民は土地を耕す権利を得たが、年貢を納める義務を負った
 エ. 検地帳に記される収穫高は銭に換算して書かれた

問21 下線部⑯について、次のできごとのうち、起こった年が1934年に最も近いものを選びなさい。
 ア. 日本が国際連盟を脱退する イ. 日本軍が南京を占領する
 ウ. アメリカ軍が沖縄に上陸する エ. 日本軍がマレー半島に上陸する

問22 下線部⑰について、地図のαの国名を選びなさい。
 ア. 百済 イ. 伽耶 ウ. 高句麗 エ. 新羅

4 次の文章A～Gは、江戸時代の後半から明治時代の初めにかけてのできごとを述べたものです。

これらの文章について、問いに答えなさい。

- A この年、新政府軍が鳥羽・伏見で旧幕府軍に勝ち、江戸に攻めのほりました。幕府の役人だった(1)は、戦いを早期に終わらせ、江戸のまちを戦火から守るために、薩摩藩の(2)と江戸城の開城について話し合い、江戸城は戦わずに明け渡されました。
- B この年、薩摩藩と(3)藩は軍事同盟を結びました。対立していた両藩を結びつけたのが坂本龍馬(坂本竜馬)でした。両藩は外国と戦って、大きな力の差を実感し、まず強い国づくりを進めるために、幕府を倒す運動を始めたのです。
- C この年、西南戦争が起きました。この頃、不満を持った(4)の反乱が各地で起きていましたが、その中でも最大のものでした。しかし、徴兵令でつくられた政府の新しい軍隊によってしずめられました。
- D この年、ペリーは、日本の開国を求めるアメリカの大統領の手紙を持ち、4せきの軍艦を率いて(5)湾の入口の浦賀に現れました。幕府は翌年、日米和親条約を結んで下田と函館の港を開き、鎖国の状態が終わりました。
- E この年、政府はこれまで各地に置かれていた藩をなくして、新たに府や県を置きました。これを(6)と言います。
- F この年、岡山藩では、差別されていた50以上の村の人々が立ち上がり、一揆を起こしました。藩の財政が苦しく、差別を受けていた人々に対して、着物の染め方や模様、特に厳しい命令が出されたことに反発したものでした。その結果、藩は命令を取り下げました。これを(7)と呼びます。
- G この年、幕府はアメリカと日米修好通商条約を結び、ロシア、イギリス、オランダ、(8)とも同様の条約を結びました。これらの条約には、外国人が日本で罪を犯しても、日本は処罰できないこと、外国からの輸入品に日本が自由に税金をかける権利を認めないことなど、日本にとって不平等な内容があり、後に大きな問題となっていました。

問1 文章A～Gの空欄(1)～(8)について、以下の指示に従って答えなさい。

- (1)、(2)は姓名を漢字で答えなさい。
- (3)は藩名を漢字で答えなさい。
- (4)は解答欄から正しいものを選んで○をつけなさい。
- (5)～(7)は、解答欄の1マスに漢字1字を入れなさい。
- (8)は国名をカタカナ4字で答えなさい。

問2 文章A～Gの下線部について、次の問いに答えなさい。

- A 「鳥羽・伏見」が現在のどの都道府県に位置するか漢字で答えなさい。
なお、「都」「道」「府」「県」まで答えること。
- B 坂本龍馬が考えた新政府構想は、明治政府の政治方針に影響を与えたと言われています。船上で考えられたこの構想を何と呼びますか。漢字4字で答えなさい。
- C 西南戦争よりも後に起こったことは、次のA～Iのどれですか。正しいものを一つ選んで記号で答えなさい。
ア. 地租改正が始まる イ. 第一回帝国議会が開かれる
ウ. 学校の制度を定める エ. 郵便制度が始まる
- D ペリーが日本に来る前に立ち寄ったところとして誤っているものを、次のA～Iから一つ選んで記号で答えなさい。
ア. 琉球 イ. 小笠原諸島 ウ. ケープタウン エ. ハワイ諸島
- E 政府が県を治めるために派遣した人を何と呼びますか。漢字2字で答えなさい。
- F 江戸時代の後半、米の不足や値上がりに抗議して都市で起こるようになった動きを何と呼びますか。ひらがな5字で答えなさい。
- G 「外国人が日本で罪を犯しても、日本は処罰できないこと」を何と呼びますか。漢字4字で答えなさい。

問3 大政奉還が行われた年は、文章A～Gの、どの年ですか。記号で答えなさい。当てはまるものがないときは、「×」と答えなさい。

問4 政府が「五箇条の御誓文」を発表したのは、文章A～Gの、どの年ですか。記号で答えなさい。当てはまるものがないときは、「×」と答えなさい。

問5 文章A～Gを起こった順に並べ替えたとき、2番目、4番目になるのはそれぞれどれですか。記号で答えなさい。

問6 文章A～Gが起こったのは、いつのことですか。次のA～オの中から最も適当なものを選んで、記号で答えなさい。

- ア. 17世紀
- イ. 17世紀～18世紀
- ウ. 18世紀
- エ. 18世紀～19世紀
- オ. 19世紀

5 次の文章を読んで、問いに答えなさい。

日本国憲法が保障する国民の権利の一つに、①国民が健康で文化的な生活を営む権利があります。国や地方公共団体（都道府県や市区町村）は、国民が健康で文化的な生活を送れるようにさまざまな仕事を行います。それらの仕事にかかる費用の多くは、国民が納める②税金でまかなわれています。国に納められた税金の使い道は、③国会で決められます。税金は国民が豊かな生活を送るために欠くことのできないものです。そのため日本国憲法は、国民の義務として④「納税の義務」を定めています。

税金の将来のあり方について考える上で重要なことの一つに、少子・高齢化問題が挙げられます。⑤高齢者が増えると、医療や福祉など高齢者のために使われる税金の割合が高くなり、現役で働く若い人の税金の負担が大きくなると予想されるからです。

問1 下線部①を何といますか。漢字3字で答えなさい。

問2 下線部②に関する次の問いに答えなさい。

1) 税金のうち、会社が国に納めるものを何といますか。次から一つ選んで、記号で答えなさい。

ア. 住民税 イ. 法人税 ウ. 固定資産税 エ. 所得税

2) 国が税金を補うために発行するものを何といますか。漢字2字で答えなさい。

問3 下線部③に関する次の問いに答えなさい。

1) 国会の仕事について、誤っているものを次から二つ選んで、記号で答えなさい。

ア. 文化勲章を授与する イ. 条約を承認する
ウ. 憲法改正を国民に提案する エ. 法律をつくる
オ. 内閣総理大臣を任命する カ. 裁判官を裁く裁判をする
キ. 委員会を開く ク. 内閣不信任案を決議する

2) 国会議員の選挙について、一回の通常選挙で選ばれる参議院議員の数は何人ですか。

問4 日本国憲法に記されている下線部④以外の義務を二つ答えなさい。

問5 下線部⑤に関する次の問いに答えなさい。

1) 次の条文は、1963年に制定された高齢者に関する法律の「第2条（基本的理念）」です。この法律を何といますか。下から一つ選び、記号で答えなさい。

老人は、多年にわたり社会の進展に寄与してきた者として、かつ、豊富な知識と経験を有する者として敬愛されるとともに、生きがいをもてる健全で安らかな生活を保障されるものとする。

ア. 生活保護法 イ. 老人保健法 ウ. 介護保険法 エ. 老人福祉法

2) 厚生労働大臣から委嘱され、高齢者の福祉だけでなく子どもたちの福祉のためにも活動する人のことを何といますか。

6 それぞれ二つの文からなるA～Jにおいて、一つだけが正しい場合は「1」を、両方とも正しい場合は「2」を、両方とも誤っている場合は「0」を解答欄に書きなさい。

- A
- 国際連合は1945年に設立され、日本はその年に加盟した。
 - 外務省資料によると、日本の国連分担金の割合は、アメリカ合衆国とドイツに続いて多い。(2014年)

- B
- ユニセフ（国連児童基金）の活動における基本的な考え方は、1994年に採択された、子どもの権利条約に基づいている。
 - ユニセフは国際連合の機関の一つであり、日本の学校給食はユニセフから支援を受けたことがある。

- C
- 青年海外協力隊は、日本のODA（政府開発援助）の一つである。
 - NGO（非政府組織）は、世界平和・人権・医療などの問題に市民の立場から取り組む組織である。

- D
- 2002年に、国連総会はユネスコ（国連教育科学文化機関）を中心として、2003年からの5年間を「国連持続可能な開発のための教育の5年」とする決議をした。
 - 南太平洋にあるツバルでは、地球温暖化による海水面の上昇によって国土が浸水する被害が出ている。

- E
- 自衛隊は、国連の平和維持活動（PKO）の一環として、東ティモールで道路の補修を行った。
 - アメリカ合衆国の首都にあった世界貿易センタービルは、2001年にテロによる攻撃を受け、崩壊した。

- F
- 中国のひとりっ子政策は、人口増加をおさえるために、第二次世界大戦後すぐに始まった。
 - 中国では、旧暦のお正月にあたる春節に、学校や工場や商店などがお休みとなり、故郷に帰る人々が多数いる。

- G
- サウジアラビアの国教は、イスラム教である。
 - イスラム教では、ラマダン（ラマダーン）の1週間は断食の期間なので、日中は食べ物や飲み物を口にしない。

- H
- 韓国と日本の間では、尖閣諸島をめぐる問題がある。
 - 韓国の小学校は日本と同じ6年制であるが、新学期は3月に始まる。

- I
- アメリカ合衆国で10月31日に行われるハロウィンは、秋の収穫を祝う祭りが起源の一つとされている。
 - アメリカ企業は、経済のグローバル化に大きな影響を与えている。

- J
- ブラジルの義務教育期間は、日本の小学校にあたる初等教育の5年間のみである。
 - 日系ブラジル人とは、日本からブラジルに移住した人とその子孫のなかで、日本国籍を維持している者のみをさす。

解答用紙

1

問1	1)		2)	
	3)			
問2	1)		2)	
問3	ア	川	イ	川
問4	夏	に		問5
問6	整備			

2

問1	(1)	県	(2)	県	(3)	県
問2	川	問3	川	問4	川	
問5	汚	染	問6	1)	2)	
問7	ア	イ	ウ			

3

問1	問2	問3	問4	問5	問6
問7	問8	問9	問10	問11	問12
問13	問14	問15	問16	問17	問18
問19	問20	問21	問22		

4

問1	(1)	(2)	(3)	藩				
	(4)	皇族	華族	士族	平民	(5)	湾	(6)
	(7)	一	揆	(8)				
問2	A	B	C	D	E			
	F	G						
問3	問4							
問5	2番目 ()	4番目 ()	問6					

5

問1	問2	1)	2)
問3	1)	2)	人
問4			
問5	1)	2)	

6

A	B	C	D	E
F	G	H	I	J