

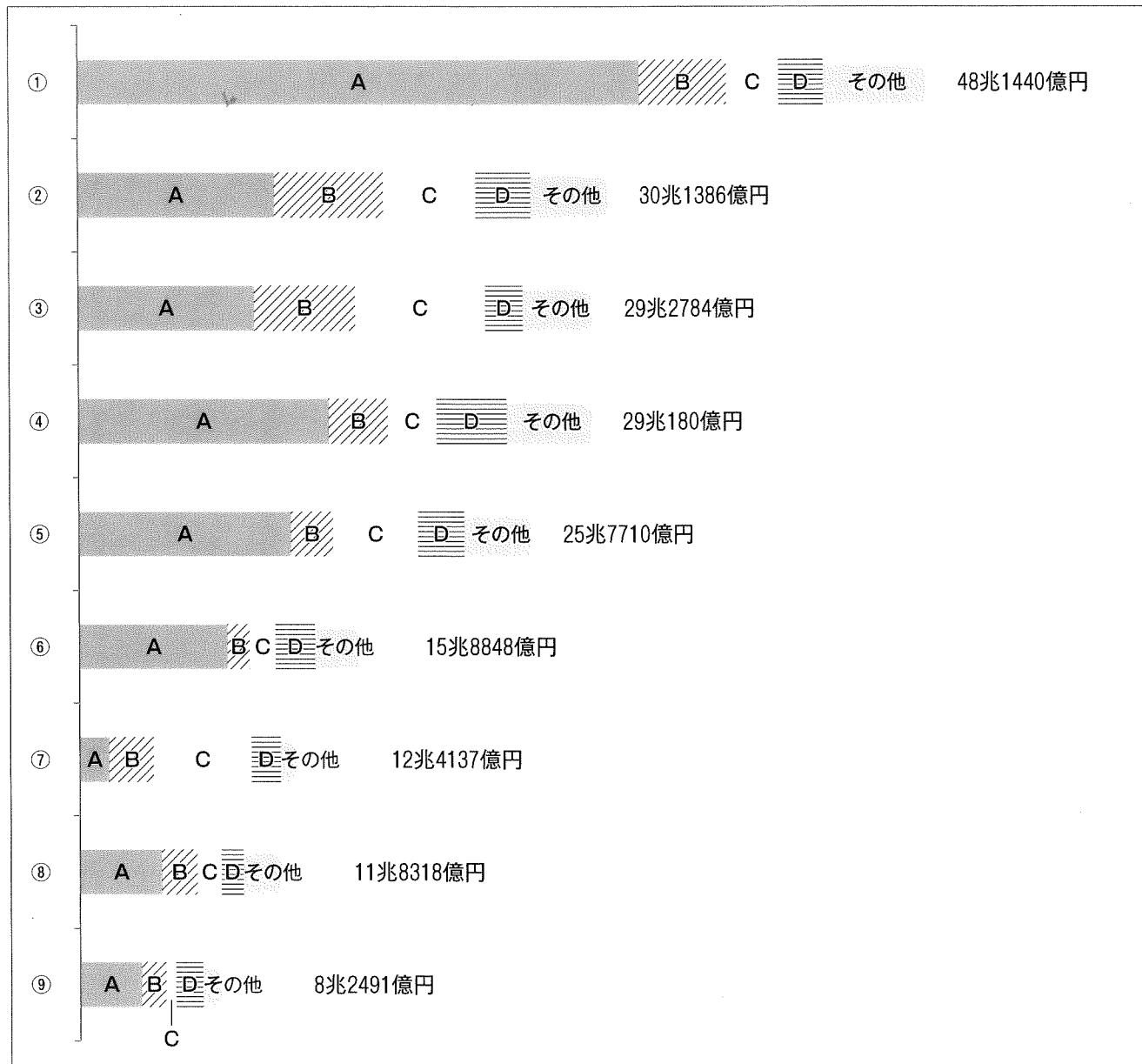
2016年度 入学試験問題

社 会

(答えはすべて解答用紙に書きなさい)

受験番号

1 次のグラフ①～⑨は日本における工業のさかんな所とその生産額を表したものです。
このグラフを見ながら、問いに答えなさい。



(2010年)

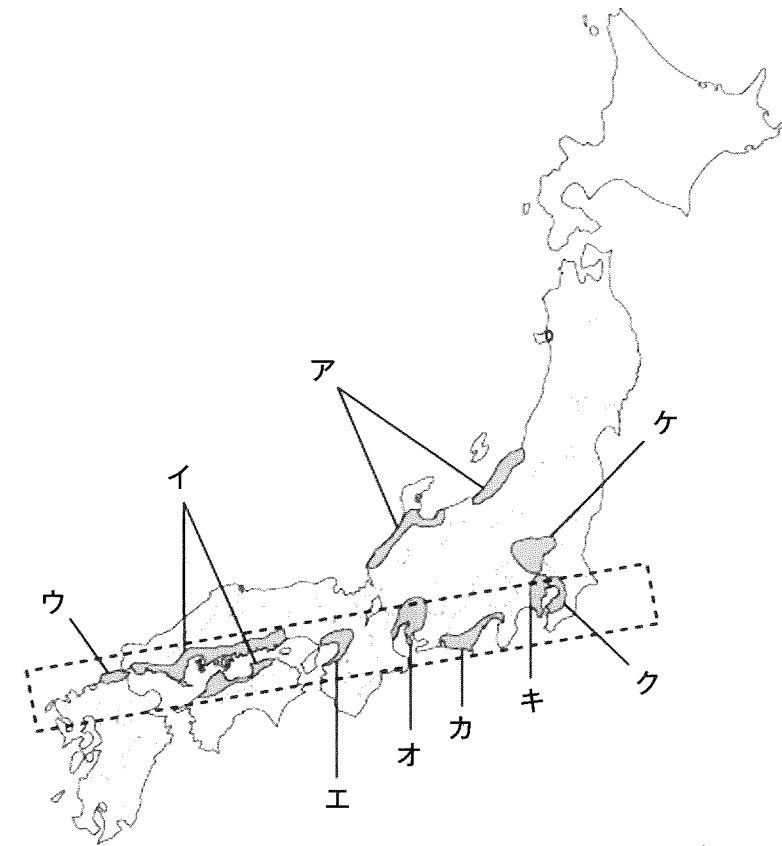
問1 上のグラフのA～Dに当てはまる工業名をそれぞれ答えなさい。

問2 問1で答えたA～Dの工業で生産される製品を次のア～カのなかから一つずつ選んで、記号で答えなさい。

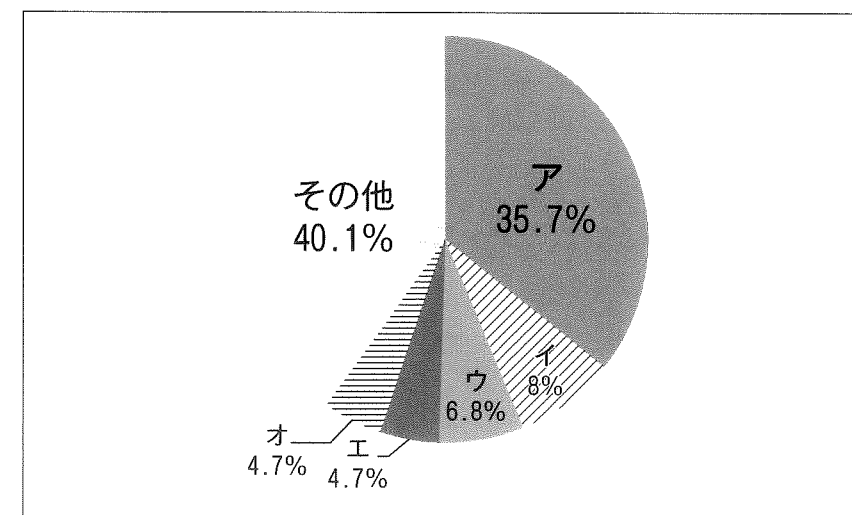
- | | | |
|--------|----------|---------|
| ア. タオル | イ. ランドセル | ウ. 携帯電話 |
| エ. 薬 | オ. しょうゆ | カ. ボルト |

問3 上のグラフ③と⑦はCの割合が他のグラフに比べて高い割合になっています。
これはなぜでしょうか。輸送の観点からみた理由を答えなさい。

問4 1) 前ページのグラフの①と⑨に当てはまる所を次の地図のA～ケのなかから一つずつ選んで、記号で答えなさい。
2) 地図上の点線で囲まれた地域は、日本のなかでも特に工業のさかんな地域ですが、一般に何と呼ばれていますか。



問5 1) 下の円グラフは、日本の輸送用機械（自動車など）の生産において上位を占める都道府県の生産額割合を示したグラフです。円グラフのなかのアが示す都道府県名を答えなさい。
また、前ページのグラフ①～⑨のなかから、アの都道府県を含む所のグラフの一つを選んで、番号で答えなさい。



総額 54兆2136億円 (2010年)

2) 自動車の部品の一つであるシートを作る工場で、注文を受けてから出荷するまでの流れを正しく表しているものを、次のア～エのなかから一つ選んで、記号で答えなさい。

- ア. 注文を受ける→布をぬう・フレームを作る→シートを組み立てる→部品をとりつける→シートのカバーを接着する→検査する→出荷する
- イ. 注文を受ける→シートのカバーを接着する→布をぬう・フレームを作る→検査する→部品を取りつける→シートを組み立てる→出荷する
- ウ. 注文を受ける→シートのカバーを接着する→部品を取り付ける→布をぬう・フレームを作る→検査する→シートを組み立てる→出荷する
- エ. 注文を受ける→布をぬう・フレームを作る→シートのカバーを接着する→シートを組み立てる→部品をとりつける→検査する→出荷する

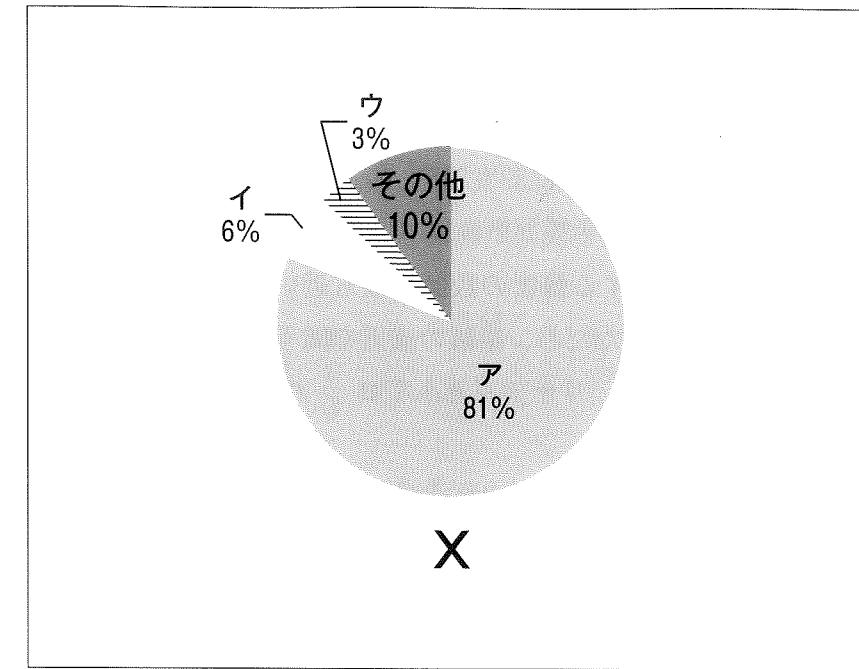
3) 自動車の車体（ボディ）はほとんど鉄鋼でできています。日本は、鉄鋼をつくるための原料を輸入に頼っています。右の円グラフはその原料の輸入先の国を表しています。

- a) 次のページの円グラフが示す原料Xを答えなさい。
- b) 次のページの円グラフを見て、ア～オに当てはまる国名をそれぞれ答えなさい。（両方の円グラフに含まれるアは同じ国を表しています。）

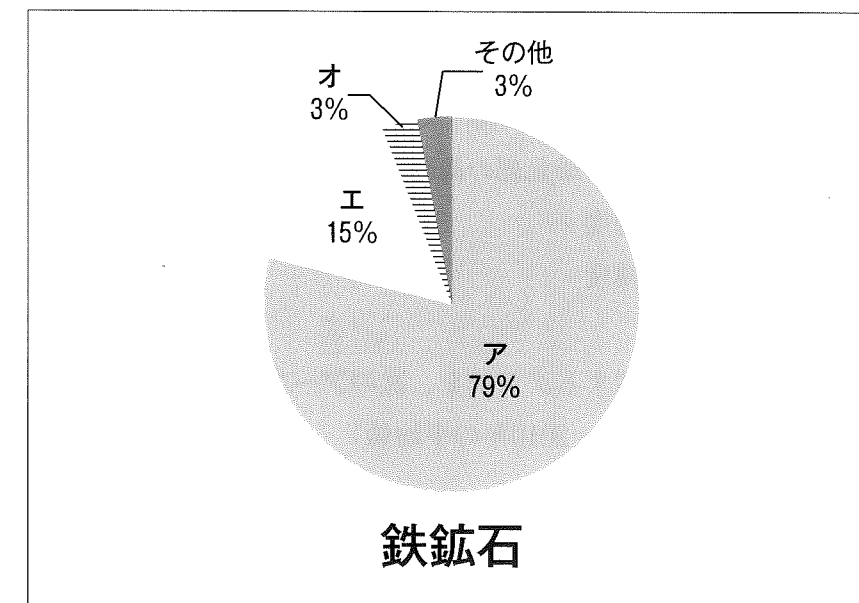
問6 自動車は排出ガスを出すため、地球温暖化の原因になるといわれています。排出ガスをまったく出さず、水だけを排出する自動車を何というか、答えなさい。

問7 蒸発する温度が一番低い燃料を、次のア～エのなかから一つ選んで、記号で答えなさい。

- ア. 軽油 イ. 灯油 ウ. ガソリン エ. 重油



(2011年)

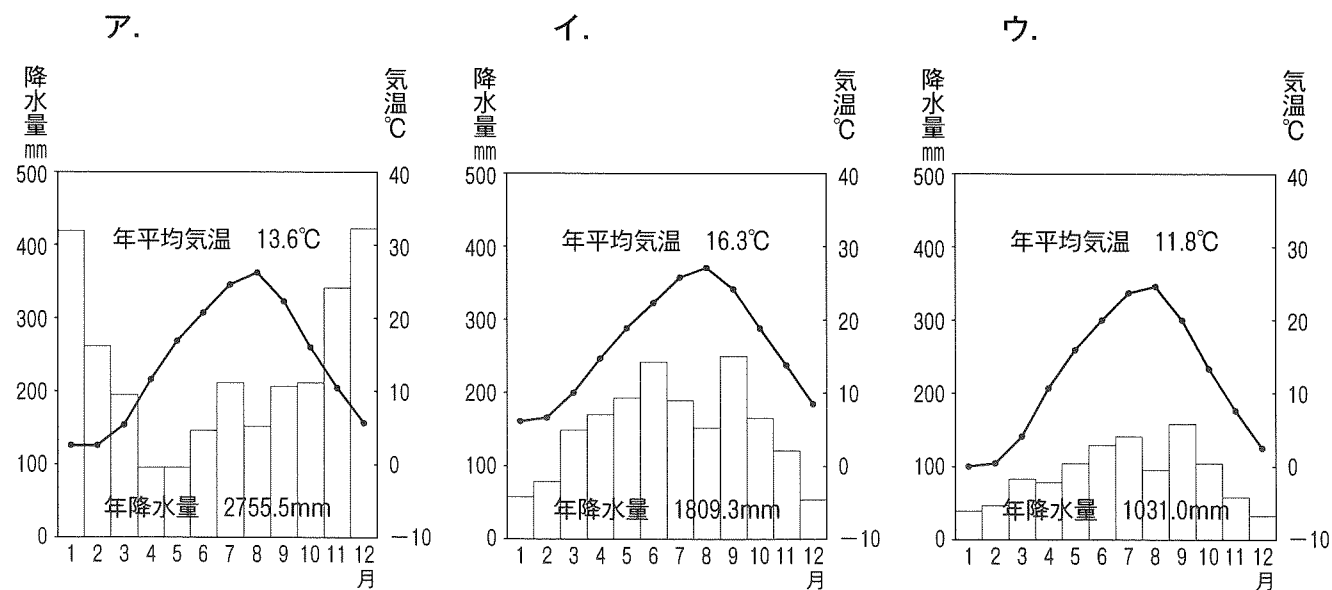


鉄鉱石

(2011年)

2 まつもと 松本城で有名な松本市に関して、問いに答えなさい。

- 問1 松本市が位置する緯度を次のア～エのなかから選んで、記号で答えなさい。
 ア. 北緯36度24分 イ. 北緯39度24分 ウ. 北緯42度24分 エ. 北緯45度24分
- 問2 南半球で、松本市が位置する緯度の数値と最も近い数値の都市を次のア～エのなかから選んで、記号で答えなさい。(ただし、距離の遠近を問うているものではありません。)
 ア. リマ イ. リオデジャネイロ ウ. ダルエスサラーム エ. キャンベラ
- 問3 問2で選んだ都市が位置する国名を答えなさい。
- 問4 松本市が位置する県名を答えなさい。
- 問5 問4の県の、県庁と松本市役所との直線距離を、次のア～エのなかから選んで、記号で答えなさい。
 ア. 約49.5 km イ. 約79.5 km ウ. 約109.5 km エ. 約139.5 km
- 問6 次のア～ウを、高緯度から低緯度の順に並べ、記号で答えなさい。
 ア. 松本市が位置する県の最北部の緯度
 イ. 石川県の最北部の緯度
 ウ. 岐阜県の最北部の緯度
- 問7 松本市の降水量と気温に関するグラフを、次のア～ウのなかから選んで、記号で答えなさい。
 (ただし、統計数値は1981年～2010年の平均値)



- 問8 松本市役所の標高は592.21 mです。
 仮に、松本市役所の西隣に15階建てのマンションがあるととして、その15階から真西を眺めて、標高568.8 mの岐阜県の高山市役所は見えますか。いずれかを解答欄に○で囲みなさい。
 また、その理由も答えなさい。
 (ただし、2地点間に眺望を遮る建物が無く、超高精度望遠鏡を使用すると仮定します。)
- 問9 松本市の伝統工芸品を次のア～エのなかから一つ選んで、記号で答えなさい。
 ア. 曲げわっぱ イ. 将棋駒 ウ. 家具 エ. 岩槻人形
- 問10 問4で答えた県の農業と、最も関係が浅い作物を次のア～エから一つ選んで、記号で答えなさい。
 ア. モモ イ. ミカン ウ. ブドウ エ. リンゴ

3 日本の歴史に関する次の文章A～Gについて、問いに答えなさい。

- A 武士のなかでも、源氏と平氏が特に勢いを強め、中央の政治に関わるほど大きな力をもつようになりました。武士としてはじめて太政大臣だいていじんになったのは（ 1 ）でした。
- B 3代将軍の（ 2 ）は中国ちゅうごく（明）との国交を開き、貿易をはじめました。この貿易によって（ 2 ）は大きな利益を得ました。
- C （ 3 ）氏の力は天皇をしのぐほど強くなりました。これを見た中大兄皇子なかのおおえのおうじと中臣鎌足なかとみのかまたりは645年に（ 3 ）氏を攻め滅ぼほろしました。そして皇子たちは天皇を中心とする強力な国づくりを進めました。この政治の改革を（ 4 ）といいます。
- D 源氏の将軍が絶えたあと、朝廷は幕府たおを倒す兵を集めました。このとき、（ 5 ）はおもな御家人ごけいじんを集めて京都きょうとに向かって出陣するよう言いました。これを聞いた御家人たちは京都へと攻め上り、朝廷の軍を武力でおさえました。
- E 1467年、京都で、将軍のあとつぎ問題などをめぐって幕府の有力な守護大名どうしの対立が深まり、（ 6 ）が起きました。戦いは次第に地方へと広がり、10年あまりも続く大きな戦乱となりました。
- F 尾張おわり（愛知県）の小さな大名だった（ 7 ）は、当時強い勢力を持っていた駿河するが（静岡県）の今川義元いまがわよしもとを桶狭間おけはざまの戦いで破りました。さらに、周囲の有力な大名を倒して、勢力を広げていきました。
- G （ 8 ）天皇が東大寺の大仏づくりを進めていたころ、多くの農民にしたわれる行基ぎょうきという僧そうがいました。朝廷は、はじめは行基の活動を取り締ましっていましたが、のちには行基を高い僧の位につけて大仏づくりを進めました。

問1 （ 1 ）～（ 8 ）に最も適当な語句を入れなさい。ただし、解答欄の1つのマスに漢字1字が入るように答えなさい。

問2 文章A～Gを年代順に並べたとき、3番目と5番目にあたるものを記号で答えなさい。

- 4 花子さんのクラスでは、「昔の人々の暮らし」をテーマに、分担して歴史新聞を作ることになりました。花子さんは、京子さん、和子さんと3人で17世紀と18世紀を担当します。このグループの打ち合わせの様子を読んで、問いに答えなさい。

花子 「では、打ち合わせを始めます。まず、調べる年代を確認しましょう。
17世紀と18世紀ということは西暦でいうと①()年から()年を調べればよいですね？」

京子 「そうですね。では内容に入りましょう。私は、②18世紀の江戸の人口を調べました。現在の都市の人口と比べてみます。」

花子 「現在との比較はおもしろいですね。私は、③18世紀初めごろの全国の耕地面積を、江戸幕府が始まったころの耕地面積と比べてみました。」

和子 「17世紀から18世紀は、さまざまな農具が普及した時期でもあります。私は④農具の名前と用途を紹介します。」

京子 「農業に関して言えば、米だけでなく、⑤綿、なたね、茶など売ることを目的とした作物の栽培が広がってきたようです。各地の産業が発展したのもこの時期です。このころ生まれた特産物の多くは、今も特産物として残っています。私は日本地図を描いて、そこに⑥当時の特産物を書き入れていきます。」

花子 「17世紀、18世紀は江戸や京都、大坂を中心にさまざまな文化が生まれています。私は、⑦主な作者と作品も紹介したいです。」

和子 「⑧相撲見物を庶民が楽しめるようになったのはこのころだそうです。隅田川での打ち上げ花火が始まったり、⑨『はなし』の最後に『おち』があることから『落としばなし』とも呼ばれた娯楽が人々の間で楽しめるようになったのもこのころです。現代につながるこうした娯楽を紹介したら楽しいですね。」

京子 「18世紀には新しい学問も生まれています。松阪の医師であった本居宣長は⑩古くからの日本人の考え方を研究する学問に力を注ぎ、⑪35年をかけて1つの書物を完成させました。」

和子 「⑫もともと江戸時代に幕府や藩が重んじていたのは、主君と家来、父と子など上下の秩序を大切にする学問ですね。本居宣長が研究した学問が広まっていくにつれて、天皇を尊いものとし、当時の政治のあり方を批判する人たちも現れてきます。」

花子 「これは幕末の動きに大きく関わってきますが、ここから先は19世紀を担当するグループに任せましょう。」

問1 下線部①について、空欄に数字を入れて、正しい文章になるようにしなさい。

問2 下線部②について、18世紀の江戸の人口は、どのくらいだったと考えられますか。次のア～エのなかから最も近いものを選んで、記号で答えなさい。

(なおア～エは、2011年の統計で比べるものとします。)

- ア. 現在の青森市の人口と同じくらい
- イ. 現在の横浜市よこはまの人口と同じくらい
- ウ. 現在の奈良市ならの人口と同じくらい
- エ. 現在の広島市ひろしまの人口と同じくらい

問3 下線部③について、18世紀の初めごろの全国の耕地面積は、江戸幕府が始まったころの耕地面積と比べてどのくらいになっていましたか。次のア～エのなかから最も近いものを選んで、記号で答えなさい。

- ア. 約10分の1
- イ. 約2分の1
- ウ. 約2倍
- エ. 約10倍

問4 下線部④について、以下の問いに答えなさい。

次のア～Cは、このころ普及した農具の名前です。それぞれの説明として正しいものをア～エから選んで記号で答えなさい。

- | | | |
|---------|------------------------------|--------|
| A. 千歯こき | B. 備中ぐわ <small>びっちゅう</small> | C. とうみ |
|---------|------------------------------|--------|

- ア. 土を深く耕す道具
- イ. 米などのもみがらやごみを取り除く道具
- ウ. かんがいに使う道具
- エ. 麦や稲いねを脱穀する道具

問5 下線部⑤について、こうした作物を何と呼びますか。漢字4字で答えなさい。

問6 下線部⑥について、以下の問いに答えなさい。

1) 次のA、Bはそれぞれ同じ種類の特産物がある地域です。

A. ^{あいづ}会津・^{つがる}津軽・^{なんぶ}南部・^{わじま}輪島 B. ^{びぜん}備前・^{からつ}唐津・^{くたに}九谷・^{はぎ}萩・^{さつま}薩摩

A、Bそれぞれの地域で共通して作られていた特産物は何ですか。次のア～エのなかから選んで、記号で答えなさい。

ア. 焼き物 イ. 和紙 ウ. 織物 エ. 塗り物

2) 京子さんはAとBの各地域が、現在のどの都道府県に属しているかを調べてみました。すると、AとBのどちらにも登場する県が一つだけありました。それは何県ですか。漢字で答えなさい。

問7 下線部⑦について、以下の問いに答えなさい。

1) このころの人物で、武士の身分を捨てて芝居の世界に入り、「曾根崎心中」「心中天網島」など約150編にもものぼる歌舞伎や人形浄瑠璃の脚本を書いた人はだれですか。姓名を漢字で答えなさい。

2) 18世紀後半に生まれた葛飾北斎、歌川広重について答えなさい。

a) 葛飾北斎の代表作に「富嶽三十六景」があります。これは同じ山の姿をさまざまな構図で描き分けたものです。その山の名前を漢字で答えなさい。

b) 歌川広重の代表作に「東海道五十三次」があります。これは五街道のひとつ東海道の名所風景を描いた作品です。五街道のうち、現在の山梨県を通る街道の名前を漢字で答えなさい。

c) 葛飾北斎の「富嶽三十六景」、歌川広重の「東海道五十三次」のように美しい多色刷りの技術で人気を集めた版画を何と呼びますか。漢字3字で答えなさい。

3) 自然をたくみに読み込んだ俳句を作った松尾芭蕉も当時の人物です。

次の句は、松尾芭蕉の代表作の一つです。1マスに1字ずつ正しい漢字を入れて、完成させなさい。

「五月雨を あつめて早し □□川」

問8 下線部⑧について、神社や寺の修理などの資金を集めるために、幕府の許可を得て行われる相撲のことを何と言いますか。漢字で答えなさい。

問9 下線部⑨について、現在も人々の間で楽しまれているこの娯楽を何と呼びますか。漢字2字で答えなさい。

問10 下線部⑩について、この学問を何と呼びますか。漢字2字で答えなさい。

問11 下線部⑪について、この書物の名前を漢字で答えなさい。

問12 下線部⑫について、この学問を何と呼びますか。漢字2字で答えなさい。

5 A～Eは歴史的な文書の一部をわかりやすく書き直したものと、その説明です。

よく読んで、問いに答えなさい。

A

第1条 (a) 日本国と (あ) の戦争状態は、この条約が効力を生ずる日に終了する。

(b) (いあ) は、日本及びその領海に対する日本国民の完全な主権を承認する。

第2条 (a) 日本は (い) の独立を承認する。

(b) (省略)

(c) 日本は千島列島と (う) 戦争後に獲得した樺太の一部を放棄する。

これによって日本は占領を解かれることになりましたが、沖縄・奄美諸島・(え) はアメリカ軍が引き続き統治することとされました。

B

われらアメリカ合衆国大統領、(お) 政府主席、イギリス総理大臣は、われらの数億の国民を代表し、協議の上、日本国に対し今度の戦争を終結する機会を与えることに意見が一致した。…

これが出されたとき、日本の内閣は「黙殺」しましたが、その後、日本はこの文書を受け入れました。

C

…日本の社会制度に対する下記の諸改革を、…できるだけ早く実行することを期待する。

1. (か) を与えることにより、日本の女性を解放すること。…
2. 労働組合の結成を推進すること。…
3. 学校を、より自由主義的な教育のために開校すること。…
4. 国民に恐怖を与える秘密警察制度を撤廃すること。…
5. 日本の経済制度を民主主義化して、所得や生産手段・商業手段を公平に得ることができるようにすること。…

これは、(あ) 軍総司令部が出した5つの指令です。これによって、戦後の改革が進みました。「1」によって、20年前にすべての成人男子に認められた権利が、女子にも認められるようになりました。また、「2」によって、「団結権」などが認められるようになりました。さらに、「3」によって、それまでの教育をまったく改めるため、当面はそれまでの教科書を「(き) 教科書」にして使ったりしました。そして、「5」により、

D

- 1 日本とソビエト社会主義共和国連邦との間の戦争は、この宣言が効力を生ずる日に終了し、両国の間に平和と友好の関係が回復される。
- 2 日本とソビエト社会主義共和国連邦の間に正常な外交関係が回復されたら、(く) の締結のための交渉を継続することとする。

これにより、日本とソ連の国交は回復しました。しかし、(く) の締結にはまだ至っていません。

E

第1条 アメリカの陸軍・空軍・海軍を日本国内及びその付近に配備する権利を日本はアメリカに与える。この軍隊は、極東における国際平和と安全の維持のために寄与し、外国のそのかしや干渉による(け) や外国からの武力攻撃があったときに使用される。

この条約は1960年に改定されましたが、その年に

問1 A～Eの(あ)～(け) に最も適当な語句を記入しなさい。ただし、同じ記号の() には同じ語句が入ります。

問2 Bの下線部について、この間におこったこととして最も適当なものを、次のア～エのなかから選んで、記号で答えなさい。

- ア. 沖縄戦が始まる イ. 東京が初めて空襲される ウ. ソ連が中立条約を破る
エ. 中学生や女学生が工場に動員されるようになる

問3 Cのに入る文として最も適当なものを次のア～エのなかから選んで、記号で答えなさい。

- ア. 地租改正がなされました イ. すべての会社が一時国有になりました
ウ. 高度経済成長が始まりました エ. 独占的な大会社が解体されました

問4 Eのに入る文として最も適当なものを次のア～エのなかから選んで、記号で答えなさい。

- ア. 警察予備隊が発足しました
イ. 政府に対して大規模な反対運動がおこりました
ウ. 沖縄県にのみアメリカ軍の基地が置かれることになりました
エ. 自衛隊が初めて海外に派遣されました

問5 A～Eの文書のうち、最も後に出されたものを選んで、記号で答えなさい。

6 次の文章を読んで、問いに答えなさい。

2011年3月11日午後2時46分、①宮城沖を震源とする地震が発生して、岩手、宮城、福島、茨城などで大きな被害が出ました。地震後に発生した(1)は沿岸のまちを襲い、被害をいっそう大きくしました。②この地震によって、多くの人の命が奪われました。また地震の影響で、(2)原子力発電所で爆発事故が起こり、有害な放射性物質が広い範囲に放出されました。政府はこれらの地域の復興のために、放射性物質を取り除く(3)を進め、地表の土をはぎ取ったり、建物の壁を洗い流したりしました。

地震発生後、国は(4)法を適用して応急的に必要な救助活動を行い、被災者の保護や社会秩序の保全を行いました。また2011年6月には震災からの復興を迅速に進めるために(5)法が国会で成立し、2012年には(6)という行政機構が新設されました。

地震によるダメージはかなり深刻なものでした。しかし国や県、市は迅速な復興に努力してきました。その結果、例えば(7)市では生鮮かつおの水あげにおいて地震前と変わらず日本一を記録しました。被災地ではこうした地道な取り組みがみられる一方で、課題が多く、まちづくりは何年もかかるといわれています。

問1 文章中の(1)~(7)に最も適切な語句を入れなさい。

問2 下線部①を何といいますか。

問3 下線部②の死者数に最も近いものを次のア~オのなかから選び、記号で答えなさい。ただし、行方不明者数は含みません。(2012年現在)

- ア. 5000人 イ. 10000人 ウ. 15000人
エ. 20000人 オ. 25000人

7 次の1~10の文章中の下線部が正しい場合は○を、まちがっている場合には下線部を最も適切な語句に直しなさい。

- 衆議院の議員定数は、480名である(2016年1月16日現在)。
- 韓国では、選挙権をもてる年齢は20才である。
- 日本国憲法第13条では「基本的人権は、侵すことのできない永久の権利」としている。
- 住民投票とは、内閣などが法律案などをつくる際に、広く意見や改善案を募集する手続きのことである。
- 天皇は国の政治についての権限は一切持たず、内閣の助言と承認に基づいて、憲法で定められた国事行為を行う。
- 「文化の日」は日本国憲法が施行された日を記念して定められた。
- 予算や財政などに関する仕事をする行政機関は、経済産業省である。
- 土地や建物にかかる固定資産税は国税である。
- 2009年に始まった裁判員制度では、くじで選ばれた20才以上の国民が裁判員となる。
- ユニバーサル・デザインとは、年齢、障がいの有無、性別、国籍などに関係なく、すべての人が使いやすい製品や生活環境をはじめからつくることをいう。

解答用紙

1	問1	A	工業	B	工業	C	工業	D	工業
	問2	A	B	C	D				
	問3								
	問4	1)	①	⑨	2)	地帯			
	問5	1)	県	番号	2)				
		3)	a)		b)	ア	イ		
		ウ		エ		オ			
問6	自動車			問7					

2	問1	問2	問3	問4	県
	問5	問6	[高緯度] () → () → () [低緯度]	問7	
	問8	見える ・ 見えない	理由		
	問9	問10			

3	問1	1	2	3	4	の
		5	6	の	7	8
問2	3番目	5番目				

4	問1	() 年から () 年	問2	問3	
	問4	A	B	C	問5
	問6	1) A	B	2)	県
	問7	1)	2)	a)	b)
		c)	3)	問8	相撲
問10	問11	問12			

5	問1	あ	い	う	え
		お	か	き	く
		け			
問2	問3	問4	問5		

6	問1	1	2	3
		4	5	6
		7	問2	問3

7	1	2	3
	4	5	6
	7	8	9
	10		