

# 2014年度 入学試験問題

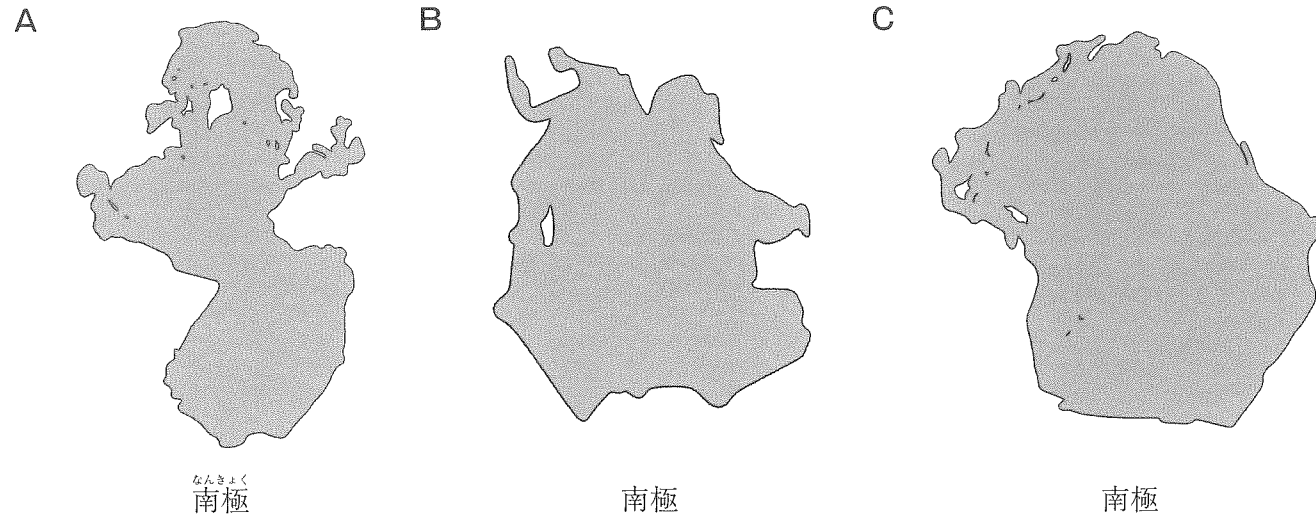
社 会

(答えはすべて解答用紙に書きなさい)

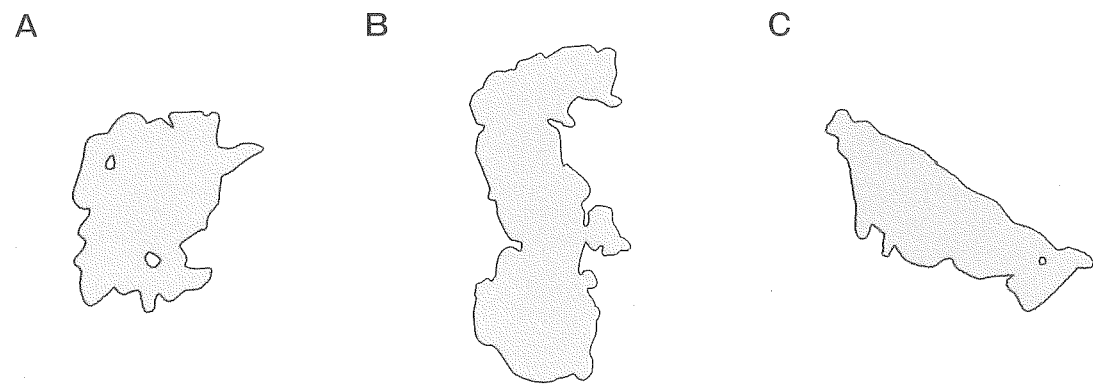
受験番号

1 次の各問いに答えなさい。

問1 次のA～Cの地図は、三大洋の海岸線の形を表現しています。  
それぞれの海の名前を答えなさい。  
ただし、地図はそれぞれ異なる縮尺で描いています。



問2 次のA～Cの湖について各問いに答えなさい。  
ただし、地図はそれぞれ異なる縮尺で描いています。



- 1) A～Cの湖名を、下から選んでそれぞれ記号で答えなさい。  
ア. ビクトリア湖    イ. ヒューロン湖    ウ. サロマ湖    エ. カスピ海
- 2) A～Cの湖が位置する大陸や列島を、下から選んでそれぞれ記号で答えなさい。  
ア. アフリカ大陸    イ. 日本列島    ウ. ユーラシア大陸    エ. オーストラリア大陸

2 次のA～Cの地図について問いに答えなさい。  
ただし、地図はそれぞれ異なる縮尺で描いています。



- 問1 A～Cの地図についてそれぞれ県名を答えなさい。
- 問2 Bの地図の地域について、江戸時代の国名では何と呼ばれていた地域とほぼ同じですか。  
国名を答えなさい。
- 問3 A～Cの県に位置する河川名を、下から選んでそれぞれ記号で答えなさい。  
ア. 那賀川    イ. 九頭竜川    ウ. 庄川    エ. 宮川    オ. 仁淀川
- 問4 A～Cの地図の県のうちで、コシヒカリの原産地が位置する県の地図を記号で答えなさい。

3 次の文章を読んで、各問いに答えなさい。

アメリカ合衆国の面積は日本の面積の約 1 倍あり、世界の巨大山脈の一つである 2 山脈が広がっています。また、五大湖と呼ばれる湖があります。

北米大陸には、もともと 3 とよばれる先住民が住んでいました。そこにヨーロッパからの移民がやってきました。また、ヨーロッパからの移民が、どれいとして 4 大陸から多くの人々を連れてきました。

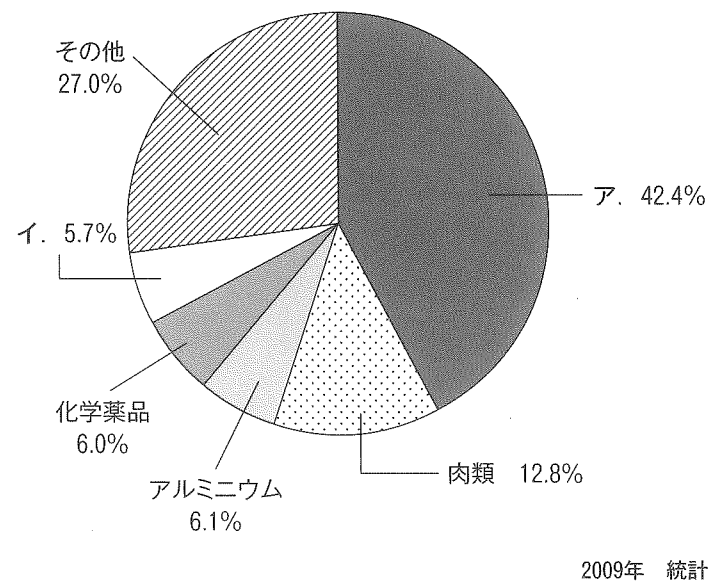
最近、アメリカ合衆国の南側の陸続きの隣国である 5 からの移民も増えています。そのような歴史をもつアメリカ合衆国で、一番多くの人々が使っている言語は英語です。

ブラジルも先住民と移民で構成されている国です。また、アメリカ合衆国と同様に、ヨーロッパから来た移民が、多くの人々を 4 大陸からどれいとして連れてきました。ブラジルは長い間 6 に支配されていたため、一番多くの人々が使っている言語は 6 語です。

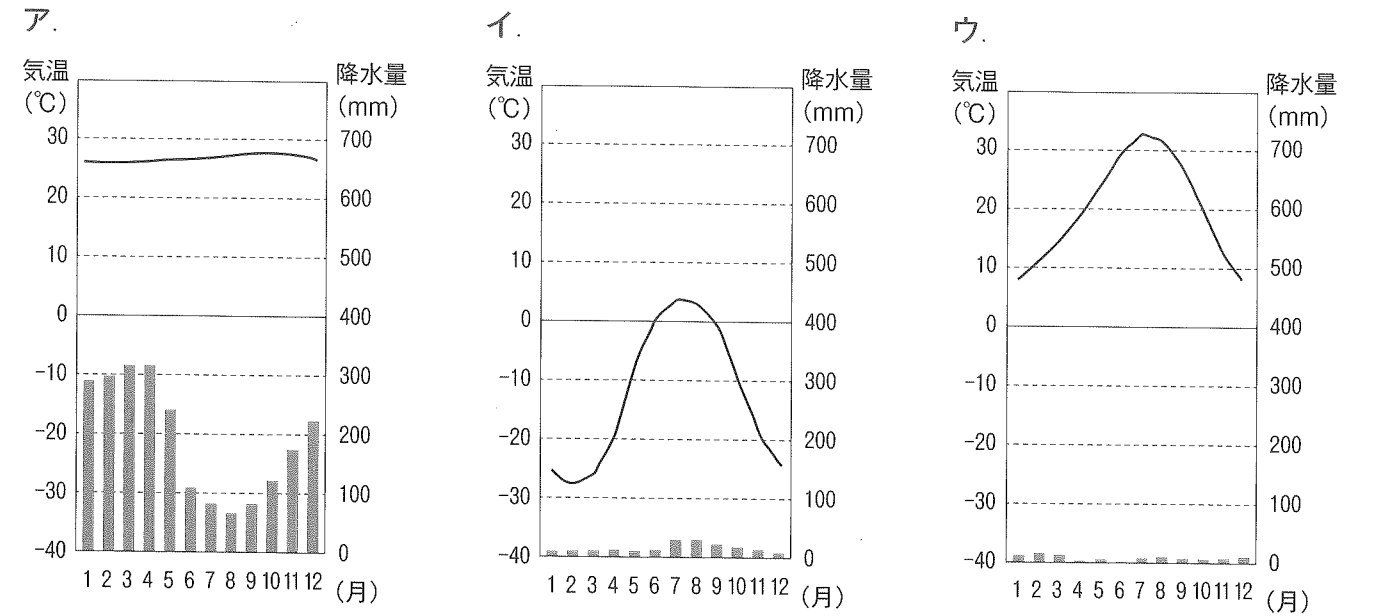
ブラジルの面積は日本の面積の約22倍あります。7 川流域に広大な熱帯雨林が広がり、動植物の貴重なすみかとなっています。

問1 文中の 1 ~ 7 にもっとも適当な語句を入れなさい。

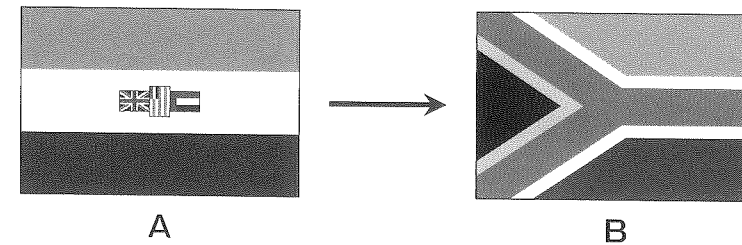
問2 下のグラフは日本がブラジルから輸入しているものの金額の割合を表しています。グラフを見て、ア・イに当てはまるものをそれぞれ答えなさい。



問3 ブラジルのマナオスの気温と降水量を表しているグラフはどれですか。下から選んで記号で一つ答えなさい。



問4 下のAの国旗は、文中の 4 のなかの、ある国のかつての国旗でした。それはヨーロッパ諸国との関係をものがたるデザインでした。下のBの国旗は、それを1994年に変更したもので、国内のさまざまな人々が協力していくことを示すデザインとなっています。この国名を答えなさい。



問5 文中の 4 大陸には世界最大の砂漠があります。その砂漠が領土に含まれていない国を下から選んで記号で一つ答えなさい。

- ア. マリ      イ. モーリタニア      ウ. ニジェール      エ. ガボン

問6 文中の 4 大陸に世界最長の河川があります。その河川について、次の問いに答えなさい。

- その河川名を答えなさい。
- その河川につくられたダムしやうの名称は何ですか。
- 2) で答えたダムをつくった主な目的をひとつ答えなさい。

4 次のA～Fは、縄文時代、弥生時代、古墳時代のいずれかに関係の深い遺跡や古墳について述べた文章です。よく読んで問いに答えなさい。

- A. この国がどこにあったかは、まだわかっていません。大きく2つの説がとなえられていますが、それぞれの根拠となっている遺跡として、1県の吉野ヶ里遺跡や2県の纏向遺跡などがあります。
- B. 東京都にある3貝塚では、明治時代にアメリカの動物学者による発掘が行われ、たくさんの土器や石器、人骨などが発見されました。この発掘から日本における科学的な考古学がはじまりました。
- C. 4県の稲荷山古墳から出土した鉄剣と、熊本県の5古墳から出土した鉄刀に、ともに「ワカタケル」とみられる大王の名前が刻まれていたことから、当時の政府の力が広い地域におよんでいたことがわかります。
- D. 青森県にある、この遺跡では、人々が竪穴住居で生活していた跡が見つかっています。クリやクルミを栽培していたことがわかっているほか、この地方ではとれない、黒曜石やひすい、こはくなどの加工品が多く出土し、他の地域との交易があったことがうかがわれます。
- E. 福岡県の6島では、江戸時代に金印が発見されました。この金印に彫られていた文字から、当時、北九州にあった小国に中国の王が与えたものだと考えられています。
- F. 新潟県にある、この遺跡からは、ほのおが燃え上がっているように見える独特の形をした土器が1936年に出土しました。この形の土器が見つかったのは、この時が初めてでした。

問1 文中の1～6にもっとも適当な語句を漢字で入れなさい。

問2 Aで説明されている「この国」の名前を漢字で答えなさい。

問3 Bで説明されている「アメリカの動物学者」の姓を答えなさい。

問4 Dで説明されている遺跡は、次のどれですか。記号で答えなさい。

ア. 唐古・鍵遺跡      イ. 板付遺跡      ウ. 三内丸山遺跡      エ. 大塚遺跡

問5 Dで説明されている遺跡は、およそ何年間にわたって続いた集落の跡だと考えられていますか。もっとも適当なものを選んで、記号で答えなさい。

ア. 15年間      イ. 50年間      ウ. 500年間      エ. 1500年間

問6 Fで説明されている遺跡は、次のどれですか。記号で答えなさい。

ア. 真脇遺跡      イ. 笹山遺跡      ウ. 加茂岩倉遺跡      エ. 馬高遺跡

問7 A～Fの文章を、縄文時代、弥生時代、古墳時代のいずれかに分類したとき、Bと同じ時代に分類できるものは、あといくつありますか。正しいものを次から選んで記号で答えなさい。

ア. 1つ      イ. 2つ      ウ. 3つ      エ. 1つもない

問8 縄文時代のはじめから2013年までを長さ30 cm とすると、縄文時代は約何 cm の長さになりますか。次の中から、もっとも適当なものを選んで記号で答えなさい。

ア. 5 cm      イ. 10 cm      ウ. 15 cm      エ. 25 cm

5 次の文章を読み、問いに答えなさい。

- A. このころ、貴族内部の争いも、武士の力をかりなくては解決できないことを示す事件が起こりました。①その事件で伊豆に流されていた [ 1 ] が兵を挙げると、各地の武士が次々と集まり、[ 1 ] の弟らを中心とする軍は壇ノ浦で平氏を滅ぼしました。
- B. このころ、聖徳太子は、豪族のなかでも大きな力をもっていた蘇我氏とともに、②天皇を中心とする政治のしくみをととのえようとしました。また、仏教をさかんにするにも力を入れました。③聖徳太子が建てたといわれる [ 2 ] 寺は、現存する世界でもっとも古い木造建築物として世界文化遺産に登録されています。
- C. このころ、都に行って全国に命令を出すようになりたいと望む者があられました。④その先頭に立ったのが、今川義元を桶狭間の戦いで破った織田信長でした。織田信長と連合して勢力をのばしていった徳川家康は、のちに征夷大將軍となり、江戸に幕府をひらきました。
- D. 將軍を助ける執権という職に北条氏がついていた⑤このころ、朝廷は幕府を倒す命令を出しましたが、幕府のもとに集まった武士たちは朝廷の軍を破り、そののち幕府の力は西国までおよぶようになりました。⑥北条泰時は武士としてはじめての法律を定め、幕府の力はますます強くなりました。
- E. このころ、全国で病気や災害、反乱が次々と起こりました。⑦聖武天皇は仏教の力で社会の不安をしずめようと大仏づくりにとりかかりました。のべ250万人以上といわれる人々がたずさわり、⑧9年ほどの歳月をかけて完成しました。
- F. このころ、[ 3 ] は友人の前野良沢らとともに⑨解剖書の翻訳に取り組み、3年あまりかかって完成させて「解体新書」として出版しました。[ 3 ] とほぼ同じ時期に生きた [ 4 ] は、50歳を過ぎてから西洋の測量術や天文学を学び、17年をかけて全国を歩いて測量し、地図づくりに取り組みました。[ 4 ] がなくなって3年後に弟子たちが地図を完成させました。
- G. このころ、將軍のあとつぎ争いがもつて10年以上も続く大きな戦いがおこり、その後、幕府の力はすっかり衰えました。⑩現在の京都府南部にあたる地域では、その地を戦場にして戦っていた大名たちに対して土地に住む武士と農民が立ち上がり、大名たちに軍を引き上げさせ、8年間にわたって自分たちで政治をおこないました。

問1 A～Gを年代順に並べたとき、3番目と6番目にあたるものを記号で答えなさい。

問2 文中の [ 1 ] ～ [ 4 ] にもっとも適当な語句を入れなさい。すべて漢字で答えること。  
なお、答えが人名の場合、姓(名字)を持つ人は、姓名で答えなさい。

問3 文中の下線部①～⑩について、次の問いに答えなさい。

下線部① 1) 「その事件」の名前を答えなさい。

- 2) 伊豆に流されていた [ 1 ] が兵を挙げてから、壇ノ浦で平氏が滅ぼされるまで、何年かかっていますか。もっとも適当な答えを選んで記号で答えなさい。  
ア. 1年 イ. 2年 ウ. 5年 エ. 10年 オ. 15年

下線部② その一例として、聖徳太子が定めた十七条の憲法があります。十七条の憲法について述べた以下の文章のうち、正しいものを2つ選んで記号で答えなさい。(ただし、記号を書く順番は問いません)

- ア. 唐の法律を参考に作ったものである。  
イ. 小野妹子が隋で学んだ法律を参考に作ったものである。  
ウ. 仏教の教えを参考に作ったものである。  
エ. 役人の心がまえを示したものである。  
オ. 農民の心がまえを示したものである。

下線部③ この寺はどこにありますか。現在の都道府県名を漢字で答えなさい。「都」・「道」・「府」・「県」まで書くこと。

下線部④ 1) 桶狭間の戦いから、徳川家康が征夷大將軍となるまで、およそ何年かかっていますか。もっとも適当なものを選び、記号で答えなさい。

- ア. 10年 イ. 20年 ウ. 30年 エ. 40年

2) 「征夷大將軍」は、もともと「ある地方に住む人々を武力で従わせる」役職でした。ある地方とは、どこを指しますか。もっとも適当なものを選び、記号で答えなさい。

- ア. 九州地方 イ. 四国地方 ウ. 関東地方 エ. 東北地方

下線部⑤ このころにつくられたものはどれですか。もっとも適当なものを選んで記号で答えなさい。

- ア. 東大寺金剛力士像 イ. 瑠璃光寺五重塔  
ウ. 平等院鳳凰堂 エ. 日光東照宮

下線部⑥ この法律の名前を漢字で答えなさい。

下線部⑦ 聖武天皇は、都を次々と移しています。次にあげた府県のなかで、聖武天皇の時代に都がおかれなかったのは、どこですか。記号で答えなさい。

- ア. 大阪府 イ. 京都府 ウ. 兵庫県 エ. 滋賀県

下線部⑧ 大仏が完成したのは、日本に仏教が伝わってから、およそどれくらいたったころでしたか。もっとも適当なものを記号で答えなさい。

- ア. 伝わってからすぐ イ. 200年 ウ. 400年 エ. 600年

下線部⑨ この解剖書は何語で書かれていましたか。

下線部⑩ この地域は、当時何と呼ばれていましたか。国の名前を漢字で答えなさい。

6 次の文章を読んで、問いに答えなさい。

韓国は日本からもっとも近い国のひとつです。

今、朝鮮半島は、南北に分断されており、日本はどちらの国とも等しく交わりをもっているとは言えません。しかし、日本は大昔から朝鮮と深いかかわりを持ち、そこから先進文化を学びました。一方、日本が朝鮮を侵略した時代もありました。

古代においては、朝鮮からの渡来人が進んだ技術や学問をもたらしました。例をあげると、山の斜面を利用した [ 1 ] を利用して薄くてかたい土器を焼く技術、また、中国で始まった①儒教などです。

鎌倉時代の元寇では、元はそのときの朝鮮の王朝である [ 2 ] を無理に従わせて、日本に攻めてきました。そのような時代でも、中国の商人を通して経済的交流は続いていました。

16世紀の終わりには、全国を統一した豊臣秀吉が、中国を征服しようとして、2度にわたって朝鮮を攻めました。日本は朝鮮に大きな被害をおよぼしましたが、このとき日本に連行された人々によって、日本の文化は新たな発展をとげることができました。

江戸時代が始まると、[ 3 ] 藩の努力により、[ 3 ] 藩を窓口にして両国の関係は修復され、その後「善隣友好」のときが続きました。朝鮮通信使が来ると、その通り道の人々は競って一行との交わりを求め、彼らのもたらす文化を吸収しようとしたのです。

明治時代になると、日本は朝鮮をめぐる、2つの戦争をおこしますが、1894年からの戦争の結果、朝鮮は「独立」し、国名を [ 4 ] と改めました。もうひとつの戦争を経て、1910年、日本は [ 4 ] を [ 5 ] にしました。このころ、ヨーロッパの国々やアメリカは、世界中に [ 5 ] をひろげていたのです。

日中戦争や太平洋戦争の時代は、朝鮮の人々を日本に同化させようとする政策が強く打ち出されました。姓名を日本名に改めさせる [ 6 ] は、このことのひとつのあらわれです。また戦争による男子の労働力不足を補うため、朝鮮から多くの人々が強制的に連れて来られて、鉱山などで働かされました。

日本の敗戦とともに、朝鮮は [ 5 ] 支配から解放されましたが、朝鮮半島の南部は [ 7 ] が、北部はソ連が占領し、南北に分断されてしまったのです。その後、同じ民族どうしが戦わざるを得なくなりました。

その後、②日本と大韓民国の間には日韓基本条約が結ばれましたが、朝鮮民主主義人民共和国とは今も国交がありません。

最近では、朝鮮半島の文化や生活習慣が日本でも好まれるようになってきました。たとえば、朝鮮の言語を学ぶ人が増えてきました。ちなみにその文字は [ 8 ] と呼ばれます。また、朝鮮半島の漬物であるキムチや野菜のあえ物である [ 9 ] のつくり方を学んだり、女性の伝統衣装であるチマチョゴリを着たりする人もあります。

とは言え、日本人がもっとも近い地域である朝鮮半島の人々とより親しくなるためには、日本と朝鮮の関係の歴史を正確に学び、反省するべきところは反省することが大切です。

問1 文中の [ 1 ] ~ [ 9 ] にもっとも適当な語句を入れなさい。

ただし、[ 4 ] は正式名称を書きなさい。

問2 下線部①について、韓国の社会で、その影響がどのようにあらわれているか、例を1つあげなさい。

問3 下線部②について、これは何年のことですか。下から選んで記号で答えなさい。

ア. 1945年    イ. 1955年    ウ. 1965年    エ. 1975年

7 それぞれ2つの文からなるA~Jのグループにおいて、文の1つだけが正しいときは「1」を、両方とも正しいときは「2」を、両方とも誤っているときは「3」を、解答欄に書きなさい。

A	○国会は内閣を信任しないことを決めることができる。 ○条約を結ぶのは国会であり、内閣は条約を承認する。
B	○国会議員の弾劾裁判をするのは最高裁判所である。 ○「衆議院を解散すること」は天皇の国事行為のひとつである。
C	○男女普通選挙が実施されてから2009年までの衆議院選挙で、投票率が80%を越えたことはない。 ○国会議員選挙の選挙権は、20歳以上の国民に認められている。
D	○国務大臣はすべて、内閣総理大臣が国会議員の中から任命しなければならない。 ○消費者庁は、企業や商店の公正な取引に関する仕事をしており、財務省に属する。
E	○警察の最高機関である法務省は、検察や国籍に関する仕事も受け持っている。 ○厚生労働省は、環境ホルモンや伝染病の対策を役割の一部としている。
F	○9月の第2月曜日は「国民の祝日」であり、高齢者を敬う日である。 ○11月には「国民の祝日」が2日あり、文化の日が先である。
G	○日本国憲法が定める居住や移転の自由、また職業を選ぶ自由を生存権という。 ○日本国憲法には、働く権利と働く義務の両方が書かれている。
H	○第2次世界大戦後、世界で最も長く続いている地域紛争は、カンボジア紛争である。 ○アメリカでおきた同時多発テロとイラク戦争とでは、イラク戦争の方が早く起こった。
I	○世界文化遺産にもっとも関係の深い国連の機関はユネスコである。 ○日本は今までに国連平和維持活動(PKO)に参加したことがある。
J	○EUの加盟国の数は、2009年3月現在で30に達していない。 ○EUには東ヨーロッパの国も加盟している。

