

2013年度 入学試験問題

社 会

(答えはすべて解答用紙に書きなさい)

受験番号

1 次のア～ネの文章の中に、正しい文章が6つあります。

それらをすべて記号で答えなさい。

(ただし、記号を書く順番は問いません。)

ア. 1960年の世界人口は約40億人であったが、2000年には60億人を超えた。

イ. 南緯180度に、南極は位置する。

ウ. 朝鮮民主主義人民共和国とドイツは、同一の大陸に位置する。

エ. 高さ世界第2位の「K2」は、中国とインドの国境に位置する山である。

オ. 山口県北部は、日本海側の気候に区分される。

カ. 日本の輪中は、木曾三川下流部の他には存在しない。

キ. 柿田川は、富士山のわき水が流れる清流である。

ク. 日本の内陸県（海と接していない県）は、全部で7県ある。

ケ. いわゆる「緑のダム」とは森林のことである。

コ. 日本では、「砂防えん堤」に一切のすき間ができないように努力している。

サ. 17世紀に、現在の横浜の中心市街地で、「入り海」の埋め立て工事が行われたのは米の増産とは関係がない。

シ. 野辺山原は、もともと肥沃な土地だったので、農業に適しており、現在も高原野菜の大産地である。

ス. 北海道では、甘味を増した「越冬キャベツ」を出荷している。

セ. 牛・豚・鳥のうちで、肉1kgを生産するのに必要な穀物量が最も少ないのは牛である。

ソ. 「南高梅」は、和歌山県みなべ町の特産物で、みなべ町役場には「うめ課」という部署がある。

タ. 日本・アメリカ・ドイツのうちで、「フード・マイレージ」の数値が最も高い国はアメリカである。

チ. 日本では、「乾田じかまき」による米作は行われていない。

ツ. ジャガイモ、小麦、大豆のうちで、日本での自給率が最も低いのは小麦である。

テ. 日本では、輸入した小麦を、内陸部にある製粉工場で小麦粉に加工して、タンクローリーに積んで、パン工場へ輸送することが多い。

ト. 紙・パルプ工業と、食器などをつくる「よう業」は、共に軽工業に分類される。

ナ. 中小工場は、従業員数が200人未満の工場のことで、日本の全工場数に占める割合は約99.3%である。(2007年)

ニ. 東大阪市は、19世紀末から一貫して機械工業中心に発展し、繊維工業の蓄積を持たない、珍しい工業都市である。

ヌ. 燃料電池電気自動車は、ガソリン車と比べて、二酸化炭素の排出量を約3分の1に減らす低公害車である。

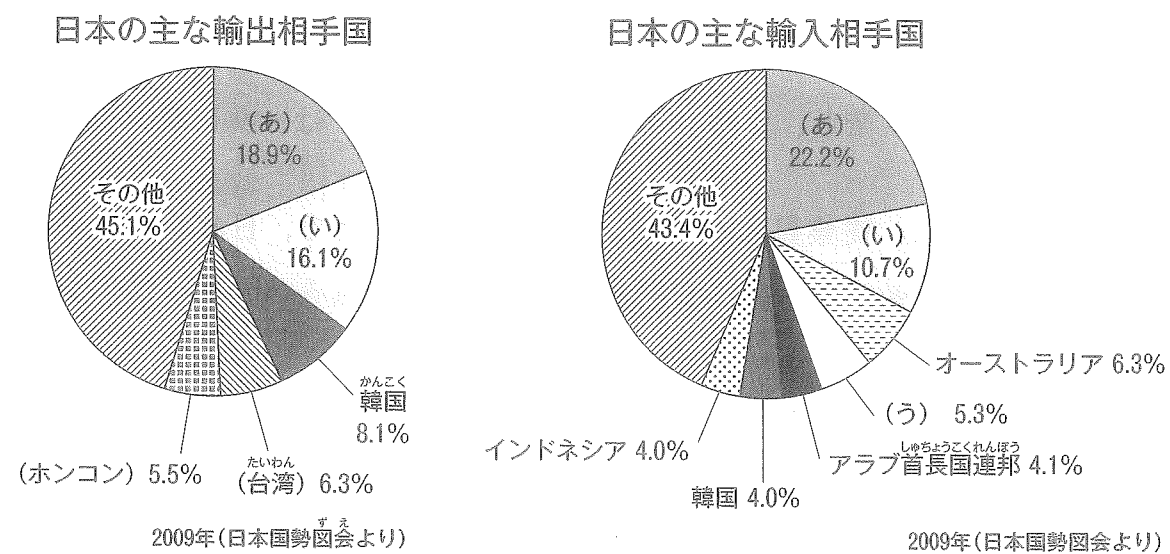
ネ. 新幹線の車両の先頭部分は、精巧な加工が必要なので、完全に機械によって製造されている。

2 花子さんは「円グラフで見る日本と世界のかかわり」というテーマで発表することになり、そのためのポスターづくりをしています。本番を前に、担任の先生に発表の練習を見ていただくことになりました。以下は、その練習のようすの一部を記録したものです。

よく読んで、問いに答えなさい。

(注) 記号 (あ)～(え) は国名をあらわし、同じ記号は同じ国であることを示します。

花子 「まず、日本がどのような国と貿易をしているかを調べてみました。次の円グラフを見てください。これは2009年の日本の主な輸出相手国と、主な輸入相手国を金額の多い順にまとめた円グラフです。これを見て次のことに気づきました。



- ①この年は輸出、輸入のどちらにおいても上位2カ国の (あ) と (い) で全体の3割以上を占めている。
- ②この年は、輸出、輸入のどちらにおいても (あ) の金額が (い) の金額を上回っている。
- ③ (い) だけに注目すると、日本が (い) から輸入する金額よりも、日本が (い) へ輸出している金額の方が大きいことがわかる。」

先生 「ちょっと待って。①、②、③のうち、この円グラフの資料だけでは、正しいかどうか断言できないものがありますよ。」

問1 ①、②、③のうち、この円グラフだけでは正しいかどうか分からないものをひとつ選びなさい。

問2 問1で選んだ文章が、正しいか、間違っているかを確認するには、どんな資料を加えなくてはなりませんか。

花子 「(う) については、お友だちの発表でたくさんのことを学習しました。この国の都市メッカはイスラムの聖地となっていて、イスラム教徒は、世界のどこにいてもメッカに向かって1日5回、礼拝をするそうです。」

問3 日本にいるイスラム教徒が、兵庫県西宮市からメッカに向かってお祈りしようとするとき、どの方角を向けばいいですか。もっとも近いものを選んで記号で答えなさい。

- ア. 西北西 イ. 西南西 ウ. 東北東

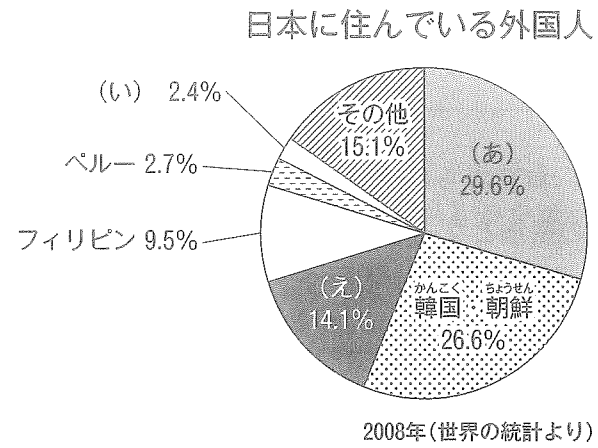
先生 「(う) の話をするなら、日本との貿易の品目に大きな特徴があることも言った方がいいですね。」

花子 「はい。2008年の統計では、(う) からの輸入総額の約9割がひとつの品目で占められています。」

問4 下線部の品目は次のうちのどれですか。記号で答えなさい。

- ア. 石炭 イ. 原油 ウ. 鉄鉱石 エ. アルミニウム

花子 「さて、貿易で関係の深い国の方は、日本にたくさん住んでいるのではないかと考えて、今度は『日本に住んでいる外国人』の円グラフを探しました。それがこのグラフです。」



先生 「これは2008年の統計ですね。その年には、日本人が(え)へ移住して100周年を迎えています。そのことも発表で紹介したらどうでしょうか。」

問5 (え)の国名を答えなさい。

3 それぞれ2つの文からなるA~Kのグループにおいて、文の1つだけが正しいときは「1」を、両方とも正しいときは「2」を、両方とも誤っているときは「3」を、解答欄に書きなさい。

A	<ul style="list-style-type: none"> ●財務省によると、2010年の日本の予算の歳入においては、公債金が税金に次いで多い。 ●財務省によると、2010年の日本の予算の歳出は、100兆円を超えている。
B	<ul style="list-style-type: none"> ●総務省によると、2005年の日本の年齢別人口の割合では、65才以上の人口が全人口の3分の1を超えている。 ●世界人口白書によると、2009年の日本の平均寿命は、男女とも75才を超えている。
C	<ul style="list-style-type: none"> ●高齢者の福祉には、民生委員も関わっている。 ●高齢者の福祉を担当しているのは、総務省である。
D	<ul style="list-style-type: none"> ●裁判員制度は、刑事裁判に限られる。 ●裁判員制度の裁判員は、有罪無罪の判断をすることはできない。
E	<ul style="list-style-type: none"> ●住民投票は、国の政策に関してのみ行われる。 ●日本では、原子力発電所の建設についての住民投票が行われたことはない。
F	<ul style="list-style-type: none"> ●天皇が災害の被災地を訪問するのは、日本国憲法に定める国事行為ではない。 ●日本国憲法では、天皇の地位は主権をもつ国民の総意にもとづくこととされている。
G	<ul style="list-style-type: none"> ●市議会議員に立候補できる年齢は、25才以上である。 ●市議会議員を選挙することのできる年齢は、20才以上である。
H	<ul style="list-style-type: none"> ●多文化共生の理解が進んだ日本では、先住民族や在日外国人への差別はまったくなくなった。 ●子どもの権利条約には、子どもが自由に意見をあらわす権利が記されている。
I	<ul style="list-style-type: none"> ●国際連合の本部は、スイスのジュネーブにある。 ●国連資料によると、2010年の国際連合の活動費を最も多く負担しているのは、日本である。
J	<ul style="list-style-type: none"> ●日本はユニセフの援助を受けたことがある。 ●ユニセフによると、100円あれば経口補水塩が10袋以上買える。
K	<ul style="list-style-type: none"> ●ODAはNGOである。 ●青年海外協力隊はODAのひとつである。

4 次の文を読み、問いに答えなさい。

- A. 肥後国の竹崎季長は、①外国との戦いで立てた手がらが幕府には報告されなかったことを知りました。季長は、②負傷してもひるまず戦って手がらを立てたので、領地をあたえてほしいと、幕府の役人にうったえ、やっとの思いで領地をもらうことができました。季長は、自分の戦いぶりを絵巻物にえがかせて記録し、自分の領地の神社に奉納しました。
- B. このころ、産業の発達とともに、③各地の特産物が川や海を利用して大量に運ばれるようになりました。商人の力が大きくなって、④大都市を中心に町人の生活や気持ちに合った文化が栄えました。(1)は、町民のさまざまなすがたを小説にし、歌舞伎や人形芝居の作者(2)は、⑤歴史上の物語や実際におきた事件に題材を得て、変化に富んだ約150編もの脚本を書きました。俳句の世界では、(3)が自然をたくみによみこんだ味わい深い俳句を数多くつくりました。
- C. このころ「(4)」や「日本書紀」といった書物が天皇の命令でつくられました。これらには、大昔のこととして、天からこの国土に下った神々の子孫が国をつくり、やがて日本の各地を統一していった話などがのっています。九州の(5)や東日本のエミシをたおした(6)の話もその一つで、複数の人物の事業を一人の人物の話としてあらわしたのではないかと考えられています。また、人々の生活の様子や地域の自然などを国ごとに記した⑥「風土記」もこのころつくられました。
- D. このころ、芸能は大勢の人々が集まったところで行われ、みんながいっしょになって楽しみました。なかでも⑦能や(7)は、権力者にも庶民にもたいへん好まれ、大人気となりました。⑧能は昔の物語を題材にして、人間の悲しみやはかなさを優雅に表現しました。(7)は日常生活の中から題材を取り、権力者をからかったり、庶民の軽率なふるまいや失敗をおもしろく表現したりしました。
- E. このころ、社会の変化のなかでなやみ苦しむ人々のありのままの姿が小説に表現されるようになりました。a. 夏目漱石やb. 森鷗外、c. 樋口一葉など多くの小説家が活やくしました。また詩や短歌・俳句においてもこれまでにない新しいものを追い求める動きが広がり、d. 与謝野晶子やe. 正岡子規などがすぐれた作品を発表しました。
- F. 中国や朝鮮半島から日本に移り住んだ渡来人の中には、大王に仕えて朝廷の記録や、外国への手紙を書く仕事をする人もいました。こうして漢字が日本に伝えられ、漢字を使って記録を残すことができるようになりました。このほか、⑨儒教や⑩仏教ももたらされました。朝廷は、渡来人が伝えたさまざまな知識や技術などを積極的に取り入れていっそう力を強めていきました。
- G. このころ、漢字をもとにして日本独自のかな文字がつくられて、日本古来の言葉や日本人の感情をより自由に表現できるようになりました。⑪かな文字はおもに女性の間で使われ、朝廷に仕える女性たちは多くの文学作品をつくりました。紫式部は、(8)の娘で天皇のきさきとなった彰子に教育係として仕えていました。紫式部が書いた「(9)」は現在、世界中の人々に読まれています。天皇の別のきさきに仕えた清少納言も「(10)」というすぐれた随筆を書きました。

問1 A～Gを年代順に並べたとき、3番目と5番目にあたるものを記号で答えなさい。

問2 文中の()に適切な語句を入れなさい。人名は漢字で、姓(名字)を持つ人は姓で答えなさい。

問3 文中の下線部①～⑩について次の問いに答えなさい。

- この戦いを何といいますか。
- 武士が、領地を守ったり新しい領地を得るために力を尽くすことを何といいますか。漢字4字で答えなさい。
- このころ九州で、あい染めの布地に白い点が浮くかすり織りを工夫した女性がいます。その織物の美しさは評判となり、藩の特産物になりました。この女性の名前と藩の名前を答えなさい。
- このころの大都市のうち、経済の中心地と政治の中心地だった都市を答えなさい。
- 次の作品のなかで、(2)が書いたものでない作品を選び、記号で答えなさい。

ア. 「解体新書」 イ. 「国性爺合戦」 ウ. 「心中天網島」 エ. 「曾根崎心中」
オ. 「東海道中膝栗毛」 カ. 「冥途の飛脚」 キ. 「蘭学事始」

- 内容が完全な形で現在まで伝えられているのはどこの国の「風土記」ですか。当時の国名と現在の県名を答えなさい。
- 能や(7)のもとになった芸能は何ですか。2つ書きなさい。
- 能を完成させたのはだれですか。2人書きなさい。
- 儒教をおこしたのはだれですか。
- 仏教をおこしたのはだれですか。
- 男性にもかかわらず、かな文字を使って日記を書き、古今和歌集にその和歌が収められているのは誰ですか。

問4 文中の下線部a～eの作家の作品をア～クから選び、記号で答えなさい。答えはひとつとは限りません。また、答えがなければ×印を書きなさい。

ア. 「君死にたまふことなかれ」 イ. 古池や 蛙飛びこむ 水の音
ウ. 人はいさ 心も知らず ふるさとは 花ぞむかしの 香にほひける
エ. 「たけくらべ」 オ. 「にごりえ」 カ. 「坊ちゃん」
キ. 「舞姫」 ク. 「吾輩は猫である」

5 次の文を読んで、各問いに答えなさい。

今年、神戸女学院が神戸からこの西宮の岡田山に移転して、ちょうど80年目にあたります。

80年前、つまり1933年ごろの日本はどのような時代だったでしょうか。

1933年、日本は(1)を脱退しました。それは(1)が(2)を認めないことを決議したからです。

1931年に、日本軍は【 A 】で(3)の線路を爆破し、これを中国軍のしわざであるとして、戦争をおこしました。そしてその翌年、日本軍は(2)をつくって、事実上の支配をし始めたのです。中国はこれを侵略として、(1)に訴えました。

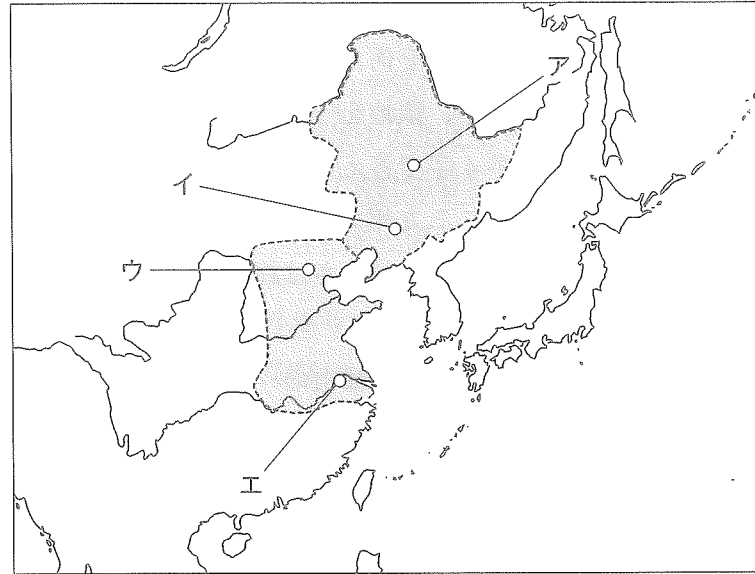
その後、【 B 】でおきた事件をきっかけに、日中間の全面戦争が始まります。軍人が政治を支配する時代になっていたのです。

国内に目を移すと、1932年におこった(4)事件などから、この時代は「暗殺の時代」であったと言うこともできるでしょう。(4)事件では、ときの総理大臣が殺害されました。

そのような時代でしたが、岡田山には、ウィリアム=メレル=ヴォーリズというアメリカ人の設計によって、美しいキャンパスがかたちづけられました。今、あなたがたが試験を受けているこの校舎や、朝、集合した講堂も、ヴォーリズの設計によるものです。

ヴォーリズは、a. キリスト教伝道の志を抱き、b. 1905年に滋賀県のc. 近江八幡にやってきました。はじめは学校の教員をしていましたが、後に、建築設計事務所をつくったり薬品を販売したりして、伝道と事業に励み、d. 1964年に近江八幡でその生涯を閉じました。

「真に芸術的な建築空間は優れた人格を形成する」というのが、ヴォーリズの思いだったそうです。



問1 (1)について、その成立ともっとも関係の深いものを選びなさい。

- ア. 世界恐慌 イ. 第1次世界大戦 ウ. ソ連の成立
エ. 日本とドイツの接近

問2 (2)ともっとも関係の深いものを選びなさい。

- ア. 開拓団 イ. 大工業地帯 ウ. 総督府 エ. アメリカ軍の攻撃

問3 (3)について、その一方の終点はどこにありますか。

- ア. 現在の北京 イ. 朝鮮半島の南端 ウ. 山東半島の東端
エ. 遼東半島の南端

問4 (4)に入るもっとも適当な語句を選びなさい。

- ア. 二・二六事件 イ. 三・一五事件 ウ. 四・一六事件
エ. 五・一五事件

問5 【 A 】・【 B 】それぞれの場所を地図の「ア」～「エ」より選びなさい。

問6 「下線部 a」について、16～17世紀のキリスト教伝道と関係の深いものを選びなさい。

- ア. ロシア人 イ. ポルトガル人 ウ. イギリス人 エ. オランダ人

問7 「下線部 b」について、この年におこったことともっとも関係の深いものを選びなさい。

- ア. 内モンゴルに侵攻する イ. 琉球王国を沖縄県とする
ウ. 樺太の南半分を獲得する エ. 賠償金を獲得する

問8 「下線部 c」について、この近くに城を建てた人物を選びなさい。

- ア. 武田信玄 イ. 今川義元 ウ. 織田信長 エ. 斎藤道三

問9 「下線部 d」について、この年におこったことを選びなさい。

- ア. 東海道新幹線が開通する イ. 日本人がはじめてノーベル賞を受賞する
ウ. 石油危機がおこる エ. 瀬戸大橋が開通する

