

2012年度 入学試験問題

社 会

(答えはすべて解答用紙に書きなさい)

A3サイズの地図と解答用紙が
はさみ込んであります。

受験番号

1 この冊子に、はさんである「1の地図」を見ながら各問いに答えなさい。

- 問1 この地域の東側には甲斐駒ヶ岳かいこまがたけが含まれる山脈ふくがそびえています。その山脈の通称名しょうは何ですか。
- 問2 この地域の西側には木曾駒ヶ岳きそこまがたけが含まれる山脈がそびえています。その山脈の通称名は何ですか。
- 問3 この地域が位置する県けんが隣接する、すべての都道府県の合計数を答えなさい。
- 問4 この地域の気候の特徴ちようを、次のア～ウの中から1つ選んで記号で答えなさい。
ア. 気温の年較差かく（最暖月の平均気温と最寒月の平均気温の差）が大きい。
イ. 気温の日較差（1日の最高気温と最低気温の差）が小さい。
ウ. 降水量が多い。
- 問5 地図上に「1:25000」と表記されている場合、それはどんな意味がありますか。漢字2字で答えなさい。
- 問6 地図上に「1:25000」と表記されている場合、地図上で4センチメートルの距離きょりは、実際には何キロメートルですか。
- 問7 地域Ⅰの土地利用の特徴を答えなさい。
- 問8 地域Ⅱの土地利用の特徴を答えなさい。
- 問9 地図の西側の等高線の形から考えて、河川がつくる、ある地形がたくさん見られます。漢字3字で答えなさい。
- 問10 この地図の範囲はん内において、次のア～オの文章の中で誤っているものをすべて記号で答えなさい。
ア. この地域は盆地の一部である。
イ. 道路Xより南側に工場が複数ある。
ウ. 樹木の植生は広葉樹林がほとんどである。
エ. 大学が1校見られる。
オ. いなし駅と学校Aとの高低差は約42メートルである。
(いなし駅は、自分で探しなさい)

問11 学校Aと学校Bとでは、どちらの標高が高いですか。

問12 Yの河川は、辰野たつの、駒ヶ根こまがね、飯田いいたの町を流れています。最終的に、この河川は、どの海へ注ぎますか。

問13 道路Xより南側に学校はいくつありますか。

2 次のA～Cの各工業地域内に位置する都市をそれぞれに1つずつ選んで、ア～オの中から記号で答えなさい。

A. 北関東工業地域 B. 東海工業地域 C. 瀬戸内工業地域

ア. 岩国 イ. 荻田 ウ. 太田 エ. 磐田 オ. 君津

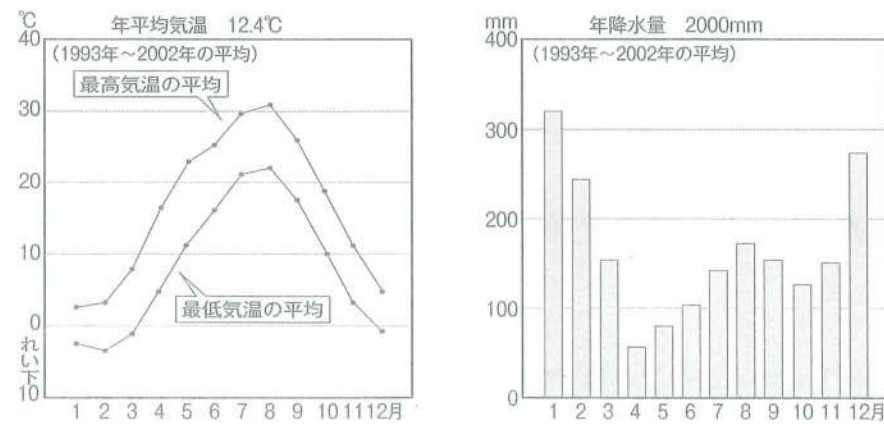
3 次のA～Cの各農産物の生産量が1位の都道府県名をそれぞれ答えなさい。
 { } 内は全国生産量に占める割合です。

A. レタス { 33% } B. りんご { 53% } C. 肉用牛 { 17% }
 (2006年統計) (2006年統計) (2007年統計)

4 次の各問いに答えなさい。

問1 下の2つのグラフは、X市の気候に関する統計です。X市にあてはまる都市名を次のア～エの中から1つ選んで記号で答えなさい。

X市の気温と降水量 (X市役所より)



ア. 高知市 イ. 奈良市 ウ. 南魚沼市 エ. 旭川市

問2 X市における農業生産額のうち、75.7%を占める農産物名を答えなさい。

問3 「問2」で答えた農産物の栽培に関して、X市における、ここならではの特徴的な栽培法の説明として最も適切なものを、次のア～エの中から1つ選んで記号で答えなさい。

- ア. この地域は、温暖な気候を生かした栽培を行っている。
- イ. この地域は、冷涼な気候を生かした栽培を行っている。
- ウ. この地域は、盆地の気候を生かした栽培を行っている。
- エ. この地域は、山の雪解け水を生かした栽培を行っている。

5 次の建造物とその説明文について、問いに答えなさい。


なお、建造物は復元されたものや想像図も含まれています。



A この神社は、①貴族の屋敷の様式の影響を受け、(1) 海を池に見立てて建てられています。(2) はこの神社の祭神を一族の守り神としてまつり、②海上交通の安全を祈りました。



B この古墳は日本最大の(3)です。このような大型の(3)は大和や河内に数多く見られます。この地方の豪族たちが強い勢力を持っていたためと考えられています。これらの豪族たちは連合して③大和朝廷(大和政権)という政府をつくりました。



C この門は、(4)をまつた神社の正門です。神社は、(4)を尊敬していた孫の3代将軍によって現在の姿になりました。


④この神社に参詣するための街道も作られています。



D ⑤この建物には、(5)の使っていた品物や宝物などが納められました。その中には、遣唐使船によって運ばれた中国やインド、西アジアからの品々も含まれています。⑥このころの中国は西アジアやヨーロッパとの交流が盛んで、そのため、日本も広く世界の文化とつながっていたのです。



E この学校は、地域の人々が苦勞してお金を出し合って建てた学校です。政府は学制を公布して、6歳以上の男女が小学校に通うことを決めましたが、毎月の授業料をはらうことに加え、校舎の建設は地域の人たちの手で行わなければなりませんでした。多くの地域では、資金不足のために、以前から続く(6)を学校として利用しました。



F この建物が復元されている遺跡からは、約1500年間にわたって⑦人々が住んだ住居や大きな建物のあとが見つかりました。出土品のなかには、穴のあいた⑧ひすいの玉もありました。北海道産の黒曜石のナイフも発見され、遠方の地域と交流があったことがわかります。




G この城は(7)が全国統一の拠点として築きました。(7)は5層の天守に住み、家臣は山の斜面やふもとの城下町に住みました。城下町では⑨だれでも自由に商売ができるようにしました。城下町には(8)から水路が引かれ、船を使った人や物の往来が盛んで産業が発達しました。



H この建物が復元されている遺跡からは、二重になったほりやさく、物見やぐらや大きな建物、住居のあとなどが見つかっています。死者を納めたかめ棺が並ぶ墓地も見つかりました。中には⑩青銅製の剣やガラス玉などが入ったものもあり、強い力をもった指導者のものと考えられています。



I この建物は、(9)が建てた山荘です。2階建てで、1階は現在の和室のようなつくりになっています。2階は仏をまつお堂です。近くにある東求堂の同仁齋と呼ばれる部屋は(9)の書齋で、⑪畳がしきつめられ、障子やふすまで仕切られています。



J この寺は(10)が建てたといわれ、現存する世界最古の木造建築です。仏教をあつく信仰していた(10)は、仏教の教えを人々の間に広めようとしたのです。

問1 A～Jの建造物や遺跡の名前を答えなさい。

問2 文中の()に適切な語句をいれなさい。

ただし人名は漢字で書き、姓(名字)をもつ人物は姓名で答えなさい。

問3 文中の下線部分についての問いに答えなさい。

- ① 貴族の屋敷の建築様式は何ですか。
- ② 貿易相手だった中国の王朝名を答えなさい。
- ③ 大和朝廷の中心人物は当時何と呼ばれましたか。
- ④ この街道を何といいますか。
- ⑤ 木材を積み重ねて壁にするこの建築様式は何ですか。
- ⑥ 中国からヨーロッパに至る交通路は何と呼ばれていますか。
- ⑦ このころの人々の住んでいた住居を何といいますか。
- ⑧ このひすいはどこの県で産出したものですか。
- ⑨ このような制度を何といいますか。漢字4字で答えなさい。
- ⑩ 青銅は銅と何をとかした金属ですか。
- ⑪ この建築様式は何ですか。

問4 A、C、E、F、Hの建造物や遺跡が位置する都道府県を下の白地図から選び、記号で答えなさい。

ア



イ



ウ



エ



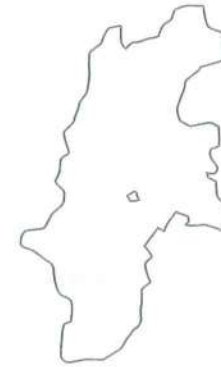
オ



カ



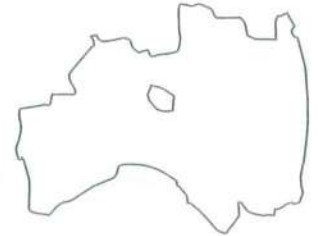
キ



ク



ケ



6 次の文を読んで、問いに答えなさい。

昨年(こぞ)の3月11日以来、「がんばろう!日本」という声がよく聞かれるようになりました。

ふりかえれば、近現代(きんげんだい)の日本には、そのときどきの様子をよく伝える標語・スローガン・流行語(はやりご)などがあります。そのうちのいくつかを挙げてみました。

A. 「もはや戦後(せんご)ではない」

この言葉(ことば)の背景(はいけい)には(1)による特需(とくく)があります。そして(2)開催(かいさい)が経済成長(けいぎせいじょう)に弾み(はじ)をつけました。

1:ここに最も適切な語句(ごご)を選びなさい。

- ア. 第1次世界大戦(だいいちじかいせいたいせん) イ. 湾岸戦争(わんがんせんそう) ウ. ベトナム戦争(べとなむせんそう) エ. 朝鮮戦争(ちようせんせんそう)

2:開催中(かいさいちゆう)にあったことを選びなさい。

- ア. 高橋尚子(たかはしなむこ)がマラソンで金メダル(きんめだる)を獲得(かくとく)した。
イ. 女子バレーボールチーム(じよしバレーボールチーむ)が金メダル(きんめだる)を獲得(かくとく)した。
ウ. 前畑秀子(まえはたひでこ)が平泳ぎ(へいえいぎ)で金メダル(きんめだる)を獲得(かくとく)した。
エ. スキージャンプ競技(すきーじゃんぷけいぎ)で「日の丸飛行隊(ひのまるへいこうたい)」がメダル(めだる)を独占(とくせん)した。

B. 「人の世(ひとよ)に熱(ねつ)あれ、人間(にんげん)に光(ひかり)あれ」

(3)に由来(ゆらい)する差別(さべつ)に苦し(くるしみ)んできた人々(ひとびと)がこう宣言(せんげん)したころは、社会(しゃかい)全体(けんたい)に差別(さべつ)からの解放(かいほう)や平等(びやうとう)を求める気運(きうん)が高ま(たか)っていました。議会(ぎぎ)では護憲(ごけん)を主張(しやうけん)する人々(ひとびと)が「普選断行(ふせんたんこう)」を掲(か)げて運動(うんどう)し、その結果(けいこ)で、日本の人口(にっぽんじんこう)に占(お)める有権者(ゆうけんしや)の割合(わりあ)は(4)パーセント(ぱーせんと)になりました。

3:ここに最も適切な語句(ごご)を選びなさい。

- ア. 身分(みぶん) イ. 民族(みんぞく) ウ. 貧富(ひんぷ) エ. 人種(じんしゆ)

4:最も近い数字(すうじ)を選びなさい。

- ア. 5 イ. 10 ウ. 20 エ. 50

C. 「日本人(にっぽんじん)なら、ぜいたく(ぜいたく)は出来(でき)ない筈(はず)だ」

こう書(か)かれた看板(かんばん)があちこちに立(た)てられた年(とし)、近所(きんじよ)の人々(ひとびと)で組織(そくし)する(5)が制度(せいど)化(か)されるなど、国民(こくみん)に戦争協力(せんそうきやうりき)が要求(きやうき)されました。その後(そののち)、戦局(せんきよく)が悪化(あくか)したにもかかわらず、「(6)」などと言(い)って戦争(せんそう)が続(つ)けられました。

5:この制度(せいど)と最も関係(かんけい)の深い(ふかい)ものを選びなさい。

- ア. 勤労働員(きんろうどうぎん) イ. 物価統制(ぶつがたうせい) ウ. 相互監視(さうがくんし) エ. 集団疎開(しゆたんそかい)

6:ここに最も適切な語句(ごご)を選びなさい。

- ア. 撃ちてし止(と)まむ イ. 皇国(こうこく)ノ興廢(こうはい)、コノ一戦(いちせん)ニ在(あ)り
ウ. 臥薪嘗胆(がしんじやうたん) エ. 目(め)には目(め)、齒(は)には齒(は)

D. 「人類(にんげん)の進歩(しんぷ)と(7)」

アジア(あじあ)で初めて(はじめて)開(ひら)かれた国際博覧会(こくさいはくらんかい)のテーマ(てま)がこれ(こ)でした。このよう(よう)なテーマ(てま)にな(な)ったのは、科学技術(かがくぎじゆつ)の進歩(しんぷ)を楽観(らくかん)的に捉(とら)えているだけ(だけ)では、人類(にんげん)の未来(みらい)は危(あ)ういと考(かん)えられたから(から)でしょう。実際(じっさい)、この前後(ぜんご)に、複数(ふくすう)の(8)裁判(さいばん)が行(おこな)われていま(いま)した。

7:ここに最も適切な語句(ごご)を選びなさい。

- ア. 秩序(ちつぷ) イ. 安全(あんぜん) ウ. 調和(てうわ) エ. 危機(きき)

8:このとき(とき)の裁判(さいばん)と関係(かんけい)のないもの(もの)を選びなさい。

- ア. 亜硫酸ガス(ありりゅうさんガス) イ. アスベスト ウ. メチル水銀(めちるすいぎん) エ. カドミウム

E. 「日本の生命線(せいめいせん)」

日本(にっぽん)で不況(ふきやう)が続(つ)く中(なか)、このよう(よう)に呼(よ)ばれたのは中国(ちゆうごく)の(9)です。(10)条約(じやうやく)で獲得(かくとく)したこの地域(ちゆうぎ)の権利(けんり)や利益(りやく)を守(まも)らないと日本(にっぽん)は滅(ほろ)びると主張(しやうけん)され、日本軍(にっぽんぐん)はついにここ(ここ)を占領(せんりやう)しました。

9:ここに最も適切な語句(ごご)を選びなさい。

- ア. 山東半島(さんとうはんとう) イ. 遼東(りやうとう) (リヤオトン)半島(はんとう) ウ. 台湾(たいわん) エ. 東北地方(とうほくちゆう)

10:この条約(じやうやく)と最も関係(かんけい)の深い(ふかい)ものを選びなさい。

- ア. 朝鮮(ちゆうせん)の独立(どくりつ) イ. 三国干渉(しよくわんせう) ウ. 条約改正(じやうやくかいせい)に成功(せいこう) エ. 国民(こくみん)の不满(ふまん)

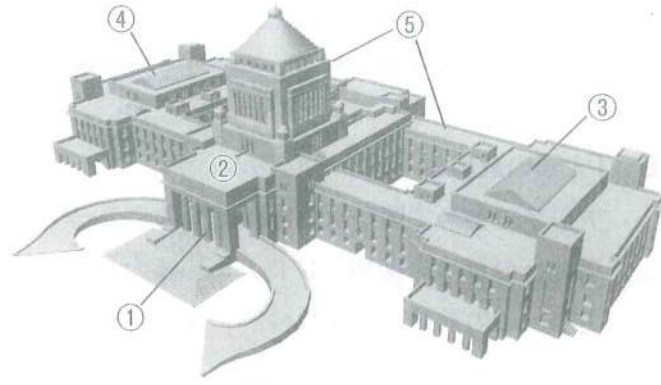
さて、将来(しやうらい)の歴史(れきし)の教科書(きょうこしょ)には、昨年(こぞ)の大震災(だいしんさい)と「がんばろう!日本(にっぽん)」がど(ど)のよう(よう)に書(か)かれるのでし(し)ょう。

問1 A~Eの()について、囲(かこ)みの中(なか)の指示(しじ)に従(したが)って選択肢(たんとくし)から選(えら)び、記号(きごう)で答(こた)えなさい。

問2 A~Eを年代順(ねんだいじゆん)に並(なら)べ替(か)えたとき、3番目(さんばんめ)と4番目(よんばんめ)に来(き)るもの(もの)の記号(きごう)を書(か)きなさい。

7 次の文を読んで、問いに答えなさい。

右の建物は国会議事堂です。地下1階から地上9階まで、高さ65.45m、横幅206.36mもあるこの国会議事堂は、(1)1936年に完成しました。これからみなさんと一緒に国会議事堂のなかを歩いてみましょう。



①は「中央玄関」です。2階につながるこの玄関は「あかすの扉」ともいわれます。

□や外国の要人をむかえる時、国会議員が選挙に当選した後はじめて登院する時など特別な場合以外は使われないからです。国会議員は、ふだんは他の入口から議事堂に入ります。

それでは中央玄関から議事堂のなかに入ってみましょう。赤いカーペットがしかれた階段を上ると、中央塔の真下が2階から6階まで吹き抜けになっています。この広い空間が「中央広間」(②)です。中央広間の四隅には、日本の議会制度の基礎をつくった(2)3人の政治家の銅像と銅像が立っていない空の台座があります。空の台座は「政治に完成はない、未完の象徴」を意味するともいわれています。

2階の両翼には、「本会議場」(③、④)があります。本会議場は3階まで吹き抜けになった大ホールです。国会が始まると、(3)すべての国会議員が③に集まって「開会式」を行います。「開会式」には、内閣の決定にしたがって国会を召集した□も臨席し、(4)帝国議会の時と同じように議長席の後ろに設けられた特別な席から開会の言葉を述べます。

中央広間からさらにまっすぐ進んで3階に上がってみましょう。正面に□の「御休所」があり、そこから左右にのびる廊下の両側には大小さまざまな会議室があります(⑤)。これらの会議室では、国会議員が本会議で決議する前に議案を審議します。

国会でおこなわれる仕事には、(5)法律をつくること、(6)予算を決めること、(7)内閣が決めた条約を認めるかどうかを審議することなどがあります。このようにさまざまな機能をもった国会議事堂ですが、その他にも(8)国会議事堂の周辺にはたくさんの別館や関連施設が建てられています。

問1 下線部(1)におこった出来事を次のなかから一つ選び、記号で答えなさい。

- ア. 日中戦争がはじまった イ. 日本が国際連盟を脱退した
ウ. 二・二六事件が起こった エ. 第二次世界大戦がはじまった

問2 下線部(2)に関する次の文章ア～ウを読んで、下の問いに答えなさい。

- ア. 旧〈A〉藩出身で、(1)の憲法を手本にして憲法案をまとめた。
イ. 旧〈B〉藩出身で、国会の開設に先だて「自由党」にならぶ代表的な政党である「(2)党」をつくり、その初代党首になった。
ウ. 旧〈C〉藩出身で、1874年に政府に意見書を出して、欧米諸国のように国会を開き、広く国民の意見を聞いて政治を進めるべきだと主張し、(3)運動がはじまった。

1) 〈A〉～〈C〉にあてはまる正しい組みあわせをア～エから選び、記号で答えなさい。

	A	B	C
ア.	長州	佐賀	土佐
イ.	薩摩	中津	水戸
ウ.	長州	紀州	尾張
エ.	薩摩	長州	加賀

2) (1)～(3)に適切な言葉を入れなさい。

3) ア・イ・ウはそれぞれ誰かを答えなさい。

問3 下線部(3)の「開会式」には何人の国会議員が出席しますか。ただし欠席者はいなかったこととします。

問4 ③は何の本会議場ですか。また③について述べた次の選択肢の中から正しいものを一つ選び、記号で答えなさい。

- ア. 押しボタン式の採決ができる。 イ. 議員の被選挙権は25歳以上である。
ウ. 解散がある。 エ. 選挙で一票の格差が小さい。

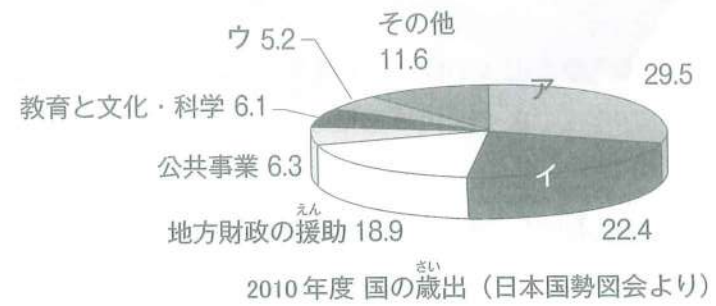
問5 下線部(4)の時に③は何と呼ばれていましたか。

問6 ⑤で開かれるのは何ですか。

問7 下線部(5)のための案を国会に出すことができるのは内閣と()です。漢字2字で答えなさい。

問8 下線部(5)に関して、日本国憲法98条では、国会がつくった法律は、憲法に反してはならず、違反する法律は効力をもたないと定められています。これは憲法が「国の()」だからです。()に適切な言葉を漢字4字で答えなさい。

問9 下線部(6)に関する右のグラフ内のア～ウに適切な言葉を入れなさい。(数値はパーセントを示しています)



問10 下線部(7)について、1960年にある条約の改定に反対する人々が大規模な反対運動をおこし、国会議事堂を取り囲みました。ある条約とは何ですか。

問11 下線部(8)の別館には、裁判官を裁判する法廷もあります。この法廷でおこなわれる裁判を何といいますか。

問12 文中の□に適切な言葉を入れなさい。

解答用紙

1	問1 () アルプス	問2 () アルプス	問3 () つ	問4
	問5 () が1:25000である。		問6 () km	
	問7 ほとんどが () に利用されている。		問8 ほとんどが () に利用されている。	
	問9	問10	問11 学校 ()	
	問12	問13 () つ		

2	A	B	C
---	---	---	---

3	A	B	C
---	---	---	---

4	問1	問2	問3
---	----	----	----

5	問1	A	神社	B	古墳	C	門	D
		E	学校	F	遺跡	G	城	H
		I		J	寺			
問2	1	海	2		3		4	
	5		6		7		8	
	9		10					
問3	①	造	②		③		④	
	⑤	造	⑥		⑦	住居	⑧	
	⑨		⑩		⑪	造		
問4	A	C	E	F	H			

6	問1	1	2	3	4	5	6	7	8	9	10
	問2	3番目		4番目							

7	問1								
	問2	1)		2)	1		2		3
		3)	ア		イ		ウ		
問3		人	問4		院				
問5			問6			問7			
問8			問9	ア		費	イ	費	
問10			条約	問11		裁判	問12		