

令和3年度

# 社会

入学試験問題

四天王寺中学校

1 次の文を読んで、あとの問いに答えなさい。

日本はユーラシア大陸の東の端にあり、①四方を海に囲まれています。特に日本周辺には②地形的に良い漁場になる場所があります。また、暖流と寒流がぶつかる（ a ）があり、これらの③海流の影響でいろいろな種類の魚がとれます。地形的にもよい④漁港が多く、このことから日本は昔から漁業がさかんでした。そのため、戦前の日本人の主な動物性のたんぱく源は魚介類が中心でした。また、日本の漁業は戦後いっそうさかんになりました。

しかし、1970年代になると、船の燃料代の値上がりや、世界各国が自国の海岸から（ b ）海里までの水域内で外国の船による漁業の制限をしたため、⑤遠洋漁業は減少しました。一方で、1970年代から80年代にかけて⑥沖合漁業は増加し、1984年には日本の漁獲量はピークをむかえました。その後、日本の漁獲量は減少し、⑦魚介類の輸入が増加していきました。そのため魚介類の自給率は大きく低下しました。しかし、日本の漁業は輸入に頼るだけでなく、卵からかえった稚魚を育てて海にかえし、大きくなってからとる（ c ）漁業や、⑧養殖といった育てる漁業も行われています。

問1 文中の（ a ）～（ c ）にあてはまる語句や数字を答えなさい。

問2 下線部①について、日本の四方の端にある島のうち、正しい組み合わせを1つ選び、ア～エの記号で答えなさい。

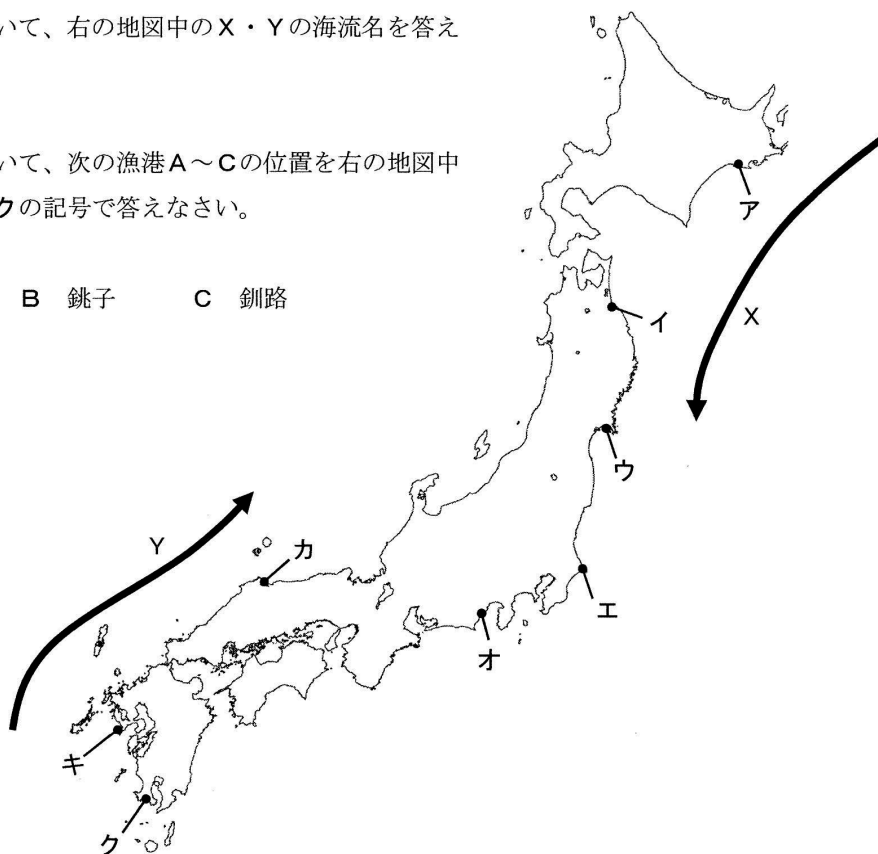
- |            |          |
|------------|----------|
| ア 東の端：南鳥島  | 北の端：択捉島  |
| イ 東の端：択捉島  | 南の端：沖ノ鳥島 |
| ウ 西の端：与那国島 | 北の端：沖ノ鳥島 |
| エ 西の端：沖ノ鳥島 | 南の端：南鳥島  |

問3 下線部②について、海岸から続く水深200mくらいまでの、ゆるやかなけいしゃをもつ海底を何というか答えなさい。

問4 下線部③について、右の地図中のX・Yの海流名を答えなさい。

問5 下線部④について、次の漁港A～Cの位置を右の地図中から選び、ア～クの記号で答えなさい。

A 焼津      B 銚子      C 釧路



問6 下線部⑤について、主にこの漁業で水揚げされる魚介類として最も適当なものを、次から1つ選び、ア～エの記号で答えなさい。

ア いわし      イ さば      ウ ふぐ      エ まぐろ

問7 下線部⑥について、この漁業のことを正しく説明している文を次から1つ選び、ア～エの記号で答えなさい。

- ア 人間の手によって成魚になるまで育てて出荷する漁業。
- イ 大型の船で遠くの海に出かけて長い期間にわたって行われる漁業。
- ウ 10トン以上の船を使って数日ばかりで行われる漁業。
- エ 10トン未満の船を使う漁や定置あみ漁業。

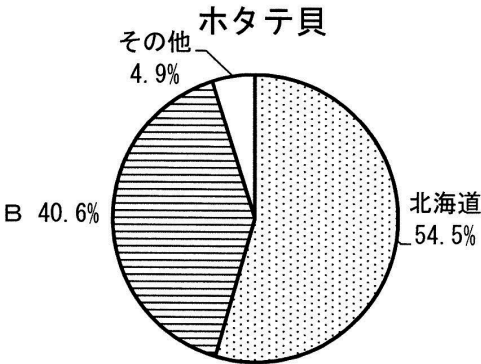
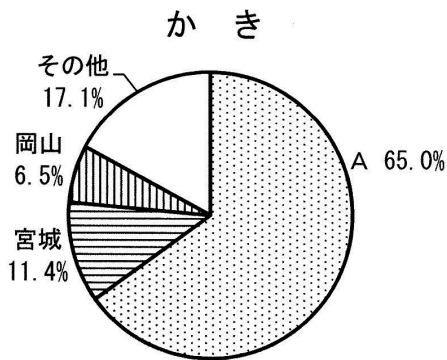
問 8 下線部⑦について、下の表は、2015年の水産物の港別輸入量を示したものです。このうち東京港を示すものを表より1つ選び、ア～エの記号で答えなさい。

港名	輸入量
ア	92.3
イ	49.0
ウ	29.3
エ	27.4
大阪	24.6

(単位：万トン)

(2015 年 「水産物流調査」より作成)

問 9 下線部⑧について、下のグラフはかき・ホタテ貝について養殖量の県別の割合を示したものです。グラフ中の A・B にあてはまる県名を次から選び、ア～カの記号で答えなさい。



(2015 年 「農林水産省統計」より作成)

ア 愛知県    イ 青森県    ウ 鹿児島県    エ 愛媛県    オ 広島県    カ 佐賀県



- 2 織田信長・豊臣秀吉・徳川家康の3武将の業績を調べ、表にまとめました。下の表をみて、あとの問いに答えなさい。

	織田信長	豊臣秀吉	徳川家康
出生	尾張国の大名の子に生まれる。	尾張国の農民の子といわれる。	三河国の大名の子に生まれる。
業績	<ul style="list-style-type: none"> <li>・駿河国の大名の（ A ）を桶狭間の戦いで破る。</li> <li>・貿易の町である堺を支配下におく。</li> <li>・a <u>室町幕府</u>をほろぼす。</li> <li>・一向宗の石山本願寺を降伏させる。</li> <li>・琵琶湖のほとりに安土城をきずく。</li> <li>・b <u>キリスト教を保護して、布教を認める。</u></li> <li>・本能寺で家来の（ B ）にせめられ、自害する。</li> </ul>	<ul style="list-style-type: none"> <li>・織田信長につかえて、有力な武将になる。</li> <li>・織田信長の死後、（ B ）をうち破り、天下統一の事業を引きつぐ。</li> <li>・1590年に天下統一をなしとげる。</li> <li>・百姓への支配を固めるために、各地でc <u>検地や刀狩</u>を行う。</li> <li>・明を従えようとし、2度にわたって朝鮮に大軍を送る。</li> <li>・1587年に茶人（ C ）を中心とした大茶会を開くように命じる。</li> </ul>	<ul style="list-style-type: none"> <li>・幼いころ周辺の大名の人質になる。</li> <li>・豊臣秀吉の命令で、関東に領地を移す。</li> <li>・1600年にd <u>関ヶ原の戦い</u>で勝利する。</li> <li>・1603年に征夷大將軍となり、江戸幕府を開く。</li> <li>・1605年に將軍職を息子の（ D ）にゆずる。</li> <li>・e <u>大名や朝廷を取りしめる決まりを定める。</u></li> </ul>

問1 表中の（ A ）～（ D ）にあてはまる人物名を答えなさい。

ただし、（ A ）（ B ）（ D ）はそれぞれ漢字4字、（ C ）は漢字3字で答えなさい。

問2 下線部aについて、室町幕府が開かれていた時代におこった出来事として正しいものを、次の中から1つ選び、記号（ア～エ）で答えなさい。

- ア 足利義満が、宋との貿易で大きな利益を得た。
- イ 足利義政が、京都の北山に金閣を建てた。
- ウ 観阿弥・世阿弥の親子によって、水墨画が大成された。
- エ 村の人々が、「寄り合い」を開いたり、一揆を結んだりした。

問3 下線部**b**について、日本でのキリスト教の布教に関して説明した文として正しいものを、次の中から1つ選び、記号（ア～ウ）で答えなさい。ただし、正しい文がない場合は、エと答えなさい。

- ア 織田信長は、京都に南蛮寺とよばれる教会堂の建築を許した。
- イ フランスの宣教師ザビエルは、鹿児島や平戸、山口などで布教に努めた。
- ウ キリスト教の伝来のころから、ロシアの商人もやってきて貿易を行った。

問4 下線部**c**について、豊臣秀吉が行った検地と刀狩を説明した文として誤っているものを、次の中から1つ選び、記号（ア～ウ）で答えなさい。ただし、誤っている文がない場合は、エと答えなさい。

- ア 検地によって田畑の面積を測り、収穫量や耕作している人の名前を検地帳に記録した。
- イ 検地において田畑を測るものさしの長さや、年貢米を量るますの大きさを統一した。
- ウ 刀狩で取り上げた武器は、新しく大仏をつくるためのくぎなどに役立てるとされた。

問5 下線部**d**について、関ヶ原の戦いに関する下の文X・Yの正誤の組み合わせとして正しいものを次から1つ選び、記号（ア～エ）で答えなさい。

X：石田三成を中心とする西軍と徳川家康を中心とする東軍に分かれて、岐阜県の関ヶ原で戦った。

Y：徳川家康は、関ヶ原の戦いに勝った後、江戸幕府を開く前に豊臣氏をほろぼした。

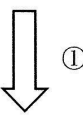
- |   |     |     |   |     |     |
|---|-----|-----|---|-----|-----|
| ア | X：正 | Y：正 | イ | X：正 | Y：誤 |
| ウ | X：誤 | Y：正 | エ | X：誤 | Y：誤 |

問6 下線部**e**について、大名を取りしめるために、徳川家康がつくり、（ D ）の代に定められた決まりに含まれるものとして誤っているものを、次の中から1つ選び、記号（ア～ウ）で答えなさい。ただし、誤っている文がない場合は、エと答えなさい。

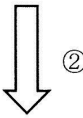
- ア 将軍の許可なしに、大名の家どうしで結婚してはいけない。
- イ 自分の領地の城を修理する場合、届け出ること。
- ウ 大名は、領地と江戸に交代で住み、毎年4月に江戸に参勤すること。

- 3 花子さんのクラスでは、「歴史」のまとめ授業でグループに分かれてテーマを決め、発表を行った。次のA・Bはその発表の際に出されたレポートである。これらのレポートを読んで、あとの問いに答えなさい。

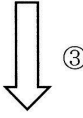
**A**      **人々はどのようにして病と向き合ってきたのか？**

  
①

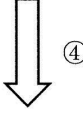
奈良時代) この時代には、伝染病が広がりました。このとき、聖武天皇は、a**仏教**の力を借りて国を守ろうとしました。

  
②

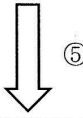
江戸時代) この時代の中ごろには、b**西洋**の学問の影響で新たな医学の知識が入ってきました。

  
③

明治時代) この時代の後半になると、c**世界**を舞台に、医学の研究を行う人が現れました。

  
④

昭和時代) 高度経済成長のころ、d**公害**によって健康をおかされ、被害者が企業を訴えました。この被害により、今なお苦しんでいる人々がたくさんいます。

  
⑤

問1 Aのレポート中の下線部aの考えにもとづいて、聖武天皇が全国につくらせた寺を何というか、漢字3字で答えなさい。

問2 Aのレポート中の下線部bについて、この時代、日本は鎖国中であったにもかかわらず、西洋の学問が伝わったのは、江戸幕府がある政策を行ったからである。その政策について、「西洋」とは具体的にどこの国であったかを示しつつ、30字以内で述べなさい。

問3 Aのレポート中の下線部 c について、この時代に世界で活躍した日本人の中で、破傷風の治療法を発見した人物として正しいものを、次のア～エのうちから1つ選び、記号で答えなさい。

ア 陸奥宗光

イ 新渡戸稲造

ウ 野口英世

エ 北里柴三郎

問4 Aのレポート中の下線部 d について、高度経済成長のころには、産業が発展していく一方で、公害の問題がおきた。公害の中でも、特に多くの被害者を出した四大公害病について述べた次の文X・Yの正誤の組み合わせとして正しいものを、次のア～エのうちから1つ選び、記号で答えなさい。

X：富山県の神通川流域では、有害な排水により多くのイタイイタイ病の被害者を出した。

Y：栃木県の渡良瀬川流域では、足尾銅山の鉱毒により多くの人々が大きな被害を受けた。

ア X：正 Y：正

イ X：正 Y：誤

ウ X：誤 Y：正

エ X：誤 Y：誤

問5 次のX～Zの出来事は、Aのレポート中の①～⑤のどの時期にあてはまるか、それぞれの出来事と時期との組み合わせとして正しいものを、次のア～ケのうちから1つ選び、記号で答えなさい。

X 関東大震災がおこった。

Y 壇ノ浦の戦いがおこった。

Z 大塩平八郎の乱がおこった。

ア X－① Y－③ Z－⑤

イ X－① Y－⑤ Z－②

ウ X－② Y－④ Z－⑤

エ X－③ Y－① Z－④

オ X－③ Y－④ Z－①

カ X－④ Y－① Z－②

キ X－④ Y－② Z－③

ク X－⑤ Y－② Z－③


ケ X－⑤ Y－③ Z－④

B

人々のくらしはどのように発展したのか？

弥生時代) この時代は、下の資料1のような集落が形成されました。資料1から、あことがわかります。

資料1



室町時代) この時代の終わりごろは、応仁の乱がおこり、京都は焼け野原になりました。この乱により、400年以上続いていた下の資料2の祭りがとだえましたが、いと呼ばれる町人たちによって復興され、現在まで受けつがれています。

資料2




江戸時代) 下の資料3は、ある藩で百姓に対して出された決まり事です。資料3から、この時代の百姓の暮らしの様子がわかります。

資料3

- 一、早起きして、朝は草をかり、昼は田畑を耕し、夜は縄や俵を作り、休まず仕事にはげむこと。
- 一、酒や茶を買って飲まないこと。
- 一、食べ物を大事にして、麦・アワ・ヒエ・ダイコンなどを食べ、米をやたらに食べないこと。
- 一、麻・もめん以外のものは、帯・着物の裏にも使わないこと。
- 一、年貢さえ納めれば、百姓ほど気楽なものはない。よく心得て働きなさい。

明治時代) この時代になった直後の東京では、下の資料4のような風景がみられるようになり、暮らしが変わっていきました。

資料4



問6 Bのレポート中の「あ」にあてはまる文章として最も適当なものを、次のア～エのうちから1つ選び、記号で答えなさい。

- ア ほりやさくで村を囲み、村どうしでの争いがおこるようになった
- イ 争いがおこった際には、銅鐸などの青銅器を武器として用いることが多かった
- ウ 農作業を共同で行うことが多く、人々の間に身分の差はなかった
- エ 狩りや採集が中心の暮らしであり、米づくりはまだ始まっていなかった

問7 Bのレポート中の「い」にあてはまる語句を漢字2字で答えなさい。

問8 Bのレポート中の資料3から読み取れることについて述べた次の文X・Yの正誤の組み合わせとして正しいものを、次のア～エのうちから1つ選び、記号で答えなさい。

X：この決まり事が出された藩では、百姓たちが食事や服装を制限されていたことがわかる。

Y：この決まり事が出された藩では、百姓が武士や町人よりも高い身分であったことがわかる。

ア X：正 Y：正

イ X：正 Y：誤

ウ X：誤 Y：正

エ X：誤 Y：誤

問9 Bのレポート中の資料4から読み取れることについて述べた次の文X～Zの正誤の組み合わせとして正しいものを、次のア～クより1つ選び、記号で答えなさい。

X：れんが造りの建物に住み、電灯が使用されていることがわかる。

Y：ザン切り頭の人を中心に、洋服を着たり西洋ふうの髪型にする人はいなかったことがわかる。

Z：まちの中で馬車が走ったり、人力車の営業がみられるようになったことがわかる。

ア X：正 Y：正 Z：正

イ X：正 Y：正 Z：誤

ウ X：正 Y：誤 Z：正

エ X：正 Y：誤 Z：誤

オ X：誤 Y：誤 Z：誤

カ X：誤 Y：誤 Z：正

キ X：誤 Y：正 Z：誤

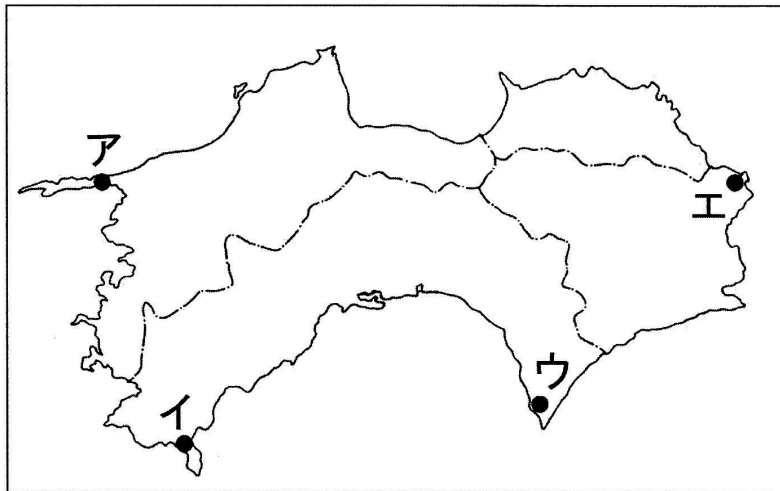
ク X：誤 Y：正 Z：正

4 あとの各問いに答えなさい。

問1 2019年12月に、世界経済フォーラムによるグローバルジェンダーギャップ指数が発表されました。これは男女格差の大きさを国別に示したものです。この中で、最も格差が小さいとされた国を下から1つ選び、ア～エの記号で答えなさい。

ア イギリス                      イ アイスランド                      ウ サウジアラビア                      エ 日本

問2 2020年1月に、広島高等裁判所は、山口県の住民がおこした、四国電力の伊方原子力発電所の3号機の運転差し止めを認めました。この原子力発電所の場所を地図中より1つ選び、ア～エの記号で答えなさい。



問3 2020年2月に、世界保健機関によって命名された、新型コロナウイルスによる感染症の名前を、下の□にあてはまるようにアルファベット5文字で答えなさい。

□□□□□－19

問4 2020年3月に、東京オリンピック・パラリンピックの延期が決定されました。オリンピックが延期になったのは、夏季・冬季あわせて今回で何回目ですか、下から1つ選び、ア～エの記号で答えなさい。

ア 初めて                      イ 二度目                      ウ 三回目                      エ 四回目



問5 2020年4月に、京都大学は、望月新一教授が数学の未解決とされていた難問を証明したと発表しました。この難問を下から1つ選び、ア～エの記号で答えなさい。

ア ABC予想      イ フェルマー予想      ウ ボアンカレ予想      エ オイラー予想

問6 2020年6月に、理化学研究所と富士通が開発したスーパーコンピュータが、日本として8年ぶりに計算速度の国際ランキングで世界一になりました。このコンピュータの名前を漢字で答えなさい。

問7 2020年6月に、河井克行衆議院議員と妻の河井案里参議院議員が公職選挙法違反の容疑で逮捕されました。2019年10月まで河井克行議員がつとめていた大臣を下から1つ選び、ア～エの記号で答えなさい。

ア IR担当大臣      イ 法務大臣      ウ 厚生労働大臣      エ 環境大臣

問8 将棋界で2020年7月には棋聖のタイトル、8月には王位のタイトルの二冠を、史上最年少の人物が獲得しました。この人物を下から1つ選び、ア～エの記号で答えなさい。

ア 渡辺明      イ 谷川浩司      ウ 藤井聡太      エ 加藤一二三

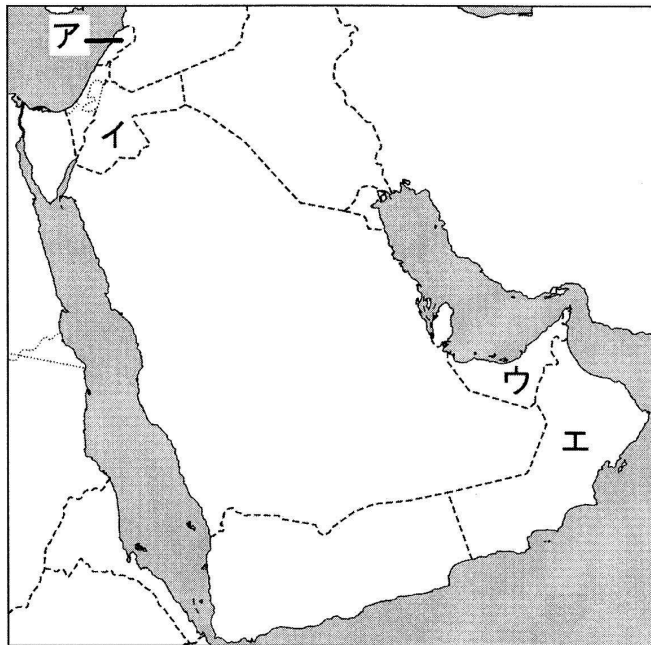
問9 2020年9月に、ともに旧ソ連の国である2つの国の間で、領土問題から武力衝突が発生しました。これらの国の正しい組み合わせを下から1つ選び、ア～エの記号で答えなさい。

ア アゼルバイジャンとチェチェン      イ ジョージアとチェチェン  
ウ アルメニアとジョージア      エ アルメニアとアゼルバイジャン

問10 2020年10月に、ある組織のメンバーについて、この組織より推薦（すいせん）された人物を菅首相が任命しなかったことが明らかになりました。これは初めてのことです。この組織の名前を下から1つ選び、ア～エの記号で答えなさい。

ア 日本学士院      イ 国家戦略会議      ウ 日本学術会議      エ 国家公安委員会

問11 2020年8月に、西アジアのある国の首都で歴史上最大級の爆発事件が発生しました。その国の位置を地図中より1つ選び、ア～エの記号で答えなさい。また、その首都名を下から1つ選び、オ～クの記号で答えなさい。



オ バイルート

カ ダマスカス

キ テヘラン

ク ドバイ