

2024年度

入学試験問題

社 会

注意

- ・ 指示があるまで開いてはいけません。
- ・ 答えは解答用紙に書きなさい。
- ・ 特に指示がないものは、すべて漢字で答えなさい。
- ・ 試験中は横を向かないこと。早く終わっても周囲を見まわしたりしないこと。そのような場合には注意されることがあります。
- ・ 解答用紙上の消しゴムの消しカスは、しっかりはらっておきなさい。

- 1 ^{びわ}琵琶湖に関連して、あとの問いに答えなさい。

問1 図1は琵琶湖に流れ込む安曇川^{あどがわ}の河口付近の地図です。図1の範囲に広くみられる地形として正しいものを下の【地形名】ア～オから1つ選び、記号で答えなさい。また、この地形が形成される際に最も影響を与える力を下の【作用】カ～コから1つ選び、記号で答えなさい。

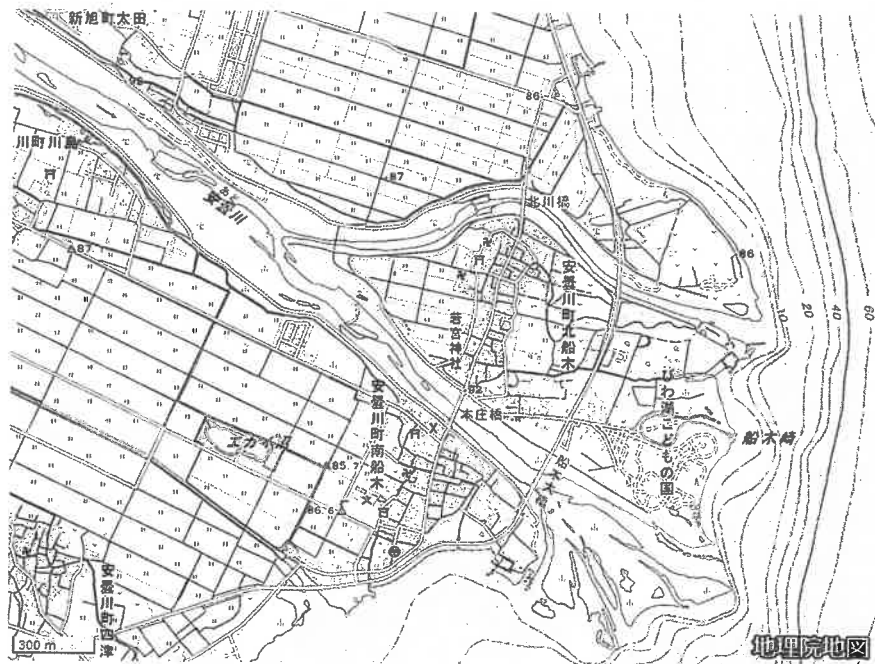


図1

【地形名】

ア：リアス海岸 イ：扇状地 ウ：河岸段丘 エ：洪積台地 オ：三角州

【作用】

カ：^{たいせき}堆積 キ：隆起 ク：侵食 ケ：沈降 コ：^{うんぱん}運搬

問2 琵琶湖から流れ出る河川は、上流から下流へ行くにつれて府県境界付近で名称が変わります。この河川はどのように名称が移り変わっていきますか。正しいものを次のア～カから選び、記号で答えなさい。

- ア：(上流) 瀬田川 → 宇治川 → 淀川 (下流)
イ：(上流) 瀬田川 → 淀川 → 宇治川 (下流)
ウ：(上流) 淀川 → 宇治川 → 瀬田川 (下流)
エ：(上流) 淀川 → 瀬田川 → 宇治川 (下流)
オ：(上流) 宇治川 → 瀬田川 → 淀川 (下流)
カ：(上流) 宇治川 → 淀川 → 瀬田川 (下流)

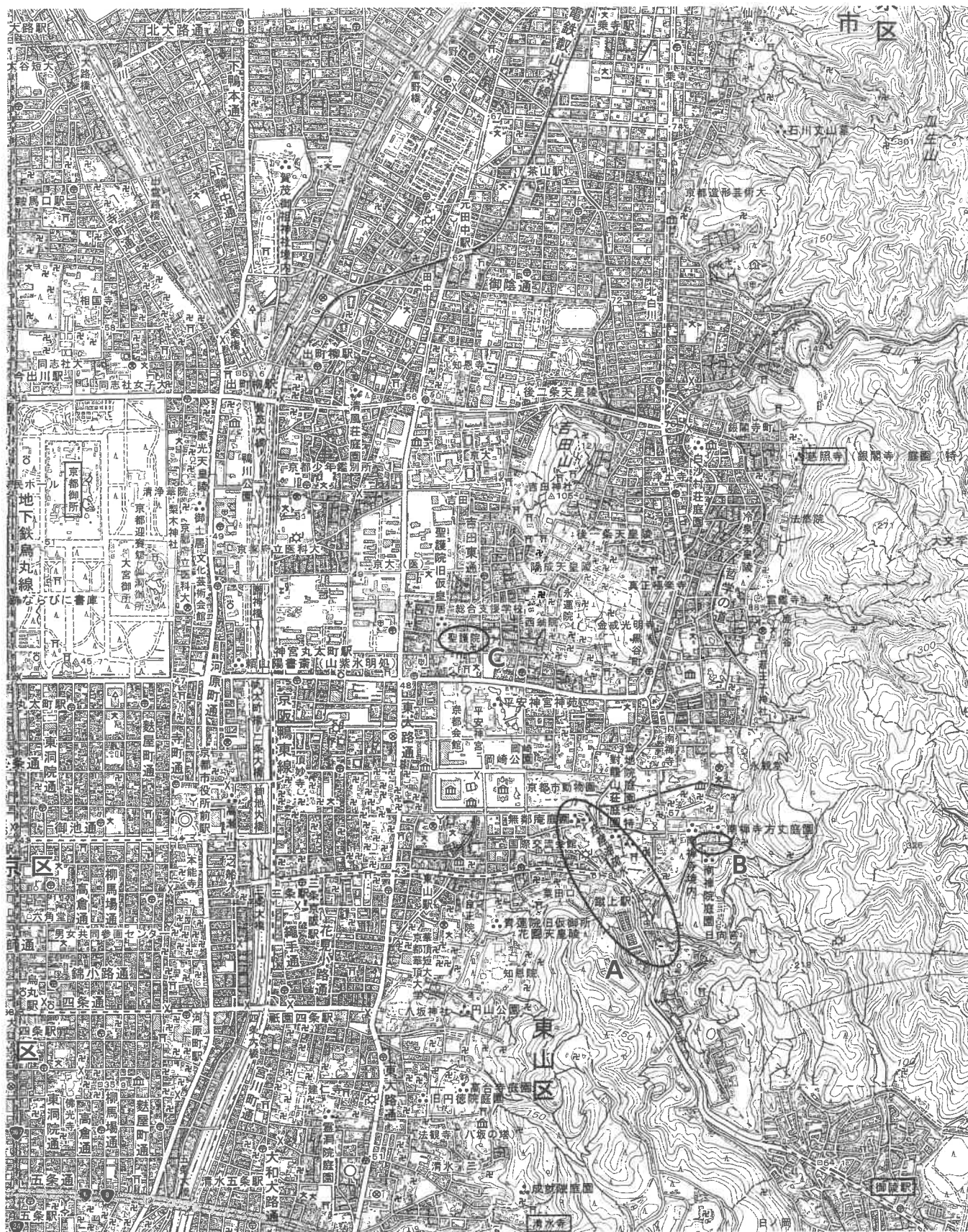


図 2

*国土地理院発行 2万 5000 分の 1 地形図「京都東北部」を加工して作成

問3 図2のA（蹴上^{けあげ}駅周辺）の範囲から読み取れることとして正しいものを次のア～エから2つ選び、記号で答えなさい。

ア：この場所は舟で往き来することができないほど傾斜^{けいしゃ}が急である。

イ：流れてくる水を利用した水力発電所がある。

ウ：この範囲内では、北西から南東に向かって水が流れている。

エ：「蹴上駅」とその西側にある「東山駅」を通る電車は地上を走っている。

問4 図2のBの南禅寺^{なんぜんじ}境内には、「水路閣^{すいろかく}」（写真1）と呼ばれる橋があります。ここを流れる水は琵琶湖から引いてきた水の一部です。「水路閣」を通った後、この水はどこに流れていきますか。最も適切なものを次のア～エから選び、記号で答えなさい。



写真1

ア：御陵^{みささぎ}駅方面に流れていく

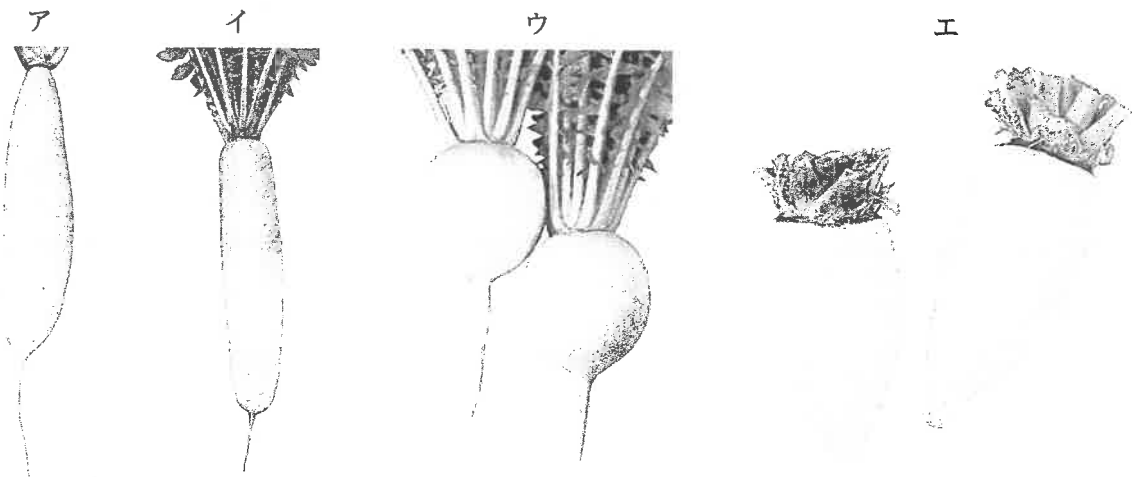
イ：京都御所方面に流れていく

ウ：清水寺方面に流れていく

エ：慈照寺^{じしやうじ}（銀閣寺）方面に流れていく

問5 図2のC周辺は、京野菜で有名な「聖護院^{しょうごいん}だいこん」や「聖護院かぶ」発祥^{はっしょう}の地として知られています。これについて、次の〈Ⅰ〉・〈Ⅱ〉に答えなさい。

〈Ⅰ〉「聖護院だいこん」を次のア～エから選び、記号で答えなさい。



*独立行政法人 農畜産業振興機構ホームページから引用

〈Ⅱ〉「聖護院だいこん」や「聖護院かぶ」以外にも、京野菜には京都の地名にちなんだ野菜が多く見られます。京野菜ではないものを次のア～エから1つ選び、記号で答えなさい。

ア：伏見^{ふしみ}とうがらし

イ：九条ねぎ

ウ：賀茂^{かも}なす

エ：加賀れんこん

2 次の図3を見て、あとの問いに答えなさい。

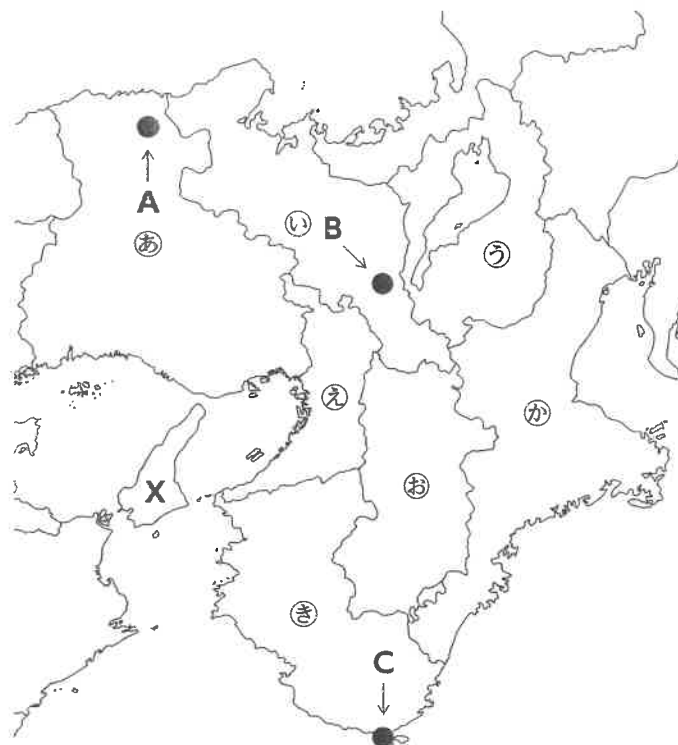
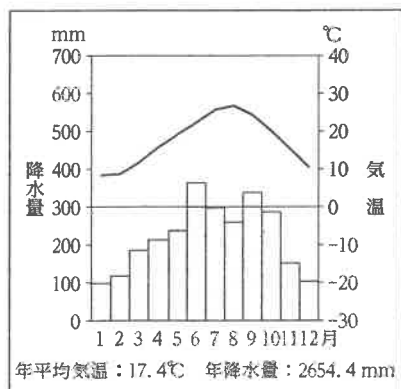
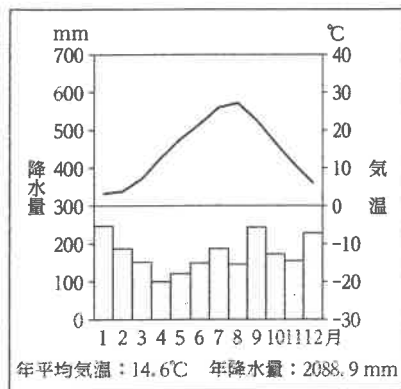


図3

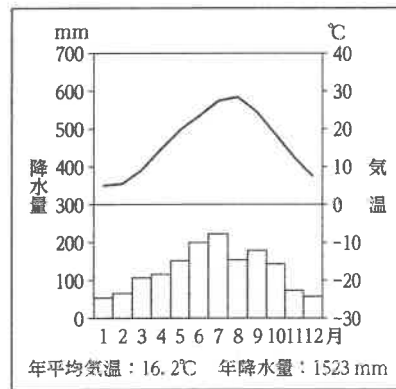
問1 次の雨温図①～③は図3中A～Cの都市のいずれかのものを示しています。雨温図と都市の組み合わせとして正しいものを下のア～カから選び、記号で答えなさい。



①



②



③

*データはすべて2023年気象庁ホームページより作成

	ア	イ	ウ	エ	オ	カ
①	A	A	B	B	C	C
②	B	C	A	C	A	B
③	C	B	C	A	B	A

問2 次の〈Ⅰ〉～〈Ⅲ〉に答えなさい。

〈Ⅰ〉 図3中のXで示した島の名称を答えなさい。

〈Ⅱ〉 Xは全国的にも有名なタマネギの生産のほか、レタスやカーネーションの栽培が盛んな地域です。

この島で行われている農業の形態として最も適切なものを次のア～エから選び、記号で答えなさい。

ア：高冷地農業 イ：都市農業 ウ：近郊農業 エ：混合農業

〈Ⅲ〉 昨年、国土地理院が日本の「島」の数え直しを行い、その数が2倍以上になりました。次の表1のア～エには「北海道・東北地方」、「関東地方」、「近畿地方」、「九州地方」のいずれかが当てはまります。また、表中の1位～4位は地方ごとに島の数が多い都道府県を示しています。これを見て、「近畿地方」にあたるものをア～エから選び、記号で答えなさい。

表1

	ア	イ	ウ	エ	中国・四国地方
1位	655	1473	635	1479	600
2位	540	861	244	1256	400
3位	203	666	97	691	396
4位	111	264	13	403	391
地方平均	215.6	501.1	141.3	574.9	272.3

注1) 近畿地方は三重県を含み、福井県を含まない7府県で、九州地方は沖縄県を含む8県で集計

注2) 都道府県境に位置する島については、またがる都道府県の数値にそれぞれ算入・集計

問3 近畿地方は林業が盛んな地域が多く、人工林の日本三大美林は「吉野」と「尾鷲」の2か所が近畿地方に存在しています。このうち、「尾鷲」について、この地域で生産されている樹種（木の種類）を次のア～オから選び、記号で答えなさい。また、その地域が存在する府県を図3の㊸～㊼から選び、記号で答えなさい。

ア：サクラ イ：ヒバ ウ：ケヤキ エ：ヒノキ オ：スギ

問4 次の図4と右ページの図5はそれぞれ大阪にある空港周辺の地形図です。また、右ページの表2は2023年8月のある日に離発着する飛行機の旅客便数を時間帯ごとに集計したもので、表2の「空港ア」、「空港イ」は図4・5で示した空港のいずれかです。

図4の空港として正しいものをア・イのどちらかから選び、記号で答えなさい。また、そのように考えられる理由を下の【理由】カ～ケから1つ選び、記号で答えなさい。

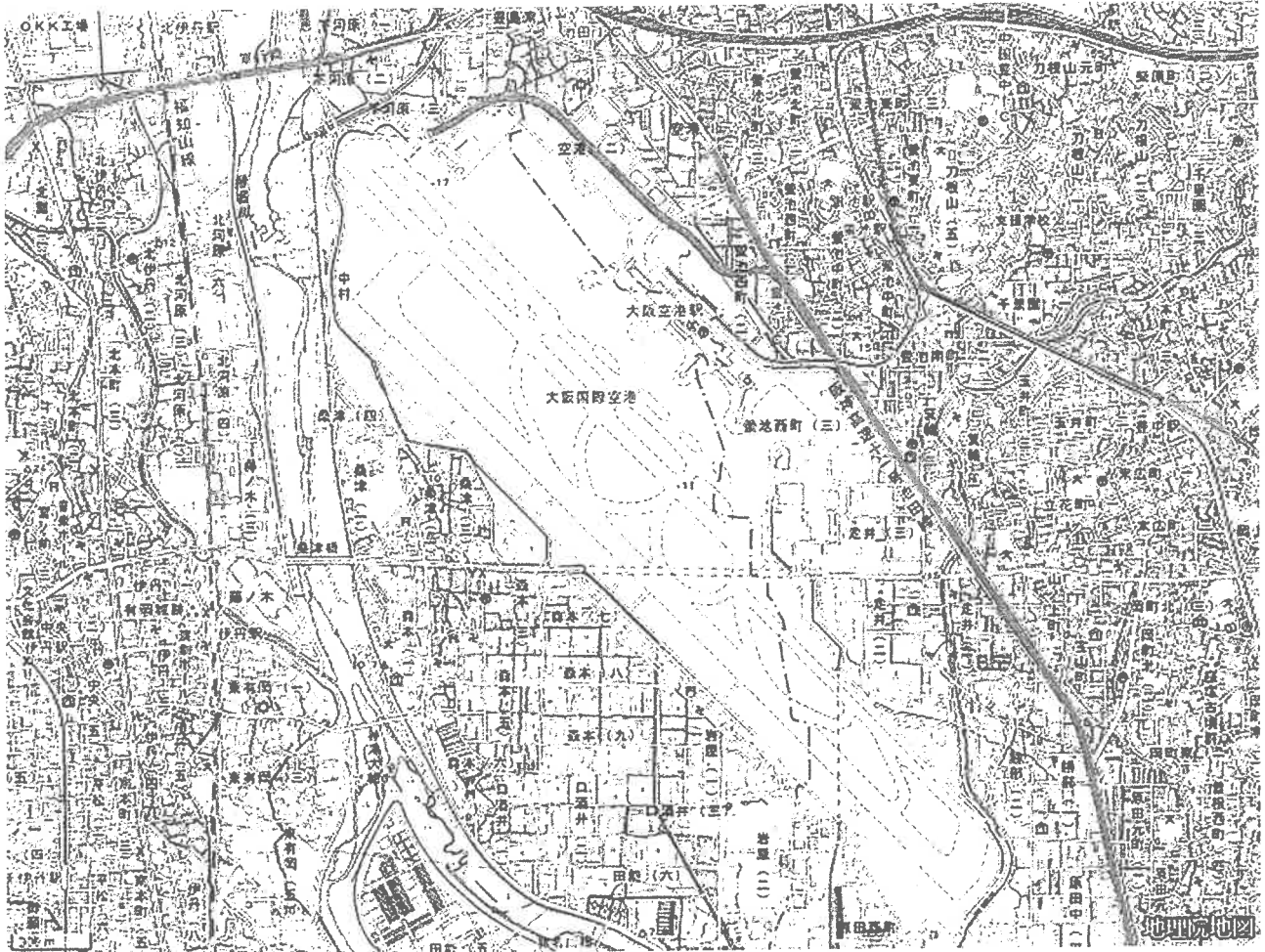


図4

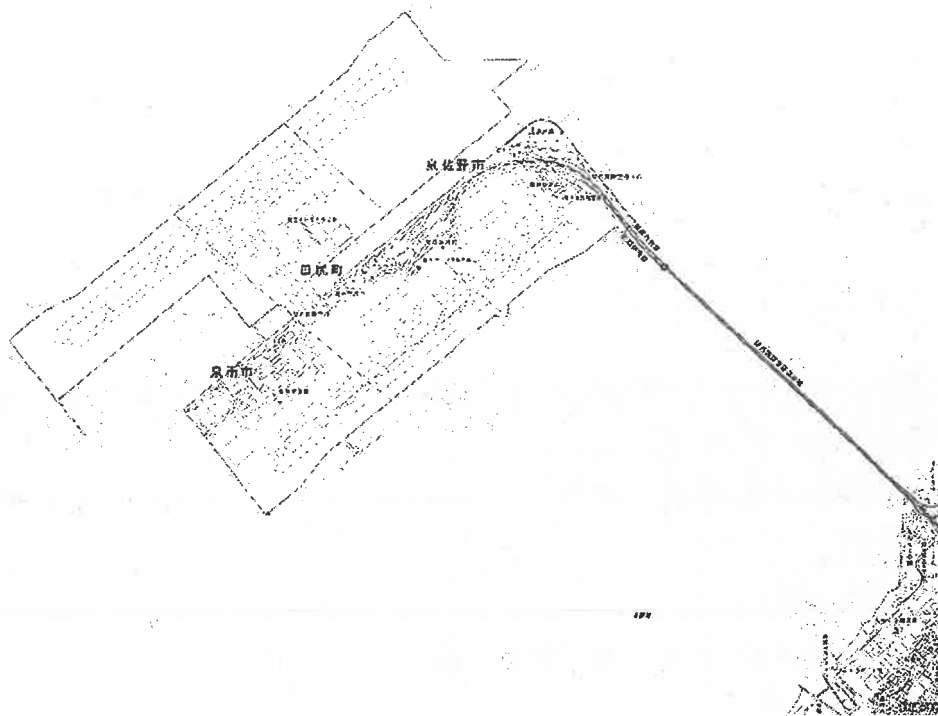


図 5

* 地理院地図より作成

* 図 4 ・ 図 5 の縮尺は異なる

表 2

時間帯	0 時台	1 時台	2 時台	3 時台	4 時台	5 時台	6 時台	7 時台	8 時台	9 時台	10 時台	11 時台
空港ア	出発便	—	—	—	—	—	—	26	14	15	16	18
	到着便	—	—	—	—	—	—	2	13	12	19	10
空港イ	出発便	1	—	—	—	—	4	9	11	17	14	16
	到着便	—	—	—	—	2	3	5	10	14	11	14

時間帯	12 時台	13 時台	14 時台	15 時台	16 時台	17 時台	18 時台	19 時台	20 時台	21 時台	22 時台	23 時台
空港ア	出発便	12	13	14	13	14	17	23	5	—	—	—
	到着便	14	17	14	12	18	9	20	20	20	—	—
空港イ	出発便	13	13	12	12	17	13	15	13	13	6	2
	到着便	13	13	14	20	12	15	16	13	6	13	11

* 大阪国際空港・関西国際空港のホームページより作成

【理由】

カ：大都市に近い^{かどう}ため、空港の長時間稼働が求められているから。

キ：周辺に広がる住宅地に対して、騒音や振動^{しんどう}などに配慮^{はいりょ}しているから。

ク：近年増えてきた、飛行機を利用^{りよう}しての通勤・通学に便利だから。

ケ：離発着の時間帯を分散^{かんわ}させることで、空港の混雑を緩和^{かんわ}させているから。

3 次の文章を読み、あとの問いに答えなさい。

夏休みに青山さんはクラブ活動で④京都を訪れました。京都駅に降り立つと北側には⑤京都タワーがありました。次にたくさんの⑥外国人旅行者がいることに気がつきました。行く先々では、さまざまな外国語が聞こえてきました。嵐山や鹿苑寺（金閣寺）では外国人旅行者に道をたずねられたので地図などを使って説明をしました。

問1 下線部④の場所で起きた歴史的なできごとを次のア～カからすべて選び、記号で答えなさい。

ア：戊辰戦争最後の戦いの舞台となった。

イ：応仁の乱により焼け野原になった。

ウ：六波羅探題がおかれた。

エ：生麦事件が起きた。

オ：江戸幕府の将軍徳川慶喜が大政奉還を行った。

カ：後醍醐天皇が南朝をひらいた。

問2 下線部⑤は平安京の「左京」地区の南端に近い位置にあります。京都タワーの展望室で京都駅を背にして周囲を眺めた時、平安京の内裏（天皇の住まい）があったのは、どの方向と考えられますか。最も近いと考えられる方向を次のア～エから選び、記号で答えなさい。

ア：右ななめ前方 イ：左ななめ前方 ウ：右ななめ後方 エ：左ななめ後方

問3 下線部⑥に関連して、日本政府観光局（JNTO）によると、下線部⑥の数は新型コロナウイルス感染症が世界的に流行し始めた2020年2月以降で初めて、2023年9月に200万人を超えました。次の〈Ⅰ〉・〈Ⅱ〉に答えなさい。

〈Ⅰ〉 下線部⑥のような、外国から（自国へ）の旅行のことを何と呼びますか。正しいものを次のア～エから選び、記号で答えなさい。

ア：インバウンド イ：インクルーシブ ウ：インカム エ：インボイス

〈Ⅱ〉 観光地において観光客が過度に集中し、地域住民の生活や自然環境に悪影響を及ぼしたり、混乱を招いてしまったりする状況を何といいますか。カタカナで答えなさい。

4 次の文章を読み、あとの問いに答えなさい。

日本の印刷の歴史は④奈良時代の「百万塔陀羅尼」から始まります。764年に称徳天皇と対立した貴族が反乱を起こすと、天皇側は追討軍を派兵し鎮圧しました。その後、天皇は戦没者の冥福、国家の守護、安泰を祈り、「百万塔陀羅尼」をつくらせました。百万塔の中に納入された「陀羅尼經」は制作年代がわかり、かつ、現存するという点で世界最古の⑤印刷物です。陀羅尼とは仏教經典の呪文を意味し、⑥法隆寺には3000点以上が伝存します。

*印刷博物館資料より作成

問1 下線部④に関連して、次の〈Ⅰ〉・〈Ⅱ〉に答えなさい。

〈Ⅰ〉 昨年、奈良県にある日本最大の円墳から盾形銅鏡と鉄剣（蛇行剣）が出土したことが公表されました。この円墳を次のア～エから選び、記号で答えなさい。

ア：石舞台古墳 イ：富雄丸山古墳 ウ：稻荷山古墳 エ：高松塚古墳

〈Ⅱ〉 〈Ⅰ〉の古墳がつくられたのは、4世紀後半といわれています。この前後のできごとア～エを年代順（古い順）に並べた時、1番目と4番目にあてはまるのはどれですか。それぞれ選び、記号で答えなさい。

ア：大仙（仁徳陵）古墳がつくられた。

イ：隋の皇帝である煬帝に倭から使者が送られた。

ウ：朝鮮半島の百濟から仏教が正式に伝わった。

エ：奴国の王が漢に使いを送り、皇帝から金印を授かった。

問2 下線部⑥で江戸時代に人気を博した浮世絵の説明として、正しくないものを次のア～エから1つ選び、記号で答えなさい。

ア：浮世絵の「浮世」とは現代風という意味で、浮世絵は当時の様子を題材にした絵である。

イ：多色刷りの版画で大量に印刷されたので、値段も安く、多くの人びとに買い求められた。

ウ：役者絵・風景画などが描かれ、葛飾北斎、近松門左衛門、歌川広重などの絵師が活躍した。

エ：浮世絵はヨーロッパの画家にも影響を与え、オランダのゴッホは浮世絵を集めていた。

問3 下線部⑤について、正しくないものを次のア～エから1つ選び、記号で答えなさい。

ア：聖徳太子が仏教を取り入れようとした蘇我氏のために建立した。

イ：1993年に日本で初めて世界遺産に登録された。

ウ：五重塔や金堂は国宝で、現存する世界最古の木造建築物である。

エ：冠位十二階が制定されたのと同時期の7世紀はじめに建立された。

- 5 次の文章を読み、あとの問いに答えなさい。

明治維新以来、日本は近代国家への道を歩み始めましたが、新政府は「五榜^{ごぼう}の掲示^{けいじ}」において、江戸時代に引き続きキリスト教の禁教政策を継続していました。そうした中、条約改正のため③欧米に派遣^{はけん}された政府の使節団^{こうしやう}は、交渉^{こうしやう}を始めるにあたって、行く先々でその政策について厳しい批判を受け、これをやめない限りは条約改正の交渉は難しいという見方を政府に伝えました。政府はこれらの批判も受け入れ、④1873年、キリスト教禁教の高札^{てっばい}を撤廃し、実質的にキリスト教が認められるようになりました。

問1 下線部③は、約2年に渡って欧米を中心とした世界を回り、近代的な政治制度や工業について調べた後、帰国しました。次の①・②にあてはまる人物を、あとのア～オからそれぞれ選び、記号で答えなさい。

- ① 使節団の団長 ② 使節団のメンバーに入っていなかった人物
ア：西郷隆盛 イ：大久保利通 ウ：木戸孝允^{たかよし} エ：岩倉具視^{ともみ} オ：伊藤博文

問2 下線部④について、次の〈Ⅰ〉・〈Ⅱ〉に答えなさい。

〈Ⅰ〉 同年のことがらを次のア～オからすべて選び、記号で答えなさい。

ア：学制 イ：徴兵令 ウ：地租改正条例 エ：廃藩置県 オ：西南戦争

〈Ⅱ〉 同じ時期に政府を去った板垣退助らは、政府に「民撰^{みんせん}(選)議院設立の建白書」を提出、国会の開設を要求しました。これがきっかけとなり、国民が政治に参加する権利の確立を目指す「(1) 運動」が始まり、運動はやがて全国へと拡大していきました。

(1) に入る言葉を漢字4字で答えなさい。

- 6 青山学院中等部の近く（表参道）の交差点には次の文章が刻まれた碑^ひがあります。この文章を読み、あとの問いに答えなさい。

和をのぞむ

④太平洋戦争の末期、⑤昭和二十年五月、山の地域に大空襲^{くうしゅう}があり、

赤坂・青山地域の大半が焦土^{しょうど}と化しました。

表参道では、ケヤキが燃え、青山通りの交差点付近は、火と熱風により

逃げ場を失った多くの人々が亡くなりました。

戦災により亡くなった人々を慰霊^{いれい}するとともに、心から戦争のない

世界の平和を祈ります。

港区政六十周年にあたり、この地に平和を願う記念碑を建立します。

平成十九年一月

港区赤坂地区総合支所

区政六十周年記念事業実行委員会

*一部 読みがなを入れてあります

問1 下線部④について、次の〈Ⅰ〉・〈Ⅱ〉に答えなさい。

〈Ⅰ〉 下線部④より前に起きた次のA～Cのことがらを年代順（古い順）に並べたとき、正しいものをあとのア～カから1つ選び、記号で答えなさい。

A 満州事変が起こる B 日独伊三国同盟を結ぶ C ドイツがポーランドに侵攻^{しんこう}する

ア：A → B → C イ：A → C → B ウ：B → A → C

エ：B → C → A オ：C → A → B カ：C → B → A

〈Ⅱ〉 下線部⑤の説明として正しくないものを次のア～エから1つ選び、記号で答えなさい。

ア：日本はミッドウェー海戦で敗北し、戦況^{せんきょう}が悪化した。

イ：砂糖や米などの生活必需品^{ひつじゅ ぎつぷ}は切符制・配給制となった。

ウ：学童の集団疎開^{そかい}が始まる。中学生以上の全員が工場などで働くようになった。

エ：日本がハワイのアメリカ軍やウラジオストクのソ連軍を攻撃して始まった。

問2 下線部⑥の年に起きたできごととして正しくないものを次のア～エから1つ選び、記号で答えなさい。

ア：日本国憲法が公布される

イ：広島・長崎に原子爆弾^{ばくだん}が投下される

ウ：米軍が沖縄に上陸する

エ：国際連合が発足する

- 7 次の文章を読み、あとの問いに答えなさい。

厚生労働省の発表によると、2022 年の合計特殊出生率^{とくしゅしゅっしょう}*は 1.26 で、2005 年に並び過去最低でした。日本人の出生数は前年比で 5%減少しており、㉔外国人を除く出生数が（ 1 ）を下回るのは 1899 年の統計開始以来初めてです。政府はこうした状況に対して、子どもや子育てに関する社会的問題の解決を一元化するため、こども家庭庁を創設させました。

一方、世界では人口が増加し続けています。国連の発表によると、昨年㉕インドが中国を抜き、人口世界一になりました。

*一人の女性が生涯のうちに産む子どもの数の平均のこと

問 1 文中の空欄（ 1 ）に当てはまるものを、次のア～エから選び、記号で答えなさい。

ア：60 万人 イ：70 万人 ウ：80 万人 エ：90 万人

問 2 皆さんが生まれた 2011 年や 2012 年の年間出生数（日本における日本人の出生数）に最も近いものを次のア～エから 1 つ選び、記号で答えなさい。

ア：95 万人 イ：105 万人 ウ：115 万人 エ：125 万人

問 3 下線部㉔について、日本で生活したり、働いたりしている外国人に関連して、正しくないものを次のア～エから 1 つ選び、記号で答えなさい。

ア：日本で暮らす外国人は総人口の約 2.5%（2022 年末時点）を占め、そのうち最も多い国籍・地域^{こくせき}はベトナムである。

イ：昨年、改正入管難民法が成立し、難民認定を申請中でも一部送還が可能となった。

ウ：日本は、ロシアによる侵攻から逃れてきたウクライナ人を難民とは別の枠組みで受け入れている。

エ：日本は難民認定の基準が厳しく、その認定率が著しく低い。これに対し、諸外国から基準の緩和を求められている。

問 4 下線部㉕の国について、次の〈Ⅰ〉・〈Ⅱ〉に答えなさい。

〈Ⅰ〉 首相名をカタカナで答えなさい。（フルネームでなくてよい）

〈Ⅱ〉 インドは現在、世界の IT 業界において存在感を示しています。このように発展した理由として 正しくないものを次のア～エから 1 つ選び、記号で答えなさい。

ア：長く続いた身分制度^{えいきょう}の影響を受けない、新しい分野の職業に優秀な人材が集まったから。

イ：アメリカと約半日の時差があり、アメリカ企業による 24 時間体制での開発などが可能だったから。

ウ：過去にイギリスの植民地であったため、英語を話すことのできる人が多かったから。

エ：識字率が高く、独自の数学（算数）教育がほとんどの国民に行き届いていたから。

氏 名



24013

↓ここにシールを貼ってください↓

--

受験番号

1

問 1		問 2	問 3	問 4	問 5	
地形名	作用				〈Ⅰ〉	〈Ⅱ〉

2

問 1	問 2			問 3		問 4	
	〈Ⅰ〉		〈Ⅱ〉	〈Ⅲ〉	樹種	府県	空港 理由
	島						

3

問 1	問 2	問 3	
		〈Ⅰ〉	〈Ⅱ〉

4

問 1		問 2	問 3
〈Ⅰ〉	〈Ⅱ〉		
	1 番目 4 番目		

5

問 1		問 2	
①	②	〈Ⅰ〉	〈Ⅱ〉
			運動

6

問 1		問 2
〈Ⅰ〉	〈Ⅱ〉	

7

問 1	問 2	問 3	問 4	
			〈Ⅰ〉	〈Ⅱ〉
				首相