

2023 年度入試問題において誤りがありましたので、訂正お願いします。

【社会】

問題用紙 8 ページ ② 問3

出典 『日本国勢図絵 2021/22』、『日本国勢図絵 2022/23』 (誤)

『日本国勢図会 2021/22』、『日本国勢図会 2022/23』 (正)

2023年度

## 入学試験問題

社 会

### 注意

- 指示があるまで開いてはいけません。
- 答えは解答用紙に書きなさい。
- 特に指示がないものは、すべて漢字で答えなさい。
- 試験中は横を向かないこと。早く終わっても周囲を見まわしたりしないこと。そのような場合には注意されることがあります。
- 解答用紙上の消しゴムの消しカスは、しっかりはらっておきなさい。

1 青山学院中部は昨年創立 75 周年を迎えました。青山学院周辺やこれに関連する地域について、あとの問いに答えなさい。

問1 次の渋谷周辺の地形を示した図1を見て、渋谷の地形の形成過程としてもっとも正しいと考えられるものを次のア～エから1つ選び、記号で答えなさい。

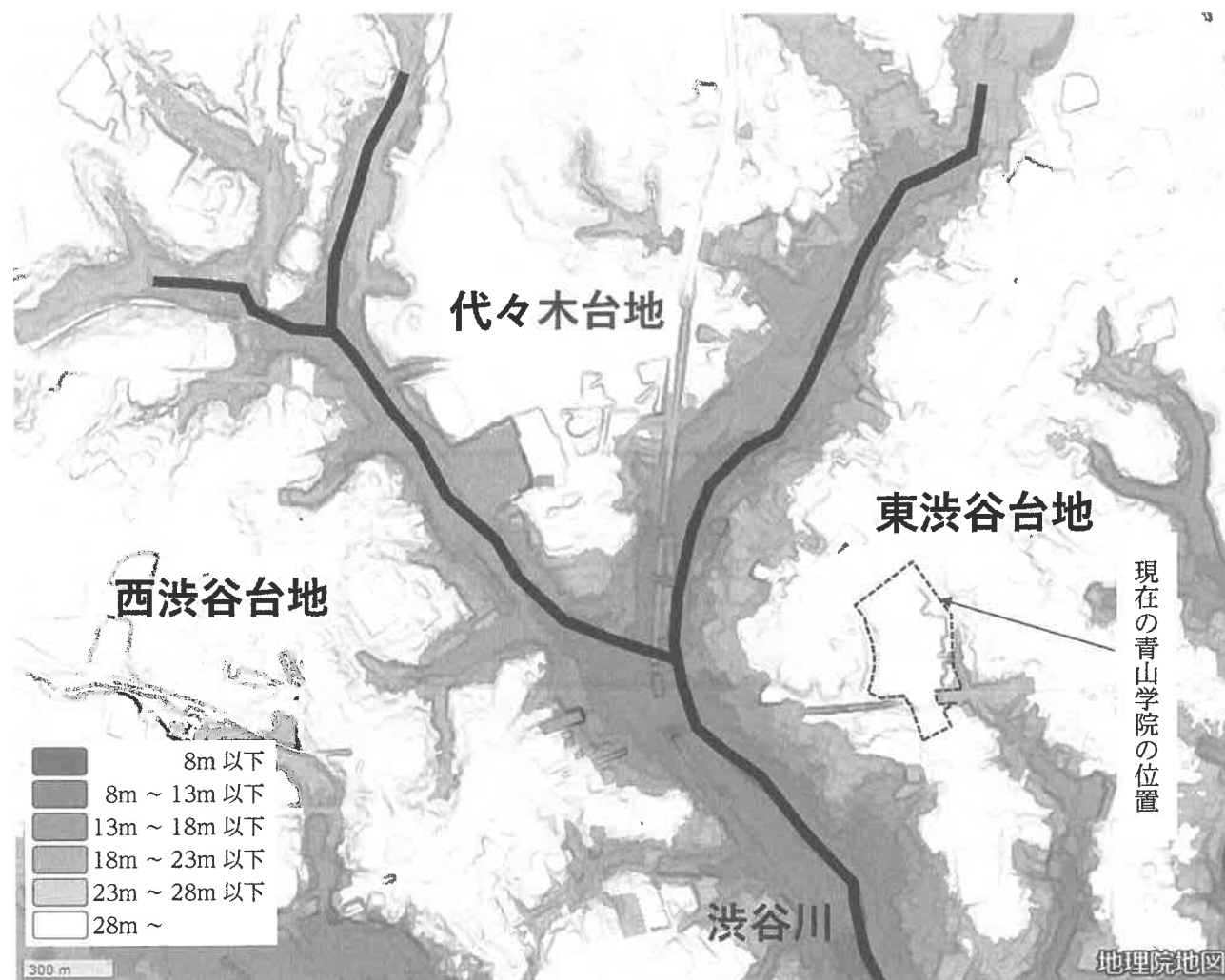


図1

- ア：渋谷川の氾濫により周辺に土砂が運ばれ、渋谷川を囲むようにして3つの台地が形成された。  
 イ：東渋谷台地と西渋谷台地の間を渋谷川が侵食し、その土砂が堆積して代々木台地が形成された。  
 ウ：もともとは1つの台地だったが、地震で生じた断層に渋谷川が流れ、3つの台地に分断された。  
 エ：渋谷川の侵食作用により谷が形成され、もともと1つだった台地が3つに分断された。

問2 図2は渋谷周辺の地形を示しています。渋谷では縄文時代の遺跡がいくつか発見されています。図2中にある4種類の印のうち、縄文時代の【集落跡】を示しているものを下のア～エから選び、記号で答えなさい。また、集落がそこに形成された【理由】として正しいものを下のオ～クから選び、記号で答えなさい。

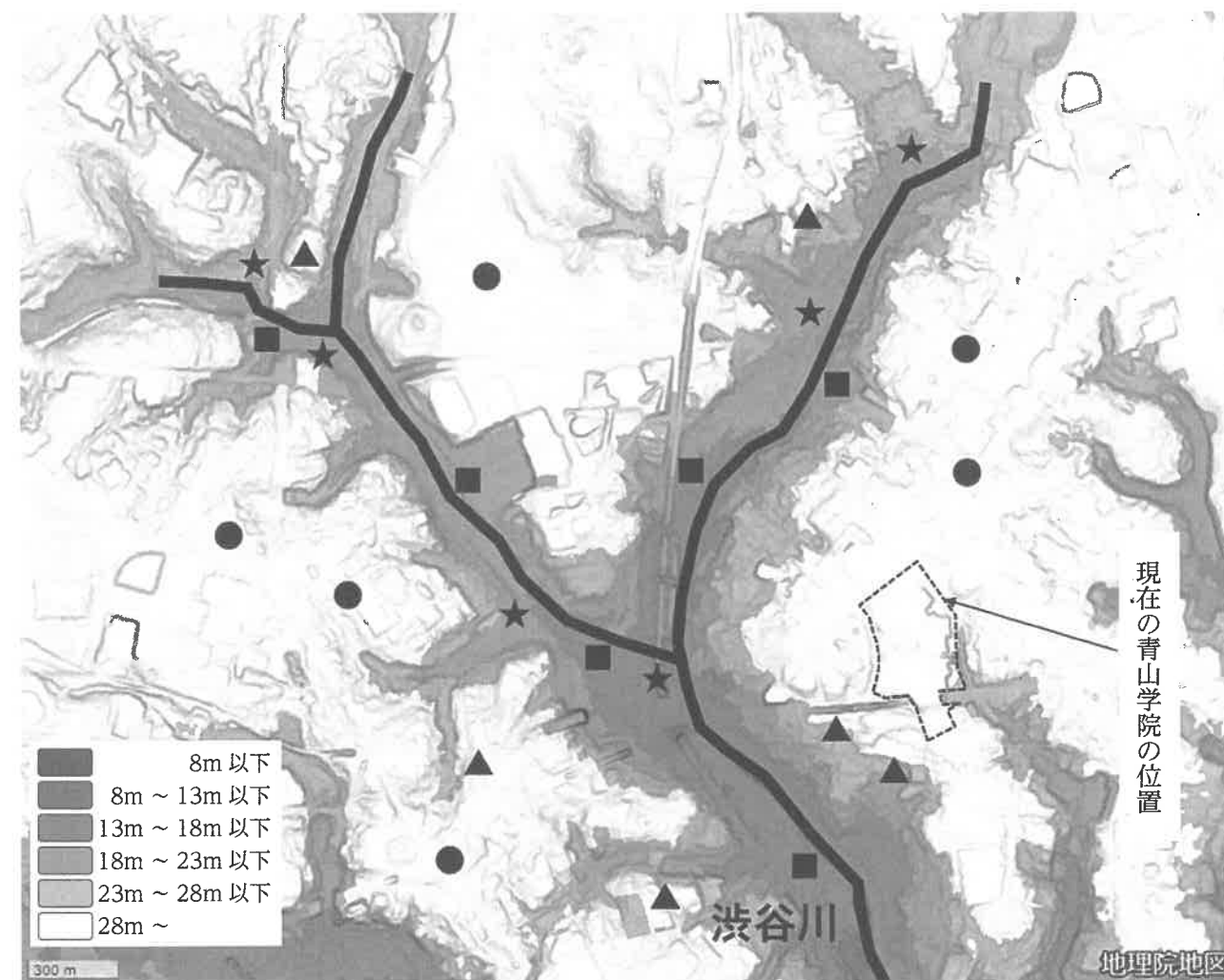


図2

\*東京都遺跡地図情報インターネット提供サービスより作成  
<https://tokyo-iseki.metro.tokyo.lg.jp/map.html#main>

#### 【集落跡】

ア：● イ：▲ ウ：■ エ：★

#### 【理由】

- オ：地盤が安定しており、他の集落からの襲撃に備えるやぐらを作りやすい地域だから。  
 カ：水路を作りやすく、集落の周りを堀で囲みやすい地域だから。  
 キ：生活用水が得やすく、河川の増水による被害を避けることができる地点だから。  
 ク：川の流れを利用した交易ができ、定期的な市を開催しやすい地点だから。

問3 青山学院中等部のある青山キャンパスの敷地の大半は、江戸時代にはある大名の屋敷跡地であったことが分かっています。図3は現在の渋谷周辺を示した地図で、点線で囲まれた範囲は青山キャンパスを示しています。図3と右ページの図4を見比べたとき、青山キャンパスは誰の屋敷跡地であったと考えられますか。正しいものを次のア～エから選び、記号で答えなさい。

ア：青山大膳亮      イ：松平安藝守      ウ：松平左京大夫      エ：高木主水正

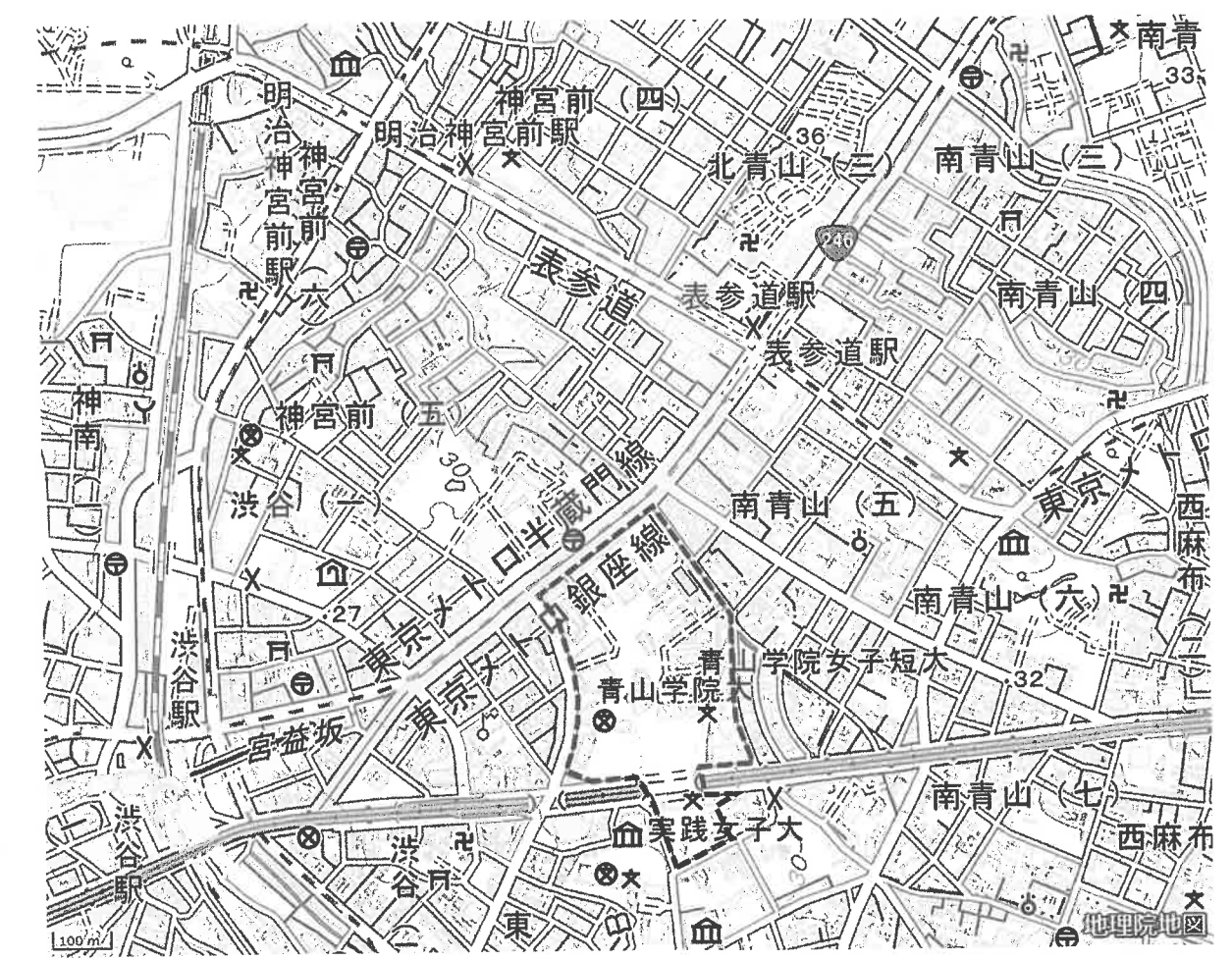


図3

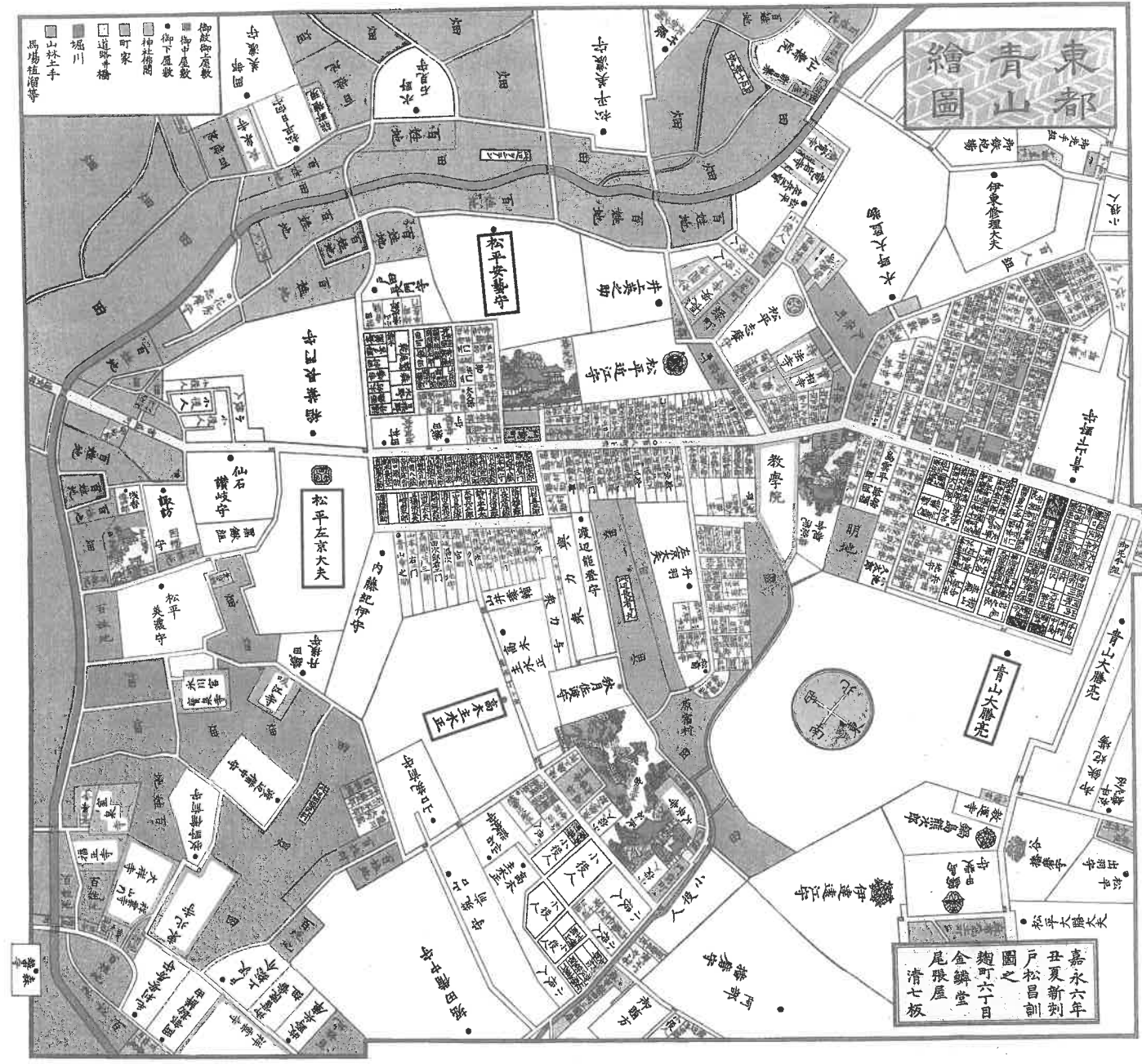


図4

\* 東都青山絵図より作成

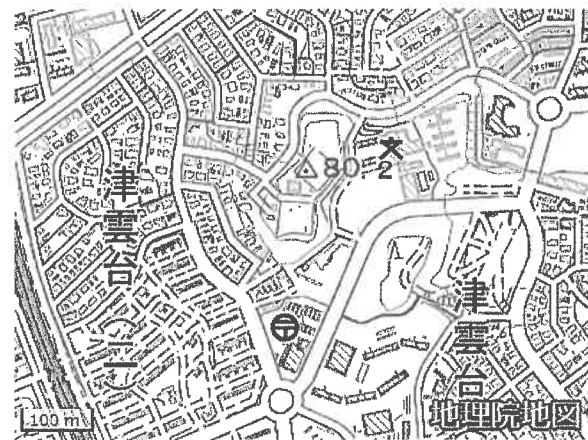


問4 中等部の近く（表参道）には、1925～27年の間に建設された近代的な鉄筋コンクリート造の集合住宅である同潤会アパートがありました。同潤会は当時、内務省によって設立された財団法人です。同潤会は1924～33年の間に、表参道を含め、東京や横浜に合計15か所の集合住宅を建設しました。この同潤会アパートが建設された経緯として正しいものを次のア～エから1つ選び、記号で答えなさい。

- ア：護憲運動の高まりとともに人口が増加し、多くの人が住める住宅が必要となったため。
- イ：第一次世界大戦によって荒廃した東京において、新たな住宅が必要となったため。
- ウ：関東大震災によって被災した東京で耐震性・耐火性の高い住宅が必要となったため。
- エ：次の戦争への機運が高まっており、戦火に耐える頑丈な住宅が必要となったため。

問5 1955～73年に高度経済成長期を迎え、東京への人口集中が起きました。これを解消するために都心部と周辺地域とを鉄道などの交通手段で結び、郊外に残されていた丘陵地を宅地化する開発が盛んに行われました。これについて、次の〈Ⅰ〉・〈Ⅱ〉に答えなさい。


- 〈Ⅰ〉 このように郊外の丘陵地において開発された住宅地を一般的に何と呼びますか。カタカナで答えなさい。
- 〈Ⅱ〉 これらの住宅地と同様の機能を持つ地域の地図として正しいものを次のア～エから選び、記号で答えなさい。



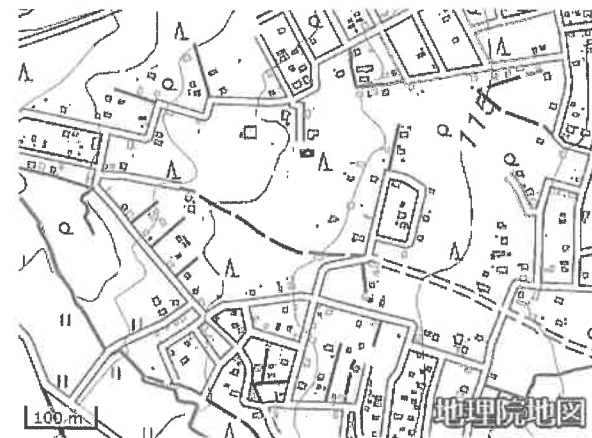
ア



イ



ウ



エ

問6 図5～図7は、ほぼ同じ地点を撮影したもので、「1948年」、「1992年」、「2019年」のいずれかの空中写真です。これを見て、次の〈Ⅰ〉・〈Ⅱ〉に答えなさい。



図5



図6



図7

\*いずれも国土交通省・国土地理院のホームページからダウンロードしたものを加工

〈Ⅰ〉 図5～図7を年代順（古い順）に並べたとき、正しいものを次のア～カから選び、記号で答えなさい。

- ア：図5 → 図6 → 図7
- イ：図5 → 図7 → 図6
- ウ：図6 → 図5 → 図7
- エ：図6 → 図7 → 図5
- オ：図7 → 図5 → 図6
- カ：図7 → 図6 → 図5

〈Ⅱ〉 図5～図7の空中写真にも写っているように、都内にはまとまった緑地空間が点在しており、夏の暑い時期には周辺の市街地との間で気温の差が生じることが知られています。

このように緑地空間が気温の差を生じさせる現象を何といいますか。正しいものを次のア～エから選び、記号で答えなさい。

- ア：ヒートアイランド現象      イ：クールアイランド現象  
ウ：エルニーニョ現象      エ：ラニーニャ現象

2 2022年2月に始まったロシアによるウクライナ侵攻は、世界に大きな衝撃を与えました。戦闘地域から離れている日本に住む私たちにとっても、「戦争と平和」について改めて考えさせられる出来事です。これに関連し、あとの問いに答えなさい。

問1 今回の侵攻が世界や日本に与えている影響として正しいものを次のア～エから1つ選び、記号で答えなさい。

- ア：ウクライナは半導体原料の主要産出国なので、侵攻によって原料の供給が滞り、世界中で半導体が不足して自動車やパソコンなどの生産に遅れが生じている。  
イ：ウクライナはトウモロコシの主要な生産地であり、日本はウクライナからトウモロコシを多く輸入しているので、侵攻後日本におけるトウモロコシ価格が上昇するなどの影響がでている。  
ウ：ウクライナは小麦の主要な生産地で、この小麦は北アフリカや南アジアなどの国々に輸出されていたため、輸出が滞ったことでこれらの地域で小麦価格が上昇するなどの影響がでている。  
エ：ウクライナはヨーロッパ地域へ多くの電力を供給していたので、侵攻によって原子力発電所が停止したことで、ヨーロッパ各国で電力不足が深刻化している。

問2 今回の侵攻が世界や日本に与えている影響として正しいものを次のア～エから2つ選び、記号で答えなさい。

- ア：欧米を中心に多くの外国企業がロシアから撤退した。  
イ：国連総会では昨年3月に緊急特別会合が開かれ、ロシアへの非難決議案が出されたが、ロシアが拒否権を発動したため、採決されなかった。  
ウ：フィンランドとノルウェーが昨年5月にNATO（北大西洋条約機構）への加盟を申請し、1か月あまりで承認された。  
エ：EU各国は天然ガスなどのエネルギー資源をロシアから多く輸入していたため、ロシアへの経済制裁に関して足並みをそろえることが難しい状況である。

問3 図8～図10はロシアによるウクライナ侵攻以前の「石炭（2021年）」、「LNG（液化天然ガス）（2021年）」、「鉄鉱石（2020年）」のいずれかの資源の日本の主な輸入先とその輸入量を示しています。図8～図10に当てはまる資源の組み合わせとして正しいものを次のア～カから選び、記号で答えなさい。

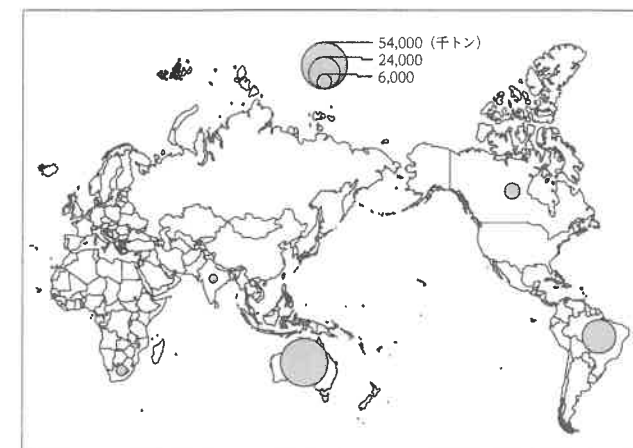


図8

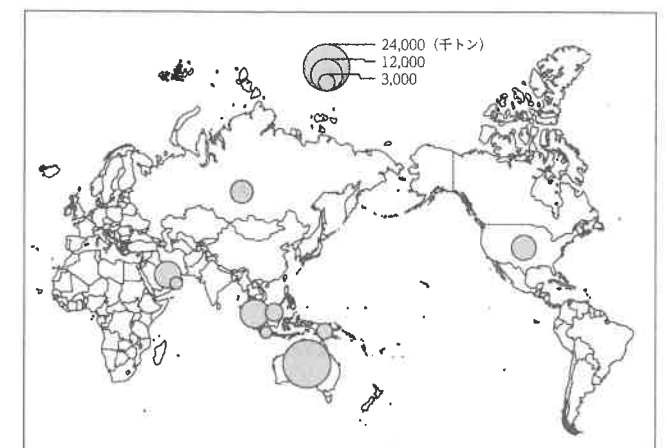


図9

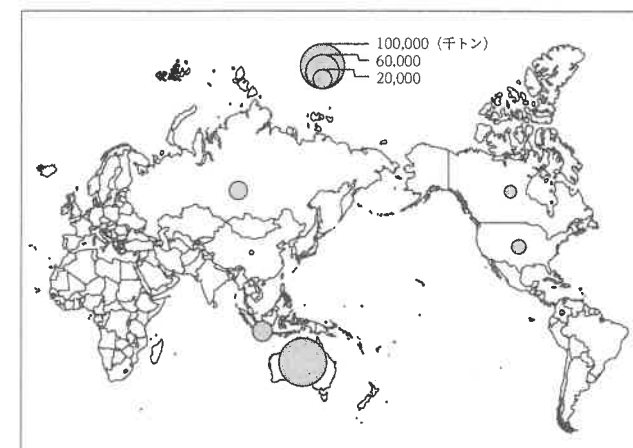


図10

\* 『日本国勢図絵 2021/22』、『日本国勢図絵 2022/23』より作成

- |          |        |         |
|----------|--------|---------|
| ア：図8 石炭  | 図9 LNG | 図10 鉄鉱石 |
| イ：図8 石炭  | 図9 鉄鉱石 | 図10 LNG |
| ウ：図8 LNG | 図9 石炭  | 図10 鉄鉱石 |
| エ：図8 LNG | 図9 鉄鉱石 | 図10 石炭  |
| オ：図8 鉄鉱石 | 図9 石炭  | 図10 LNG |
| カ：図8 鉄鉱石 | 図9 LNG | 図10 石炭  |

問4 資源の乏しい日本は世界情勢の影響を受けやすいと考えられます。近年需要が増加しているレアメタルについては、海洋における資源開発をはじめ、安定的な供給を実現するためのさまざまな政策が進められています。このような政策として正しくないものを次のア～エから1つ選び、記号で答えなさい。

- ア：資源産出国の動向や国際情勢に左右されないようにレアメタルの備蓄を行う。  
イ：1つの資源に対し、1か国との取引を原則とし、資源産出国との関係強化を図る。  
ウ：代替材料の開発やより少ない使用量で生産できる技術の開発によって省資源化を図る。  
エ：廃棄される電子機器から再利用できるレアメタルなどの資源回収を積極的に行う。

3 次の文章を読み、あとの問いに答えなさい。

現在見つかっている日本最古の銅銭は（ 1 ）といい、683年頃に②中国の銅貨を参考につくられたとされています。⑤8世紀に入ると（ 2 ）がつくられました。708年に武蔵国から朝廷に銅が献上され、これを記念して貨幣がつくられ、当時都の建設に携わった人びとへの賃金としても使用されたそうです。以降、③数多くの貨幣がつくられ人びとに使われてきました。近年では実際に手に取れる貨幣以外の形で、物やサービスの対価を支払ったり財産として蓄えたりすることができるようになりました。

問1 文章中の空欄（ 1 ）・（ 2 ）に当てはまる語句の組み合わせを次のア～エから選び、記号で答えなさい。

- ア：（1）開元通宝・（2）和同開珎      イ：（1）開元通宝・（2）永楽通宝  
ウ：（1）富本銭・（2）和同開珎      エ：（1）富本銭・（2）永楽通宝

問2 文章中の下線部④と日本との関係について、次のA～Cの出来事を年代順（古い順）に並べたとき、正しいものを次のア～カから選び、記号で答えなさい。

- A 中国の皇帝は、日本の使者が持参した手紙の内容を無礼だと受け止めたが、その後多くの留学生や僧が中国に行き、帰国後に活躍した。  
B 中国の皇帝は、倭という国の女王を「親魏倭王」と任命し、金印や銅鏡を与えた。  
C 中国の皇帝は、匈奴の王に「漢委奴国王」と刻んだ金印を授けた。
- ア：A → B → C      イ：A → C → B      ウ：B → A → C  
エ：B → C → A      オ：C → A → B      カ：C → B → A

問3 文章中の下線部⑥のうち80年あまりは奈良時代にあたります。この時代に関連して次のア～エから正しくないものを1つ選び、記号で答えなさい。また、8世紀後半にまとめられたとされる和歌集を何といいますか。漢字で答えなさい。

- ア：中国を参考に律令がつくられ、それに基づいて政治が行われるようになった。  
イ：百済の要請を受けた日本は大軍を朝鮮半島に送ったが大敗したため、政治の中心地を移した。  
ウ：戸籍に基づき6歳以上の人びとに口分田が与えられ、収穫した稲を一定の割合でおさめることになった。  
エ：国際色豊かな文化が生まれ、シルクロードを経てきた多くの品物が正倉院におさめられた。

問4 文章中の下線部⑦に関連して、次の〈Ⅰ〉・〈Ⅱ〉に答えなさい。

- 〈Ⅰ〉 江戸時代、特に西日本では銀が盛んに使用されました。日本の銀は世界に流通し17世紀はじめには世界の銀の流通量のうち3分の1を占めるようになったため、その主要な産地である中国地方の銀山はヨーロッパ人にも知られていたそうです。この銀山を何といいますか。漢字で答えなさい。  
〈Ⅱ〉 2024年から新しいデザインの紙幣が流通する予定です。新しい五千円札の表面に描かれる肖像画の【人物】を次のア～オから選び、記号で答えなさい。また、その人物に関連する【事柄】を次のカ～コから1つ選び、記号で答えなさい。

【人物】

- ア：与謝野晶子      イ：野口英世      ウ：津田梅子      エ：渋沢栄一      オ：北里柴三郎

【事柄】

- カ：幼い頃手に火傷を負ったがそれに負けず医学の道を志した。アフリカで黄熱病の研究に取り組んだが、その最中に亡くなった。  
キ：ドイツに渡り、感染症の一種である破傷風の新しい治療法「血清療法」を発見した。  
ク：富岡製糸場の建設や銀行の設立に携わり、「日本の資本主義の父」と呼ばれた。  
ケ：日露戦争に出兵した弟を思ってつくった詩が、文芸誌『明星』に掲載された。  
コ：岩倉使節団に最年少で同行し、約10年間留学した後、帰国して教育に力を注いだ。

4 次の文章を読み、あとの問いに答えなさい。

図 11 の中で矢印が指しているのは「0 哩 標識」という石柱です。これは日本初の鉄道開通に向けた測量の際、起点として打たれた標識を復元したものです。最初の鉄道は、1872 年にこの標識がある旧（ 1 ）停車場と（ 2 ）を結んで開通しました。その一部は海上を通っており、2020 年に開業した（ 3 ）駅やその周辺の開発工事の際、その遺構（海上築堤）の一部が発掘されたことで話題になりました。



図 11

問 1 文章中の空欄（ 1 ）と（ 3 ）の組み合わせとして正しいものを次のア～エから選び、記号で答えなさい。

- ア：（1）新橋・（3）天王洲アイル      イ：（1）浅草・（3）高輪ゲートウェイ  
ウ：（1）新橋・（3）高輪ゲートウェイ      エ：（1）浅草・（3）天王洲アイル

問 2 文章中の空欄（ 2 ）は、1858 年に締結された条約により海外との貿易の拠点として発展してきました。（ 2 ）と条約の組み合わせとして正しいものを次のア～エから選び、記号で答えなさい。

- ア：（2）浦賀・日米和親条約      イ：（2）横浜・日米和親条約  
ウ：（2）浦賀・日米修好通商条約      エ：（2）横浜・日米修好通商条約

問 3 図 12 は、開通した鉄道の様子を描いた錦絵の一部です。線路が海上を通る様子が手前に描かれていますが、それに並行するような形で右手側に人通りの多い道が描かれています。この道は江戸時代、五街道の 1 つとして多くの人びとが往来していました。街道の名称を漢字で答えなさい。




図 12 「東京蒸気車鉄道一覧之図」

\* 国立国会図書館デジタルコレクションより作成

問 4 文章中の下線部に関連して、次の〈Ⅰ〉・〈Ⅱ〉に答えなさい。

〈Ⅰ〉 これ以降、各地で鉄道が開通しました。これらの鉄道は輸出品の生産地と、港や都市との間を結ぶものが多かったといえます。明治初期最大の輸出品と、当時の鉄道の動力源となっていた資源の組み合わせとして正しいものを次のア～エから選び、記号で答えなさい。

- ア：輸出品－銀・資源－石炭      イ：輸出品－生糸・資源－石炭  
ウ：輸出品－銀・資源－鯨油      エ：輸出品－生糸・資源－鯨油

〈Ⅱ〉 この前後の時期は、近代化を目指す明治政府がさまざまな改革を行いました。これらの改革として当てはまらないものを次のア～カからすべて選び、記号で答えなさい。

- ア：国民に土地の所有権を認め、土地の収穫高を基準にし、税率は収穫高の 3 % とした。  
イ：新しい貨幣単位を採用し、幕末からの混乱した貨幣制度を立て直した。  
ウ：学校制度が定められ、満 6 歳以上の男女はすべて小学校に通わせることが義務となった。  
エ：電信網や、手紙や荷物を運ぶ手段として、飛脚にかわって郵便制度が整備された。  
オ：全国統一の軍隊をつくるため、満 20 歳になった国民は全員、兵役の義務を負うことになった。  
カ：多くの留学生を欧米に派遣して新しい科学や技術を取り入れ、多くの外国人教師を招いた。

次ページにも問題があります。



5 次のⅠ・Ⅱの文章を読み、あとの問いに答えなさい。

Ⅰ	昨年7月に世界経済フォーラムが発表した2022年度版の「ジェンダーギャップ報告書」によると、日本のジェンダーギャップ指数*（「完全な男女平等」への達成度）は0.650で世界146か国中116位、主要先進7か国（G7）の中で最も順位が低い、という結果でした。その中でも、特に「政治分野」と「経済分野」の指数が低いのが特徴的です。
Ⅱ	昨年6月、刑法が改正され、 <sup>けいばつ</sup> 刑罰から <sup>ちようえき</sup> 懲役刑（作業が義務）と <sup>きんこ</sup> 禁固刑（作業なし）をなくし、新たに「 <sup>こうきん</sup> 拘禁刑」を導入することなどが決まりました。刑罰の種類が変更されるのは、刑法が明治時代に制定されて以来初めてのことです。

\*「0」が完全不平等、「1」が完全平等を示し、数値が小さいほどジェンダーギャップが大きいことを示す。

問1 文章中の下線部は、日本の『第5次男女共同参画基本計画』用語解説では「（ 1 ）的・（ 2 ）的に形成された性別」と示されています。生まれつきの性別と対になる表現で、「それ自体に良い・悪いの価値を含むものではなく、国際的にも使われている」ものだとしています。空欄（ 1 ）・（ 2 ）に当てはまると考えられる語の組み合わせを次のア～エから選び、記号で答えなさい。

- ア：（1）社会・（2）文化      イ：（1）医学・（2）文化  
ウ：（1）社会・（2）歴史      エ：（1）医学・（2）歴史

問2 日本の政治分野の現状に関する説明として正しくないものを次のア～エから1つ選び、記号で答えなさい。ただし、ア～エはすべて2022年12月時点までの情報で考えること。  
ア：衆議院議員に占める女性の割合は2割に満たない。  
イ：参議院議員に占める女性の割合は3割に満たない。  
ウ：これまで、衆議院もしくは参議院の議長に女性が就任したことはない。  
エ：今まで内閣総理大臣に女性が就任したことはない。

問3 今回の刑法改正についての説明として正しいものを次のア～エから2つ選び、記号で答えなさい。  
ア：昨年7月に改正刑法の一部が<sup>しこう</sup> 施行され、拘禁刑の運用が始まった。  
イ：拘禁刑導入は、刑罰の目的を「懲らしめ」から「立ち直り」に<sup>てんかん</sup> 転換することである。  
ウ：拘禁刑の導入と同時に、刑の<sup>しっこう</sup> 執行を<sup>ゆうよ</sup> 猶予する制度が<sup>はいし</sup> 廃止された。  
エ：刑法改正の背景には、刑法犯の減少と再犯者の割合の高止まりがある。

問4 人権について、日本国憲法では基本的人権の尊重が基本原理の1つに示されていますが、現実にはジェンダーギャップだけでなく、さまざまな場面で差別や<sup>へんけん</sup> 偏見が残っています。今から約100年前、差別<sup>てっばい</sup> 撤廃に向けて立ち上がった人びとが「全国（ 3 ）」を結成しました。全国（ 3 ）結成時の宣言は日本初の人権宣言とも呼ばれ、当事者が団結して差別撤廃に向けて<sup>うった</sup> 訴えるべきという理念がうたわれ、「人の世に熱あれ、人間に（ 4 ）あれ」と結ばれています。空欄（ 3 ）に当てはまる語を漢字3字で答えなさい。また、空欄（ 4 ）に当てはまる語を次のア～エから選び、記号で答えなさい。  
ア：良心      イ：光      ウ：自由      エ：権利



23013

↓ここにシールを貼ってください↓

氏 名

受験番号

1

問 1	問 2		問 3	問 4	問 5		問 6	
	集落跡	理由			〈Ⅰ〉		〈Ⅰ〉	〈Ⅱ〉

2

問 1	問 2	問 3	問 4

3

問 1	問 2	問 3		問 4		
		記号	和歌集	〈Ⅰ〉		〈Ⅱ〉人物 〈Ⅱ〉事柄
				銀山		

4

問 1	問 2	問 3	問 4	
			〈Ⅰ〉	〈Ⅱ〉

5

問 1	問 2	問 3	問 4	
			( 3 )	( 4 )